



Министерство образования Иркутской области
Областное государственное образовательное
учреждение среднего профессионального образования
«Иркутский авиационный техникум»

УТВЕРЖДАЮ
Директор
ОГБОУ СПО "ИАТ"

_____/Семёнов В.Г.
«29» мая 2015 г.

ФОНД ОЦЕНОЧНЫХ СРЕДСТВ ПО ДИСЦИПЛИНЕ

ОП.10 Программирование для автоматизированного оборудования

специальности

15.02.08 Технология машиностроения

Иркутск, 2015

Рассмотрена
цикловой комиссией

Председатель ЦК

 /С.Л. Кусакин /

№	Разработчик ФИО
1	Кусакин Святослав Львович

1. ОБЩИЕ ПОЛОЖЕНИЯ

1.1. Область применения фонда оценочных средств (ФОС)

ФОС по дисциплине является частью программы подготовки специалистов среднего звена по специальности 15.02.08 Технология машиностроения

1.2. Место дисциплины в структуре ППСЗ:

ОП.00 Общепрофессиональный цикл.

1.3. Цели и задачи дисциплины – требования к результатам освоения дисциплины

В результате освоения дисциплины обучающийся должен	№ дидактической единицы	Формируемая дидактическая единица
Знать	1.1	методы разработки и внедрения управляющих программ для обработки простых деталей в автоматизированном производстве
Уметь	2.1	использовать справочную и исходную документацию при написании управляющих программ (УП);
	2.2	рассчитывать траекторию и эквидистанты инструментов, их исходные точки, координаты опорных точек контура детали;
	2.3	заполнять формы сопроводительной документации;
	2.4	выводить УП на программноносители, заносить УП в память системы ЧПУ станка;
	2.5	производить корректировку и доработку УП на рабочем месте;
	2.6	применять САПР для расчета координат опорных точек и длин перемещения рабочего органа станка.

1.4. Формируемые компетенции:

ОК.1 Понимать сущность и социальную значимость своей будущей профессии, проявлять к ней устойчивый интерес.

ОК.2 Организовывать собственную деятельность, выбирать типовые методы и способы выполнения профессиональных задач, оценивать их эффективность и

качество.

ОК.3 Принимать решения в стандартных и нестандартных ситуациях и нести за них ответственность.

ОК.4 Осуществлять поиск и использование информации, необходимой для эффективного выполнения профессиональных задач, профессионального и личностного развития.

ОК.5 Использовать информационно-коммуникационные технологии в профессиональной деятельности.

ОК.6 Работать в коллективе и команде, эффективно общаться с коллегами, руководством, потребителями.

ОК.7 Брать на себя ответственность за работу членов команды (подчиненных), за результат выполнения заданий.

ОК.8 Самостоятельно определять задачи профессионального и личностного развития, заниматься самообразованием, осознанно планировать повышение квалификации.

ОК.9 Ориентироваться в условиях частой смены технологий в профессиональной деятельности.

ПК.1.1 Использовать конструкторскую документацию при разработке технологических процессов изготовления деталей.

ПК.1.2 Выбирать метод получения заготовок и схемы их базирования.

ПК.1.3 Составлять маршруты изготовления деталей и проектировать технологические операции.

ПК.1.4 Разрабатывать и внедрять управляющие программы обработки деталей.

ПК.1.5 Использовать системы автоматизированного проектирования технологических процессов обработки деталей.

ПК.2.1 Участвовать в планировании и организации работы структурного подразделения.

ПК.2.2 Участвовать в руководстве работой структурного подразделения.

ПК.2.3 Участвовать в анализе процесса и результатов деятельности подразделения.

ПК.3.1 Участвовать в реализации технологического процесса по изготовлению деталей.

ПК.3.2 Проводить контроль соответствия качества деталей требованиям технической документации.

2. ФОНД ОЦЕНОЧНЫХ СРЕДСТВ ДИСЦИПЛИНЫ, ИСПОЛЬЗУЕМЫЙ ДЛЯ ТЕКУЩЕГО КОНТРОЛЯ

2.1 Текущий контроль (ТК) № 1

Тема занятия: 1.1.3.Траектория и ее элементы.

Метод и форма контроля: Устный опрос (Опрос)

Вид контроля: Фронтальный

Дидактическая единица: 1.1 методы разработки и внедрения управляющих программ для обработки простых деталей в автоматизированном производстве

Занятие(-я):

1.1.1.Цели дисциплины. Структура дисциплины. Ее связь с другими дисциплинами учебного плана. Компетенции дисциплины. Критерии оценки дисциплины.

Введение в предмет дисциплины.

1.1.2.Системы отсчета, при расчете программ. Координаты и виды размеров.

Задание №1

Ответить устно на вопросы:

1. Чем станок с ЧПУ отличается от станка с ручным управлением?
2. Каковы преимущества от использования станков с ЧПУ?
3. Какой язык для программирования обработки на станках с ЧПУ применяется?
4. Какую точность позволяют выполнять станки с ЧПУ?
5. Какую шероховатость дает обработка на станках с ЧПУ?
6. Что такое металлорежущее оборудование с ЧПУ?
7. Что такое ЧПУ?
8. Что такое СЧПУ?
9. Что такое программоноситель?
10. Какой G функцией программируется прямоугольная система координат?
11. Какой G функцией программируется цилиндрическая система координат?
12. Какой G функцией программируется сферическая система координат?

13. В чем отличие абсолютной системы координат от относительной системы координат?
14. Какой G функцией программируется абсолютная система координат?
15. Какой G функцией программируется инкрементная система координат?
16. Какой G функцией программируется система в приращениях координат?
17. Что такое координата?
18. Как определяются координаты в абсолютной системе координат?
19. Как расположен шпиндель относительно оси Z?
20. Что определяет нулевая точка детали?
21. Что определяет исходная точка станка?
22. Что такое точка From?
23. Что за функции с G54 по G57 и для чего они нужны?
24. Какой командой отменяется сдвиг нуля?
25. Как определяются координаты в относительной системе координат?
26. Написание управляющей программы ведется от исходной точки или от нулевой точки детали?
27. Что определяет нулевая точка станка?
28. Как нулевая точка станка связана с нулевой точкой детали?
29. С каких функций начинается написание управляющей программы?
30. Что такое управляющая программа?

<i>Оценка</i>	<i>Показатели оценки</i>
3	Дан не четкий и невнятный ответ.

4	Определение раскрыто полностью, но с помощью наводящих вопросов.
5	Ответ дан четко и внятно.

2.2 Текущий контроль (ТК) № 2

Тема занятия: 1.2.1.Правила выбора типа и размера инструмента. Критерии подбора инструмента по справочникам.

Метод и форма контроля: Тестирование (Опрос)

Вид контроля: Компьютерное тестирование

Дидактическая единица: 1.1 методы разработки и внедрения управляющих программ для обработки простых деталей в автоматизированном производстве

Занятие(-я):

1.1.3.Траектория и ее элементы.

Задание №1

Выполнить тестовое задание состоящее из 5 вопросов, выбранных из 40 возможных. На тестирование дается 15 минут (3 минуты на вопрос).

Вопросы теста:

1. *Что такое Управляющая программа?*
2. *Что такое Числовое программное управление?*
3. *Что такое Система числового программного управления?*
4. *Что такое Кадр управляющей программы?*
5. *Что такое Слово управляющей программы?*
6. *Что такое Формат кадра управляющей программы?*
7. *Что такое Абсолютный размер?*
8. *Что такое Размер в приращении или относительный?*
9. *Что такое Нулевая точка станка?*
10. *Что такое Нулевая точка детали?*
11. *Что такое Коррекция инструмента?*
12. *Что такое Постпроцессор?*
13. *Что такое Центр инструмента?*
14. *Что такое Опорная точка?*
15. *Что такое Эквидистанта?*
16. *Что считается Металлообрабатывающим оборудованием с ЧПУ?*

17. Что такое программоноситель?
18. В чем отличие цилиндрической системы координат от прямоугольной?
19. Что такое ЧПУ?
20. Что значит подготовительная функция G91?
21. Что значит подготовительная функция G90?
22. Что значит подготовительная функция G54?
23. Что значит подготовительная функция G57?
24. Что значит подготовительная функция G53?
25. Что значит подготовительная функция G37?
26. Что значит подготовительная функция G38?
27. Что значит подготовительная функция G1?
28. Что значит подготовительная функция G0?
29. Что значит подготовительная функция G2?
30. Что значит подготовительная функция G3?
31. Что значит подготовительная функция G17?
32. Что значит подготовительная функция G18?
33. Что значит подготовительная функция G19?
34. Что такое слово управляющей программы?
35. Какой функцией задается абсолютная система отсчета?
36. Что такое инкрементная система?
37. Какой функцией задается инкрементная система координат?
38. Какой функцией задается относительная система координат?
39. Как называется участок находящийся между двумя опорными точками?
40. Что такое Слово управляющей программы?

Оценка	Показатели оценки
3	Выполнены 3 задания из 5 возможных.
4	Выполнены 4 задания из 5 возможных.
5	Выполнены 5 задания из 5 возможных.

2.3 Текущий контроль (ТК) № 3

Тема занятия: 1.2.4.Составление карты настройки вылета инструмента

Метод и форма контроля: Практическая работа (Информационно-аналитический)

Вид контроля: Индивидуальные задания с применением ИКТ

Дидактическая единица: 2.1 использовать справочную и исходную документацию при написании управляющих программ (УП);

Занятие(-я):

1.1.2.Системы отсчета, при расчете программ. Координаты и виды размеров.

1.2.1.Правила выбора типа и размера инструмента. Критерии подбора инструмента по справочникам.

1.2.2.Выбор инструмента для обработки детали и определения его параметров режимов резания.

1.2.3.Практическая работа №1: «Выбор инструмента для черновой обработки индивидуальной детали и определения его параметров режимов резания». Выдача индивидуального задания.

Задание №1

Выполнить анализ выданной индивидуальной детали (модель или чертеж) и на его основе произвести выбор инструмента для обработки данной детали. Выбрать черновой, получистовой, чистовой и сверлильный инструмент, а так же сопутствующую инструментальную оснастку. Выбор производится из каталога фирмы Sandvik Coromant.

<i>Оценка</i>	<i>Показатели оценки</i>
3	Правильно выбран инструмент для черновой обработки, режимы резания на него и инструментальная оснастка.
4	Правильно выбран инструмент черновой и чистовой обработки, режимы резания на них и инструментальная оснастка.
5	Правильно выбран инструмент для черновой, получистовой и чистовой обработки, а так же сверлильный инструмент, режимы резания на них и инструментальная оснастка.

2.4 Текущий контроль (ТК) № 4

Тема занятия: 1.2.6.Подготовка 3D инструмента для визуализации обработки и настройка его на симуляторе системы ЧПУ Sinumerik 840D.

Метод и форма контроля: Практическая работа (Информационно-аналитический)

Вид контроля: Индивидуальные задания с применением ИКТ

Дидактическая единица: 2.3 заполнять формы сопроводительной документации;

Занятие(-я):

1.2.3.Практическая работа №1: «Выбор инструмента для черновой обработки индивидуальной детали и определения его параметров режимов резания». Выдача индивидуального задания.

Задание №1

На основе ранее подготовленных данных в практической работе №1, выполнить чертеж "Настройки вылета инструмента" для чернового, получистового, чистового и сверлильного инструмента.

<i>Оценка</i>	<i>Показатели оценки</i>
---------------	--------------------------

3	Чертеж выполнен только для чернового инструмента (Наличие изображения режущего инструмента, Патронов, базовых держателей и цанг при наличии. Размеры длинны инструмента и ее рабочей части, длинна вылета инструмента из шпинделя станка. Простановка позиций режущего и инструментальной оснастки с обозначение кода инструмента.).
4	Чертеж выполнен только для чернового и получистового (или чистового) инструмента (Наличие изображения режущего инструмента, Патронов, базовых держателей и цанг при наличии. Размеры длинны инструмента и ее рабочей части, длинна вылета инструмента из шпинделя станка. Простановка позиций режущего и инструментальной оснастки с обозначение кода инструмента.).
5	Чертеж выполнен для чернового, получистового, чистового и сверлильного инструмента (Наличие изображения режущего инструмента, Патронов, базовых держателей и цанг при наличии. Размеры длинны инструмента и ее рабочей части, длинна вылета инструмента из шпинделя станка. Простановка позиций режущего и инструментальной оснастки с обозначение кода инструмента.).

2.5 Текущий контроль (ТК) № 5

Тема занятия: 1.3.1.РТК, назначение и сфера применения. Правила выполнения РТК.

Метод и форма контроля: Практическая работа (Информационно-аналитический)

Вид контроля: Индивидуальные задания с применением ИКТ

Дидактическая единица: 2.1 использовать справочную и исходную документацию при написании управляющих программ (УП);

Занятие(-я):

1.2.4.Составление карты настройки вылета инструмента

1.2.5.Практическая работа №2: «Составление карты настройки вылета инструмента на черновой инструмент для обработки индивидуальной детали».

1.2.6.Подготовка 3D инструмента для визуализации обработки и настройка его на симуляторе системы ЧПУ Sinumerik 840D.

1.2.7.Практическая работа №3: Создание чернового 3D инструмента и его настройка на симуляторе Sinumerik 840D.

Задание №1

По ранее подготовленным данным в практической работе №2 при помощи программы 3DTools создать модели инструментов чернового, получистового, чистового и сверлильного инструмента.

<i>Оценка</i>	<i>Показатели оценки</i>
3	Создана 3D модель инструмента для черновой обработки.
4	Создана 3D модель инструментов для черновой и получистовой обработки.
5	Создана 3D модель инструментов для черновой, получистовой, чистовой и сверлильной обработки.

Задание №2

Занести данные инструментов ранее подготовленные в практической работе №1 в симулятор системы ЧПУ Sinumerik 840D.

<i>Оценка</i>	<i>Показатели оценки</i>
3	Создан черновой инструмент и занесены его данные и вылет, прикреплен 3D модель.
4	Создан черновой и получистовой инструменты и занесены их данные и вылет, прикреплены 3D модели.
5	Создан черновой и получистовой, чистовой и сверлильный инструменты и занесены их данные и вылет, прикреплены 3D модели.

Задание №3

Настроить параметры заготовки по параметрам припуска черновой обработки в симуляторе системы ЧПУ Sinumerik 840D.

<i>Оценка</i>	<i>Показатели оценки</i>
3	Припуск нет рассчитан и он взят приблизительно и учащемуся требовалось помощь при настройке параметров заготовки.
4	Есть расчет припусков но учащемуся требовалось помощь при настройке параметров заготовки.
5	Есть расчет припусков, учащийся самостоятельно настроил параметры заготовки.

2.6 Текущий контроль (ТК) № 6

Тема занятия: 2.1.1. Пошаговый разбор примера построения РТК и поэтапного написания управляющей программы обработки детали типа "Фитинг". Правила обработки торцевых поверхностей.

Метод и форма контроля: Тестирование (Опрос)

Вид контроля: Компьютерное тестирование

Дидактическая единица: 1.1 методы разработки и внедрения управляющих программ для обработки простых деталей в автоматизированном производстве

Занятие(-я):

1.3.1.РТК, назначение и сфера применения. Правила выполнения РТК.

1.3.2.Технологические особенности РТК.

1.3.3.Технологические особенностям обработки на станках с ЧПУ.

Задание №1

Выполнить тестовое задание состоящее из 10 вопросов, выбранных из 50 возможных. На тестирование дается 20 минут (2 минуты на вопрос).

Вопросы теста:

1. Укажите правильный порядок начала проектирования РТК:
2. Какой линией обозначаются прихваты и прижимы на РТК?
3. Как называется траектория движения инструмента, равно удаленная от контура обработки?
4. Как положено нумеровать прихваты?
5. Как называется точка в которой происходит изменение геометрического закона или течения технологического процесса?
6. Укажите правильный порядок продолжения проектирования РТК от момента связывания всех элементов на главном виде размерами:
7. Где должна располагаться исходная точка на РТК?
8. Что деталь лишает степеней свободы?
9. Что нужно связывать размерами на РТК:
10. Как осуществляются подходы и отходы?
11. Как необходимо обрабатывать наружный контур?
12. Необходимая величина заглубления инструмента при фрезеровании уступов, полок, карманов?
13. Как необходимо обрабатывать внутренний контур?
14. Как обрабатывают уступ?
15. Как обрабатывают полки?
16. Как обрабатывают карманы?
17. Каким видом инструмента осуществляется засверловка в карманы и окна?
18. Укажите правильный порядок обработки:
19. Каким должен быть припуск на чистовую обработку.
20. Какой вид на РТК принимается за главный?
21. От какой точки ведется расчет управляющей программы?
22. Для чего необходима диаграмма Z?
23. Какой должна быть величина холостого хода?
24. В каком порядке должно осуществляется движение на холостом ходу?
25. Как должна проводится обработка наклонных торцов ребер?

26. Обработка колодцев и окон производится:
27. При высокопроизводительной обработке деталь обрабатывают на всю высоту или поэтажно?
28. Можно ли использовать попутное фрезерование при обработке наружного контура?
29. Можно ли использовать встречное фрезерование при обработке наружного контура?
30. Можно ли использовать попутное фрезерование при обработке внутреннего контура?
31. Можно ли использовать встречное фрезерование при обработке внутреннего контура?
32. При фрезеровании наружного контура фреза движется по часовой стрелке?
33. При фрезеровании наружного контура фреза движется против часовой стрелки?
34. При фрезеровании внутреннего контура фреза движется по часовой стрелке?
35. При фрезеровании внутреннего контура фреза движется против часовой стрелки?
36. Какая должна быть фреза для обработки закрытых и сквозных карманов?
37. Можно ли двуперой фрезой заглубиться по спирали в карман?
38. Эквидистанту для разных инструментов рисуют:
39. Опорные точки делятся:
40. Какие элементы деталей являются открытыми?
41. Какие элементы деталей являются закрытыми?
42. Какие элементы деталей необходимо обрабатывать с крайних слоев материала?
43. Для каких элементов деталей необходимо предварительное заглубление?
44. Что указывается в РТК на пути инструмента?
45. В чем указывается подача на РТК?
46. В чем указывается скорость вращения шпинделя
47. Что не дает изменить положение детали после ее базирования?

48. В каком порядке должно осуществляется движение на холостом ходу?
49. Для каких элементов деталей необходимо предварительное заглубление?

50. Как должна проводится обработка наклонных торцов ребер?

<i>Оценка</i>	<i>Показатели оценки</i>
3	Выполнены 4-5 заданий из 10 возможных.
4	Выполнены 6-8 заданий из 10 возможных.

5	Выполнены 9-10 заданий из 10 возможных.
---	---

2.7 Текущий контроль (ТК) № 7

Тема занятия: 2.1.3.Пошаговый разбор примера построения РТК и поэтапного написания управляющей программы обработки детали типа "Фитинг". Циклы обработки торцевых поверхностей.

Метод и форма контроля: Практическая работа (Информационно-аналитический)

Вид контроля: Практическая работа с использованием ИКТ

Дидактическая единица: 2.2 рассчитывать траекторию и эквидистанты инструментов, их исходные точки, координаты опорных точек контура детали;

Занятие(-я):

2.1.1.Пошаговый разбор примера построения РТК и поэтапного написания управляющей программы обработки детали типа "Фитинг". Правила обработки торцевых поверхностей.

2.1.2.Пошаговый разбор примера построения РТК и поэтапного написания управляющей программы обработки детали типа "Фитинг". Циклы обработки торцевых поверхностей.

Задание №1

Выполнить расчет траектории обработки наклонных и скругленных торцов ребер и торцевых поверхностей детали по опорным точкам и с использованием циклов.

<i>Оценка</i>	<i>Показатели оценки</i>
3	Выполнена обработка одного наклонного и скругленного торцов ребер, одна поверхность по опорным точкам и одна при помощи цикла. Выполнено при помощи преподавателя.
4	Выполнена обработка четырех наклонных и двух скругленных торцов ребер, одна поверхность по опорным точкам и четыре при помощи цикла. Часть работы выполнена с помощью преподавателя, большая часть самостоятельно.
5	Выполнена обработка четырех наклонных и двух скругленных торцов ребер, одна поверхность по опорным точкам и четыре при помощи цикла.

Дидактическая единица: 2.4 выводить УП на программоносители, заносить УП в память системы ЧПУ станка;

Занятие(-я):

2.1.2.Пошаговый разбор примера построения РТК и поэтапного написания управляющей программы обработки детали типа "Фитинг". Циклы обработки торцевых поверхностей.

Задание №1

Занести часть управляющей программы в симулятор ЧПУ Sinumerik 840D в виде обработки наклонных и скругленных торчов ребер, поверхностей.

<i>Оценка</i>	<i>Показатели оценки</i>
3	Работа выполнена с множеством ошибок, подсказками и поправками преподавателя.
4	Работа выполнена с минимумом ошибок и подсказок преподавателя.
5	Работа выполнена без ошибок и подсказок преподавателя.

Дидактическая единица: 2.6 применять САПР для расчета координат опорных точек и длин перемещения рабочего органа станка.

Занятие(-я):

2.1.1. Пошаговый разбор примера построения РТК и поэтапного написания управляющей программы обработки детали типа "Фитинг". Правила обработки торцевых поверхностей.

2.1.2. Пошаговый разбор примера построения РТК и поэтапного написания управляющей программы обработки детали типа "Фитинг". Циклы обработки торцевых поверхностей.

Задание №1

Снять координаты опорных точек с РТК используя команды САПР "Компас".

<i>Оценка</i>	<i>Показатели оценки</i>
3	Использованы координаты которые дает преподаватель.
4	Часть координат даны преподавателем, часть снята самостоятельно со своего РТК.
5	Координаты опорных точек сняты самостоятельно со своего РТК и с высокой точностью.

2.8 Текущий контроль (ТК) № 8

Тема занятия: 2.1.6. Пошаговый разбор примера построения РТК и поэтапного написания управляющей программы обработки детали типа "Фитинг". Циклы контурной обработки.

Метод и форма контроля: Практическая работа (Информационно-аналитический)

Вид контроля: Практическая работа с использованием ИКТ

Дидактическая единица: 2.2 рассчитывать траекторию и эквидистанты инструментов, их исходные точки, координаты опорных точек контура детали;

Занятие(-я):

2.1.3. Пошаговый разбор примера построения РТК и поэтапного написания

управляющей программы обработки детали типа "Фитинг". Циклы обработки торцевых поверхностей.

2.1.4. Пошаговый разбор примера построения РТК и поэтапного написания управляющей программы обработки детали типа "Фитинг". Циклы контурной обработки.

2.1.5. Пошаговый разбор примера построения РТК и поэтапного написания управляющей программы обработки детали типа "Фитинг". Циклы контурной обработки.

Задание №1

Выполнить расчет траектории обработки наружного контура, контуров уступов и контуров открытых карманов детали по опорным точкам с использованием циклов.

<i>Оценка</i>	<i>Показатели оценки</i>
3	Выполнена обработка наружного контура детали, одного уступа и открытого кармана при помощи циклов. Выполнено с помощью преподавателя.
4	Выполнена обработка контура детали, шесть уступов и двух открытых карманов при помощи циклов. Часть работы выполнена с помощью преподавателя, большая часть самостоятельно.
5	Выполнена обработка контура детали, шесть уступов и двух открытых карманов при помощи циклов. Вся работа выполнена самостоятельно.

Дидактическая единица: 2.4 выводить УП на программоносители, заносить УП в память системы ЧПУ станка;

Занятие(-я):

2.1.3. Пошаговый разбор примера построения РТК и поэтапного написания управляющей программы обработки детали типа "Фитинг". Циклы обработки торцевых поверхностей.

2.1.4. Пошаговый разбор примера построения РТК и поэтапного написания управляющей программы обработки детали типа "Фитинг". Циклы контурной обработки.

2.1.5. Пошаговый разбор примера построения РТК и поэтапного написания управляющей программы обработки детали типа "Фитинг". Циклы контурной обработки.

Задание №1

Занести часть управляющей программы в симулятор ЧПУ Sinumerik 840D в виде обработки контура детали, шесть уступов и двух открытых карманов с использованием циклов

<i>Оценка</i>	<i>Показатели оценки</i>
3	Работа выполнена с множеством ошибок, подсказками и поправками преподавателя.
4	Работа выполнена с минимумом ошибок и подсказок преподавателя.
5	Работа выполнена без ошибок и подсказок преподавателя.

Дидактическая единица: 2.5 производить корректировку и доработку УП на рабочем месте;

Занятие(-я):

2.1.3. Пошаговый разбор примера построения РТК и поэтапного написания управляющей программы обработки детали типа "Фитинг". Циклы обработки торцевых поверхностей.

2.1.4. Пошаговый разбор примера построения РТК и поэтапного написания управляющей программы обработки детали типа "Фитинг". Циклы контурной обработки.

2.1.5. Пошаговый разбор примера построения РТК и поэтапного написания управляющей программы обработки детали типа "Фитинг". Циклы контурной обработки.

Задание №1

Построить контура: детали, шесть уступов и двух открытых карманов. Выполнить описание циклов обработки построенных контуров.

<i>Оценка</i>	<i>Показатели оценки</i>
3	Вся работа выполнена с помощью преподавателя.
4	Частично справился самостоятельно с построением контуров и настройкой и корректировкой циклов обработки контуров. Требовалась помощь преподавателя.
5	Самостоятельно справился с построением контуров и настройкой и корректировкой циклов обработки контуров.

Дидактическая единица: 2.6 применять САПР для расчета координат опорных точек и длин перемещения рабочего органа станка.

Занятие(-я):

2.1.3. Пошаговый разбор примера построения РТК и поэтапного написания управляющей программы обработки детали типа "Фитинг". Циклы обработки торцевых поверхностей.

2.1.4. Пошаговый разбор примера построения РТК и поэтапного написания управляющей программы обработки детали типа "Фитинг". Циклы контурной

обработки.

2.1.5. Пошаговый разбор примера построения РТК и поэтапного написания управляющей программы обработки детали типа "Фитинг". Циклы контурной обработки.

Задание №1

Снять координаты опорных точек с РТК используя команды САПР "Компас" для составления контуров детали, шесть уступов и двух открытых карманов.

<i>Оценка</i>	<i>Показатели оценки</i>
3	Использованы координаты которые дает преподаватель.
4	Часть координат даны преподавателем, часть снята самостоятельно со своего РТК.
5	Координаты опорных точек контуров сняты самостоятельно со своего РТК.

2.9 Текущий контроль (ТК) № 9

Тема занятия: 2.1.9. Пошаговый разбор примера построения РТК и поэтапного написания управляющей программы обработки детали типа "Фитинг". Циклы сверления, зенкования, резбонарезания.

Метод и форма контроля: Практическая работа (Информационно-аналитический)

Вид контроля: Практическая работа с использованием ИКТ

Дидактическая единица: 2.4 выводить УП на программноносители, заносить УП в память системы ЧПУ станка;

Занятие(-я):

2.1.7. Пошаговый разбор примера построения РТК и поэтапного написания управляющей программы обработки детали типа "Фитинг". Циклы обработки бобышек.

2.1.8. Пошаговый разбор примера построения РТК и поэтапного написания управляющей программы обработки детали типа "Фитинг". Циклы сверления, зенкования, резбонарезания.

Задание №1

Занести часть управляющей программы в симулятор ЧПУ Sinumerik 840D в виде обработки отверстий сверлением

<i>Оценка</i>	<i>Показатели оценки</i>
---------------	--------------------------

Задание №2

Занести часть управляющей программы в симулятор ЧПУ Sinumerik 840D в виде обработки отверстий сверлением

<i>Оценка</i>	<i>Показатели оценки</i>
3	Работа выполнена с множеством ошибок, подсказками и поправками преподавателя.
4	Работа выполнена с минимумом ошибок и подсказок преподавателя.
5	Работа выполнена без ошибок и подсказок преподавателя.

Дидактическая единица: 2.5 производить корректировку и доработку УП на рабочем месте;

Занятие(-я):

2.1.6. Пошаговый разбор примера построения РТК и поэтапного написания управляющей программы обработки детали типа "Фитинг". Циклы контурной обработки.

2.1.7. Пошаговый разбор примера построения РТК и поэтапного написания управляющей программы обработки детали типа "Фитинг". Циклы обработки бобышек.

2.1.8. Пошаговый разбор примера построения РТК и поэтапного написания управляющей программы обработки детали типа "Фитинг". Циклы сверления, зенкования, резьбонарезания.

Задание №1

Выполнить центрование и сверление отверстий. Выполнить описание циклов обработки сверлением.

<i>Оценка</i>	<i>Показатели оценки</i>
---------------	--------------------------

Задание №2

Выполнить центрование и сверление отверстий. Выполнить описание циклов обработки сверлением.

<i>Оценка</i>	<i>Показатели оценки</i>
3	Вся работа выполнена с помощью преподавателя.
4	Частично справился самостоятельно с настройкой и корректировкой циклов обработки отверстий. Требовалась помощь преподавателя.
5	Самостоятельно справился с настройкой и корректировкой циклов обработки отверстий.

Дидактическая единица: 2.6 применять САПР для расчета координат опорных

точек и длин перемещения рабочего органа станка.

Занятие(-я):

2.1.6.Пошаговый разбор примера построения РТК и поэтапного написания управляющей программы обработки детали типа "Фитинг". Циклы контурной обработки.

2.1.7.Пошаговый разбор примера построения РТК и поэтапного написания управляющей программы обработки детали типа "Фитинг". Циклы обработки бобышек.

2.1.8.Пошаговый разбор примера построения РТК и поэтапного написания управляющей программы обработки детали типа "Фитинг". Циклы сверления, зенкования, резьбонарезания.

Задание №1

Снять координаты опорных точек отверстий с РТК используя команды САПР "Компас".

<i>Оценка</i>	<i>Показатели оценки</i>
---------------	--------------------------

Задание №2

Снять координаты опорных точек отверстий с РТК используя команды САПР "Компас".

<i>Оценка</i>	<i>Показатели оценки</i>
3	Использованы координаты которые дает преподаватель.
4	Часть координат даны преподавателем, часть снята самостоятельно со своего РТК.
5	Координаты опорных точек контуров сняты самостоятельно со своего РТК.

2.10 Текущий контроль (ТК) № 10

Тема занятия: 2.1.12.Пошаговый разбор примера построения РТК и поэтапного написания управляющей программы обработки детали типа "Фитинг". Циклы обработки карманов.

Метод и форма контроля: Практическая работа (Информационно-аналитический)

Вид контроля: Практическая работа с использованием ИКТ

Дидактическая единица: 2.4 выводить УП на программоносители, заносить УП в память системы ЧПУ станка;

Занятие(-я):

2.1.9.Пошаговый разбор примера построения РТК и поэтапного написания управляющей программы обработки детали типа "Фитинг". Циклы сверления, зенкования, резьбонарезания.

2.1.10. Пошаговый разбор примера построения РТК и поэтапного написания управляющей программы обработки детали типа "Фитинг". Циклы обработки карманов.

2.1.11. Пошаговый разбор примера построения РТК и поэтапного написания управляющей программы обработки детали типа "Фитинг". Циклы обработки карманов.

Задание №1

Занести часть управляющей программы в симулятор ЧПУ Sinumerik 840D в виде обработки закрытых карманов прямоугольной и круглой формы с использованием циклов

<i>Оценка</i>	<i>Показатели оценки</i>
---------------	--------------------------

Задание №2

Занести часть управляющей программы в симулятор ЧПУ Sinumerik 840D в виде обработки закрытых карманов прямоугольной и круглой формы с использованием циклов

<i>Оценка</i>	<i>Показатели оценки</i>
3	Работа выполнена с множеством ошибок, подсказками и поправками преподавателя.
4	Работа выполнена с минимумом ошибок и подсказок преподавателя.
5	Работа выполнена без ошибок и подсказок преподавателя.

Дидактическая единица: 2.6 применять САПР для расчета координат опорных точек и длин перемещения рабочего органа станка.

Занятие(-я):

2.1.9. Пошаговый разбор примера построения РТК и поэтапного написания управляющей программы обработки детали типа "Фитинг". Циклы сверления, зенкования, резбонарезания.

2.1.10. Пошаговый разбор примера построения РТК и поэтапного написания управляющей программы обработки детали типа "Фитинг". Циклы обработки карманов.

2.1.11. Пошаговый разбор примера построения РТК и поэтапного написания управляющей программы обработки детали типа "Фитинг". Циклы обработки карманов.

Задание №1

Снять координаты центров карманов с РТК используя команды САПР "Компас" и их габаритов.

<i>Оценка</i>	<i>Показатели оценки</i>
---------------	--------------------------

Задание №2

Снять координаты центров карманов с РТК используя команды САПР "Компас" и их габаритов.

<i>Оценка</i>	<i>Показатели оценки</i>
3	Использованы координаты и габариты которые выдал преподаватель.
4	Часть координат и размеров даны преподавателем, часть снята самостоятельно со своего РТК.
5	Координаты центров и размеров сняты самостоятельно со своего РТК.

Дидактическая единица: 2.5 производить корректировку и доработку УП на рабочем месте;

Занятие(-я):

2.1.9. Пошаговый разбор примера построения РТК и поэтапного написания управляющей программы обработки детали типа "Фитинг". Циклы сверления, зенкования, резьбонарезания.

2.1.10. Пошаговый разбор примера построения РТК и поэтапного написания управляющей программы обработки детали типа "Фитинг". Циклы обработки карманов.

2.1.11. Пошаговый разбор примера построения РТК и поэтапного написания управляющей программы обработки детали типа "Фитинг". Циклы обработки карманов.

Задание №1

Выполнить обработку карманов закрытых прямоугольных и круглых. Выполнить описание циклов обработки карманов.

<i>Оценка</i>	<i>Показатели оценки</i>
3	Вся работа выполнена с помощью преподавателя.
4	Частично справился самостоятельно с настройкой и корректировкой циклов обработки отверстий. Требовалась помощь преподавателя.
5	Самостоятельно справился с настройкой и корректировкой циклов обработки отверстий.

2.11 Текущий контроль (ТК) № 11

Тема занятия: 2.1.16. Практическая работа №5. Защита РТК и сдача управляющей программы на индивидуальную деталь.

Метод и форма контроля: Практическая работа (Информационно-аналитический)

Вид контроля: Индивидуальные задания с применением ИКТ

Дидактическая единица: 2.3 заполнять формы сопроводительной документации;

Занятие(-я):

1.3.1.РТК, назначение и сфера применения. Правила выполнения РТК.

1.3.2. Технологические особенности РТК.

2.1.13. Практическая работа №5. Проектирование РТК и написание управляющей программы на черновую обработку индивидуальной детали.

2.1.14. Практическая работа №5. Проектирование РТК и написание управляющей программы на черновую обработку индивидуальной детали.

2.1.15. Практическая работа №5. Проектирование РТК и написание управляющей программы на сверлильную и резьбонарезную обработку индивидуальной детали.

Задание №1

Выполнить Расчетно-технологическую карту на обработку выданной детали (модель) на станке EMCO 155 Mill, согласно правил "Правил оформления РТК" ([1] стр.478-488).

Выбрать необходимый инструмент для обработки детали (применив черновую, получистовую и чистовую обработку) согласно "Технологические особенности обработки на станках с ЧПУ" ([1] стр.478-488).

Выполнить расчет режимов резания на выбранный инструмен (согласно рекомендаций справочника производителя инструмента и калькулятора режимов резания).

Порядок выполнения РТК (раздел 1):

1. Анализировать ранее выданную преподавателем модель или чертеж согласно правил чтения чертежа;



3. Вычертить необходимый вид детали и правильно его сориентировать;
4. Вычертить габариты заготовки;
5. Нанести на вид измерительную базу и технологическую согласно ГОСТ 3.1107-81 ;
6. Нанести на чертеж исходную точку и точку нуля детали согласно "Правил оформления РТК";
7. Связать размерами исходную точку и конструкторскую и технологические базы;
8. Обозначить места прижимов (прихватов) согласно "Правил оформления РТК";

Оценка	
---------------	--

Показатели оценки

Задание №2

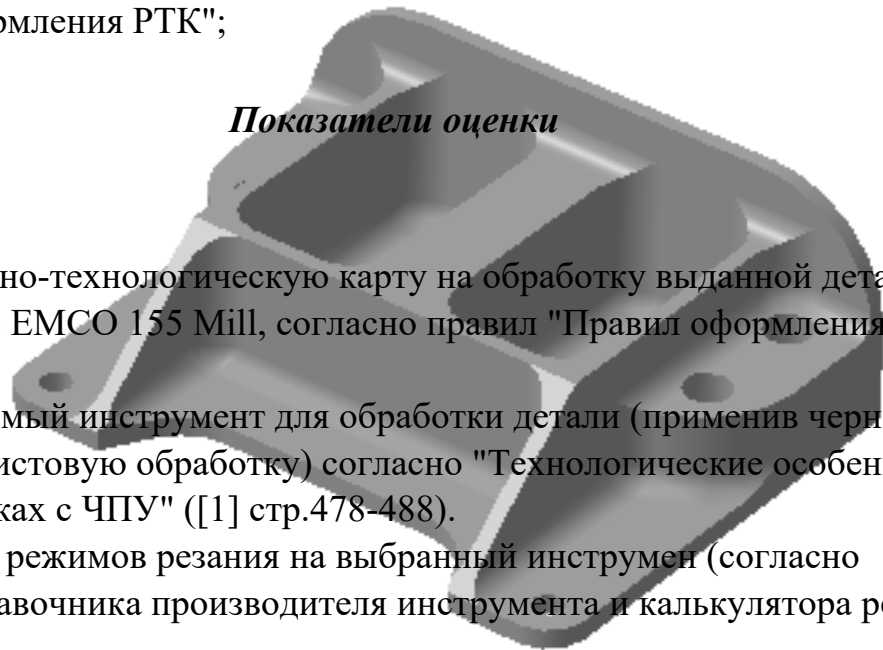
Выполнить Расчетно-технологическую карту на обработку выданной детали (модель) на станке EMCO 155 Mill, согласно правил "Правил оформления РТК" ([1] стр.478-488).

Выбрать необходимый инструмент для обработки детали (применив черновую, получистовую и чистовую обработку) согласно "Технологические особенности обработки на станках с ЧПУ" ([1] стр.478-488).


Выполнить расчет режимов резания на выбранный инструмент (согласно рекомендаций справочника производителя инструмента и калькулятора режимов резания).

Порядок выполнения РТК (раздел 1):

1. Анализировать ранее выданную преподавателем модель или чертеж согласно правил чтения чертежа;



3. Вычертить необходимый вид детали и правильно его сориентировать;
4. Вычертить габариты заготовки;
5. Нанести на вид измерительную базу и технологическую согласно ГОСТ 3.1107-81 ;
6. Нанести на чертеж исходную точку и точку нуля детали согласно "Правил оформления РТК";
7. Связать размерами исходную точку и конструкторскую и технологические базы;
8. Обозначить места прижимов (прихватов) согласно "Правил оформления РТК";

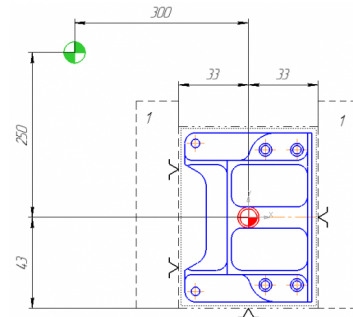
Оценка	Показатели оценки
3	<p data-bbox="319 779 558 813">Читать чертеж:</p>  <ol style="list-style-type: none">1. Анализировать изображения и формы детали чертежа используя ГОСТ 2. 305-68;2. Анализировать нанесение размеров используя ГОСТ 2307-68;3. Анализировать технические условия изготовления детали используя ГОСТ 2309-68; <p data-bbox="319 1294 638 1328">Вычерчивание вида:</p> <ol style="list-style-type: none">1. Вид детали вычерчен как будет находится при обработке на станке и согласно ГОСТ 2305-68;2. Вычерчены габариты заготовки относительно детали (исходя из расчета припусков на заготовку);3. Нанесена измерительная и технологическая базы согласно ГОСТ 3.1107-81;4. Нанесены размеры согласно ГОСТ 2307-68;5. Для каждого из элементов создан отдельный слой с комментарием (Базы, Размеры, Деталь;

0	Деталь	1 Вид 1			
1	Нулевая точка детали	1 Вид 1			
2	Базы	1 Вид 1			
3	Заготовка	1 Вид 1			
4	Исходная точка	1 Вид 1			
5	Размеры	1 Вид 1			
6	Прижимы	1 Вид 1			

Вычерчивание исходной и нулевой точки детали, обозначение мест прихватов:

Заготовка)

1. согласно "Правил оформления РТК" ([1] стр.478-488);
2. Для каждого из элементов создан отдельный слой с комментарием (Исходная точка,



Нулевая точка детали)

4	<p>Читать чертеж:</p> <ol style="list-style-type: none"> 1. Анализировать изображения и формы детали чертежа используя ГОСТ 2. 305-68; 2. Анализировать нанесение размеров используя ГОСТ 2307-68; 3. Анализ технических условий изготовления детали проведен без должного внимания, что привело к ошибкам на чертеже РТК; <p>Вычерчивание вида:</p> <ol style="list-style-type: none"> 1. Вид детали вычерчен как будет находится при обработке на станке и согласно ГОСТ 2305-68; 2. Вычерчены габариты заготовки относительно детали (исходя из расчета припусков на заготовку); 3. Нанесение конструкторской и технологической базы согласно ГОСТ 3.1107-81; 4. Нанесение размеров выполнено неполностью и с нарушением ГОСТ 2307-68; 5. Для каждого из элементов создан отдельный слой с комментарием (Базы, Размеры, Деталь) <p>Вычерчивание исходной и нулевой точки детали, обозначение мест прихватов:</p> <ol style="list-style-type: none"> 1. согласно "Правил оформления РТК" ([1] стр.478-488); 2. Для каждого из элементов создан отдельный слой с комментарием (Исходная точка, Нулевая точка детали);
5	<p>Читать чертеж:</p>

1. Анализировать изображения и формы детали чертежа используя ГОСТ 2. 305-68;
2. Анализировать нанесенных размеров проведен без должного внимания, что привело к ошибкам на чертеже РТК;
3. Анализ технических условий изготовления детали проведен без должного внимания, что привело к ошибкам на чертеже РТК;

Вычерчивание вида:

1. Вид детали вычерчен как будет находится при обработке на станке и согласно ГОСТ 2305-68;
2. Вычерчены габариты заготовки относительно детали с припуском больше необходимого (расчетного);
3. Нанесение конструкторской и технологической базы выполнено с нарушением размеров, то есть с отклонением от ГОСТ 3.1107-81;
4. Нанесение размеров выполнено неполностью и с нарушением ГОСТ 2307-68;
5. Для каждого из элементов создан отдельный слой с комментарием но его обозначение не соответствует форме описания (Базы, Размеры, Деталь)

Вычерчивание исходной и нулевой точки детали, обозначение мест прихватов:

1. Определение места исходной точки согласно "Правил оформления РТК" ([1] стр.478-488);
2. Для каждого из элементов создан отдельный слой с комментарием но его обозначение не соответствует форме описания (Исходная точка, Нулевая точка детали)

Задание №3

Порядок выполнения РТК (раздел 2):

1. Выполнить описания инструмента и инструментальной оснастки, его действий в переходе, с указанием режимов резания (оборотов и подачи);

<i>Оценка</i>	<i>Показатели оценки</i>
---------------	--------------------------

Задание №4

Порядок выполнения РТК (раздел 2):

1. Выполнить описания инструмента и инструментальной оснастки, его действий в переходе, с указанием режимов резания (оборотов и подачи);

<i>Оценка</i>	<i>Показатели оценки</i>
3	Выполнен раздел 2 на 1 инструмент Описание действий инструмента в переходе: 1. Правильность описания инструмента и инструментальной оснастки; 2. По правилам написания перехода в
4	Выполнен раздел 2 на 2 инструмента
5	Выполнен раздел 2 на 3 инструмента и более

Задание №5

Порядок выполнения РТК (раздел 2):

технологическом процессе по ГОСТ 3.1702-79;

1. Вычертить эквидистанту заданного инструмента руководствуясь "Технологические особенностям обработки на станках с ЧПУ" ([1] стр.478-488);
2. Нанести опорные точки на эквидистанту и пронумеровать их в порядке движения;
3. Вычертить диаграмму Z, и нанести на нее необходимые размеры и комментарии руководствуясь "Технологические особенностям обработки на станках с ЧПУ" ([1] стр.478-488);

4. Прописать путь инструмента и расставить на нем режимы резания по участкам;
5. Оформить титульный лист и комплект сопроводительной документации (Выбор инструмента, Расчет режимов резания, РТК для каждого инструмента на отдельном листе).

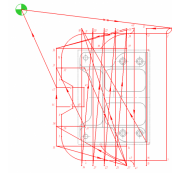
<i>Оценка</i>	<i>Показатели оценки</i>
---------------	--------------------------

Задание №6

Порядок выполнения РТК (раздел 2):

1. Вычертить эквидистанту заданного инструмента руководствуясь "Технологические особенностям обработки на станках с ЧПУ" ([1] стр.478-488);
2. Нанести опорные точки на эквидистанту и пронумеровать их в порядке движения;
3. Вычертить диаграмму Z, и нанести на нее необходимые размеры и комментарии руководствуясь "Технологические особенностям обработки на станках с ЧПУ" ([1] стр.478-488);
4. Прописать путь инструмента и расставить на нем режимы резания по участкам;
5. Оформить титульный лист и комплект сопроводительной документации (Выбор инструмента, Расчет режимов резания, РТК для каждого инструмента на отдельном листе).

<i>Оценка</i>	<i>Показатели оценки</i>
3	<p>Выполнен раздел 2 на 1 инструмент</p> <p style="text-align: center;">1. Для каждого инструмента создан отдельный слой с номером инструмента и его кратким</p>

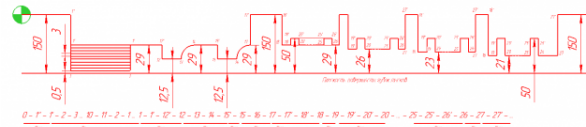


Вычерчивание диаграммы Z по правилам "Технологические особенности обработки на станках с ЧПУ" [1] стр.478-488:

1. Правильный технологический порядок подъемов и опусканий инструмента;
2. Правильное расставление обозначения опорных точек;
3. Нанесение размеров от базовых поверхностей и глубины обработки проходов;

Описание пути инструмента по правилам "Технологические особенности обработки на станках с ЧПУ" [1] стр.478-488:

1. Прописать путь инструмента по опорным точкам;
2. Нанести по участкам пути применяемые



4. Определение мест опорных точек;

В итоге должны иметь:

Т01 Фреза насадная, R4, HSS-CoS, DN1800T1, B2200, AM, D=32, L=40, r=0, z=61
Комбинированная обработка для насадных фрез: z=24+12, 3025H4, DN1875S, Ширина 308620, DN1872
Угловая скорость вращающегося инструмента и подача при резании: f
Фрезеровать предварительно с припуском 0,5 мм надрезаны канавки, ланки, карман по контуру ребер.
Фрезеровать окончательно поверхность ланки, кармана, острия, торца ребер.
S=4000 об/мин, Fp=2400 мм/мин, Fm=26000 мм/мин.

4

Выполнен раздел 2 на 2 инструмента

Обязательные качественные критерии:

Вычерчивание эквидистанты и нанесение на нее обозначений по правилам "Технологические особенности обработки на станках с ЧПУ" [1] стр.478-488:

1. Геометрическая форма эквидистанты и ее размер от контура детали;
2. Подходы и отходы инструмента по правилам "Технологические особенности обработки на станках с ЧПУ" [1] стр.478-488.;
3. Технологическая правильность построения эквидистанты;
4. Определение мест опорных точек;
5. Для каждого инструмента создан отдельный слой с номером инструмента и его кратким описанием (T1 D30R0Lf30L100Z3)

Вычерчивание диаграммы Z по правилам "Технологические особенности обработки на станках с ЧПУ" [1] стр.478-488:

1. Правильный технологический порядок подъемов и опусканий инструмента;
2. Правильное расставление обозначения опорных точек;
3. Нанесение размеров от базовых поверхностей и глубины обработки проходов;

Описание пути инструмента по правилам "Технологические особенности обработки на станках с ЧПУ" [1] стр.478-488:

1. Прописать путь инструмента по опорным точкам;
2. Нанести по участкам пути применяемые подачи.

5

Выполнен раздел 2 на 3 инструмента.

Обязательные качественные критерии:

Вычерчивание эквидистанты и нанесение на нее обозначений по правилам "Технологические особенности обработки на станках с ЧПУ" [1] стр.478-488:

1. Геометрическая форма эквидистанты и ее размер от контура детали;
2. Подходы и отходы инструмента по правилам "Технологические особенности обработки на станках с ЧПУ" [1] стр.478-488.;
3. Технологическая правильность построения эквидистанты;
4. Определение мест опорных точек;
5. Для каждого инструмента создан отдельный слой но его обозначение не соответствует форме описания (T1 D30R0Lf30L100Z3)

Вычерчивание диаграммы Z по правилам "Технологические особенности обработки на станках с ЧПУ" [1] стр.478-488:

1. Правильный технологический порядок подъемов и опусканий инструмента;
2. Правильное расставление обозначения опорных точек;
3. Нанесение размеров от базовых поверхностей и глубины обработки проходов;

Описание пути инструмента по правилам "Технологические особенности обработки на станках с ЧПУ" [1] стр.478-488:

1. Прописать путь инструмента по опорным точкам;
2. Нанести по участкам пути применяемые подачи.

Дидактическая единица: 2.2 рассчитывать траекторию и эквидистанты инструментов, их исходные точки, координаты опорных точек контура детали;

Занятие(-я):

2.1.6. Пошаговый разбор примера построения РТК и поэтапного написания управляющей программы обработки детали типа "Фитинг". Циклы контурной обработки.

2.1.7. Пошаговый разбор примера построения РТК и поэтапного написания управляющей программы обработки детали типа "Фитинг". Циклы обработки бобышек.

2.1.8. Пошаговый разбор примера построения РТК и поэтапного написания управляющей программы обработки детали типа "Фитинг". Циклы сверления, зенкования, резьбонарезания.

2.1.9. Пошаговый разбор примера построения РТК и поэтапного написания управляющей программы обработки детали типа "Фитинг". Циклы сверления, зенкования, резьбонарезания.

2.1.10. Пошаговый разбор примера построения РТК и поэтапного написания управляющей программы обработки детали типа "Фитинг". Циклы обработки карманов.

2.1.11. Пошаговый разбор примера построения РТК и поэтапного написания управляющей программы обработки детали типа "Фитинг". Циклы обработки карманов.

2.1.12. Пошаговый разбор примера построения РТК и поэтапного написания управляющей программы обработки детали типа "Фитинг". Циклы обработки карманов.

2.1.13. Практическая работа №5. Проектирование РТК и написание управляющей программы на черновую обработку индивидуальной детали.

2.1.14. Практическая работа №5. Проектирование РТК и написание управляющей программы на черновую обработку индивидуальной детали.

2.1.15. Практическая работа №5. Проектирование РТК и написание управляющей программы на сверлильную и резьбонарезную обработку индивидуальной детали.

Задание №1

Выполнение обработки торцевых поверхностей ребер

<i>Оценка</i>	<i>Показатели оценки</i>
3	Управляющая программа обработки торцев требовала серьезной доработки. Торцы обработаны с незначительными недоработками, но их формы и размеры вписываются в допустимые отклонения.
4	Управляющая программа обработки торцев требовала небольшой доработки. Торцы обработаны в номинальный размер. Их формы и размеры вписываются в допустимые отклонения.

5	Управляющая программа обработки торцев не содержит ошибок и не требует доработки. Торцы обработаны в номинальный размер. Их формы и размеры вписываются в допустимые отклонения.
---	--

Задание №2

Выполнение обработки торцевых поверхностей детали

<i>Оценка</i>	<i>Показатели оценки</i>
3	Управляющая программа обработки торцев требовала серьезной доработки. Торцы обработаны с незначительными недоработками, но их формы и размеры вписываются в допустимые отклонения.
4	Управляющая программа обработки торцев требовала небольшой доработки. Торцы обработаны в номинальный размер. Их формы и размеры вписываются в допустимые отклонения.
5	Управляющая программа обработки торцев не содержит ошибок и не требует доработки. Торцы обработаны в номинальный размер. Их формы и размеры вписываются в допустимые отклонения.

Задание №3

Выполнение обработки контуров детали

<i>Оценка</i>	<i>Показатели оценки</i>
3	Управляющая программа обработки контуров детали требовала серьезной доработки. Контур детали обработаны с незначительными недоработками, но их формы и размеры вписываются в допустимые отклонения.
4	Управляющая программа обработки контуров детали требовала небольшой доработки. Контур детали обработаны в номинальный размер. Их формы и размеры вписываются в допустимые отклонения.
5	Управляющая программа обработки контуров детали не содержит ошибок и не требует доработки. Контур детали обработаны в номинальный размер. Их формы и размеры вписываются в допустимые отклонения.

Задание №4

Выполнение обработки уступов на детали

<i>Оценка</i>	<i>Показатели оценки</i>
3	Управляющая программа обработки уступов на детали требовала серьезной доработки. Уступы на детали обработаны с незначительными недоработками, но их формы и размеры вписываются в допустимые отклонения.
4	Управляющая программа обработки уступов на детали требовала небольшой доработки. Уступы на детали обработаны в номинальный размер. Их формы и размеры вписываются в допустимые отклонения.
5	Управляющая программа обработки уступов на детали не содержит ошибок и не требует доработки. Уступы на детали обработаны в номинальный размер. Их формы и размеры вписываются в допустимые отклонения.

Задание №5

Выполнение обработки бобышек на детали

<i>Оценка</i>	<i>Показатели оценки</i>
3	Управляющая программа обработки бобышек на детали требовала серьезной доработки. Бобышки на детали обработаны с незначительными недоработками, но их формы и размеры вписываются в допустимые отклонения.
4	Управляющая программа обработки бобышек на детали требовала небольшой доработки. Бобышки на детали обработаны в номинальный размер. Их формы и размеры вписываются в допустимые отклонения.
5	Управляющая программа обработки бобышек на детали не содержит ошибок и не требует доработки. Бобышки на детали обработаны в номинальный размер. Их формы и размеры вписываются в допустимые отклонения.

Задание №6

Выполнение обработки открытых карманов

<i>Оценка</i>	<i>Показатели оценки</i>
---------------	--------------------------

3	Управляющая программа обработки открытых карманов на детали требовала серьезной доработки. Открытые карманы на детали обработаны с незначительными недоработками, но их формы и размеры вписываются в допустимые отклонения.
4	Управляющая программа обработки открытых карманов на детали требовала небольшой доработки. Открытые карманы на детали обработаны в номинальный размер. Их формы и размеры вписываются в допустимые отклонения.
5	Управляющая программа обработки открытых карманов на детали не содержит ошибок и не требует доработки. Открытые карманы на детали обработаны в номинальный размер. Их формы и размеры вписываются в допустимые отклонения.

Задание №7

Выполнение обработки закрытых карманов

<i>Оценка</i>	<i>Показатели оценки</i>
3	Управляющая программа обработки закрытых карманов на детали требовала серьезной доработки. Открытые карманы на детали обработаны с незначительными недоработками, но их формы и размеры вписываются в допустимые отклонения.
4	Управляющая программа обработки закрытых карманов на детали требовала небольшой доработки. Открытые карманы на детали обработаны в номинальный размер. Их формы и размеры вписываются в допустимые отклонения.
5	Управляющая программа обработки закрытых карманов на детали не содержит ошибок и не требует доработки. Открытые карманы на детали обработаны в номинальный размер. Их формы и размеры вписываются в допустимые отклонения.

Задание №8

Выполнение обработки сверлением

<i>Оценка</i>	<i>Показатели оценки</i>
3	Управляющая программа обработки отверстий сверлением на детали требовала серьезной доработки. Отверстия на детали обработаны с незначительными недоработками, но их формы и размеры вписываются в допустимые отклонения.

4	Управляющая программа обработки отверстий сверлением на детали требовала небольшой доработки. Отверстия на детали обработаны в номинальный размер. Их формы и размеры вписываются в допустимые отклонения.
5	Управляющая программа обработки отверстий сверлением на детали не содержит ошибок и не требует доработки. Отверстия на детали обработаны в номинальный размер. Их формы и размеры вписываются в допустимые отклонения.

3. ФОНД ОЦЕНОЧНЫХ СРЕДСТВ ДИСЦИПЛИНЫ, ИСПОЛЬЗУЕМЫЙ ДЛЯ ПРОМЕЖУТОЧНОЙ АТТЕСТАЦИИ

№ семестра	Вид промежуточной аттестации
5	Экзамен

Экзамен может быть выставлен автоматически по результатам текущих контролей
Текущий контроль №1
Текущий контроль №2
Текущий контроль №3
Текущий контроль №4
Текущий контроль №5
Текущий контроль №6
Текущий контроль №7
Текущий контроль №8
Текущий контроль №9
Текущий контроль №10
Текущий контроль №11

Метод и форма контроля: Индивидуальное задание (Информационно-аналитический)

Вид контроля: по выбору выполнить одно теоретическое (в виде теста) и одно практическое задание

Дидактическая единица для контроля:

1.1 методы разработки и внедрения управляющих программ для обработки простых деталей в автоматизированном производстве

Задание №1

Выполнить тестовое задание, состоящее из 30 вопросов, выбранных из 130 возможных. На тестирование дается 30 минут (1 минута на вопрос).

вопросы к тесту:

1. *Что такое Управляющая программа?*
2. *Что такое Числовое программное управление?*
3. *Что такое Система числового программного управления?*
4. *Что такое Кадр управляющей программы?*
5. *Что такое Слово управляющей программы?*

6. *Что такое Формат кадра управляющей программы?*
7. *Что такое Абсолютный размер?*
8. *Что такое Размер в приращении или относительный?*
9. *Что такое Нулевая точка станка?*
10. *Что такое Нулевая точка детали?*
11. *Что такое Коррекция инструмента?*
12. *Что такое Постпроцессор?*
13. *Что такое Центр инструмента?*
14. *Что такое Опорная точка?*
15. *Что такое Эквидистанта?*
16. *Что считается Металлообрабатывающим оборудованием с ЧПУ?*
17. *Что такое программоноситель?*
18. *В чем отличие цилиндрической системы координат от прямоугольной?*
19. *Что такое ЧПУ?*
20. *Что значит подготовительная функция G91?*
21. *Что значит подготовительная функция G90?*
22. *Что значит подготовительная функция G54?*
23. *Что значит подготовительная функция G57?*
24. *Что значит подготовительная функция G53?*
25. *Что значит подготовительная функция G37?*
26. *Что значит подготовительная функция G38?*
27. *Что значит подготовительная функция G1?*
28. *Что значит подготовительная функция G0?*
29. *Что значит подготовительная функция G2?*
30. *Что значит подготовительная функция G3?*
31. *Что значит подготовительная функция G17?*
32. *Что значит подготовительная функция G18?*
33. *Что значит подготовительная функция G19?*
34. *Что такое слово управляющей программы?*
35. *Какой функцией задается абсолютная система отсчета?*
36. *Что такое инкрементная система?*
37. *Какой функцией задается инкрементная система координат?*
38. *Какой функцией задается относительная система координат?*
39. *Как называется участок, находящийся между двумя опорными точками?*
40. *Что такое Слово управляющей программы?*
41. *Укажите правильный порядок начала проектирования РТК:*
42. *Какой линией обозначаются прихваты и прижимы на РТК?*
43. *Как называется траектория движения инструмента, равно удаленная от контура обработки?*
44. *Как положено нумеровать прихваты?*
45. *Как называется точка в которой происходит изменение геометрического*

- закона или течения технологического процесса?*
46. *Укажите правильный порядок продолжения проектирования РТК от момента связывания всех элементов на главном виде размерами:*
 47. *Где должна располагаться исходная точка на РТК?*
 48. *Что деталь лишает степеней свободы?*
 49. *Что нужно связывать размерами на РТК:*
 50. *Как осуществляются подходы и отходы?*
 51. *Как необходимо обрабатывать наружный контур?*
 52. *Необходимая величина заглубления инструмента при фрезеровании уступов, полок, карманов?*
 53. *Как необходимо обрабатывать внутренний контур?*
 54. *Как обрабатывают уступ?*
 55. *Как обрабатывают полки?*
 56. *Как обрабатывают карманы?*
 57. *Каким видом инструмента осуществляется засверловка в карманы и окна?*
 58. *Укажите правильный порядок обработки:*
 59. *Каким должен быть припуск на чистовую обработку.*
 60. *Какой вид на РТК принимается за главный?*
 61. *От какой точки ведется расчет управляющей программы?*
 62. *Для чего необходима диаграмма Z?*
 63. *Какой должна быть величина холостого хода?*
 64. *В каком порядке должно осуществляется движение на холостом ходу?*
 65. *Как должна проводится обработка наклонных торцов ребер?*
 66. *Обработка колодцев и окон производится:*
 67. *При высокопроизводительной обработке деталь обрабатывают на всю высоту или поэтажно?*
 68. *Можно ли использовать попутное фрезерование при обработке наружного контура?*
 69. *Можно ли использовать встречное фрезерование при обработке наружного контура?*
 70. *Можно ли использовать попутное фрезерование при обработке внутреннего контура?*
 71. *Можно ли использовать встречное фрезерование при обработке внутреннего контура?*
 72. *При фрезеровании наружного контура фреза движется по часовой стрелке?*
 73. *При фрезеровании наружного контура фреза движется против часовой стрелки?*
 74. *При фрезеровании внутреннего контура фреза движется по часовой стрелке?*
 75. *При фрезеровании внутреннего контура фреза движется против часовой стрелки?*

76. *Какая должна быть фреза для обработки закрытых и сквозных карманов?*
77. *Можно ли двуперой фрезой заглубиться по спирали в карман?*
78. *Эквидистанту для разных инструментов рисуют:*
79. *Опорные точки делятся:*
80. *Какие элементы деталей являются открытыми?*
81. *Какие элементы деталей являются закрытыми?*
82. *Какие элементы деталей необходимо обрабатывать с крайних слоев материала?*
83. *Для каких элементов деталей необходимо предварительное заглубление?*
84. *Что указывается в РТК на пути инструмента?*
85. *В чем указывается подача на РТК?*
86. *В чем указывается скорость вращения шпинделя*
87. *Что не дает изменить положение детали после ее базирования?*
88. *В каком порядке должно осуществляется движение на холостом ходу?*
89. *Для каких элементов деталей необходимо предварительное заглубление?*
90. *Как должна проводиться обработка наклонных торцов ребер?*
91. *Как задается круговая интерполяция в плоскости XY, по часовой стрелке в абсолютной системе координат. Необходимые функции G.*
92. *Как задается круговая интерполяция в плоскости XZ, по часовой стрелке в абсолютной системе координат. Необходимые функции G.*
93. *Как задается круговая интерполяция в плоскости YZ, против часовой стрелки в относительной системе координат. Необходимые функции G.*
94. *Как задается круговая интерполяция в плоскости XY, против часовой стрелки в относительной системе координат. Необходимые функции G.*
95. *Как задается круговая интерполяция в плоскости XZ, по часовой стрелке в относительной системе координат. Необходимые функции G.*
96. *Как задается круговая интерполяция в плоскости XY, по часовой стрелке в абсолютной системе координат. Порядок расстановки в кадре.*
97. *Как задается круговая интерполяция в плоскости XY, по часовой стрелке в абсолютной системе координат. Необходимые функции G.*
98. *3. Как задается круговая интерполяция в плоскости XZ, против часовой стрелки в абсолютной системе координат. Необходимые функции G.*
99. *Значение SICL E 71*
100. *Значение SICL E 72*
101. *Значение SICL E 81*
102. *Значение SICL E 83*
103. *Значение SICL E 84*
104. *Значение SICL E 85*
105. *Как программируется цикл смены инструмента, и назначаются обороты и подачи.*
106. *Как программируется цикл смены инструмента, назначения в кадре.*

107. Как программируется цикл смены инструмента, порядок назначения в кадре.
108. Какая функция является линейной интерполяцией?
109. Какая функция является круговой интерполяцией по часовой стрелке?
110. Какая функция является круговой интерполяцией против часовой стрелки?
111. Какая функция является круговой интерполяцией в плоскости XY?
112. Какая функция является временной паузой?
113. Какая функция является точным позиционированием?
114. Какая функция является плавающим нулем?
115. Какая функция является работой в абсолютной системе координат?
116. Какая функция является работой в инкрементной системе координат?
117. Какая функция является работой в относительной системе координат?
118. Какая технологическая команда является технологическим остановом?
119. Какая технологическая команда является технологическим остановом с подтверждением?
120. Какая технологическая команда является включение шпинделя по часовой стрелке?
121. Какая технологическая команда является включение шпинделя против часовой стрелки?
122. Какая технологическая команда является концом программы?
123. Какая технологическая команда является отключении шпинделя?
124. Какая технологическая команда является сменой инструмента?
125. Какая технологическая команда является включением СОЖ?
126. Какая технологическая команда является выключением СОЖ?
127. Какая команда чему соответствует?
128. Какая функция чему соответствует?
129. Какая функция и команда чему соответствует?
130. Какая функция и команда чему соответствует?

Оценка	Показатели оценки
3	Выполнены 9-10 заданий из 30 возможных.
4	Выполнены 18-20 заданий из 30 возможных.
5	Выполнены 25-30 заданий из 30 возможных.

Дидактическая единица для контроля:

2.1 использовать справочную и исходную документацию при написании управляющих программ (УП);

Задание №1

Выбрать для выданной детали (детали соответствуют номерам билетов) необходимый инструмент и инструментальную оснастку для обработки. Рассчитать режимы резания для выбранного инструмента.

<i>Оценка</i>	<i>Показатели оценки</i>
3	Выбран только один инструмент, инструментальная оснастка к нему и рассчитаны на него режимы резания.
4	Выбраны два инструмента, инструментальная оснастка к ним и рассчитаны на них режимы резания.
5	Выбраны все необходимые инструменты, инструментальная оснастка к ним и рассчитаны на них режимы резания.

Дидактическая единица для контроля:

2.2 рассчитывать траекторию и эквидистанты инструментов, их исходные точки, координаты опорных точек контура детали;

Задание №1

Составить управляющую программу на контур, указанный преподавателем для выданной детали (детали соответствуют номерам билетов) необходимыми инструментами.

<i>Оценка</i>	<i>Показатели оценки</i>
3	Контур обработан одним инструментом, управляющая программа содержит ошибки.
4	Контур обработан двумя инструментами, управляющая программа содержит незначительные ошибки.
5	Контур обработан необходимыми инструментами, управляющая программа содержит минимум незначительных ошибок.

Дидактическая единица для контроля:

2.3 заполнять формы сопроводительной документации;

Задание №1

Составить расчетно-технологическую карту на контур указанный преподавателем для выданной детали (детали соответствуют номерам билетов) необходимыми инструментами.

<i>Оценка</i>	<i>Показатели оценки</i>
3	Имеются необходимый вид детали со всеми необходимыми параметрами, описание инструмента и перехода обработки, диаграмма Z и описание подач в пути инструмента выполненные на один инструмент. РТК выполнена с большим количеством ошибок.

4	Имеются необходимый вид детали со всеми необходимыми параметрами, описание инструмента и перехода обработки, диаграмма Z и описание подач в пути инструмента выполненные на два инструмента. РТК выполнена с большим количеством ошибок.
5	Имеются необходимый вид детали со всеми необходимыми параметрами, описание инструмента и перехода обработки, диаграмма Z и описание подач в пути инструмента выполненные на все необходимые инструменты. РТК выполнена с минимумом ошибок.

Дидактическая единица для контроля:

2.4 выводить УП на программноносители, заносить УП в память системы ЧПУ станка;

Задание №1

Составить управляющую программу на контур, указанный преподавателем для выданной детали (детали соответствуют номерам билетов) необходимыми инструментами.

<i>Оценка</i>	<i>Показатели оценки</i>
3	Контур обработан одним инструментом, управляющая программа содержит ошибки.
4	Контур обработан двумя инструментами, управляющая программа содержит незначительные ошибки.
5	Контур обработан необходимыми инструментами, управляющая программа содержит минимум незначительных ошибок.

Дидактическая единица для контроля:

2.5 производить корректировку и доработку УП на рабочем месте;

Задание №1

Составить управляющую программу на контур, указанный преподавателем для выданной детали (детали соответствуют номерам билетов) необходимыми инструментами.

<i>Оценка</i>	<i>Показатели оценки</i>
3	Контур обработан одним инструментом, управляющая программа содержит ошибки.
4	Контур обработан двумя инструментами, управляющая программа содержит незначительные ошибки.

5	Контур обработан необходимыми инструментами, управляющая программа содержит минимум ошибок.
---	---

Дидактическая единица для контроля:

2.6 применять САПР для расчета координат опорных точек и длин перемещения рабочего органа станка.

Задание №1

Составить расчетно-технологическую карту на контур, указанный преподавателем для выданной детали (детали соответствуют номерам билетов) необходимыми инструментами.

<i>Оценка</i>	<i>Показатели оценки</i>
3	Имеются необходимый вид детали со всеми необходимыми параметрами, описание инструмента и перехода обработки, диаграмма Z и описание подач в пути инструмента выполненные на один инструмент. РТК выполнена с большим количеством ошибок.
4	Имеются необходимый вид детали со всеми необходимыми параметрами, описание инструмента и перехода обработки, диаграмма Z и описание подач в пути инструмента выполненные на два инструмента. РТК выполнена с большим количеством ошибок.
5	Имеются необходимый вид детали со всеми необходимыми параметрами, описание инструмента и перехода обработки, диаграмма Z и описание подач в пути инструмента выполненные на все необходимые инструменты. РТК выполнена с минимумом ошибок.