



Министерство образования Иркутской области  
Государственное бюджетное профессиональное  
образовательное учреждение Иркутской области  
«Иркутский авиационный техникум»

УТВЕРЖДАЮ  
Директор  
ГБНОУИО «ИАТ»

 Якубовский А.Н.  
«31» мая 2022 г.

## **ФОНД ОЦЕНОЧНЫХ СРЕДСТВ ПО ДИСЦИПЛИНЕ**

ПОД.12 Физика

специальности

09.02.07 Информационные системы и программирование

Иркутск, 2022

Рассмотрена  
цикловой комиссией  
ОД, МЕН протокол №11 от  
25.05.2022 г.

Председатель ЦК

 /К.Н. Ильинец /

№	Разработчик ФИО
1	Пыляева Нина Владимировна

## 1. ОБЩИЕ ПОЛОЖЕНИЯ

### 1.1. Область применения фонда оценочных средств (ФОС)

ФОС по дисциплине является частью программы подготовки специалистов среднего звена по специальности 09.02.07 Информационные системы и программирование

### 1.2. Место дисциплины в структуре ППСЗ:

ПОД.00 Профильные общеобразовательные дисциплины.

### 1.3. Цели и задачи дисциплины – требования к результатам освоения дисциплины

Результаты освоения дисциплины	№ Результата	Формируемый результат
Личностные результаты	1.1	сформированность мировоззрения, соответствующего современному уровню развития науки и общественной практики, основанного на диалоге культур, а также различных форм общественного сознания, осознание своего места в поликультурном мире;
	1.2	навыки сотрудничества со сверстниками, детьми младшего возраста, взрослыми в образовательной, общественно полезной, учебно-исследовательской, проектной и других видах деятельности;
	1.3	готовность и способность к образованию, в том числе самообразованию, на протяжении всей жизни; сознательное отношение к непрерывному образованию как условию успешной профессиональной и общественной деятельности;
	1.4	сформированность экологического мышления, понимания влияния социально-экономических процессов на состояние природной и социальной среды; приобретение опыта эколого-направленной деятельности;
Метапредметные результаты	2.1	умение самостоятельно определять цели деятельности и составлять планы деятельности; самостоятельно осуществлять, контролировать и корректировать деятельность; использовать все

		возможные ресурсы для достижения поставленных целей и реализации планов деятельности; выбирать успешные стратегии в различных ситуациях;
	2.2	умение продуктивно общаться и взаимодействовать в процессе совместной деятельности, учитывать позиции других участников деятельности, эффективно разрешать конфликты;
	2.3	владение навыками познавательной, учебно-исследовательской и проектной деятельности, навыками разрешения проблем; способность и готовность к самостоятельному поиску методов решения практических задач, применению различных методов познания;
	2.4	готовность и способность к самостоятельной информационно-познавательной деятельности, включая умение ориентироваться в различных источниках информации, критически оценивать и интерпретировать информацию, получаемую из различных источников;
	2.5	умение использовать средства информационных и коммуникационных технологий (далее - ИКТ) в решении когнитивных, коммуникативных и организационных задач с соблюдением требований эргономики, техники безопасности, гигиены, ресурсосбережения, правовых и этических норм, норм информационной безопасности;
	2.6	владение языковыми средствами - умение ясно, логично и точно излагать свою точку зрения, использовать адекватные языковые средства;
	2.7	владение навыками познавательной рефлексии как осознания совершаемых действий и мыслительных процессов, их результатов и оснований, границ своего знания и незнания, новых познавательных задач и средств их достижения;
Предметные результаты	3.1	сформированность представлений о роли и месте физики в современной научной картине мира; понимание физической сущности наблюдаемых во Вселенной явлений; понимание роли физики в формировании кругозора и функциональной грамотности человека для решения практических

		задач;
	3.2	владение основополагающими физическими понятиями, закономерностями, законами и теориями; уверенное пользование физической терминологией и символикой;
	3.3	владение основными методами научного познания, используемыми в физике: наблюдение, описание, измерение, эксперимент; умения обрабатывать результаты измерений, обнаруживать зависимость между физическими величинами, объяснять полученные результаты и делать выводы;
	3.4	сформированность умения решать физические задачи;
	3.5	сформированность умения применять полученные знания для объяснения условий протекания физических явлений в природе и для принятия практических решений в повседневной жизни;
	3.6	сформированность собственной позиции по отношению к физической информации, получаемой из разных источников
Личностные результаты воспитания	4.1	Проявляющий активную гражданскую позицию, демонстрирующий приверженность принципам честности, порядочности, открытости, экономически активный и участвующий в студенческом и территориальном самоуправлении, в том числе на условиях добровольчества, продуктивно взаимодействующий и участвующий в деятельности общественных организаций.
	4.2	Демонстрирующий приверженность к родной культуре, исторической памяти на основе любви к Родине, родному народу, малой родине, принятию традиционных ценностей многонационального народа России.
	4.3	Проявляющий и демонстрирующий уважение к представителям различных этнокультурных, социальных, конфессиональных и иных групп. Сопричастный к сохранению, преумножению и трансляции культурных традиций и ценностей многонационального российского государства.

	4.4	Заботящийся о защите окружающей среды, собственной и чужой безопасности, в том числе цифровой.
--	-----	--

#### **1.4. Формируемые компетенции:**

ОК.1 Выбирать способы решения задач профессиональной деятельности применительно к различным контекстам

ОК.2 Использовать современные средства поиска, анализа и интерпретации информации, и информационные технологии для выполнения задач профессиональной деятельности

ОК.4 Эффективно взаимодействовать и работать в коллективе и команде

ОК.7 Содействовать сохранению окружающей среды, ресурсосбережению, применять знания об изменении климата, принципы бережливого производства, эффективно действовать в чрезвычайных ситуациях

## 2. ФОНД ОЦЕНОЧНЫХ СРЕДСТВ ДИСЦИПЛИНЫ, ИСПОЛЬЗУЕМЫЙ ДЛЯ ТЕКУЩЕГО КОНТРОЛЯ

### 2.1 Текущий контроль (ТК) № 1

**Тема занятия:** 2.1.7. Контрольная работа по теме "Кинематика".

**Метод и форма контроля:** Контрольная работа (Опрос)

**Вид контроля:** Письменная контрольная работа

**Предметный результат:** 3.1 сформированность представлений о роли и месте физики в современной научной картине мира; понимание физической сущности наблюдаемых во Вселенной явлений; понимание роли физики в формировании кругозора и функциональной грамотности человека для решения практических задач;

**Занятие(-я):**

1.1.1. Предмет и методы физики. Связь физики с другими науками и техникой. Физические величины и их измерение.

1.1.3. Погрешности прямых и косвенных измерений. Методы расчета погрешностей.

2.1.1. Основные понятия кинематики. Равномерное прямолинейное движение (РПД).

2.1.2. Прямолинейное равноускоренное движение (ПРУД). Свободное падение, как пример ПРУД.

2.1.3. Криволинейное движение. Равномерное движение по окружности (РДО). Характеристики РДО.

#### **Задание №1**

Сформулируйте развернутый ответ на вопрос: "Механическое движение, его относительность. Характеристики механического движения: перемещение, скорость, ускорение".

<i>Оценка</i>	<i>Показатели оценки</i>
5	<ol style="list-style-type: none"><li>1. Показывает верное понимание физической сущности рассматриваемых явлений и закономерностей, законов и теорий, дает точное определение и истолкование основных понятий, законов, теорий.</li><li>2. Дает правильное определение физических величин, их единиц и способов измерения.</li><li>3. Правильно выполняет чертежи, схемы и графики.</li><li>4. Сопровождает рассказ новыми примерами.</li></ol>

4	<p>Ответ удовлетворяет основным требованиям к ответу на оценку 5, но:</p> <ol style="list-style-type: none"> <li>1. Обучающийся допустил одну ошибку или не более двух недочетов и может их исправить самостоятельно или с небольшой помощью преподавателя.</li> <li>2. Ответ дан без использования новых примеров.</li> </ol>
3	<p>Обучающийся правильно понимает физическую сущность рассматриваемых явлений и закономерностей, но:</p> <ol style="list-style-type: none"> <li>1. В его ответе, имеются отдельные пробелы в усвоении вопросов курса физики, не препятствующие дальнейшему усвоению программного материала.</li> <li>2. Обучающийся может допустить не более одной грубой ошибки и двух недочетов; или не более одной грубой ошибки и не более двух-трех негрубых ошибок; или одной негрубой ошибки и трех недочетов; или четырех или пяти недочетов.</li> </ol>

## Задание №2

Сформулируйте развернутый ответ на вопрос: "Прямолинейное равномерное движение. Скорость. Графическое представление движения".

<b>Оценка</b>	<b>Показатели оценки</b>
5	<ol style="list-style-type: none"> <li>1. Показывает верное понимание физической сущности рассматриваемых явлений и закономерностей, законов и теорий, дает точное определение и истолкование основных понятий, законов, теорий.</li> <li>2. Дает правильное определение физических величин, их единиц и способов измерения.</li> <li>3. Правильно выполняет чертежи, схемы и графики.</li> <li>4. Сопровождает рассказ новыми примерами.</li> </ol>



4	<p>Ответ удовлетворяет основным требованиям к ответу на оценку 5, но:</p> <ol style="list-style-type: none"> <li>1. Обучающийся допустил одну ошибку или не более двух недочетов и может их исправить самостоятельно или с небольшой помощью преподавателя.</li> <li>2. Ответ дан без использования новых примеров.</li> </ol>
3	<p>Обучающийся правильно понимает физическую сущность рассматриваемых явлений и закономерностей, но:</p> <ol style="list-style-type: none"> <li>1. В его ответе, имеются отдельные пробелы в усвоении вопросов курса физики, не препятствующие дальнейшему усвоению программного материала.</li> <li>2. Обучающийся может допустить не более одной грубой ошибки и двух недочетов; или не более одной грубой ошибки и не более двух-трех негрубых ошибок; или одной негрубой ошибки и трех недочетов; или четырех или пяти недочетов.</li> </ol>

### Задание №3

Сформулируйте развернутый ответ на вопрос: "Равнопеременное движение. Уравнения скорости и перемещения при равнопеременном движении".

<b>Оценка</b>	<b>Показатели оценки</b>
5	<ol style="list-style-type: none"> <li>1. Показывает верное понимание физической сущности рассматриваемых явлений и закономерностей, законов и теорий, дает точное определение и истолкование основных понятий, законов, теорий.</li> <li>2. Дает правильное определение физических величин, их единиц и способов измерения.</li> <li>3. Правильно выполняет чертежи, схемы и графики.</li> <li>4. Сопровождает рассказ новыми примерами.</li> </ol>

4	<p>Ответ удовлетворяет основным требованиям к ответу на оценку 5, но:</p> <ol style="list-style-type: none"> <li>1. Обучающийся допустил одну ошибку или не более двух недочетов и может их исправить самостоятельно или с небольшой помощью преподавателя.</li> <li>2. Ответ дан без использования новых примеров.</li> </ol>
3	<p>Обучающийся правильно понимает физическую сущность рассматриваемых явлений и закономерностей, но:</p> <ol style="list-style-type: none"> <li>1. В его ответе, имеются отдельные пробелы в усвоении вопросов курса физики, не препятствующие дальнейшему усвоению программного материала.</li> <li>2. Обучающийся может допустить не более одной грубой ошибки и двух недочетов; или не более одной грубой ошибки и не более двух-трех негрубых ошибок; или одной негрубой ошибки и трех недочетов; или четырех или пяти недочетов.</li> </ol>

#### Задание №4

Сформулируйте развернутый ответ на вопрос: "Равнопеременное движение по окружности и его характеристики".

<i>Оценка</i>	<i>Показатели оценки</i>
5	<ol style="list-style-type: none"> <li>1. Показывает верное понимание физической сущности рассматриваемых явлений и закономерностей, законов и теорий, дает точное определение и истолкование основных понятий, законов, теорий.</li> <li>2. Дает правильное определение физических величин, их единиц и способов измерения.</li> <li>3. Правильно выполняет чертежи, схемы и графики.</li> <li>4. Сопровождает рассказ новыми примерами.</li> </ol>

4	<p>Ответ удовлетворяет основным требованиям к ответу на оценку 5, но:</p> <ol style="list-style-type: none"> <li>1. Обучающийся допустил одну ошибку или не более двух недочетов и может их исправить самостоятельно или с небольшой помощью преподавателя.</li> <li>2. Ответ дан без использования новых примеров.</li> </ol>
3	<p>Обучающийся правильно понимает физическую сущность рассматриваемых явлений и закономерностей, но:</p> <ol style="list-style-type: none"> <li>1. В его ответе, имеются отдельные пробелы в усвоении вопросов курса физики, не препятствующие дальнейшему усвоению программного материала.</li> <li>2. Обучающийся может допустить не более одной грубой ошибки и двух недочетов; или не более одной грубой ошибки и не более двух-трех негрубых ошибок; или одной негрубой ошибки и трех недочетов; или четырех или пяти недочетов.</li> </ol>

**Предметный результат:** 3.2 владение основополагающими физическими понятиями, закономерностями, законами и теориями; уверенное пользование физической терминологией и символикой;

**Занятие(-я):**

1.1.1. Предмет и методы физики. Связь физики с другими науками и техникой. Физические величины и их измерение.

1.1.2. Классификация физических величин и их измерения.

2.1.1. Основные понятия кинематики. Равномерное прямолинейное движение (РПД).

**Задание №1**

Установите соответствие между термином и его определением.

Термин	Определение
<ol style="list-style-type: none"> <li>1. Физическая величина</li> <li>2. Погрешность измерения</li> <li>3. Механическое движение</li> </ol>	<p><b>А.</b> величина, описывает физические свойства материального объекта, явления, процесса, которое характеризуется количественно или качественно.</p> <p><b>В.</b> отклонение измеренного значения величины от ее истинного значения</p> <p><b>С.</b> тело, размерами которого можно</p>

	<p>пренебречь, по сравнению с расстоянием, которое оно проходит</p> <p><b>Д.</b> движение, которое характеризует изменение положения тела в пространстве относительно других тел с течением времени</p> <p><b>Е.</b> векторная физическая величина, характеризующая быстроту перемещения и направление движения материальной точки относительно выбранной системы отсчета</p> <p><b>Ф.</b> векторная физическая величина, количественная мера взаимодействия тел, в результате которого они изменяют скорость или деформируются.</p>
<b>Оценка</b>	<b>Показатели оценки</b>
5	Установлено соответствие по всем терминам, не допущено ошибок.
4	Установлено соответствие по всем терминам, но допущена одна ошибка. ИЛИ При установлении соответствия был пропущен один термин, но в установлении соответствия по другим терминам ошибок нет.
3	Установлено соответствие по всем терминам, но допущено две ошибки. ИЛИ При установлении соответствия были пропущены два термина, но в установлении соответствия по другим терминам ошибок нет.

## Задание №2

Установите соответствие между термином и его определением.

Термин	Определение
1. Скорость	<p><b>А.</b> величина, описывает физические свойства материального объекта, явления, процесса, которое характеризуется количественно или качественно.</p> <p><b>В.</b> отклонение измеренного значения величины от ее истинного значения</p> <p><b>С.</b> тело, размерами которого можно пренебречь, по сравнению с расстоянием,</p>
2. Материальная точка	
3. Механическое движение	

которое оно проходит  
**Д.** движение, которое характеризует изменение положения тела в пространстве относительно других тел с течением времени  
**Е.** векторная физическая величина, характеризующая быстроту перемещения и направление движения материальной точки относительно выбранной системы отсчета  
**Ф.** векторная физическая величина, количественная мера взаимодействия тел, в результате которого они изменяют скорость или деформируются.

<i>Оценка</i>	<i>Показатели оценки</i>
5	Установлено соответствие по всем терминам, не допущено ошибок.
4	Установлено соответствие по всем терминам, но допущена одна ошибка. ИЛИ При установлении соответствия был пропущен один термин, но в установлении соответствия по другим терминам ошибок нет.
3	Установлено соответствие по всем терминам, но допущено две ошибки. ИЛИ При установлении соответствия были пропущены два термина, но в установлении соответствия по другим терминам ошибок нет.

**Предметный результат:** 3.4 сформированность умения решать физические задачи;

**Занятие(-я):**

2.1.4.Решение графических и аналитических задач по кинематике.

2.1.5.Обобщение по теме "Кинематика".

2.1.6.Подготовка к контрольной работе по теме "Кинематика".

**Задание №1**

Решите задачу: Двигаясь равноускорено вдоль прямой, за 20 с тело прошло путь, равный 6 м, при этом его скорость возросла в 5 раз. Определите начальную скорость тела.

<i>Оценка</i>	<i>Показатели оценки</i>
---------------	--------------------------

5	<p>Приведено полное правильное решение, включающее следующие элементы:</p> <ol style="list-style-type: none"> <li>1) верно записано краткое условие задачи;</li> <li>2) записаны уравнения и формулы, применение которых необходимо и достаточно для решения задачи выбранным способом;</li> <li>3) выполнены необходимые математические преобразования и расчеты, приводящие к правильному числовому ответу, и представлен ответ. При этом допускается решение "по частям" (с промежуточными вычислениями).</li> </ol>
4	<p>Правильно записаны необходимые формулы, проведены вычисления, и получен ответ (верный или неверный), но допущена ошибка в записи краткого условия или переводе единиц в СИ.</p> <p>ИЛИ</p> <p>Представлено правильное решение только в общем виде, без каких-либо числовых расчетов.</p> <p>ИЛИ</p> <p>Записаны уравнения и формулы, применение которых необходимо и достаточно для решения задачи выбранным способом, но в математических преобразованиях или вычислениях допущена ошибка.</p>
3	<p>Записаны и использованы не все исходные формулы, необходимые для решения задачи.</p> <p>ИЛИ</p> <p>Записаны все исходные формулы, но в <b>ОДНОЙ</b> из них допущена ошибка.</p>

### Задание №2

Решите задачу: Мяч катиться по прямой равнозамедленное с начальной скоростью 5 м/с и ускорением  $1 \text{ м/с}^2$ . Определите величину скорости мяча в тот момент, когда он пройдет 4,5 м пути.

<i>Оценка</i>	<i>Показатели оценки</i>

5	<p>Приведено полное правильное решение, включающее следующие элементы:</p> <ol style="list-style-type: none"> <li>1) верно записано краткое условие задачи;</li> <li>2) записаны уравнения и формулы, применение которых необходимо и достаточно для решения задачи выбранным способом;</li> <li>3) выполнены необходимые математические преобразования и расчеты, приводящие к правильному числовому ответу, и представлен ответ. При этом допускается решение "по частям" (с промежуточными вычислениями).</li> </ol>
4	<p>Правильно записаны необходимые формулы, проведены вычисления, и получен ответ (верный или неверный), но допущена ошибка в записи краткого условия или переводе единиц в СИ.</p> <p>ИЛИ</p> <p>Представлено правильное решение только в общем виде, без каких-либо числовых расчетов.</p> <p>ИЛИ</p> <p>Записаны уравнения и формулы, применение которых необходимо и достаточно для решения задачи выбранным способом, но в математических преобразованиях или вычислениях допущена ошибка.</p>
3	<p>Записаны и использованы не все исходные формулы, необходимые для решения задачи.</p> <p>ИЛИ</p> <p>Записаны все исходные формулы, но в <b>ОДНОЙ</b> из них допущена ошибка.</p>

## 2.2 Текущий контроль (ТК) № 2

**Тема занятия:** 2.2.9. Контрольная работа по теме "Динамика".

**Метод и форма контроля:** Контрольная работа (Опрос)

**Вид контроля:** Письменная контрольная работа

**Предметный результат:** 3.4 сформированность умения решать физические задачи;

**Занятие(-я):**

2.1.7. Контрольная работа по теме "Кинематика".

2.2.7. Обобщение по теме «Динамика».

2.2.8. Подготовка к контрольной работе по теме "Динамика".

### Задание №1

Решите задачу: Мальчик массой 50 кг качается на качелях с длиной подвеса 4 м. С какой силой он давит на сиденье при прохождении положения равновесия качелей

со скоростью 6 м/с. (Принять ускорение свободного падения равным  $10 \text{ м/с}^2$ .)

<i>Оценка</i>	<i>Показатели оценки</i>
5	<p>Приведено полное правильное решение, включающее следующие элементы:</p> <ol style="list-style-type: none"> <li>1) верно записано краткое условие задачи;</li> <li>2) записаны уравнения и формулы, применение которых необходимо и достаточно для решения задачи выбранным способом;</li> <li>3) выполнены необходимые математические преобразования и расчеты, приводящие к правильному числовому ответу, и представлен ответ. При этом допускается решение "по частям" (с промежуточными вычислениями).</li> </ol>
4	<p>Правильно записаны необходимые формулы, проведены вычисления, и получен ответ (верный или неверный), но допущена ошибка в записи краткого условия или переводе единиц в СИ.</p> <p>ИЛИ</p> <p>Представлено правильное решение только в общем виде, без каких-либо числовых расчетов.</p> <p>ИЛИ</p> <p>Записаны уравнения и формулы, применение которых необходимо и достаточно для решения задачи выбранным способом, но в математических преобразованиях или вычислениях допущена ошибка.</p>
3	<p>Записаны и использованы не все исходные формулы, необходимые для решения задачи.</p> <p>ИЛИ</p> <p>Записаны все исходные формулы, но в <b>ОДНОЙ</b> из них допущена ошибка.</p>

### Задание №2

Решите задачу: На наклонной плоскости длиной 5 м и высотой 3 м находится груз массой 50 кг. Какую силу надо приложить, чтобы удержать тело на наклонной плоскости, если коэффициент сопротивления равен 0,2?

<i>Оценка</i>	<i>Показатели оценки</i>



5	<p>Приведено полное правильное решение, включающее следующие элементы:</p> <ol style="list-style-type: none"> <li>1) верно записано краткое условие задачи;</li> <li>2) записаны уравнения и формулы, применение которых необходимо и достаточно для решения задачи выбранным способом;</li> <li>3) выполнены необходимые математические преобразования и расчеты, приводящие к правильному числовому ответу, и представлен ответ. При этом допускается решение "по частям" (с промежуточными вычислениями).</li> </ol>
4	<p>Правильно записаны необходимые формулы, проведены вычисления, и получен ответ (верный или неверный), но допущена ошибка в записи краткого условия или переводе единиц в СИ.</p> <p>ИЛИ</p> <p>Представлено правильное решение только в общем виде, без каких-либо числовых расчетов.</p> <p>ИЛИ</p> <p>Записаны уравнения и формулы, применение которых необходимо и достаточно для решения задачи выбранным способом, но в математических преобразованиях или вычислениях допущена ошибка.</p>
3	<p>Записаны и использованы не все исходные формулы, необходимые для решения задачи.</p> <p>ИЛИ</p> <p>Записаны все исходные формулы, но в <b>ОДНОЙ</b> из них допущена ошибка.</p>

### Задание №3

Решите задачу: Тело массой 5 кг лежи на горизонтальной площадке. Какую силу, направленную под углом  $\alpha=30^\circ$  к горизонту, надо приложить к телу, чтобы сообщить ему ускорение  $0,5 \text{ м/с}^2$ , если коэффициент трения составляет 0,1? (Ускорение свободного падения принять равным  $9,8 \text{ м/с}^2$ .)

<i>Оценка</i>	<i>Показатели оценки</i>

5	<p>Приведено полное правильное решение, включающее следующие элементы:</p> <ol style="list-style-type: none"> <li>1) верно записано краткое условие задачи;</li> <li>2) записаны уравнения и формулы, применение которых необходимо и достаточно для решения задачи выбранным способом;</li> <li>3) выполнены необходимые математические преобразования и расчеты, приводящие к правильному числовому ответу, и представлен ответ. При этом допускается решение "по частям" (с промежуточными вычислениями).</li> </ol>
4	<p>Правильно записаны необходимые формулы, проведены вычисления, и получен ответ (верный или неверный), но допущена ошибка в записи краткого условия или переводе единиц в СИ.</p> <p>ИЛИ</p> <p>Представлено правильное решение только в общем виде, без каких-либо числовых расчетов.</p> <p>ИЛИ</p> <p>Записаны уравнения и формулы, применение которых необходимо и достаточно для решения задачи выбранным способом, но в математических преобразованиях или вычислениях допущена ошибка.</p>
3	<p>Записаны и использованы не все исходные формулы, необходимые для решения задачи.</p> <p>ИЛИ</p> <p>Записаны все исходные формулы, но в <b>ОДНОЙ</b> из них допущена ошибка.</p>

#### Задание №4

Решите задачу: Уравнение движения тела имеет вид  $S = t + 0,1 t^2$  (м). К этому телу приложена сила  $F = 1$  кН. Найдите массу этого тела. (Ответ дать в тоннах.)

<i>Оценка</i>	<i>Показатели оценки</i>

5	<p>Приведено полное правильное решение, включающее следующие элементы:</p> <p>1) верно записано краткое условие задачи;</p> <p>2) записаны уравнения и формулы, применение которых необходимо и достаточно для решения задачи выбранным способом;</p> <p>3) выполнены необходимые математические преобразования и расчеты, приводящие к правильному числовому ответу, и представлен ответ. При этом допускается решение "по частям" (с промежуточными вычислениями).</p>
4	<p>Правильно записаны необходимые формулы, проведены вычисления, и получен ответ (верный или неверный), но допущена ошибка в записи краткого условия или переводе единиц в СИ.</p> <p>ИЛИ</p> <p>Представлено правильное решение только в общем виде, без каких-либо числовых расчетов.</p> <p>ИЛИ</p> <p>Записаны уравнения и формулы, применение которых необходимо и достаточно для решения задачи выбранным способом, но в математических преобразованиях или вычислениях допущена ошибка.</p>
3	<p>Записаны и использованы не все исходные формулы, необходимые для решения задачи.</p> <p>ИЛИ</p> <p>Записаны все исходные формулы, но в <b>ОДНОЙ</b> из них допущена ошибка.</p>

**Предметный результат:** 3.1 сформированность представлений о роли и месте физики в современной научной картине мира; понимание физической сущности наблюдаемых во Вселенной явлений; понимание роли физики в формировании кругозора и функциональной грамотности человека для решения практических задач;

**Занятие(-я):**

2.2.1. Законы Ньютона. Инерциальная система отсчета. Инертность и масса тела. Сила, сложение сил.

2.2.2. Закон всемирного тяготения, границы его применимости. Сила тяжести. Первая космическая скорость. ИСЗ.

2.2.3. Силы упругости. Закон Гука. Силы реакции опоры и натяжения подвеса. Вес тела. Невесомость и перегрузки.

2.2.5. Силы трения. Статическое и кинематическое трение. Коэффициент трения.

Сила трения в технике и в быту.

2.2.6. Решение графических и аналитических задач по динамике.

### Задание №1

Сформулируйте развернутый ответ на вопрос: "Взаимодействие тел. Законы Ньютона".

<i>Оценка</i>	<i>Показатели оценки</i>
5	<ol style="list-style-type: none"><li>1. Показывает верное понимание физической сущности рассматриваемых явлений и закономерностей, законов и теорий, дает точное определение и истолкование основных понятий, законов, теорий.</li><li>2. Дает правильное определение физических величин, их единиц и способов измерения.</li><li>3. Правильно выполняет чертежи, схемы и графики.</li><li>4. Сопровождает рассказ новыми примерами.</li></ol>
4	<p>Ответ удовлетворяет основным требованиям к ответу на оценку 5, но:</p> <ol style="list-style-type: none"><li>1. Обучающийся, допустил одну ошибку или не более двух недочетов и может их исправить самостоятельно или с небольшой помощью преподавателя.</li><li>2. Ответ дан без использования новых примеров.</li></ol>
3	<p>Обучающийся правильно понимает физическую сущность рассматриваемых явлений и закономерностей, но:</p> <ol style="list-style-type: none"><li>1. В его ответе, имеются отдельные пробелы в усвоении вопросов курса физики, не препятствующие дальнейшему усвоению программного материала.</li><li>2. Обучающийся может допустить не более одной грубой ошибки и двух недочетов; или не более одной грубой ошибки и не более двух-трех негрубых ошибок; или одной негрубой ошибки и трех недочетов; или четырех или пяти недочетов.</li></ol>

### Задание №2

Сформулируйте развернутый ответ на вопрос: "Закон всемирного тяготения. Сила тяжести".

<i>Оценка</i>	<i>Показатели оценки</i>
5	<ol style="list-style-type: none"> <li>1. Показывает верное понимание физической сущности рассматриваемых явлений и закономерностей, законов и теорий, дает точное определение и истолкование основных понятий, законов, теорий.</li> <li>2. Дает правильное определение физических величин, их единиц и способов измерения.</li> <li>3. Правильно выполняет чертежи, схемы и графики.</li> <li>4. Сопровождает рассказ новыми примерами.</li> </ol>
4	<p>Ответ удовлетворяет основным требованиям к ответу на оценку 5, но:</p> <ol style="list-style-type: none"> <li>1. Обучающийся допустил одну ошибку или не более двух недочетов и может их исправить самостоятельно или с небольшой помощью преподавателя.</li> <li>2. Ответ дан без использования новых примеров.</li> </ol>
3	<p>Обучающийся правильно понимает физическую сущность рассматриваемых явлений и закономерностей, но:</p> <ol style="list-style-type: none"> <li>1. В его ответе, имеются отдельные пробелы в усвоении вопросов курса физики, не препятствующие дальнейшему усвоению программного материала.</li> <li>2. Обучающийся может допустить не более одной грубой ошибки и двух недочетов; или не более одной грубой ошибки и не более двух-трех негрубых ошибок; или одной негрубой ошибки и трех недочетов; или четырех или пяти недочетов.</li> </ol>

### **Задание №3**

Сформулируйте развернутый ответ на вопрос: "Сила упругости. Вес тела. Невесомость".

<i>Оценка</i>	<i>Показатели оценки</i>

5	<ol style="list-style-type: none"> <li>1. Показывает верное понимание физической сущности рассматриваемых явлений и закономерностей, законов и теорий, дает точное определение и истолкование основных понятий, законов, теорий.</li> <li>2. Дает правильное определение физических величин, их единиц и способов измерения.</li> <li>3. Правильно выполняет чертежи, схемы и графики.</li> <li>4. Сопровождает рассказ новыми примерами.</li> </ol>
4	<p>Ответ удовлетворяет основным требованиям к ответу на оценку 5, но:</p> <ol style="list-style-type: none"> <li>1. Обучающийся допустил одну ошибку или не более двух недочетов и может их исправить самостоятельно или с небольшой помощью преподавателя.</li> <li>2. Ответ дан без использования новых примеров.</li> </ol>
3	<p>Обучающийся правильно понимает физическую сущность рассматриваемых явлений и закономерностей, но:</p> <ol style="list-style-type: none"> <li>1. В его ответе, имеются отдельные пробелы в усвоении вопросов курса физики, не препятствующие дальнейшему усвоению программного материала.</li> <li>2. Обучающийся может допустить не более одной грубой ошибки и двух недочетов; или не более одной грубой ошибки и не более двух-трех негрубых ошибок; или одной негрубой ошибки и трех недочетов; или четырех или пяти недочетов.</li> </ol>

#### Задание №4

Сформулируйте развернутый ответ на вопрос: "Силы трения. Коэффициент трения".

<i>Оценка</i>	<i>Показатели оценки</i>

5	<ol style="list-style-type: none"> <li>1. Показывает верное понимание физической сущности рассматриваемых явлений и закономерностей, законов и теорий, дает точное определение и истолкование основных понятий, законов, теорий.</li> <li>2. Дает правильное определение физических величин, их единиц и способов измерения.</li> <li>3. Правильно выполняет чертежи, схемы и графики.</li> <li>4. Сопровождает рассказ новыми примерами.</li> </ol>
4	<p>Ответ удовлетворяет основным требованиям к ответу на оценку 5, но:</p> <ol style="list-style-type: none"> <li>1. Обучающийся допустил одну ошибку или не более двух недочетов и может их исправить самостоятельно или с небольшой помощью преподавателя.</li> <li>2. Ответ дан без использования новых примеров.</li> </ol>
3	<p>Обучающийся правильно понимает физическую сущность рассматриваемых явлений и закономерностей, но:</p> <ol style="list-style-type: none"> <li>1. В его ответе, имеются отдельные пробелы в усвоении вопросов курса физики, не препятствующие дальнейшему усвоению программного материала.</li> <li>2. Обучающийся может допустить не более одной грубой ошибки и двух недочетов; или не более одной грубой ошибки и не более двух-трех негрубых ошибок; или одной негрубой ошибки и трех недочетов; или четырех или пяти недочетов.</li> </ol>

**Предметный результат:** 3.2 владение основополагающими физическими понятиями, закономерностями, законами и теориями; уверенное пользование физической терминологией и символикой;

**Занятие(-я):**

2.2.1. Законы Ньютона. Инерциальная система отсчета. Инертность и масса тела. Сила, сложение сил.

**Задание №1**

Сформулируйте определение термина «масса», укажите синоним и символическое обозначение.

<i>Оценка</i>	<i>Показатели оценки</i>
---------------	--------------------------

5	Представлено верное определение, верно указаны синоним и символьное обозначение.
4	Представлено определение, но имеются замечания; верно указаны синоним и символьное обозначение. ИЛИ Представлено верное определение, но допущены ошибки в представлении синонима или символьного обозначения.
3	Представлено определение, но имеются замечания; не указаны символьное обозначение и синоним.

## Задание №2

Сформулируйте определение термина «сила», укажите синоним и символьное обозначение.

<i>Оценка</i>	<i>Показатели оценки</i>
5	Представлено верное определение, верно указаны синоним и символьное обозначение.
4	Представлено определение, но имеются замечания; верно указаны синоним и символьное обозначение. ИЛИ Представлено верное определение, но допущены ошибки в представлении синонима или символьного обозначения.
3	Представлено определение, но имеются замечания; не указаны символьное обозначение и синоним.

**Предметный результат:** 3.5 сформированность умения применять полученные знания для объяснения условий протекания физических явлений в природе и для принятия практических решений в повседневной жизни;

### **Занятие(-я):**

2.1.3.Криволинейное движение. Равномерное движение по окружности (РДО).  
Характеристики РДО.

2.2.1.Законы Ньютона. Инерциальная система отсчета. Инертность и масса тела.  
Сила, сложение сил.

2.2.2.Закон всемирного тяготения, границы его применимости. Сила тяжести.  
Первая космическая скорость. ИСЗ.

2.2.3.Силы упругости. Закон Гука. Силы реакции опоры и натяжения подвеса. Вес тела. Невесомость и перегрузки.

2.2.5.Силы трения. Статическое и кинематическое трение. Коэффициент трения.  
Сила трения в технике и в быту.



### Задание №1

Сформулируйте развернутый ответ на вопрос: "По закону всемирного тяготения все тела притягиваются друг к другу под действием гравитационных сил. Приведите пример, когда при сближении тел сила притяжения между ними уменьшается".

<i>Оценка</i>	<i>Показатели оценки</i>
5	Представлен правильный ответ на вопрос, и приведено достаточное обоснование, не содержащее ошибок.
4	Представлен правильный ответ на поставленный вопрос, но его обоснование не является достаточным или в нем допущено не более одной ошибки или неточности.
3	Представлены корректные рассуждения, приводящие к правильному ответу, но ответ явно не сформулирован.

### Задание №2

Сформулируйте развернутый ответ на вопрос: "Если тело находится внутри жидкости, плотность которой равна плотности этого тела, то сила тяжести уравновешивается выталкивающей силой. Можно ли считать, что это тело находится в состоянии невесомости?"

<i>Оценка</i>	<i>Показатели оценки</i>
5	Представлен правильный ответ на вопрос, и приведено достаточное обоснование, не содержащее ошибок.
4	Представлен правильный ответ на поставленный вопрос, но его обоснование не является достаточным или в нем допущено не более одной ошибки или неточности.
3	Представлены корректные рассуждения, приводящие к правильному ответу, но ответ явно не сформулирован.

## 2.3 Текущий контроль (ТК) № 3

**Тема занятия:** 2.3.7. Контрольная работа по теме "Законы сохранения".

**Метод и форма контроля:** Контрольная работа (Опрос)

**Вид контроля:** Письменная контрольная работа

**Предметный результат:** 3.1 сформированность представлений о роли и месте физики в современной научной картине мира; понимание физической сущности наблюдаемых во Вселенной явлений; понимание роли физики в формировании кругозора и функциональной грамотности человека для решения практических задач;

**Занятие(-я):**

2.3.1. Законы сохранения как фундаментальные законы природы. Импульс тела, импульс силы. Второй закон Ньютона в импульсной форме (закон изменения импульса). Закон сохранения импульса. Реактивное движение.

2.3.2. Механическая работа и мощность. Мгновенная и средняя мощность. КПД.

2.3.3. Механическая энергия. Теорема о кинетической и потенциальной энергии. Консервативные силы. Закон сохранения энергии в механике.

2.3.5. Обобщение по теме «Законы сохранения».

### Задание №1

Сформулируйте развернутый ответ на вопрос: "Импульс тела. Импульс силы. Закон сохранения импульса".

<i>Оценка</i>	<i>Показатели оценки</i>
5	<ol style="list-style-type: none"><li>1. Показывает верное понимание физической сущности рассматриваемых явлений и закономерностей, законов и теорий, дает точное определение и истолкование основных понятий, законов, теорий.</li><li>2. Дает правильное определение физических величин, их единиц и способов измерения.</li><li>3. Правильно выполняет чертежи, схемы и графики.</li><li>4. Сопровождает рассказ новыми примерами.</li></ol>
4	<p>Ответ удовлетворяет основным требованиям к ответу на оценку 5, но:</p> <ol style="list-style-type: none"><li>1. Обучающийся допустил одну ошибку или не более двух недочетов и может их исправить самостоятельно или с небольшой помощью преподавателя.</li><li>2. Ответ дан без использования новых примеров.</li></ol>
3	<p>Обучающийся правильно понимает физическую сущность рассматриваемых явлений и закономерностей, но:</p> <ol style="list-style-type: none"><li>1. В его ответе имеются отдельные пробелы в усвоении вопросов курса физики, не препятствующие дальнейшему усвоению программного материала.</li><li>2. Обучающийся может допустить не более одной грубой ошибки и двух недочетов; или не более одной грубой ошибки и не более двух-трех негрубых ошибок; или одной негрубой ошибки и трех недочетов; или четырех или пяти недочетов.</li></ol>

## Задание №2

Сформулируйте развернутый ответ на вопрос: "Механическая работа и мощность. Единицы измерения работы и мощности".

<i>Оценка</i>	<i>Показатели оценки</i>
5	<ol style="list-style-type: none"><li>1. Показывает верное понимание физической сущности рассматриваемых явлений и закономерностей, законов и теорий, дает точное определение и истолкование основных понятий, законов, теорий.</li><li>2. Дает правильное определение физических величин, их единиц и способов измерения.</li><li>3. Правильно выполняет чертежи, схемы и графики.</li><li>4. Сопровождает рассказ новыми примерами.</li></ol>
4	<p>Ответ удовлетворяет основным требованиям к ответу на оценку 5, но:</p> <ol style="list-style-type: none"><li>1. Обучающийся допустил одну ошибку или не более двух недочетов и может их исправить самостоятельно или с небольшой помощью преподавателя.</li><li>2. Ответ дан без использования новых примеров.</li></ol>
3	<p>Обучающийся правильно понимает физическую сущность рассматриваемых явлений и закономерностей, но:</p> <ol style="list-style-type: none"><li>1. В его ответе, имеются отдельные пробелы в усвоении вопросов курса физики, не препятствующие дальнейшему усвоению программного материала.</li><li>2. Обучающийся может допустить не более одной грубой ошибки и двух недочетов; или не более одной грубой ошибки и не более двух-трех негрубых ошибок; или одной негрубой ошибки и трех недочетов; или четырех или пяти недочетов.</li></ol>

## Задание №3

Сформулируйте развернутый ответ на вопрос: "Механическая энергия. Закон сохранения полной механической энергии".

<i>Оценка</i>	<i>Показатели оценки</i>
---------------	--------------------------

5	<ol style="list-style-type: none"> <li>1. Показывает верное понимание физической сущности рассматриваемых явлений и закономерностей, законов и теорий, дает точное определение и истолкование основных понятий, законов, теорий.</li> <li>2. Дает правильное определение физических величин, их единиц и способов измерения.</li> <li>3. Правильно выполняет чертежи, схемы и графики.</li> <li>4. Сопровождает рассказ новыми примерами.</li> </ol>
4	<p>Ответ удовлетворяет основным требованиям к ответу на оценку 5, но:</p> <ol style="list-style-type: none"> <li>1. Обучающийся допустил одну ошибку или не более двух недочетов и может их исправить самостоятельно или с небольшой помощью преподавателя.</li> <li>2. Ответ дан без использования новых примеров.</li> </ol>
3	<p>Обучающийся правильно понимает физическую сущность рассматриваемых явлений и закономерностей, но:</p> <ol style="list-style-type: none"> <li>1. В его ответе, имеются отдельные пробелы в усвоении вопросов курса физики, не препятствующие дальнейшему усвоению программного материала.</li> <li>2. Обучающийся может допустить не более одной грубой ошибки и двух недочетов; или не более одной грубой ошибки и не более двух-трех негрубых ошибок; или одной негрубой ошибки и трех недочетов; или четырех или пяти недочетов.</li> </ol>

#### Задание №4

Сформулируйте развернутый ответ на вопрос: "Статика. Условия равновесия тел".

<i>Оценка</i>	<i>Показатели оценки</i>

5	<ol style="list-style-type: none"> <li>1. Показывает верное понимание физической сущности рассматриваемых явлений и закономерностей, законов и теорий, дает точное определение и истолкование основных понятий, законов, теорий.</li> <li>2. Дает правильное определение физических величин, их единиц и способов измерения.</li> <li>3. Правильно выполняет чертежи, схемы и графики.</li> <li>4. Сопровождает рассказ новыми примерами.</li> </ol>
4	<p>Ответ удовлетворяет основным требованиям к ответу на оценку 5, но:</p> <ol style="list-style-type: none"> <li>1. Обучающийся допустил одну ошибку или не более двух недочетов и может их исправить самостоятельно или с небольшой помощью преподавателя.</li> <li>2. Ответ дан без использования новых примеров</li> </ol>
3	<p>Обучающийся правильно понимает физическую сущность рассматриваемых явлений и закономерностей, но:</p> <ol style="list-style-type: none"> <li>1. В его ответе, имеются отдельные пробелы в усвоении вопросов курса физики, не препятствующие дальнейшему усвоению программного материала.</li> <li>2. Обучающийся может допустить не более одной грубой ошибки и двух недочетов; или не более одной грубой ошибки и не более двух-трех негрубых ошибок; или одной негрубой ошибки и трех недочетов; или четырех или пяти недочетов.</li> </ol>

**Предметный результат:** 3.4 сформированность умения решать физические задачи;

**Занятие(-я):**

2.2.9.Контрольная работа по теме "Динамика".

2.3.5.Обобщение по теме «Законы сохранения».

2.3.6.Подготовка к контрольной работе по теме "Законы сохранения".

**Задание №1**

Решите задачу: С какой начальной скоростью  $v_0$  надо бросить мяч вниз с высоты 20 м, чтобы он подпрыгнул на высоту 40 м? Считать удар о земля абсолютно упругим, ускорение свободного падения принять равным  $10 \text{ м/с}^2$ .

<i>Оценка</i>	<i>Показатели оценки</i>
---------------	--------------------------

5	<p>Приведено полное правильное решение, включающее следующие элементы:</p> <ol style="list-style-type: none"> <li>1) верно записано краткое условие задачи;</li> <li>2) записаны уравнения и формулы, применение которых необходимо и достаточно для решения задачи выбранным способом;</li> <li>3) выполнены необходимые математические преобразования и расчеты, приводящие к правильному числовому ответу, и представлен ответ. При этом допускается решение "по частям" (с промежуточными вычислениями).</li> </ol>
4	<p>Правильно записаны необходимые формулы, проведены вычисления, и получен ответ (верный или неверный), но допущена ошибка в записи краткого условия или переводе единиц в СИ.</p> <p>ИЛИ</p> <p>Представлено правильное решение только в общем виде, без каких-либо числовых расчетов.</p> <p>ИЛИ</p> <p>Записаны уравнения и формулы, применение которых необходимо и достаточно для решения задачи выбранным способом, но в математических преобразованиях или вычислениях допущена ошибка.</p>
3	<p>Записаны и использованы не все исходные формулы, необходимые для решения задачи.</p> <p>ИЛИ</p> <p>Записаны все исходные формулы, но в <b>ОДНОЙ</b> из них допущена ошибка.</p>

### Задание №2

Решите задачу: Пуля массой 10 г, летящая горизонтально со скоростью 300 м/с, ударяется в подвешенный на нитях деревянный брусок массой 6 кг и застревает в нем. Определить высоту, на которую поднимется брусок. (Ответ дать в см.)

<i>Оценка</i>	<i>Показатели оценки</i>

5	<p>Приведено полное правильное решение, включающее следующие элементы:</p> <p>1) верно записано краткое условие задачи;</p> <p>2) записаны уравнения и формулы, применение которых необходимо и достаточно для решения задачи выбранным способом;</p> <p>3) выполнены необходимые математические преобразования и расчеты, приводящие к правильному числовому ответу, и представлен ответ. При этом допускается решение "по частям" (с промежуточными вычислениями).</p>
4	<p>Правильно записаны необходимые формулы, проведены вычисления, и получен ответ (верный или неверный), но допущена ошибка в записи краткого условия или переводе единиц в СИ.</p> <p>ИЛИ</p> <p>Представлено правильное решение только в общем виде, без каких-либо числовых расчетов.</p> <p>ИЛИ</p> <p>Записаны уравнения и формулы, применение которых необходимо и достаточно для решения задачи выбранным способом, но в математических преобразованиях или вычислениях допущена ошибка.</p>
3	<p>Записаны и использованы не все исходные формулы, необходимые для решения задачи.</p> <p>ИЛИ</p> <p>Записаны все исходные формулы, но в <b>ОДНОЙ</b> из них допущена ошибка.</p>

**Предметный результат:** 3.2 владение основополагающими физическими понятиями, закономерностями, законами и теориями; уверенное пользование физической терминологией и символикой;

**Занятие(-я):**

2.3.1. Законы сохранения как фундаментальные законы природы. Импульс тела, импульс силы. Второй закон Ньютона в импульсной форме (закон изменения импульса). Закон сохранения импульса. Реактивное движение.

2.3.2. Механическая работа и мощность. Мгновенная и средняя мощность. КПД.

2.3.3. Механическая энергия. Теорема о кинетической и потенциальной энергии. Консервативные силы. Закон сохранения энергии в механике.

2.3.4. Элементы статики. Момент силы. Правило моментов. "Золотое правило" механики.

### Задание №1

Сформулируйте определение термина «импульс», укажите синоним и символьное обозначение.

<i>Оценка</i>	<i>Показатели оценки</i>
5	Представлено верное определение, верно указаны синоним и символьное обозначение.
4	Представлено определение, но имеются замечания; верно указаны синоним и символьное обозначение. ИЛИ Представлено верное определение, но допущены ошибки в представлении синонима или символьного обозначения.
3	Представлено определение, но имеются замечания; не указаны символьное обозначение и синоним.

### Задание №2

Сформулируйте определение термина «энергия», укажите синоним и единицу измерения.

<i>Оценка</i>	<i>Показатели оценки</i>
5	Представлено верное определение, верно указаны синоним и единица измерения.
4	Представлено определение, но имеются замечания; верно указаны синоним и единица измерения. ИЛИ Представлено верное определение, но допущены ошибки в представлении синонима или единицы измерения.
3	Представлено определение, но имеются замечания; не указаны единица измерения и синоним.

**Предметный результат:** 3.3 владение основными методами научного познания, используемыми в физике: наблюдение, описание, измерение, эксперимент; умения обрабатывать результаты измерений, обнаруживать зависимость между физическими величинами, объяснять полученные результаты и делать выводы;

#### **Занятие(-я):**

1.1.3. Погрешности прямых и косвенных измерений. Методы расчета погрешностей.

2.1.1. Основные понятия кинематики. Равномерное прямолинейное движение (РПД).

2.1.5. Обобщение по теме "Кинематика".

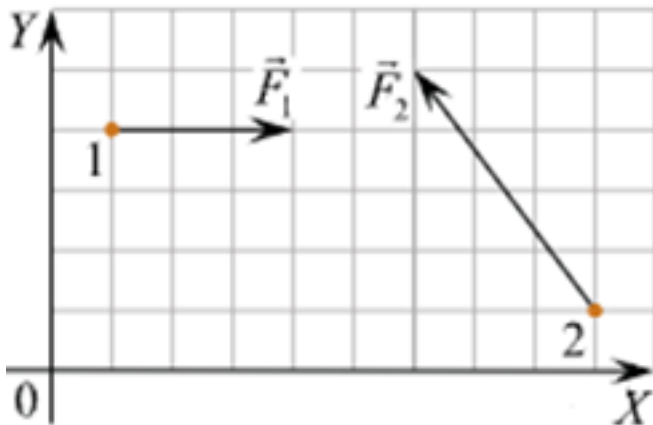


2.2.4.Определение модуля Юнга.

2.2.7.Обобщение по теме «Динамика».

### Задание №1

Решите задачу: Тела 1 и 2 находятся на гладкой горизонтальной плоскости (см. рис., вид сверху). На них одновременно начинают действовать постоянные силы, равные, соответственно,  $F_1 = 3$  Н и  $F_2$ . Чему равно изменение проекции импульса системы этих тел на ось  $OX$  за первые две секунды? (Ответ дайте в килограммах на метр в секунду.)

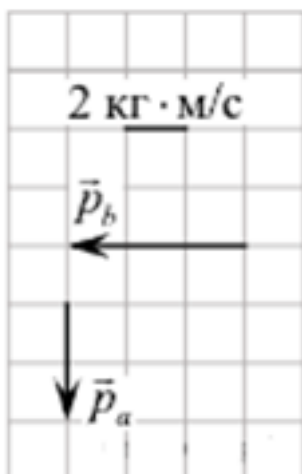


Оценка	Показатели оценки
5	Приведено полное правильное решение, включающее следующие элементы: 1) верно записано краткое условие задачи; 2) записаны уравнения и формулы, применение которых необходимо и достаточно для решения задачи выбранным способом; 3) выполнены необходимые математические преобразования и расчеты, приводящие к правильному числовому ответу, и представлен ответ. При этом допускается решение "по частям" (с промежуточными вычислениями).

4	<p>Правильно записаны необходимые формулы, проведены вычисления, и получен ответ (верный или неверный), но допущена ошибка в записи краткого условия или переводе единиц в СИ.</p> <p>ИЛИ</p> <p>Представлено правильное решение только в общем виде, без каких-либо числовых расчетов.</p> <p>ИЛИ</p> <p>Записаны уравнения и формулы, применение которых необходимо и достаточно для решения задачи выбранным способом, но в математических преобразованиях или вычислениях допущена ошибка.</p>
3	<p>Записаны и использованы не все исходные формулы, необходимые для решения задачи.</p> <p>ИЛИ</p> <p>Записаны все исходные формулы, но в <b>ОДНОЙ</b> из них допущена ошибка.</p>

### Задание №2

Решите задачу: Система состоит из двух тел  $a$  и  $b$ . На рисунке стрелками в заданном масштабе указаны импульсы этих тел. Чему по модулю равен импульс всей системы? Ответ выразите в килограммах на метр в секунду и округлите до десятых.



Оценка	Показатели оценки

5	<p>Приведено полное правильное решение, включающее следующие элементы:</p> <p>1) верно записано краткое условие задачи;</p> <p>2) записаны уравнения и формулы, применение которых необходимо и достаточно для решения задачи выбранным способом;</p> <p>3) выполнены необходимые математические преобразования и расчеты, приводящие к правильному числовому ответу, и представлен ответ. При этом допускается решение "по частям" (с промежуточными вычислениями).</p>
4	<p>Правильно записаны необходимые формулы, проведены вычисления, и получен ответ (верный или неверный), но допущена ошибка в записи краткого условия или переводе единиц в СИ.</p> <p>ИЛИ</p> <p>Представлено правильное решение только в общем виде, без каких-либо числовых расчетов.</p> <p>ИЛИ</p> <p>Записаны уравнения и формулы, применение которых необходимо и достаточно для решения задачи выбранным способом, но в математических преобразованиях или вычислениях допущена ошибка.</p>
3	<p>Записаны и использованы не все исходные формулы, необходимые для решения задачи.</p> <p>ИЛИ</p> <p>Записаны все исходные формулы, но в <b>ОДНОЙ</b> из них допущена ошибка.</p>

#### 2.4 Текущий контроль (ТК) № 4

**Тема занятия:** 3.3.5. Контрольная работа по теме "МКТ И ТД".

**Метод и форма контроля:** Контрольная работа (Опрос)

**Вид контроля:** Письменная контрольная работа

**Предметный результат:** 3.1 сформированность представлений о роли и месте физики в современной научной картине мира; понимание физической сущности наблюдаемых во Вселенной явлений; понимание роли физики в формировании кругозора и функциональной грамотности человека для решения практических задач;

**Занятие(-я):**

3.1.1. Основные положения МКТ, их опытное обоснование. Характеристики микро- и макротел

3.1.3. Экспериментальные газовые законы (Дальтона, Авогадро, Бойля-Мариотта, Гей-Люссака, Шарля). Изопрцессы.

3.2.1. Агрегатные состояния и фазовые переходы. Насыщенный пар и его свойства. Абсолютная и относительная влажность воздуха.

3.2.3. Модель строения жидкости. Поверхностное натяжение. Смачивание. Капиллярные явления.

3.2.5. Модель строения твердого тела. Кристаллы и аморфные тела, их физические свойства. Тепловое расширение твердых тел.

3.3.3. Второе начало термодинамики. Принцип действия тепловой машины. Цикл Карно. КПД цикла Карно.

### Задание №1

Сформулируйте развернутый ответ на вопрос "Основные положения МКТ. Основное уравнение МКТ. Температура".

<i>Оценка</i>	<i>Показатели оценки</i>
5	<ol style="list-style-type: none"><li>1. Показывает верное понимание физической сущности рассматриваемых явлений и закономерностей, законов и теорий, дает точное определение и истолкование основных понятий, законов, теорий.</li><li>2. Дает правильное определение физических величин, их единиц и способов измерения.</li><li>3. Правильно выполняет чертежи, схемы и графики.</li><li>4. Сопровождает рассказ новыми примерами.</li></ol>
4	<p>Ответ удовлетворяет основным требованиям к ответу на оценку 5, но:</p> <ol style="list-style-type: none"><li>1. Обучающийся допустил одну ошибку или не более двух недочетов и может их исправить самостоятельно или с небольшой помощью преподавателя.</li><li>2. Ответ дан без использования новых примеров.</li></ol>

3	<p>Обучающийся правильно понимает физическую сущность рассматриваемых явлений и закономерностей, но:</p> <ol style="list-style-type: none"> <li>1. В его ответе, имеются отдельные пробелы в усвоении вопросов курса физики, не препятствующие дальнейшему усвоению программного материала.</li> <li>2. Обучающийся может допустить не более одной грубой ошибки и двух недочетов; или не более одной грубой ошибки и не более двух-трех негрубых ошибок; или одной негрубой ошибки и трех недочетов; или четырех или пяти недочетов.</li> </ol>
---	--

### Задание №2

Сформулируйте развернутый ответ на вопрос "Изопрцессы в газах и законы, описывающие их".

<i>Оценка</i>	<i>Показатели оценки</i>
5	<ol style="list-style-type: none"> <li>1. Показывает верное понимание физической сущности рассматриваемых явлений и закономерностей, законов и теорий, дает точное определение и истолкование основных понятий, законов, теорий.</li> <li>2. Дает правильное определение физических величин, их единиц и способов измерения.</li> <li>3. Правильно выполняет чертежи, схемы и графики.</li> <li>4. Сопровождает рассказ новыми примерами.</li> </ol>
4	<p>Ответ удовлетворяет основным требованиям к ответу на оценку 5, но:</p> <ol style="list-style-type: none"> <li>1. Обучающийся допустил одну ошибку или не более двух недочетов и может их исправить самостоятельно или с небольшой помощью преподавателя.</li> <li>2. Ответ дан без использования новых примеров.</li> </ol>

3	<p>Обучающийся правильно понимает физическую сущность рассматриваемых явлений и закономерностей, но:</p> <ol style="list-style-type: none"> <li>1. В его ответе, имеются отдельные пробелы в усвоении вопросов курса физики, не препятствующие дальнейшему усвоению программного материала.</li> <li>2. Обучающийся может допустить не более одной грубой ошибки и двух недочетов; или не более одной грубой ошибки и не более двух-трех негрубых ошибок; или одной негрубой ошибки и трех недочетов; или четырех или пяти недочетов.</li> </ol>
---	--

### Задание №3

Сформулируйте развернутый ответ на вопрос "Поверхностное натяжение жидкости. Явления смачивания и не смачивания".

<i>Оценка</i>	<i>Показатели оценки</i>
5	<ol style="list-style-type: none"> <li>1. Показывает верное понимание физической сущности рассматриваемых явлений и закономерностей, законов и теорий, дает точное определение и истолкование основных понятий, законов, теорий.</li> <li>2. Дает правильное определение физических величин, их единиц и способов измерения.</li> <li>3. Правильно выполняет чертежи, схемы и графики.</li> <li>4. Сопровождает рассказ новыми примерами.</li> </ol>
4	<p>Ответ удовлетворяет основным требованиям к ответу на оценку 5, но:</p> <ol style="list-style-type: none"> <li>1. Обучающийся допустил одну ошибку или не более двух недочетов и может их исправить самостоятельно или с небольшой помощью преподавателя.</li> <li>2. Ответ дан без использования новых примеров.</li> </ol>

3	<p>Обучающийся правильно понимает физическую сущность рассматриваемых явлений и закономерностей, но:</p> <ol style="list-style-type: none"> <li>1. В его ответе, имеются отдельные пробелы в усвоении вопросов курса физики, не препятствующие дальнейшему усвоению программного материала.</li> <li>2. Обучающийся может допустить не более одной грубой ошибки и двух недочетов; или не более одной грубой ошибки и не более двух-трех негрубых ошибок; или одной негрубой ошибки и трех недочетов; или четырех или пяти недочетов.</li> </ol>
---	--

#### Задание №4

Сформулируйте развернутый ответ на вопрос: Понятия кристаллического и аморфного тел. Виды кристаллических решеток. Плавление и кристаллизация твердых тел.

<i>Оценка</i>	<i>Показатели оценки</i>
5	<ol style="list-style-type: none"> <li>1. Показывает верное понимание физической сущности рассматриваемых явлений и закономерностей, законов и теорий, дает точное определение и истолкование основных понятий, законов, теорий.</li> <li>2. Дает правильное определение физических величин, их единиц и способов измерения.</li> <li>3. Правильно выполняет чертежи, схемы и графики.</li> <li>4. Сопровождает рассказ новыми примерами.</li> </ol>
4	<p>Ответ удовлетворяет основным требованиям к ответу на оценку 5, но:</p> <ol style="list-style-type: none"> <li>1. Обучающийся допустил одну ошибку или не более двух недочетов и может их исправить самостоятельно или с небольшой помощью преподавателя.</li> <li>2. Ответ дан без использования новых примеров.</li> </ol>

3	<p>Обучающийся правильно понимает физическую сущность рассматриваемых явлений и закономерностей, но:</p> <ol style="list-style-type: none"> <li>1. В его ответе, имеются отдельные пробелы в усвоении вопросов курса физики, не препятствующие дальнейшему усвоению программного материала.</li> <li>2. Обучающийся может допустить не более одной грубой ошибки и двух недочетов; или не более одной грубой ошибки и не более двух-трех негрубых ошибок; или одной негрубой ошибки и трех недочетов; или четырех или пяти недочетов.</li> </ol>
---	--

**Предметный результат:** 3.4 сформированность умения решать физические задачи;

**Занятие(-я):**

2.3.7. Контрольная работа по теме "Законы сохранения".

3.1.3. Экспериментальные газовые законы (Дальтона, Авогадро, Бойля-Мариотта, Гей-Люссака, Шарля). Изопроцессы.

3.1.5. Обобщение по теме «Основы МКТ».

3.2.2. Измерение относительной влажности воздуха.

3.2.3. Модель строения жидкости. Поверхностное натяжение. Смачивание. Капиллярные явления.

3.2.6. Решение графических и аналитических задач по теме "МКТ" и "Агрегатные состояния вещества".

3.2.7. Обобщение по теме «Агрегатные состояния и фазовые переходы».

3.3.4. Подготовка к контрольной работе по теме "МКТ и ТД".

**Задание №1**

Решите задачу: При увеличении абсолютной температуры идеального газа в 3 раза давление газа увеличилось на 25%. Во сколько раз при этом изменился объем?

<i>Оценка</i>	<i>Показатели оценки</i>



5	<p>Приведено полное правильное решение, включающее следующие элементы:</p> <ol style="list-style-type: none"> <li>1) верно записано краткое условие задачи;</li> <li>2) записаны уравнения и формулы, применение которых необходимо и достаточно для решения задачи выбранным способом;</li> <li>3) выполнены необходимые математические преобразования и расчеты, приводящие к правильному числовому ответу, и представлен ответ. При этом допускается решение "по частям" (с промежуточными вычислениями).</li> </ol>
4	<p>Правильно записаны необходимые формулы, проведены вычисления, и получен ответ (верный или неверный), но допущена ошибка в записи краткого условия или переводе единиц в СИ.</p> <p>ИЛИ</p> <p>Представлено правильное решение только в общем виде, без каких-либо числовых расчетов.</p> <p>ИЛИ</p> <p>Записаны уравнения и формулы, применение которых необходимо и достаточно для решения задачи выбранным способом, но в математических преобразованиях или вычислениях допущена ошибка.</p>
3	<p>Записаны и использованы не все исходные формулы, необходимые для решения задачи.</p> <p>ИЛИ</p> <p>Записаны все исходные формулы, но в <b>ОДНОЙ</b> из них допущена ошибка.</p>

### Задание №2

Решите задачу: В цилиндре под поршнем при комнатной температуре находится 1,6 кг кислорода. Какое количество теплоты при изобарном процессе нужно сообщить газу чтобы повысить его температуру на 4 °С? (Ответ выразить в кДж и округлить до целых.)

<i>Оценка</i>	<i>Показатели оценки</i>

5	<p>Приведено полное правильное решение, включающее следующие элементы:</p> <ol style="list-style-type: none"> <li>1) верно записано краткое условие задачи;</li> <li>2) записаны уравнения и формулы, применение которых необходимо и достаточно для решения задачи выбранным способом;</li> <li>3) выполнены необходимые математические преобразования и расчеты, приводящие к правильному числовому ответу, и представлен ответ. При этом допускается решение "по частям" (с промежуточными вычислениями).</li> </ol>
4	<p>Правильно записаны необходимые формулы, проведены вычисления, и получен ответ (верный или неверный), но допущена ошибка в записи краткого условия или переводе единиц в СИ.</p> <p>ИЛИ</p> <p>Представлено правильное решение только в общем виде, без каких-либо числовых расчетов.</p> <p>ИЛИ</p> <p>Записаны уравнения и формулы, применение которых необходимо и достаточно для решения задачи выбранным способом, но в математических преобразованиях или вычислениях допущена ошибка.</p>
3	<p>Записаны и использованы не все исходные формулы, необходимые для решения задачи.</p> <p>ИЛИ</p> <p>Записаны все исходные формулы, но в <b>ОДНОЙ</b> из них допущена ошибка.</p>

### Задание №3

Решите задачу: В баллоне находится газ при температуре  $27\text{ }^{\circ}\text{C}$ . Во сколько раз уменьшится давление газа, если 40% его выйдет из баллона, а температура при этом понизится на  $8\text{ }^{\circ}\text{C}$ ? (Ответ округлить до десятых.)

<i>Оценка</i>	<i>Показатели оценки</i>

5	<p>Приведено полное правильное решение, включающее следующие элементы:</p> <ol style="list-style-type: none"> <li>1) верно записано краткое условие задачи;</li> <li>2) записаны уравнения и формулы, применение которых необходимо и достаточно для решения задачи выбранным способом;</li> <li>3) выполнены необходимые математические преобразования и расчеты, приводящие к правильному числовому ответу, и представлен ответ. При этом допускается решение "по частям" (с промежуточными вычислениями).</li> </ol>
4	<p>Правильно записаны необходимые формулы, проведены вычисления, и получен ответ (верный или неверный), но допущена ошибка в записи краткого условия или переводе единиц в СИ.</p> <p>ИЛИ</p> <p>Представлено правильное решение только в общем виде, без каких-либо числовых расчетов.</p> <p>ИЛИ</p> <p>Записаны уравнения и формулы, применение которых необходимо и достаточно для решения задачи выбранным способом, но в математических преобразованиях или вычислениях допущена ошибка.</p>
3	<p>Записаны и использованы не все исходные формулы, необходимые для решения задачи.</p> <p>ИЛИ</p> <p>Записаны все исходные формулы, но в <b>ОДНОЙ</b> из них допущена ошибка.</p>

#### Задание №4

Решите задачу: Найдите изменение температуры 2 молей одноатомного идеального газа при постоянном давлении, вызванное сообщением этому газу количества теплоты  $Q=1660$  Дж. (Ответ округлить до целого значения.)

<i>Оценка</i>	<i>Показатели оценки</i>

5	<p>Приведено полное правильное решение, включающее следующие элементы:</p> <p>1) верно записано краткое условие задачи;</p> <p>2) записаны уравнения и формулы, применение которых необходимо и достаточно для решения задачи выбранным способом;</p> <p>3) выполнены необходимые математические преобразования и расчеты, приводящие к правильному числовому ответу, и представлен ответ. При этом допускается решение "по частям" (с промежуточными вычислениями).</p>
4	<p>Правильно записаны необходимые формулы, проведены вычисления, и получен ответ (верный или неверный), но допущена ошибка в записи краткого условия или переводе единиц в СИ.</p> <p>ИЛИ</p> <p>Представлено правильное решение только в общем виде, без каких-либо числовых расчетов.</p> <p>ИЛИ</p> <p>Записаны уравнения и формулы, применение которых необходимо и достаточно для решения задачи выбранным способом, но в математических преобразованиях или вычислениях допущена ошибка.</p>
3	<p>Записаны и использованы не все исходные формулы, необходимые для решения задачи.</p> <p>ИЛИ</p> <p>Записаны все исходные формулы, но в <b>ОДНОЙ</b> из них допущена ошибка.</p>

**Предметный результат:** 3.3 владение основными методами научного познания, используемыми в физике: наблюдение, описание, измерение, эксперимент; умения обрабатывать результаты измерений, обнаруживать зависимость между физическими величинами, объяснять полученные результаты и делать выводы;

**Занятие(-я):**

3.1.4.Изучение изопрцессов.

3.1.5.Обобщение по теме «Основы МКТ».

3.2.2.Измерение относительной влажности воздуха.

3.2.4.Измерение коэффициента поверхностного натяжения жидкости.

3.2.7.Обобщение по теме «Агрегатные состояния и фазовые переходы».

**Задание №1**

Решите задачу: В ходе измерения коэффициента поверхностного натяжения

жидкости были получены следующие прямые измерения (таблица). Рассчитайте коэффициент поверхностного натяжения воды и запишите результат в виде доверительного интервала. Проанализируйте доверительный интервал.

№ опыта	m, кг	n	d, м	$\sigma$ , Н/м	$\sigma_{\text{ср}}$ , Н/м	$\sigma_{\text{таб}}$ , Н/м	$\delta$ %
1	$1 \cdot 10^{-3}$	21	$2,5 \cdot 10^{-3}$			0,072	
2	$2 \cdot 10^{-3}$	40	$2,5 \cdot 10^{-3}$			0,072	
3	$3 \cdot 10^{-3}$	59	$2,5 \cdot 10^{-3}$			0,072	

Оценка	Показатели оценки
5	<p>Приведено полное правильное решение, включающее следующие элементы:</p> <p>1) верно записано краткое условие задачи;</p> <p>2) записаны уравнения и формулы, применение которых необходимо и достаточно для решения задачи выбранным способом;</p> <p>3) выполнены необходимые математические преобразования и расчеты, приводящие к правильному числовому ответу, и представлен ответ. При этом допускается решение "по частям" (с промежуточными вычислениями).</p>
4	<p>Правильно записаны необходимые формулы, проведены вычисления, и получен ответ (верный или неверный), но допущена ошибка в записи краткого условия или переводе единиц в СИ.</p> <p>ИЛИ</p> <p>Представлено правильное решение только в общем виде, без каких-либо числовых расчетов.</p> <p>ИЛИ</p> <p>Записаны уравнения и формулы, применение которых необходимо и достаточно для решения задачи выбранным способом, но в математических преобразованиях или вычислениях допущена ошибка.</p>
3	<p>Записаны и использованы не все исходные формулы, необходимые для решения задачи.</p> <p>ИЛИ</p> <p>Записаны все исходные формулы, но в <b>ОДНОЙ</b> из них допущена ошибка.</p>

### Задание №2

Решите задачу: В ходе измерения влажности воздуха были получены следующие прямые измерения (таблица). Рассчитайте влажность воздуха и запишите результат в виде доверительного интервала. Проанализируйте доверительный интервал.

№ опыта	$t_{\text{сухого}}, ^\circ\text{C}$	$t_{\text{влажного}}, ^\circ\text{C}$	$\Delta t, ^\circ\text{C}$	$\varphi, \%$
1	24	21		

<i>Оценка</i>	<i>Показатели оценки</i>
5	Приведено полное правильное решение, включающее следующие элементы: 1) верно записано краткое условие задачи; 2) записаны уравнения и формулы, применение которых необходимо и достаточно для решения задачи выбранным способом; 3) выполнены необходимые математические преобразования и расчеты, приводящие к правильному числовому ответу, и представлен ответ. При этом допускается решение "по частям" (с промежуточными вычислениями).
4	Правильно записаны необходимые формулы, проведены вычисления, и получен ответ (верный или неверный), но допущена ошибка в записи краткого условия или переводе единиц в СИ. ИЛИ Представлено правильное решение только в общем виде, без каких-либо числовых расчетов. ИЛИ Записаны уравнения и формулы, применение которых необходимо и достаточно для решения задачи выбранным способом, но в математических преобразованиях или вычислениях допущена ошибка.
3	Записаны и использованы не все исходные формулы, необходимые для решения задачи. ИЛИ Записаны все исходные формулы, но в <b>ОДНОЙ</b> из них допущена ошибка.

**Предметный результат:** 3.2 владение основополагающими физическими понятиями, закономерностями, законами и теориями; уверенное пользование физической терминологией и символикой;

**Занятие(-я):**

3.1.1. Основные положения МКТ, их опытное обоснование. Характеристики микро- и макротел

3.1.2. Основное уравнение МКТ, его физический смысл. Температура и методы ее измерения.

3.3.1. Внутренняя энергия, способы ее изменения. Внутренняя энергия идеального

газа. Работа при изменении объема газа. Расчет количества теплоты.

3.3.2. Первый закон термодинамики. Применение первого закона термодинамики к изопроцессом.

### Задание №1

Сформулируйте определение термина «температура», укажите синоним и единицу измерения.

<i>Оценка</i>	<i>Показатели оценки</i>
5	Представлено верное определение, верно указаны синоним и единица измерения.
4	Представлено определение, но имеются замечания; верно указаны синоним и единица измерения. ИЛИ Представлено верное определение, но допущены ошибки в представлении синонима или единицы измерения.
3	Представлено определение, но имеются замечания; не указаны единица измерения и синоним.

### Задание №2

Сформулируйте определение термина «молекула», укажите его синоним.

<i>Оценка</i>	<i>Показатели оценки</i>
5	Представлено верное определение, верно указан синоним.
4	Представлено определение, но имеются замечания; верно указан синоним. ИЛИ Представлено верное определение, но допущена ошибка в представлении синонима.
3	Представлено определение, но имеются замечания; не указан синоним.

## 2.5 Текущий контроль (ТК) № 5

**Тема занятия:** 4.5.2. Контрольная работа по теме "Основы электродинамики".

**Метод и форма контроля:** Контрольная работа (Опрос)

**Вид контроля:** Письменная контрольная работа

**Предметный результат:** 3.2 владение основополагающими физическими понятиями, закономерностями, законами и теориями; уверенное пользование физической терминологией и символикой;

### Занятие(-я):

4.1.2.Работа сил электрического поля при перемещении зарядов. Потенциал электрического поля и его свойства.

4.1.3.Емкость. Конденсаторы. Емкость плоского конденсатора. Соединение конденсаторов. Энергия электрического поля.

4.2.1.Постоянный электрический ток и его характеристики. ЭДС. Закон Ома для однородного и неоднородного участка цепи.

4.2.3.Работа и мощность тока. Закон Джоуля- Ленца. КПД источника тока.

4.3.2.Электрический ток в газах.

4.3.3.Электрический ток в полупроводниках.

4.4.1.Магнитное поле тока. Магнитная индукция. Принцип суперпозиции полей.

4.4.2.Сила Ампера. Сила Лоренца. Применение сил в быту и производстве.

4.5.1.Электромагнитная индукция. Закон электромагнитной индукции. Правило Ленца. Самоиндукция. ЭДС самоиндукции. Энергия магнитного поля.

### Задание №1

Сформулируйте определение термина «электрический ток», укажите синоним и графическое представление.

<i>Оценка</i>	<i>Показатели оценки</i>
5	Представлено верное определение, верно указаны синоним и графическое представление.
4	Представлено определение, но имеются замечания; верно указаны синоним и графическое представление. ИЛИ Представлено верное определение, но допущены ошибки в представлении синонима или графического представления.
3	Представлено определение, но имеются замечания; не указаны графическое представление и синоним.

### Задание №2

Сформулируйте определение термина «поле», укажите его синонимы.

<i>Оценка</i>	<i>Показатели оценки</i>
5	Представлено верное определение, верно указаны синонимы.
4	Представлено определение, но имеются замечания; верно указаны синонимы. ИЛИ Представлено верное определение, но допущены ошибки в представлении синонимов.



3	Представлено определение, но имеются замечания; не указаны синонимы.
---	--

**Предметный результат:** 3.4 сформированность умения решать физические задачи;

**Занятие(-я):**

3.3.5.Контрольная работа по теме "МКТ И ТД".

3.3.6.Обобщение по теме «Основы термодинамики»

4.1.2.Работа сил электрического поля при перемещении зарядов. Потенциал электрического поля и его свойства.

4.2.2.Исследование соединений потребителей. Определение удельного сопротивления проводника.

4.2.3.Работа и мощность тока. Закон Джоуля- Ленца. КПД источника тока.

4.2.4.Обобщение по теме «Законы постоянного тока».

4.4.1.Магнитное поле тока. Магнитная индукция. Принцип суперпозиции полей.

4.4.3.Устройство и принцип действия электроизмерительных приборов.

**Задание №1**

Решите задачу: Одинаковые металлические шарики, заряженные одноименно зарядами  $q$  и  $4q$ , находятся на расстоянии  $r$  друг от друга. Шарики привели в соприкосновение. На какое расстояние  $x$  надо их разнести, чтобы сила взаимодействия осталась прежней.

<i>Оценка</i>	<i>Показатели оценки</i>
5	<p>Приведено полное правильное решение, включающее следующие элементы:</p> <ol style="list-style-type: none"> <li>1) верно записано краткое условие задачи;</li> <li>2) записаны уравнения и формулы, применение которых необходимо и достаточно для решения задачи выбранным способом;</li> <li>3) выполнены необходимые математические преобразования и расчеты, приводящие к правильному числовому ответу, и представлен ответ. При этом допускается решение "по частям" (с промежуточными вычислениями).</li> </ol>

4	<p>Правильно записаны необходимые формулы, проведены вычисления, и получен ответ (верный или неверный), но допущена ошибка в записи краткого условия или переводе единиц в СИ.</p> <p>ИЛИ</p> <p>Представлено правильное решение только в общем виде, без каких-либо числовых расчетов.</p> <p>ИЛИ</p> <p>Записаны уравнения и формулы, применение которых необходимо и достаточно для решения задачи выбранным способом, но в математических преобразованиях или вычислениях допущена ошибка.</p>
3	<p>Записаны и использованы не все исходные формулы, необходимые для решения задачи.</p> <p>ИЛИ</p> <p>Записаны все исходные формулы, но в <b>ОДНОЙ</b> из них допущена ошибка.</p>

## Задание №2

Решите задачу: Конденсатор подключен к источнику тока напряжением 500 В. Какова емкость конденсатора, если энергия, выделяемая при его разряде, равна 0,8 Дж? (Ответ дать в мкФ.)

<i>Оценка</i>	<i>Показатели оценки</i>
5	<p>Приведено полное правильное решение, включающее следующие элементы:</p> <ol style="list-style-type: none"> <li>1) верно записано краткое условие задачи;</li> <li>2) записаны уравнения и формулы, применение которых необходимо и достаточно для решения задачи выбранным способом;</li> <li>3) выполнены необходимые математические преобразования и расчеты, приводящие к правильному числовому ответу, и представлен ответ. При этом допускается решение "по частям" (с промежуточными вычислениями).</li> </ol>

4	<p>Правильно записаны необходимые формулы, проведены вычисления, и получен ответ (верный или неверный), но допущена ошибка в записи краткого условия или переводе единиц в СИ.</p> <p>ИЛИ</p> <p>Представлено правильное решение только в общем виде, без каких-либо числовых расчетов.</p> <p>ИЛИ</p> <p>Записаны уравнения и формулы, применение которых необходимо и достаточно для решения задачи выбранным способом, но в математических преобразованиях или вычислениях допущена ошибка.</p>
3	<p>Записаны и использованы не все исходные формулы, необходимые для решения задачи.</p> <p>ИЛИ</p> <p>Записаны все исходные формулы, но в <b>ОДНОЙ</b> из них допущена ошибка.</p>

### Задание №3

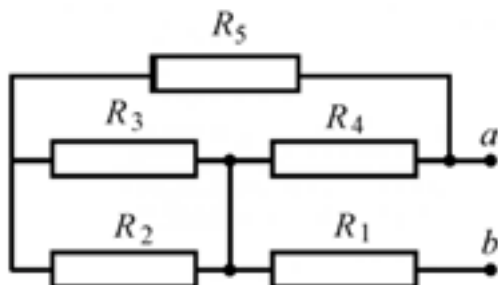
Решите задачу: При подключении к источнику тока резистора сопротивлением 5 Ом сила тока в цепи равна 1 А, а при подключении резистора сопротивлением 1 Ом сила тока оказалась равной 0,5 А. Определите ЭДС источника тока.

<i>Оценка</i>	<i>Показатели оценки</i>
5	<p>Приведено полное правильное решение, включающее следующие элементы:</p> <ol style="list-style-type: none"> <li>1) верно записано краткое условие задачи;</li> <li>2) записаны уравнения и формулы, применение которых необходимо и достаточно для решения задачи выбранным способом;</li> <li>3) выполнены необходимые математические преобразования и расчеты, приводящие к правильному числовому ответу, и представлен ответ. При этом допускается решение "по частям" (с промежуточными вычислениями).</li> </ol>

4	<p>Правильно записаны необходимые формулы, проведены вычисления, и получен ответ (верный или неверный), но допущена ошибка в записи краткого условия или переводе единиц в СИ.</p> <p>ИЛИ</p> <p>Представлено правильное решение только в общем виде, без каких-либо числовых расчетов.</p> <p>ИЛИ</p> <p>Записаны уравнения и формулы, применение которых необходимо и достаточно для решения задачи выбранным способом, но в математических преобразованиях или вычислениях допущена ошибка.</p>
3	<p>Записаны и использованы не все исходные формулы, необходимые для решения задачи.</p> <p>ИЛИ</p> <p>Записаны все исходные формулы, но в <b>ОДНОЙ</b> из них допущена ошибка.</p>

#### Задание №4

Решите задачу: Определите эквивалентное сопротивление цепи (рис.), если  $R_1=1$  Ом,  $R_2=2$  Ом,  $R_3=3$  Ом,  $R_4=4$  Ом,  $R_5=5$  Ом.



<i>Оценка</i>	<i>Показатели оценки</i>
5	<p>Приведено полное правильное решение, включающее следующие элементы:</p> <ol style="list-style-type: none"> <li>1) верно записано краткое условие задачи;</li> <li>2) записаны уравнения и формулы, применение которых необходимо и достаточно для решения задачи выбранным способом;</li> <li>3) выполнены необходимые математические преобразования и расчеты, приводящие к правильному числовому ответу, и представлен ответ. При этом допускается решение "по частям" (с промежуточными вычислениями).</li> </ol>

4	<p>Правильно записаны необходимые формулы, проведены вычисления, и получен ответ (верный или неверный), но допущена ошибка в записи краткого условия или переводе единиц в СИ.</p> <p>ИЛИ</p> <p>Представлено правильное решение только в общем виде, без каких-либо числовых расчетов.</p> <p>ИЛИ</p> <p>Записаны уравнения и формулы, применение которых необходимо и достаточно для решения задачи выбранным способом, но в математических преобразованиях или вычислениях допущена ошибка.</p>
3	<p>Записаны и использованы не все исходные формулы, необходимые для решения задачи.</p> <p>ИЛИ</p> <p>Записаны все исходные формулы, но в <b>ОДНОЙ</b> из них допущена ошибка.</p>

### Задание №5

Решите задачу: Проводник длиной 0,5 м и сопротивлением  $R=2,6$  Ом расположен в однородном магнитном поле с индукцией  $B=0,02$  Тл. Какое напряжение приложено к проводнику, если со стороны магнитного поля на него действует сила 0,02 Н? Вектор магнитной индукции составляет с проводником угол  $60^\circ$ .

<i>Оценка</i>	<i>Показатели оценки</i>
5	<p>Приведено полное правильное решение, включающее следующие элементы:</p> <ol style="list-style-type: none"> <li>1) верно записано краткое условие задачи;</li> <li>2) записаны уравнения и формулы, применение которых необходимо и достаточно для решения задачи выбранным способом;</li> <li>3) выполнены необходимые математические преобразования и расчеты, приводящие к правильному числовому ответу, и представлен ответ. При этом допускается решение "по частям" (с промежуточными вычислениями).</li> </ol>

4	<p>Правильно записаны необходимые формулы, проведены вычисления, и получен ответ (верный или неверный), но допущена ошибка в записи краткого условия или переводе единиц в СИ.</p> <p>ИЛИ</p> <p>Представлено правильное решение только в общем виде, без каких-либо числовых расчетов.</p> <p>ИЛИ</p> <p>Записаны уравнения и формулы, применение которых необходимо и достаточно для решения задачи выбранным способом, но в математических преобразованиях или вычислениях допущена ошибка.</p>
3	<p>Записаны и использованы не все исходные формулы, необходимые для решения задачи.</p> <p>ИЛИ</p> <p>Записаны все исходные формулы, но в <b>ОДНОЙ</b> из них допущена ошибка.</p>

### Задание №6

Решите задачу: Сколько витков должна иметь катушка, чтобы за 0,2 с при равномерном изменении магнитного поля внутри нее от 0,8 Тл до 0 при площади поперечного сечения катушки 0,2 дм<sup>2</sup> в ней возникла ЭДС индукции 12 В?

<i>Оценка</i>	<i>Показатели оценки</i>
5	<p>Приведено полное правильное решение, включающее следующие элементы:</p> <ol style="list-style-type: none"> <li>1) верно записано краткое условие задачи;</li> <li>2) записаны уравнения и формулы, применение которых необходимо и достаточно для решения задачи выбранным способом;</li> <li>3) выполнены необходимые математические преобразования и расчеты, приводящие к правильному числовому ответу, и представлен ответ. При этом допускается решение "по частям" (с промежуточными вычислениями).</li> </ol>

4	<p>Правильно записаны необходимые формулы, проведены вычисления, и получен ответ (верный или неверный), но допущена ошибка в записи краткого условия или переводе единиц в СИ.</p> <p>ИЛИ</p> <p>Представлено правильное решение только в общем виде, без каких-либо числовых расчетов.</p> <p>ИЛИ</p> <p>Записаны уравнения и формулы, применение которых необходимо и достаточно для решения задачи выбранным способом, но в математических преобразованиях или вычислениях допущена ошибка.</p>
3	<p>Записаны и использованы не все исходные формулы, необходимые для решения задачи.</p> <p>ИЛИ</p> <p>Записаны все исходные формулы, но в <b>ОДНОЙ</b> из них допущена ошибка.</p>

**Предметный результат:** 3.1 сформированность представлений о роли и месте физики в современной научной картине мира; понимание физической сущности наблюдаемых во Вселенной явлений; понимание роли физики в формировании кругозора и функциональной грамотности человека для решения практических задач;

**Занятие(-я):**

4.1.1. Электрический заряд и его свойства. Закон Кулона. Электростатическое поле. Напряженность поля.

4.1.3. Емкость. Конденсаторы. Емкость плоского конденсатора. Соединение конденсаторов. Энергия электрического поля.

4.2.1. Постоянный электрический ток и его характеристики. ЭДС. Закон Ома для однородного и неоднородного участка цепи.

4.3.1. Электрический ток в металлах. Электрический ток в вакууме.

4.4.2. Сила Ампера. Сила Лоренца. Применение сил в быту и производстве.

4.5.1. Электромагнитная индукция. Закон электромагнитной индукции. Правило Ленца. Самоиндукция. ЭДС самоиндукции. Энергия магнитного поля.

**Задание №1**

Сформулируйте развернутый ответ на вопрос: "Работа сил электрического поля по переносу заряда. Потенциал, разность потенциалов. Напряжение".

<i>Оценка</i>	<i>Показатели оценки</i>
---------------	--------------------------

5	<ol style="list-style-type: none"> <li>1. Показывает верное понимание физической сущности рассматриваемых явлений и закономерностей, законов и теорий, дает точное определение и истолкование основных понятий, законов, теорий</li> <li>2. Дает правильное определение физических величин, их единиц и способов измерения</li> <li>3. Правильно выполняет чертежи, схемы и графики</li> <li>4. Сопровождает рассказ новыми примерами</li> </ol>
4	<p>Ответ удовлетворяет основным требованиям к ответу на оценку 5, но:</p> <ol style="list-style-type: none"> <li>1. Обучающийся допустил одну ошибку или не более двух недочетов и может их исправить самостоятельно или с небольшой помощью преподавателя.</li> <li>2. Ответ дан без использования новых примеров.</li> </ol>
3	<p>Обучающийся правильно понимает физическую сущность рассматриваемых явлений и закономерностей, но:</p> <ol style="list-style-type: none"> <li>1. В его ответе, имеются отдельные пробелы в усвоении вопросов курса физики, не препятствующие дальнейшему усвоению программного материала.</li> <li>2. Обучающийся может допустить не более одной грубой ошибки и двух недочетов; или не более одной грубой ошибки и не более двух-трех негрубых ошибок; или одной негрубой ошибки и трех недочетов; или четырех или пяти недочетов.</li> </ol>

### Задание №2

Сформулируйте развернутый ответ на вопрос: "Конденсаторы. Электроемкость плоского конденсатора. Энергия заряженного конденсатора".

<i>Оценка</i>	<i>Показатели оценки</i>



5	<ol style="list-style-type: none"> <li>1. Показывает верное понимание физической сущности рассматриваемых явлений и закономерностей, законов и теорий, дает точное определение и истолкование основных понятий, законов, теорий</li> <li>2. Дает правильное определение физических величин, их единиц и способов измерения</li> <li>3. Правильно выполняет чертежи, схемы и графики</li> <li>4. Сопровождает рассказ новыми примерами</li> </ol>
4	<p>Ответ удовлетворяет основным требованиям к ответу на оценку 5, но:</p> <ol style="list-style-type: none"> <li>1. Обучающийся допустил одну ошибку или не более двух недочетов и может их исправить самостоятельно или с небольшой помощью преподавателя.</li> <li>2. Ответ дан без использования новых примеров.</li> </ol>
3	<p>Обучающийся правильно понимает физическую сущность рассматриваемых явлений и закономерностей, но:</p> <ol style="list-style-type: none"> <li>1. В его ответе, имеются отдельные пробелы в усвоении вопросов курса физики, не препятствующие дальнейшему усвоению программного материала.</li> <li>2. Обучающийся может допустить не более одной грубой ошибки и двух недочетов; или не более одной грубой ошибки и не более двух-трех негрубых ошибок; или одной негрубой ошибки и трех недочетов; или четырех или пяти недочетов.</li> </ol>

### Задание №3

Сформулируйте развернутый ответ на вопрос: "Э.Д.С. источника тока. Закон Ома для полной цепи".

<i>Оценка</i>	<i>Показатели оценки</i>

5	<ol style="list-style-type: none"> <li>1. Показывает верное понимание физической сущности рассматриваемых явлений и закономерностей, законов и теорий, дает точное определение и истолкование основных понятий, законов, теорий</li> <li>2. Дает правильное определение физических величин, их единиц и способов измерения</li> <li>3. Правильно выполняет чертежи, схемы и графики</li> <li>4. Сопровождает рассказ новыми примерами</li> </ol>
4	<p>Ответ удовлетворяет основным требованиям к ответу на оценку 5, но:</p> <ol style="list-style-type: none"> <li>1. Обучающийся допустил одну ошибку или не более двух недочетов и может их исправить самостоятельно или с небольшой помощью преподавателя.</li> <li>2. Ответ дан без использования новых примеров.</li> </ol>
3	<p>Обучающийся правильно понимает физическую сущность рассматриваемых явлений и закономерностей, но:</p> <ol style="list-style-type: none"> <li>1. В его ответе, имеются отдельные пробелы в усвоении вопросов курса физики, не препятствующие дальнейшему усвоению программного материала.</li> <li>2. Обучающийся может допустить не более одной грубой ошибки и двух недочетов; или не более одной грубой ошибки и не более двух-трех негрубых ошибок; или одной негрубой ошибки и трех недочетов; или четырех или пяти недочетов.</li> </ol>

#### **Задание №4**

Сформулируйте развернутый ответ на вопрос: "Электрический ток в полупроводниках. Собственная и примесная проводимости полупроводников".

<i><b>Оценка</b></i>	<i><b>Показатели оценки</b></i>

5	<ol style="list-style-type: none"> <li>1. Показывает верное понимание физической сущности рассматриваемых явлений и закономерностей, законов и теорий, дает точное определение и истолкование основных понятий, законов, теорий</li> <li>2. Дает правильное определение физических величин, их единиц и способов измерения</li> <li>3. Правильно выполняет чертежи, схемы и графики</li> <li>4. Сопровождает рассказ новыми примерами</li> </ol>
4	<p>Ответ удовлетворяет основным требованиям к ответу на оценку 5, но:</p> <ol style="list-style-type: none"> <li>1. Обучающийся допустил одну ошибку или не более двух недочетов и может их исправить самостоятельно или с небольшой помощью преподавателя.</li> <li>2. Ответ дан без использования новых примеров.</li> </ol>
3	<p>Обучающийся правильно понимает физическую сущность рассматриваемых явлений и закономерностей, но:</p> <ol style="list-style-type: none"> <li>1. В его ответе, имеются отдельные пробелы в усвоении вопросов курса физики, не препятствующие дальнейшему усвоению программного материала.</li> <li>2. Обучающийся может допустить не более одной грубой ошибки и двух недочетов; или не более одной грубой ошибки и не более двух-трех негрубых ошибок; или одной негрубой ошибки и трех недочетов; или четырех или пяти недочетов.</li> </ol>

### Задание №5

Сформулируйте развернутый ответ на вопрос: "Понятие магнитного поля. Магнитная индукция, линии магнитной индукции, их свойства".

<i>Оценка</i>	<i>Показатели оценки</i>
---------------	--------------------------

5	<ol style="list-style-type: none"> <li>1. Показывает верное понимание физической сущности рассматриваемых явлений и закономерностей, законов и теорий, дает точное определение и истолкование основных понятий, законов, теорий</li> <li>2. Дает правильное определение физических величин, их единиц и способов измерения</li> <li>3. Правильно выполняет чертежи, схемы и графики</li> <li>4. Сопровождает рассказ новыми примерами</li> </ol>
4	<p>Ответ удовлетворяет основным требованиям к ответу на оценку 5, но:</p> <ol style="list-style-type: none"> <li>1. Обучающийся допустил одну ошибку или не более двух недочетов и может их исправить самостоятельно или с небольшой помощью преподавателя.</li> <li>2. Ответ дан без использования новых примеров.</li> </ol>
3	<p>Обучающийся правильно понимает физическую сущность рассматриваемых явлений и закономерностей, но:</p> <ol style="list-style-type: none"> <li>1. В его ответе, имеются отдельные пробелы в усвоении вопросов курса физики, не препятствующие дальнейшему усвоению программного материала.</li> <li>2. Обучающийся может допустить не более одной грубой ошибки и двух недочетов; или не более одной грубой ошибки и не более двух-трех негрубых ошибок; или одной негрубой ошибки и трех недочетов; или четырех или пяти недочетов.</li> </ol>

### Задание №6

Сформулируйте развернутый ответ на вопрос: "Явление электромагнитной индукции. Опыты Фарадея. Правило Ленца. Явление самоиндукции".

<i>Оценка</i>	<i>Показатели оценки</i>

5	<ol style="list-style-type: none"> <li>1. Показывает верное понимание физической сущности рассматриваемых явлений и закономерностей, законов и теорий, дает точное определение и истолкование основных понятий, законов, теорий</li> <li>2. Дает правильное определение физических величин, их единиц и способов измерения</li> <li>3. Правильно выполняет чертежи, схемы и графики</li> <li>4. Сопровождает рассказ новыми примерами</li> </ol>
4	<p>Ответ удовлетворяет основным требованиям к ответу на оценку 5, но:</p> <ol style="list-style-type: none"> <li>1. Обучающийся допустил одну ошибку или не более двух недочетов и может их исправить самостоятельно или с небольшой помощью преподавателя.</li> <li>2. Ответ дан без использования новых примеров.</li> </ol>
3	<p>Обучающийся правильно понимает физическую сущность рассматриваемых явлений и закономерностей, но:</p> <ol style="list-style-type: none"> <li>1. В его ответе, имеются отдельные пробелы в усвоении вопросов курса физики, не препятствующие дальнейшему усвоению программного материала.</li> <li>2. Обучающийся может допустить не более одной грубой ошибки и двух недочетов; или не более одной грубой ошибки и не более двух-трех негрубых ошибок; или одной негрубой ошибки и трех недочетов; или четырех или пяти недочетов.</li> </ol>

**Предметный результат:** 3.6 сформированность собственной позиции по отношению к физической информации, получаемой из разных источников

**Занятие(-я):**

4.2.1. Постоянный электрический ток и его характеристики. ЭДС. Закон Ома для однородного и неоднородного участка цепи.

4.2.3. Работа и мощность тока. Закон Джоуля- Ленца. КПД источника тока.

4.3.2. Электрический ток в газах.

**Задание №1**

Сформулируйте развернутый ответ на вопрос: "Нить лампы накаливания со временем становится тоньше из-за испарения и распыления материала с поверхности нити. Что при этом происходит с потребляемой лампой мощностью?"

<i>Оценка</i>	<i>Показатели оценки</i>
5	Представлен правильный ответ на вопрос, и приведено достаточное обоснование, не содержащее ошибок.
4	Представлен правильный ответ на поставленный вопрос, но его обоснование не является достаточным или в нем допущено не более одной ошибки или неточности.
3	Представлены корректные рассуждения, приводящие к правильному ответу, но ответ явно не сформулирован.

### **Задание №2**

Сформулируйте развернутый ответ на вопрос: "Почему при пропускании электрического тока проводник нагревается?"

<i>Оценка</i>	<i>Показатели оценки</i>
5	Представлен правильный ответ на вопрос, и приведено достаточное обоснование, не содержащее ошибок
4	Представлен правильный ответ на поставленный вопрос, но его обоснование не является достаточным или в нем допущено не более одной ошибки или неточности.
3	Представлены корректные рассуждения, приводящие к правильному ответу, но ответ явно не сформулирован.

## **2.6 Текущий контроль (ТК) № 6**

**Тема занятия:** 5.2.7. Контрольная работа по разделу "Колебания и волны".

**Метод и форма контроля:** Контрольная работа (Опрос)

**Вид контроля:** Письменная контрольная работа

**Предметный результат:** 3.1 сформированность представлений о роли и месте физики в современной научной картине мира; понимание физической сущности наблюдаемых во Вселенной явлений; понимание роли физики в формировании кругозора и функциональной грамотности человека для решения практических задач;

**Занятие(-я):**

5.1.1. Механические колебания. Основные характеристики, уравнения и графики гармонических колебаний.

5.2.3. Производство и передача электроэнергии.

### **Задание №1**

Сформулируйте развернутый ответ на вопрос "Механические колебания. Параметры колебательного движения. Уравнение гармонического колебания".

<i>Оценка</i>	<i>Показатели оценки</i>
5	<ol style="list-style-type: none"> <li>1. Показывает верное понимание физической сущности рассматриваемых явлений и закономерностей, законов и теорий, дает точное определение и истолкование основных понятий, законов, теорий.</li> <li>2. Дает правильное определение физических величин, их единиц и способов измерения.</li> <li>3. Правильно выполняет чертежи, схемы и графики.</li> <li>4. Сопровождает рассказ новыми примерами.</li> </ol>
4	<p>Ответ удовлетворяет основным требованиям к ответу на оценку 5, но:</p> <ol style="list-style-type: none"> <li>1. Обучающийся допустил одну ошибку или не более двух недочетов и может их исправить самостоятельно или с небольшой помощью преподавателя.</li> <li>2. Ответ дан без использования новых примеров.</li> </ol>
3	<p>Обучающийся правильно понимает физическую сущность рассматриваемых явлений и закономерностей, но:</p> <ol style="list-style-type: none"> <li>1. В ответе имеются отдельные пробелы в усвоении вопросов курса физики, не препятствующие дальнейшему усвоению программного материала.</li> <li>2. Обучающийся может допустить не более одной грубой ошибки и двух недочетов; или не более одной грубой ошибки и не более двух-трех негрубых ошибок; или одной негрубой ошибки и трех недочетов; или четырех или пяти недочетов.</li> </ol>

### **Задание №2**

Сформулируйте развернутый ответ на вопрос "Механические волны и их характеристики".

<i>Оценка</i>	<i>Показатели оценки</i>

5	<ol style="list-style-type: none"> <li>1. Показывает верное понимание физической сущности рассматриваемых явлений и закономерностей, законов и теорий, дает точное определение и истолкование основных понятий, законов, теорий.</li> <li>2. Дает правильное определение физических величин, их единиц и способов измерения.</li> <li>3. Правильно выполняет чертежи, схемы и графики.</li> <li>4. Сопровождает рассказ новыми примерами.</li> </ol>
4	<p>Ответ удовлетворяет основным требованиям к ответу на оценку 5, но:</p> <ol style="list-style-type: none"> <li>1. Обучающийся допустил одну ошибку или не более двух недочетов и может их исправить самостоятельно или с небольшой помощью преподавателя.</li> <li>2. Ответ дан без использования новых примеров.</li> </ol>
3	<p>Обучающийся правильно понимает физическую сущность рассматриваемых явлений и закономерностей, но:</p> <ol style="list-style-type: none"> <li>1. В ответе имеются отдельные пробелы в усвоении вопросов курса физики, не препятствующие дальнейшему усвоению программного материала.</li> <li>2. Обучающийся может допустить не более одной грубой ошибки и двух недочетов; или не более одной грубой ошибки и не более двух-трех негрубых ошибок; или одной негрубой ошибки и трех недочетов; или четырех или пяти недочетов.</li> </ol>

### Задание №3

Сформулируйте развернутый ответ на вопрос "Переменный ток, его получение и параметры. Закон Ома для цепи переменного тока".

<i>Оценка</i>	<i>Показатели оценки</i>



5	<ol style="list-style-type: none"> <li>1. Показывает верное понимание физической сущности рассматриваемых явлений и закономерностей, законов и теорий, дает точное определение и истолкование основных понятий, законов, теорий.</li> <li>2. Дает правильное определение физических величин, их единиц и способов измерения.</li> <li>3. Правильно выполняет чертежи, схемы и графики.</li> <li>4. Сопровождает рассказ новыми примерами.</li> </ol>
4	<p>Ответ удовлетворяет основным требованиям к ответу на оценку 5, но:</p> <ol style="list-style-type: none"> <li>1. Обучающийся допустил одну ошибку или не более двух недочетов и может их исправить самостоятельно или с небольшой помощью преподавателя.</li> <li>2. Ответ дан без использования новых примеров.</li> </ol>
3	<p>Обучающийся правильно понимает физическую сущность рассматриваемых явлений и закономерностей, но:</p> <ol style="list-style-type: none"> <li>1. В ответе имеются отдельные пробелы в усвоении вопросов курса физики, не препятствующие дальнейшему усвоению программного материала.</li> <li>1. Обучающийся может допустить не более одной грубой ошибки и двух недочетов; или не более одной грубой ошибки и не более двух-трех негрубых ошибок; или одной негрубой ошибки и трех недочетов; или четырех или пяти недочетов.</li> </ol>

#### **Задание №4**

Сформулируйте развернутый ответ на вопрос "Эlectромагнитное поле и его распространение в пространстве в виде электромагнитных волн".

<i>Оценка</i>	<i>Показатели оценки</i>
---------------	--------------------------

5	<ol style="list-style-type: none"> <li>1. Показывает верное понимание физической сущности рассматриваемых явлений и закономерностей, законов и теорий, дает точное определение и истолкование основных понятий, законов, теорий.</li> <li>2. Дает правильное определение физических величин, их единиц и способов измерения.</li> <li>3. Правильно выполняет чертежи, схемы и графики.</li> <li>4. Сопровождает рассказ новыми примерами.</li> </ol>
4	<p>Ответ удовлетворяет основным требованиям к ответу на оценку 5, но:</p> <ol style="list-style-type: none"> <li>1. Обучающийся допустил одну ошибку или не более двух недочетов и может их исправить самостоятельно или с небольшой помощью преподавателя.</li> <li>2. Ответ дан без использования новых примеров.</li> </ol>
3	<p>Обучающийся правильно понимает физическую сущность рассматриваемых явлений и закономерностей, но:</p> <ol style="list-style-type: none"> <li>1. В ответе имеются отдельные пробелы в усвоении вопросов курса физики, не препятствующие дальнейшему усвоению программного материала.</li> <li>1. Обучающийся может допустить не более одной грубой ошибки и двух недочетов; или не более одной грубой ошибки и не более двух-трех негрубых ошибок; или одной негрубой ошибки и трех недочетов; или четырех или пяти недочетов.</li> </ol>

**Предметный результат:** 3.3 владение основными методами научного познания, используемыми в физике: наблюдение, описание, измерение, эксперимент; умения обрабатывать результаты измерений, обнаруживать зависимость между физическими величинами, объяснять полученные результаты и делать выводы;

**Занятие(-я):**

4.2.2. Исследование соединений потребителей. Определение удельного сопротивления проводника.

4.2.4. Обобщение по теме «Законы постоянного тока».

4.4.3. Устройство и принцип действия электроизмерительных приборов.

4.5.4. Анализ результатов контрольной работы по теме "Электродинамика"

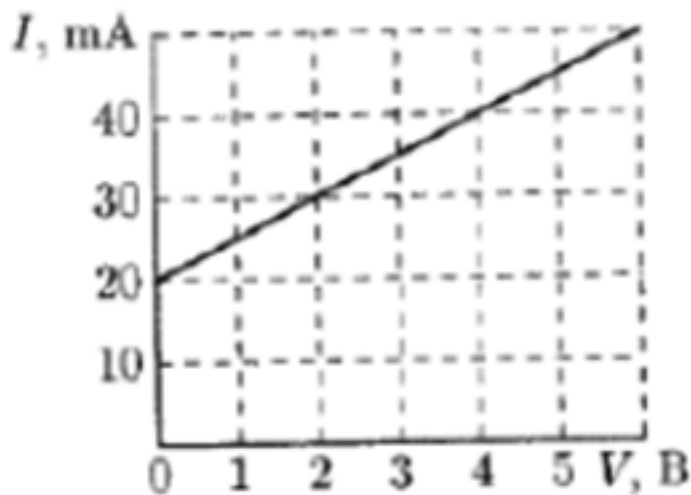
4.5.6.Обобщение по теме "Электродинамика".

5.1.3.Изучение малых колебаний математического маятника.

5.1.4.Обобщение по теме «Механические колебания и волны».

### Задание №1

На рисунке изображена вольт-амперная характеристика двух соединенных параллельно элементов, одним из которых является резистор с сопротивлением  $R = 100 \text{ Ом}$ , а другим — неизвестный элемент  $Z$ . Используя заданную вольт-амперную характеристику, постройте вольт-амперную характеристику элемента  $Z$ .

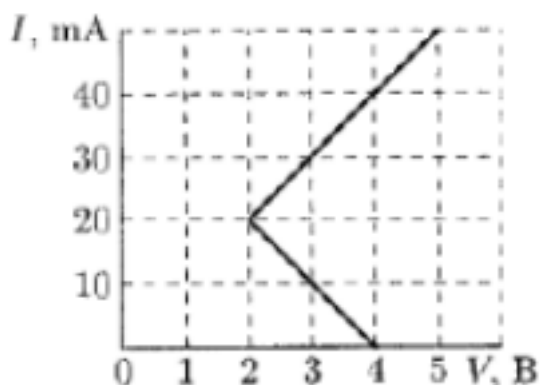


<i>Оценка</i>	<i>Показатели оценки</i>
5	Приведено полное правильное решение, включающее следующие элементы: 1) верно записано краткое условие задачи; 2) записаны уравнения и формулы, применение которых необходимо и достаточно для решения задачи выбранным способом; 3) выполнены необходимые математические преобразования и расчеты, приводящие к правильному числовому ответу, и представлен ответ. При этом допускается решение "по частям" (с промежуточными вычислениями).

4	<p>Правильно записаны необходимые формулы, проведены вычисления, и получен ответ (верный или неверный), но допущена ошибка в записи краткого условия или переводе единиц в СИ.</p> <p>ИЛИ</p> <p>Представлено правильное решение только в общем виде, без каких-либо числовых расчетов.</p> <p>ИЛИ</p> <p>Записаны уравнения и формулы, применение которых необходимо и достаточно для решения задачи выбранным способом, но в математических преобразованиях или вычислениях допущена ошибка.</p>
3	<p>Записаны и использованы не все исходные формулы, необходимые для решения задачи.</p> <p>ИЛИ</p> <p>Записаны все исходные формулы, но в <b>ОДНОЙ</b> из них допущена ошибка.</p>

### Задание №2

На рисунке изображена вольт-амперная характеристика двух соединенных последовательно элементов, одним из которых является резистор с сопротивлением  $R = 100 \text{ Ом}$ , а вторым — неизвестный элемент  $Z$ . Используя заданную вольт-амперную характеристику, постройте вольт-амперную характеристику элемента  $Z$ .



<i>Оценка</i>	<i>Показатели оценки</i>

5	<p>Приведено полное правильное решение, включающее следующие элементы:</p> <p>1) верно записано краткое условие задачи;</p> <p>2) записаны уравнения и формулы, применение которых необходимо и достаточно для решения задачи выбранным способом;</p> <p>3) выполнены необходимые математические преобразования и расчеты, приводящие к правильному числовому ответу, и представлен ответ. При этом допускается решение "по частям" (с промежуточными вычислениями).</p>
4	<p>Правильно записаны необходимые формулы, проведены вычисления, и получен ответ (верный или неверный), но допущена ошибка в записи краткого условия или переводе единиц в СИ.</p> <p>ИЛИ</p> <p>Представлено правильное решение только в общем виде, без каких-либо числовых расчетов.</p> <p>ИЛИ</p> <p>Записаны уравнения и формулы, применение которых необходимо и достаточно для решения задачи выбранным способом, но в математических преобразованиях или вычислениях допущена ошибка.</p>
3	<p>Записаны и использованы не все исходные формулы, необходимые для решения задачи.</p> <p>ИЛИ</p> <p>Записаны все исходные формулы, но в <b>ОДНОЙ</b> из них допущена ошибка.</p>

**Предметный результат:** 3.4 сформированность умения решать физические задачи;

**Занятие(-я):**

4.5.2. Контрольная работа по теме "Основы электродинамики".

4.5.3. Решение задач по теме: "Электростатика и законы постоянного тока"

4.5.4. Анализ результатов контрольной работы по теме "Электродинамика"

4.5.5. Решение задач по теме "Магнитное поле и ЭМИ"

4.5.6. Обобщение по теме "Электродинамика".

5.1.2. Механические волны в упругих средах. Классификация и характеристики волн.

5.1.3. Изучение малых колебаний математического маятника.

5.1.4. Обобщение по теме «Механические колебания и волны».

5.2.1. Свободные электромагнитные колебания. Контур Томсона.

5.2.2.Переменный электрический ток. Характеристики переменного тока.

5.2.5.Обобщение по теме «Электромагнитные колебания. Переменный ток».

5.2.6.Подготовка к контрольной работе по теме «Колебания и волны».

### Задание №1

Решите задачу: Как измениться период колебания математического маятника, если его перенести с Земли на Луну? Ускорение свободного падения на Луне в 6 раз меньше, чем на Земле.

<i>Оценка</i>	<i>Показатели оценки</i>
5	Приведено полное правильное решение, включающее следующие элементы: 1) верно записано краткое условие задачи; 2) записаны уравнения и формулы, применение которых необходимо и достаточно для решения задачи выбранным способом; 3) выполнены необходимые математические преобразования и расчеты, приводящие к правильному числовому ответу, и представлен ответ. При этом допускается решение "по частям" (с промежуточными вычислениями).
4	Правильно записаны необходимые формулы, проведены вычисления, и получен ответ (верный или неверный), но допущена ошибка в записи краткого условия или переводе единиц в СИ. ИЛИ Представлено правильное решение только в общем виде, без каких-либо числовых расчетов. ИЛИ Записаны уравнения и формулы, применение которых необходимо и достаточно для решения задачи выбранным способом, но в математических преобразованиях или вычислениях допущена ошибка.
3	Записаны и использованы не все исходные формулы, необходимые для решения задачи. ИЛИ Записаны все исходные формулы, но в <b>ОДНОЙ</b> из них допущена ошибка.

### Задание №2

Решите задачу: На участке цепи протекает переменный ток. Индуктивность катушки 0,25 Гн, емкость конденсатора 100 мкФ. При какой частоте переменного тока

сопротивление этого участка равно нулю? (Активным сопротивлением катушки и подводющих проводов пренебречь. Ответ округлить до целых.)

<b>Оценка</b>	<b>Показатели оценки</b>
5	<p>Приведено полное правильное решение, включающее следующие элементы:</p> <p>1) верно записано краткое условие задачи;</p> <p>2) записаны уравнения и формулы, применение которых необходимо и достаточно для решения задачи выбранным способом;</p> <p>3) выполнены необходимые математические преобразования и расчеты, приводящие к правильному числовому ответу, и представлен ответ. При этом допускается решение "по частям" (с промежуточными вычислениями).</p>
4	<p>Правильно записаны необходимые формулы, проведены вычисления, и получен ответ (верный или неверный), но допущена ошибка в записи краткого условия или переводе единиц в СИ.</p> <p>ИЛИ</p> <p>Представлено правильное решение только в общем виде, без каких-либо числовых расчетов.</p> <p>ИЛИ</p> <p>Записаны уравнения и формулы, применение которых необходимо и достаточно для решения задачи выбранным способом, но в математических преобразованиях или вычислениях допущена ошибка.</p>
3	<p>Записаны и использованы не все исходные формулы, необходимые для решения задачи.</p> <p>ИЛИ</p> <p>Записаны все исходные формулы, но в <b>ОДНОЙ</b> из них допущена ошибка.</p>

### 2.7 Текущий контроль (ТК) № 7

**Тема занятия:** 6.3.5. Контрольная работа по теме «Оптика и квантовая физика».

**Метод и форма контроля:** Контрольная работа (Опрос)

**Вид контроля:** Письменная контрольная работа

**Предметный результат:** 3.4 сформированность умения решать физические задачи;

**Занятие(-я):**

5.2.7. Контрольная работа по разделу "Колебания и волны".

6.1.2. Линзы. Построение изображений. Формула тонкой линзы.

6.3.3.Обобщение по теме «Оптика и квантовая физика».

6.3.4.Подготовка к контрольной работе по теме "Оптика и квантовая физика".

### Задание №1

Решите задачу: Свет лазера с длиной волны в вакууме  $\lambda_0 = 632,8$  нм проникает в алмаз, показатель преломления которого  $n=2,419$ . Определите длину волны (в нм) света в алмазе. (Ответ округлить до целых.)

<i>Оценка</i>	<i>Показатели оценки</i>
5	Приведено полное правильное решение, включающее следующие элементы: 1) верно записано краткое условие задачи; 2) записаны уравнения и формулы, применение которых необходимо и достаточно для решения задачи выбранным способом; 3) выполнены необходимые математические преобразования и расчеты, приводящие к правильному числовому ответу, и представлен ответ. При этом допускается решение "по частям" (с промежуточными вычислениями).
4	Правильно записаны необходимые формулы, проведены вычисления, и получен ответ (верный или неверный), но допущена ошибка в записи краткого условия или переводе единиц в СИ. ИЛИ Представлено правильное решение только в общем виде, без каких-либо числовых расчетов. ИЛИ Записаны уравнения и формулы, применение которых необходимо и достаточно для решения задачи выбранным способом, но в математических преобразованиях или вычислениях допущена ошибка.
3	Записаны и использованы не все исходные формулы, необходимые для решения задачи. ИЛИ Записаны все исходные формулы, но в <b>ОДНОЙ</b> из них допущена ошибка.

### Задание №2

Решите задачу: На рассеивающую линзу вдоль главной оптической оси падает параллельный пучок света диаметром 5 см. За линзой на расстоянии 20 см есть экран, на котором получается круглое пятно диаметром 150мм. Определить главное



фокусное расстояние линзы (в см).

<i>Оценка</i>	<i>Показатели оценки</i>
5	Приведено полное правильное решение, включающее следующие элементы: 1) верно записано краткое условие задачи; 2) записаны уравнения и формулы, применение которых необходимо и достаточно для решения задачи выбранным способом; 3) выполнены необходимые математические преобразования и расчеты, приводящие к правильному числовому ответу, и представлен ответ. При этом допускается решение "по частям" (с промежуточными вычислениями).
4	Правильно записаны необходимые формулы, проведены вычисления, и получен ответ (верный или неверный), но допущена ошибка в записи краткого условия или переводе единиц в СИ. ИЛИ Представлено правильное решение только в общем виде, без каких-либо числовых расчетов. ИЛИ Записаны уравнения и формулы, применение которых необходимо и достаточно для решения задачи выбранным способом, но в математических преобразованиях или вычислениях допущена ошибка.
3	Записаны и использованы не все исходные формулы, необходимые для решения задачи. ИЛИ Записаны все исходные формулы, но в <b>ОДНОЙ</b> из них допущена ошибка.

### Задание №3

Решите задачу: Линия дифракционного спектра четвертого порядка с длиной волны  $\lambda_1 = 510$  нм накладывается на линию спектра третьего порядка с длиной волны  $\lambda_2$ . Определите длину волны спектра третьего порядка (в нм).

<i>Оценка</i>	<i>Показатели оценки</i>
---------------	--------------------------

5	<p>Приведено полное правильное решение, включающее следующие элементы:</p> <ol style="list-style-type: none"> <li>1) верно записано краткое условие задачи;</li> <li>2) записаны уравнения и формулы, применение которых необходимо и достаточно для решения задачи выбранным способом;</li> <li>3) выполнены необходимые математические преобразования и расчеты, приводящие к правильному числовому ответу, и представлен ответ. При этом допускается решение "по частям" (с промежуточными вычислениями).</li> </ol>
4	<p>Правильно записаны необходимые формулы, проведены вычисления, и получен ответ (верный или неверный), но допущена ошибка в записи краткого условия или переводе единиц в СИ.</p> <p>ИЛИ</p> <p>Представлено правильное решение только в общем виде, без каких-либо числовых расчетов.</p> <p>ИЛИ</p> <p>Записаны уравнения и формулы, применение которых необходимо и достаточно для решения задачи выбранным способом, но в математических преобразованиях или вычислениях допущена ошибка.</p>
3	<p>Записаны и использованы не все исходные формулы, необходимые для решения задачи.</p> <p>ИЛИ</p> <p>Записаны все исходные формулы, но в <b>ОДНОЙ</b> из них допущена ошибка.</p>

#### Задание №4

Решите задачу: Работа выхода электрона из некоторого металла равна 2 эВ. Фотон выбивает из этого металла электрон с энергией 3 эВ. Какова (в эВ) минимальная энергия такого фотона?

<i>Оценка</i>	<i>Показатели оценки</i>

5	<p>Приведено полное правильное решение, включающее следующие элементы:</p> <ol style="list-style-type: none"> <li>1) верно записано краткое условие задачи;</li> <li>2) записаны уравнения и формулы, применение которых необходимо и достаточно для решения задачи выбранным способом;</li> <li>3) выполнены необходимые математические преобразования и расчеты, приводящие к правильному числовому ответу, и представлен ответ. При этом допускается решение "по частям" (с промежуточными вычислениями).</li> </ol>
4	<p>Правильно записаны необходимые формулы, проведены вычисления, и получен ответ (верный или неверный), но допущена ошибка в записи краткого условия или переводе единиц в СИ.</p> <p>ИЛИ</p> <p>Представлено правильное решение только в общем виде, без каких-либо числовых расчетов.</p> <p>ИЛИ</p> <p>Записаны уравнения и формулы, применение которых необходимо и достаточно для решения задачи выбранным способом, но в математических преобразованиях или вычислениях допущена ошибка.</p>
3	<p>Записаны и использованы не все исходные формулы, необходимые для решения задачи.</p> <p>ИЛИ</p> <p>Записаны все исходные формулы, но в <b>ОДНОЙ</b> из них допущена ошибка.</p>

**Предметный результат:** 3.6 сформированность собственной позиции по отношению к физической информации, получаемой из разных источников

**Занятие(-я):**

6.2.1. Волновая оптика. Дисперсия. Поглощение и рассеяние света. Поляризация света.

6.2.3. Дифракция света. Дифракционная решетка.

6.3.1. Тепловое излучение. Гипотеза Планка. Фотоэффект. Законы фотоэффекта. Уравнение Эйнштейна.

**Задание №1**

Сформулируйте развернутый ответ на вопрос "Может ли человек бежать быстрее своей тени?"

<i>Оценка</i>	<i>Показатели оценки</i>
5	Представлен правильный ответ на вопрос, и приведено достаточное обоснование, не содержащее ошибок.
4	Представлен правильный ответ на поставленный вопрос, но его обоснование не является достаточным или в нем допущено не более одной ошибки или неточности.
3	Представлены корректные рассуждения, приводящие к правильному ответу, но ответ явно не сформулирован.

### **Задание №2**

Сформулируйте ответ на вопрос "Неровности дороги днем видны хуже, чем ночью при освещении дороги фарами автомобиля. Почему"?

<i>Оценка</i>	<i>Показатели оценки</i>
5	Представлен правильный ответ на вопрос, и приведено достаточное обоснование, не содержащее ошибок.
4	Представлен правильный ответ на поставленный вопрос, но его обоснование не является достаточным или в нем допущено не более одной ошибки или неточности.
3	Представлены корректные рассуждения, приводящие к правильному ответу, но ответ явно не сформулирован.

**Предметный результат:** 3.1 сформированность представлений о роли и месте физики в современной научной картине мира; понимание физической сущности наблюдаемых во Вселенной явлений; понимание роли физики в формировании кругозора и функциональной грамотности человека для решения практических задач;

### **Занятие(-я):**

6.1.1.Геометрическая оптика. Законы геометрической оптики.

6.2.1.Волновая оптика. Дисперсия. Поглощение и рассеяние света. Поляризация света.

6.2.2.Интерференция света. Применение интерференции.

### **Задание №1**

Сформулируйте развернутый ответ на вопрос "Законы геометрической оптики. Тонкие линзы".

<i>Оценка</i>	<i>Показатели оценки</i>

5	<ol style="list-style-type: none"> <li>1. Показывает верное понимание физической сущности рассматриваемых явлений и закономерностей, законов и теорий, дает точное определение и истолкование основных понятий, законов, теорий.</li> <li>2. Дает правильное определение физических величин, их единиц и способов измерения.</li> <li>3. Правильно выполняет чертежи, схемы и графики.</li> <li>4. Сопровождает рассказ новыми примерами.</li> </ol>
4	<p>Ответ удовлетворяет основным требованиям к ответу на оценку 5, но:</p> <ol style="list-style-type: none"> <li>1. Обучающийся допустил одну ошибку или не более двух недочетов и может их исправить самостоятельно или с небольшой помощью преподавателя.</li> <li>2. Ответ дан без использования новых примеров.</li> </ol>
3	<p>Обучающийся правильно понимает физическую сущность рассматриваемых явлений и закономерностей, но:</p> <ol style="list-style-type: none"> <li>1. В ответе имеются отдельные пробелы в усвоении вопросов курса физики, не препятствующие дальнейшему усвоению программного материала.</li> <li>2. Обучающийся может допустить не более одной грубой ошибки и двух недочетов; или не более одной грубой ошибки и не более двух-трех негрубых ошибок; или одной негрубой ошибки и трех недочетов; или четырех или пяти недочетов.</li> </ol>

### Задание №2

Сформулируйте развернутый ответ на вопрос "Интерференция света, ее проявление и применение в технике".

<i>Оценка</i>	<i>Показатели оценки</i>

5	<ol style="list-style-type: none"> <li>1. Показывает верное понимание физической сущности рассматриваемых явлений и закономерностей, законов и теорий, дает точное определение и истолкование основных понятий, законов, теорий.</li> <li>2. Дает правильное определение физических величин, их единиц и способов измерения.</li> <li>3. Правильно выполняет чертежи, схемы и графики.</li> <li>4. Сопровождает рассказ новыми примерами.</li> </ol>
4	<p>Ответ удовлетворяет основным требованиям к ответу на оценку 5, но:</p> <ol style="list-style-type: none"> <li>1. Обучающийся допустил одну ошибку или не более двух недочетов и может их исправить самостоятельно или с небольшой помощью преподавателя.</li> <li>2. Ответ дан без использования новых примеров.</li> </ol>
3	<p>Обучающийся правильно понимает физическую сущность рассматриваемых явлений и закономерностей, но:</p> <ol style="list-style-type: none"> <li>1. В ответе имеются отдельные пробелы в усвоении вопросов курса физики, не препятствующие дальнейшему усвоению программного материала.</li> <li>2. Обучающийся может допустить не более одной грубой ошибки и двух недочетов; или не более одной грубой ошибки и не более двух-трех негрубых ошибок; или одной негрубой ошибки и трех недочетов; или четырех или пяти недочетов.</li> </ol>

### Задание №3

Сформулируйте развернутый ответ на вопрос "Дифракция света. Дифракционная решетка. Уравнение дифракционной решетки".

<i>Оценка</i>	<i>Показатели оценки</i>

5	<ol style="list-style-type: none"> <li>1. Показывает верное понимание физической сущности рассматриваемых явлений и закономерностей, законов и теорий, дает точное определение и истолкование основных понятий, законов, теорий.</li> <li>2. Дает правильное определение физических величин, их единиц и способов измерения.</li> <li>3. Правильно выполняет чертежи, схемы и графики.</li> <li>4. Сопровождает рассказ новыми примерами.</li> </ol>
4	<p>Ответ удовлетворяет основным требованиям к ответу на оценку 5, но:</p> <ol style="list-style-type: none"> <li>1. Обучающийся допустил одну ошибку или не более двух недочетов и может их исправить самостоятельно или с небольшой помощью преподавателя.</li> <li>2. Ответ дан без использования новых примеров.</li> </ol>
3	<p>Обучающийся правильно понимает физическую сущность рассматриваемых явлений и закономерностей, но:</p> <ol style="list-style-type: none"> <li>1. В ответе имеются отдельные пробелы в усвоении вопросов курса физики, не препятствующие дальнейшему усвоению программного материала.</li> <li>2. Обучающийся может допустить не более одной грубой ошибки и двух недочетов; или не более одной грубой ошибки и не более двух-трех негрубых ошибок; или одной негрубой ошибки и трех недочетов; или четырех или пяти недочетов.</li> </ol>

#### **Задание №4**

Сформулируйте развернутый ответ на вопрос "Явление внешнего фотоэффекта. Законы А.Г. Столетова для внешнего фотоэффекта. Уравнение А. Эйнштейна для внешнего фотоэффекта".

<i>Оценка</i>	<i>Показатели оценки</i>

5	<ol style="list-style-type: none"> <li>1. Показывает верное понимание физической сущности рассматриваемых явлений и закономерностей, законов и теорий, дает точное определение и истолкование основных понятий, законов, теорий.</li> <li>2. Дает правильное определение физических величин, их единиц и способов измерения.</li> <li>3. Правильно выполняет чертежи, схемы и графики.</li> <li>4. Сопровождает рассказ новыми примерами.</li> </ol>
4	<p>Ответ удовлетворяет основным требованиям к ответу на оценку 5, но:</p> <ol style="list-style-type: none"> <li>1. Обучающийся допустил одну ошибку или не более двух недочетов и может их исправить самостоятельно или с небольшой помощью преподавателя.</li> <li>2. Ответ дан без использования новых примеров.</li> </ol>
3	<p>Обучающийся правильно понимает физическую сущность рассматриваемых явлений и закономерностей, но:</p> <ol style="list-style-type: none"> <li>1. В ответе имеются отдельные пробелы в усвоении вопросов курса физики, не препятствующие дальнейшему усвоению программного материала.</li> <li>2. Обучающийся может допустить не более одной грубой ошибки и двух недочетов; или не более одной грубой ошибки и не более двух-трех негрубых ошибок; или одной негрубой ошибки и трех недочетов; или четырех или пяти недочетов.</li> </ol>

**Предметный результат:** 3.2 владение основополагающими физическими понятиями, закономерностями, законами и теориями; уверенное пользование физической терминологией и символикой;

**Занятие(-я):**

5.1.1. Механические колебания. Основные характеристики, уравнения и графики гармонических колебаний.

5.1.2. Механические волны в упругих средах. Классификация и характеристики волн.

5.2.2. Переменный электрический ток. Характеристики переменного тока.

5.2.3. Производство и передача электроэнергии.

5.2.4. Электромагнитные волны. Шкала ЭМВ. Принципы радиосвязи.



Радиолокация.

6.1.1.Геометрическая оптика. Законы геометрической оптики.

6.1.2.Линзы. Построение изображений. Формула тонкой линзы.

6.2.1.Волновая оптика. Дисперсия. Поглощение и рассеяние света. Поляризация света.

6.2.5.Специальная теория относительности. Постулаты. Следствия. Релятивистская динамика. Связь между массой и энергией.

6.3.1.Тепловое излучение. Гипотеза Планка. Фотоэффект. Законы фотоэффекта. Уравнение Эйнштейна.

6.3.2.Корпускулярно-волновой дуализм. Световое давление. Химическое действие света.

### Задание №1

Сформулируйте определение термина «фокус линзы», укажите его синоним.

<i>Оценка</i>	<i>Показатели оценки</i>
5	Представлено верное определение, верно указан синоним.
4	Представлено определение, но имеются замечания; верно указан синоним. ИЛИ Представлено верное определение, но допущена ошибка в представлении синонима.
3	Представлено определение, но имеются замечания; не указан синоним.

### Задание №2

Сформулируйте определение термина «квант», укажите его синоним.

<i>Оценка</i>	<i>Показатели оценки</i>
5	Представлено верное определение, верно указан синоним.
4	Представлено определение, но имеются замечания; верно указан синоним. ИЛИ Представлено верное определение, но допущена ошибка в представлении синонима.
3	Представлено определение, но имеются замечания; не указан синоним.

## 2.8 Текущий контроль (ТК) № 8

Тема занятия: 7.1.6.Контрольная работа по теме "Физика атома и атомного ядра".

**Метод и форма контроля:** Контрольная работа (Опрос)

**Вид контроля:** Письменная контрольная работа

**Предметный результат:** 3.1 сформированность представлений о роли и месте физики в современной научной картине мира; понимание физической сущности наблюдаемых во Вселенной явлений; понимание роли физики в формировании кругозора и функциональной грамотности человека для решения практических задач;

**Занятие(-я):**

7.1.1.Строение атома. Квантовые постулаты Бора. Излучение и поглощение света атомом. Спектры и спектральный анализ.

7.1.2.Строение ядра. Ядерные силы. Ядерные реакции. Радиоактивные превращения. Закон радиоактивного распада.

7.1.3.Методы наблюдения и регистрации ионизирующих излучений. Биологическое действие ионизирующих излучений.

**Задание №1**

Сформулируйте развернутый ответ на вопрос "Модель атома по Резерфорду и по Бору. Происхождение спектров излучения и поглощения".

<i>Оценка</i>	<i>Показатели оценки</i>
5	<ol style="list-style-type: none"><li>1. Показывает верное понимание физической сущности рассматриваемых явлений и закономерностей, законов и теорий, дает точное определение и истолкование основных понятий, законов, теорий.</li><li>2. Дает правильное определение физических величин, их единиц и способов измерения.</li><li>3. Правильно выполняет чертежи, схемы и графики.</li><li>4. Сопровождает рассказ новыми примерами.</li></ol>
4	<p>Ответ удовлетворяет основным требованиям к ответу на оценку 5, но:</p> <ol style="list-style-type: none"><li>1. Обучающийся допустил одну ошибку или не более двух недочетов и может их исправить самостоятельно или с небольшой помощью преподавателя.</li><li>2. Ответ дан без использования новых примеров.</li></ol>

3	<p>Обучающийся правильно понимает физическую сущность рассматриваемых явлений и закономерностей, но:</p> <ol style="list-style-type: none"> <li>1. В его ответе, имеются отдельные пробелы в усвоении вопросов курса физики, не препятствующие дальнейшему усвоению программного материала.</li> <li>2. Обучающийся может допустить не более одной грубой ошибки и двух недочетов; или не более одной грубой ошибки и не более двух-трех негрубых ошибок; или одной негрубой ошибки и трех недочетов; или четырех или пяти недочетов.</li> </ol>
---	--

### Задание №2

Сформулируйте развернутый ответ на вопрос "Строение атомного ядра. Ядерные силы. Изотопы".

<i>Оценка</i>	<i>Показатели оценки</i>
5	<ol style="list-style-type: none"> <li>1. Показывает верное понимание физической сущности рассматриваемых явлений и закономерностей, законов и теорий, дает точное определение и истолкование основных понятий, законов, теорий.</li> <li>2. Дает правильное определение физических величин, их единиц и способов измерения.</li> <li>3. Правильно выполняет чертежи, схемы и графики.</li> <li>4. Сопровождает рассказ новыми примерами.</li> </ol>
4	<p>Ответ удовлетворяет основным требованиям к ответу на оценку 5, но:</p> <ol style="list-style-type: none"> <li>1. Обучающийся допустил одну ошибку или не более двух недочетов и может их исправить самостоятельно или с небольшой помощью преподавателя.</li> <li>2. Ответ дан без использования новых примеров.</li> </ol>

3	<p>Обучающийся правильно понимает физическую сущность рассматриваемых явлений и закономерностей, но:</p> <ol style="list-style-type: none"> <li>1. В его ответе, имеются отдельные пробелы в усвоении вопросов курса физики, не препятствующие дальнейшему усвоению программного материала.</li> <li>2. Обучающийся может допустить не более одной грубой ошибки и двух недочетов; или не более одной грубой ошибки и не более двух-трех негрубых ошибок; или одной негрубой ошибки и трех недочетов; или четырех или пяти недочетов.</li> </ol>
---	--

### Задание №3

Сформулируйте развернутый ответ на вопрос "Правила смещения при альфа- и бета-распадах. Закон радиоактивного распада".

<i>Оценка</i>	<i>Показатели оценки</i>
5	<ol style="list-style-type: none"> <li>1. Показывает верное понимание физической сущности рассматриваемых явлений и закономерностей, законов и теорий, дает точное определение и истолкование основных понятий, законов, теорий.</li> <li>2. Дает правильное определение физических величин, их единиц и способов измерения.</li> <li>3. Правильно выполняет чертежи, схемы и графики.</li> <li>4. Сопровождает рассказ новыми примерами.</li> </ol>
4	<p>Ответ удовлетворяет основным требованиям к ответу на оценку 5, но:</p> <ol style="list-style-type: none"> <li>1. Обучающийся допустил одну ошибку или не более двух недочетов и может их исправить самостоятельно или с небольшой помощью преподавателя.</li> <li>2. Ответ дан без использования новых примеров.</li> </ol>

3	<p>Обучающийся правильно понимает физическую сущность рассматриваемых явлений и закономерностей, но:</p> <ol style="list-style-type: none"> <li>1. В его ответе, имеются отдельные пробелы в усвоении вопросов курса физики, не препятствующие дальнейшему усвоению программного материала.</li> <li>2. Обучающийся может допустить не более одной грубой ошибки и двух недочетов; или не более одной грубой ошибки и не более двух-трех негрубых ошибок; или одной негрубой ошибки и трех недочетов; или четырех или пяти недочетов.</li> </ol>
---	--

#### **Задание №4**

Сформулируйте развернутый ответ на вопрос "Методы регистрации ионизирующих излучений".

<i><b>Оценка</b></i>	<i><b>Показатели оценки</b></i>
5	<ol style="list-style-type: none"> <li>1. Показывает верное понимание физической сущности рассматриваемых явлений и закономерностей, законов и теорий, дает точное определение и истолкование основных понятий, законов, теорий.</li> <li>2. Дает правильное определение физических величин, их единиц и способов измерения.</li> <li>3. Правильно выполняет чертежи, схемы и графики.</li> <li>4. Сопровождает рассказ новыми примерами.</li> </ol>
4	<p>Ответ удовлетворяет основным требованиям к ответу на оценку 5, но:</p> <ol style="list-style-type: none"> <li>1. Обучающийся допустил одну ошибку или не более двух недочетов и может их исправить самостоятельно или с небольшой помощью преподавателя.</li> <li>2. Ответ дан без использования новых примеров.</li> </ol>

3	<p>Обучающийся правильно понимает физическую сущность рассматриваемых явлений и закономерностей, но:</p> <ol style="list-style-type: none"> <li>1. В его ответе, имеются отдельные пробелы в усвоении вопросов курса физики, не препятствующие дальнейшему усвоению программного материала.</li> <li>2. Обучающийся может допустить не более одной грубой ошибки и двух недочетов; или не более одной грубой ошибки и не более двух-трех негрубых ошибок; или одной негрубой ошибки и трех недочетов; или четырех или пяти недочетов.</li> </ol>
---	--

**Предметный результат:** 3.4 сформированность умения решать физические задачи;

**Занятие(-я):**

6.3.5. Контрольная работа по теме «Оптика и квантовая физика».

7.1.3. Методы наблюдения и регистрации ионизирующих излучений. Биологическое действие ионизирующих излучений.

7.1.4. Обобщение по теме «Физика атома и ядра».

7.1.5. Подготовка к контрольной работе по теме "Физика атома и ядра".

**Задание №1**

Решите задачу: Допишите реакцию и определите ее энергетический выход (Ответ

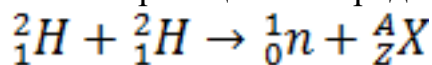
выразить в МэВ.):  ${}^{16}_8\text{O} + {}^2_1\text{H} \rightarrow ? + {}^{14}_7\text{N}$

<i>Оценка</i>	<i>Показатели оценки</i>
5	<p>Приведено полное правильное решение, включающее следующие элементы:</p> <ol style="list-style-type: none"> <li>1) верно записано краткое условие задачи;</li> <li>2) записаны уравнения и формулы, применение которых необходимо и достаточно для решения задачи выбранным способом;</li> <li>3) выполнены необходимые математические преобразования и расчеты, приводящие к правильному числовому ответу, и представлен ответ. При этом допускается решение "по частям" (с промежуточными вычислениями).</li> </ol>

4	<p>Правильно записаны необходимые формулы, проведены вычисления, и получен ответ (верный или неверный), но допущена ошибка в записи краткого условия или переводе единиц в СИ.</p> <p>ИЛИ</p> <p>Представлено правильное решение только в общем виде, без каких-либо числовых расчетов.</p> <p>ИЛИ</p> <p>Записаны уравнения и формулы, применение которых необходимо и достаточно для решения задачи выбранным способом, но в математических преобразованиях или вычислениях допущена ошибка.</p>
3	<p>Записаны и использованы не все исходные формулы, необходимые для решения задачи.</p> <p>ИЛИ</p> <p>Записаны все исходные формулы, но в <b>ОДНОЙ</b> из них допущена ошибка.</p>

## Задание №2

Решите задачу: Допишите реакцию и определите ее энергетический выход (Ответ выразить в МэВ.):



<i>Оценка</i>	<i>Показатели оценки</i>
5	<p>Приведено полное правильное решение, включающее следующие элементы:</p> <ol style="list-style-type: none"> <li>1) верно записано краткое условие задачи;</li> <li>2) записаны уравнения и формулы, применение которых необходимо и достаточно для решения задачи выбранным способом;</li> <li>3) выполнены необходимые математические преобразования и расчеты, приводящие к правильному числовому ответу, и представлен ответ. При этом допускается решение "по частям" (с промежуточными вычислениями).</li> </ol>

4	<p>Правильно записаны необходимые формулы, проведены вычисления, и получен ответ (верный или неверный), но допущена ошибка в записи краткого условия или переводе единиц в СИ.</p> <p>ИЛИ</p> <p>Представлено правильное решение только в общем виде, без каких-либо числовых расчетов.</p> <p>ИЛИ</p> <p>Записаны уравнения и формулы, применение которых необходимо и достаточно для решения задачи выбранным способом, но в математических преобразованиях или вычислениях допущена ошибка.</p>
3	<p>Записаны и использованы не все исходные формулы, необходимые для решения задачи.</p> <p>ИЛИ</p> <p>Записаны все исходные формулы, но в <b>ОДНОЙ</b> из них допущена ошибка.</p>

### Задание №3

Решите задачу: Какой изотоп образуется из  ${}_{92}^{238}\text{U}$  после одного  $\beta$ -распадов и двух  $\alpha$ -распада? Запишите реакции.

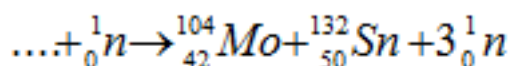
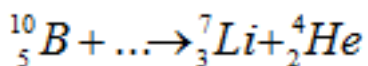
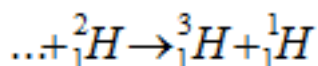
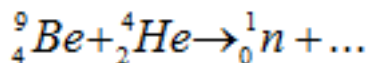
<b>Оценка</b>	<b>Показатели оценки</b>
5	<p>Приведено полное правильное решение, включающее следующие элементы:</p> <ol style="list-style-type: none"> <li>1) верно записано краткое условие задачи;</li> <li>2) записаны уравнения и формулы, применение которых необходимо и достаточно для решения задачи выбранным способом;</li> <li>3) выполнены необходимые математические преобразования и расчеты, приводящие к правильному числовому ответу, и представлен ответ. При этом допускается решение "по частям" (с промежуточными вычислениями).</li> </ol>



4	<p>Правильно записаны необходимые формулы, проведены вычисления, и получен ответ (верный или неверный), но допущена ошибка в записи краткого условия или переводе единиц в СИ.</p> <p>ИЛИ</p> <p>Представлено правильное решение только в общем виде, без каких-либо числовых расчетов.</p> <p>ИЛИ</p> <p>Записаны уравнения и формулы, применение которых необходимо и достаточно для решения задачи выбранным способом, но в математических преобразованиях или вычислениях допущена ошибка.</p>
3	<p>Записаны и использованы не все исходные формулы, необходимые для решения задачи.</p> <p>ИЛИ</p> <p>Записаны все исходные формулы, но в <b>ОДНОЙ</b> из них допущена ошибка.</p>

#### Задание №4

Допишите реакции:



<b>Оценка</b>	<b>Показатели оценки</b>
5	<p>Приведено полное правильное решение, включающее следующие элементы:</p> <ol style="list-style-type: none"> <li>1) верно записано краткое условие задачи;</li> <li>2) записаны уравнения и формулы, применение которых необходимо и достаточно для решения задачи выбранным способом;</li> <li>3) выполнены необходимые математические преобразования и расчеты, приводящие к правильному числовому ответу, и представлен ответ. При этом допускается решение "по частям" (с промежуточными вычислениями).</li> </ol>

4	<p>Правильно записаны необходимые формулы, проведены вычисления, и получен ответ (верный или неверный), но допущена ошибка в записи краткого условия или переводе единиц в СИ.</p> <p>ИЛИ</p> <p>Представлено правильное решение только в общем виде, без каких-либо числовых расчетов.</p> <p>ИЛИ</p> <p>Записаны уравнения и формулы, применение которых необходимо и достаточно для решения задачи выбранным способом, но в математических преобразованиях или вычислениях допущена ошибка.</p>
3	<p>Записаны и использованы не все исходные формулы, необходимые для решения задачи.</p> <p>ИЛИ</p> <p>Записаны все исходные формулы, но в <b>ОДНОЙ</b> из них допущена ошибка.</p>

**Предметный результат:** 3.5 сформированность умения применять полученные знания для объяснения условий протекания физических явлений в природе и для принятия практических решений в повседневной жизни;

**Занятие(-я):**

- 2.3.3. Механическая энергия. Теорема о кинетической и потенциальной энергии. Консервативные силы. Закон сохранения энергии в механике.
- 2.3.7. Контрольная работа по теме "Законы сохранения".
- 3.2.5. Модель строения твердого тела. Кристаллы и аморфные тела, их физические свойства. Тепловое расширение твердых тел.
- 3.3.2. Первый закон термодинамики. Применение первого закона термодинамики к изопроцессом.
- 3.3.6. Обобщение по теме «Основы термодинамики»
- 4.1.1. Электрический заряд и его свойства. Закон Кулона. Электростатическое поле. Напряженность поля.
- 4.3.1. Электрический ток в металлах. Электрический ток в вакууме.
- 4.3.3. Электрический ток в полупроводниках.
- 5.2.4. Электромагнитные волны. Шкала ЭМВ. Принципы радиосвязи. Радиолокация.
- 5.2.5. Обобщение по теме «Электромагнитные колебания. Переменный ток».
- 6.2.3. Дифракция света. Дифракционная решетка.
- 7.1.2. Строение ядра. Ядерные силы. Ядерные реакции. Радиоактивные превращения. Закон радиоактивного распада.

### Задание №1

Сформулируйте развернутый ответ на вопрос "Почему загрязнение молока является одним из показателей, характеризующих радиоэкологическое состояние местности?"

<i>Оценка</i>	<i>Показатели оценки</i>
5	Представлен правильный ответ на вопрос, и приведено достаточное обоснование, не содержащее ошибок.
4	Представлен правильный ответ на поставленный вопрос, но его обоснование не является достаточным или в нем допущено не более одной ошибки или неточности.
3	Представлены корректные рассуждения, приводящие к правильному ответу, но ответ явно не сформулирован.

### Задание №2

Сформулируйте развернутый ответ на вопрос: "С какой целью на радиоактивно загрязненных территориях производились известкование почв и внесение повышенных доз калийных удобрений?"

<i>Оценка</i>	<i>Показатели оценки</i>
5	Представлен правильный ответ на вопрос, и приведено достаточное обоснование, не содержащее ошибок.
4	Представлен правильный ответ на поставленный вопрос, но его обоснование не является достаточным или в нем допущено не более одной ошибки или неточности.
3	Представлены корректные рассуждения, приводящие к правильному ответу, но ответ явно не сформулирован.

**Предметный результат:** 3.2 владение основополагающими физическими понятиями, закономерностями, законами и теориями; уверенное пользование физической терминологией и символикой;

#### **Занятие(-я):**

7.1.1.Строение атома. Квантовые постулаты Бора. Излучение и поглощение света атомом. Спектры и спектральный анализ.

7.1.2.Строение ядра. Ядерные силы. Ядерные реакции. Радиоактивные превращения. Закон радиоактивного распада.

7.1.3.Методы наблюдения и регистрации ионизирующих излучений. Биологическое действие ионизирующих излучений.

7.1.4.Обобщение по теме «Физика атома и ядра».

### Задание №1

Сформулируйте определение термина «радиоактивность», укажите его синонимы.

<i>Оценка</i>	<i>Показатели оценки</i>
5	Представлено верное определение, верно указаны синонимы.
4	Представлено определение, но имеются замечания; верно указаны синонимы. ИЛИ Представлено верное определение, но допущены ошибки в представлении синонимов.
3	Представлено определение, но имеются замечания; не указаны синонимы.

### Задание №2

Сформулируйте определение термина «атом» и укажите синоним и графическое представление.

<i>Оценка</i>	<i>Показатели оценки</i>
5	Представлено верное определение, верно указаны синоним и графическое представление.
4	Представлено определение, но имеются замечания; верно указаны синоним и графическое представление. ИЛИ Представлено верное определение, но допущены ошибки в представлении синонима или графического представления.
3	Представлено определение, но имеются замечания; не указаны графическое представление и синоним.

### 3. ФОНД ОЦЕНОЧНЫХ СРЕДСТВ ДИСЦИПЛИНЫ, ИСПОЛЬЗУЕМЫЙ ДЛЯ ПРОМЕЖУТОЧНОЙ АТТЕСТАЦИИ

№ семестра	Вид промежуточной аттестации
1	

**может быть выставлен автоматически по результатам текущих контролей**

**Метод и форма контроля:** Письменный опрос (Опрос)

**Вид контроля:** по выбору выполнить два теоретических и два практических задания

№ семестра	Вид промежуточной аттестации
2	Дифференцированный зачет

**Дифференцированный зачет может быть выставлен автоматически по результатам текущих контролей**

Текущий контроль №1

Текущий контроль №2

Текущий контроль №3

Текущий контроль №4

Текущий контроль №5

Текущий контроль №6

Текущий контроль №7

Текущий контроль №8

**Метод и форма контроля:** Письменный опрос (Опрос)

**Вид контроля:** По выбору выполнить 1 теоретическое задание и 2 практических задания

**Дидактическая единица для контроля:**

.3.1 сформированность представлений о роли и месте физики в современной научной картине мира; понимание физической сущности наблюдаемых во Вселенной явлений; понимание роли физики в формировании кругозора и функциональной грамотности человека для решения практических задач;

**Задание №1 (из текущего контроля)**

Сформулируйте развернутый ответ на вопрос: "Механическое движение, его относительность. Характеристики механического движения: перемещение, скорость, ускорение".

<i>Оценка</i>	<i>Показатели оценки</i>
---------------	--------------------------

5	<ol style="list-style-type: none"> <li>1. Показывает верное понимание физической сущности рассматриваемых явлений и закономерностей, законов и теорий, дает точное определение и истолкование основных понятий, законов, теорий.</li> <li>2. Дает правильное определение физических величин, их единиц и способов измерения.</li> <li>3. Правильно выполняет чертежи, схемы и графики.</li> <li>4. Сопровождает рассказ новыми примерами.</li> </ol>
4	<p>Ответ удовлетворяет основным требованиям к ответу на оценку 5, но:</p> <ol style="list-style-type: none"> <li>1. Обучающийся допустил одну ошибку или не более двух недочетов и может их исправить самостоятельно или с небольшой помощью преподавателя.</li> <li>2. Ответ дан без использования новых примеров.</li> </ol>
3	<p>Обучающийся правильно понимает физическую сущность рассматриваемых явлений и закономерностей, но:</p> <ol style="list-style-type: none"> <li>1. В его ответе, имеются отдельные пробелы в усвоении вопросов курса физики, не препятствующие дальнейшему усвоению программного материала.</li> <li>2. Обучающийся может допустить не более одной грубой ошибки и двух недочетов; или не более одной грубой ошибки и не более двух-трех негрубых ошибок; или одной негрубой ошибки и трех недочетов; или четырех или пяти недочетов.</li> </ol>

### **Задание №2 (из текущего контроля)**

Сформулируйте развернутый ответ на вопрос: "Прямолинейное равномерное движение. Скорость. Графическое представление движения".

<b>Оценка</b>	<b>Показатели оценки</b>

5	<ol style="list-style-type: none"> <li>1. Показывает верное понимание физической сущности рассматриваемых явлений и закономерностей, законов и теорий, дает точное определение и истолкование основных понятий, законов, теорий.</li> <li>2. Дает правильное определение физических величин, их единиц и способов измерения.</li> <li>3. Правильно выполняет чертежи, схемы и графики.</li> <li>4. Сопровождает рассказ новыми примерами.</li> </ol>
4	<p>Ответ удовлетворяет основным требованиям к ответу на оценку 5, но:</p> <ol style="list-style-type: none"> <li>1. Обучающийся допустил одну ошибку или не более двух недочетов и может их исправить самостоятельно или с небольшой помощью преподавателя.</li> <li>2. Ответ дан без использования новых примеров.</li> </ol>
3	<p>Обучающийся правильно понимает физическую сущность рассматриваемых явлений и закономерностей, но:</p> <ol style="list-style-type: none"> <li>1. В его ответе, имеются отдельные пробелы в усвоении вопросов курса физики, не препятствующие дальнейшему усвоению программного материала.</li> <li>2. Обучающийся может допустить не более одной грубой ошибки и двух недочетов; или не более одной грубой ошибки и не более двух-трех негрубых ошибок; или одной негрубой ошибки и трех недочетов; или четырех или пяти недочетов.</li> </ol>

**Задание №3 (из текущего контроля)**

Сформулируйте развернутый ответ на вопрос: "Равнопеременное движение. Уравнения скорости и перемещения при равнопеременном движении".

<i>Оценка</i>	<i>Показатели оценки</i>

5	<ol style="list-style-type: none"> <li>1. Показывает верное понимание физической сущности рассматриваемых явлений и закономерностей, законов и теорий, дает точное определение и истолкование основных понятий, законов, теорий.</li> <li>2. Дает правильное определение физических величин, их единиц и способов измерения.</li> <li>3. Правильно выполняет чертежи, схемы и графики.</li> <li>4. Сопровождает рассказ новыми примерами.</li> </ol>
4	<p>Ответ удовлетворяет основным требованиям к ответу на оценку 5, но:</p> <ol style="list-style-type: none"> <li>1. Обучающийся допустил одну ошибку или не более двух недочетов и может их исправить самостоятельно или с небольшой помощью преподавателя.</li> <li>2. Ответ дан без использования новых примеров.</li> </ol>
3	<p>Обучающийся правильно понимает физическую сущность рассматриваемых явлений и закономерностей, но:</p> <ol style="list-style-type: none"> <li>1. В его ответе, имеются отдельные пробелы в усвоении вопросов курса физики, не препятствующие дальнейшему усвоению программного материала.</li> <li>2. Обучающийся может допустить не более одной грубой ошибки и двух недочетов; или не более одной грубой ошибки и не более двух-трех негрубых ошибок; или одной негрубой ошибки и трех недочетов; или четырех или пяти недочетов.</li> </ol>

**Задание №4 (из текущего контроля)**

Сформулируйте развернутый ответ на вопрос: "Равнопеременное движение по окружности и его характеристики".

<i>Оценка</i>	<i>Показатели оценки</i>



5	<ol style="list-style-type: none"> <li>1. Показывает верное понимание физической сущности рассматриваемых явлений и закономерностей, законов и теорий, дает точное определение и истолкование основных понятий, законов, теорий.</li> <li>2. Дает правильное определение физических величин, их единиц и способов измерения.</li> <li>3. Правильно выполняет чертежи, схемы и графики.</li> <li>4. Сопровождает рассказ новыми примерами.</li> </ol>
4	<p>Ответ удовлетворяет основным требованиям к ответу на оценку 5, но:</p> <ol style="list-style-type: none"> <li>1. Обучающийся допустил одну ошибку или не более двух недочетов и может их исправить самостоятельно или с небольшой помощью преподавателя.</li> <li>2. Ответ дан без использования новых примеров.</li> </ol>
3	<p>Обучающийся правильно понимает физическую сущность рассматриваемых явлений и закономерностей, но:</p> <ol style="list-style-type: none"> <li>1. В его ответе, имеются отдельные пробелы в усвоении вопросов курса физики, не препятствующие дальнейшему усвоению программного материала.</li> <li>2. Обучающийся может допустить не более одной грубой ошибки и двух недочетов; или не более одной грубой ошибки и не более двух-трех негрубых ошибок; или одной негрубой ошибки и трех недочетов; или четырех или пяти недочетов.</li> </ol>

**Задание №5 (из текущего контроля)**

Сформулируйте развернутый ответ на вопрос: "Взаимодействие тел. Законы Ньютона".

<i>Оценка</i>	<i>Показатели оценки</i>

5	<ol style="list-style-type: none"> <li>1. Показывает верное понимание физической сущности рассматриваемых явлений и закономерностей, законов и теорий, дает точное определение и истолкование основных понятий, законов, теорий.</li> <li>2. Дает правильное определение физических величин, их единиц и способов измерения.</li> <li>3. Правильно выполняет чертежи, схемы и графики.</li> <li>4. Сопровождает рассказ новыми примерами.</li> </ol>
4	<p>Ответ удовлетворяет основным требованиям к ответу на оценку 5, но:</p> <ol style="list-style-type: none"> <li>1. Обучающийся, допустил одну ошибку или не более двух недочетов и может их исправить самостоятельно или с небольшой помощью преподавателя.</li> <li>2. Ответ дан без использования новых примеров.</li> </ol>
3	<p>Обучающийся правильно понимает физическую сущность рассматриваемых явлений и закономерностей, но:</p> <ol style="list-style-type: none"> <li>1. В его ответе, имеются отдельные пробелы в усвоении вопросов курса физики, не препятствующие дальнейшему усвоению программного материала.</li> <li>2. Обучающийся может допустить не более одной грубой ошибки и двух недочетов; или не более одной грубой ошибки и не более двух-трех негрубых ошибок; или одной негрубой ошибки и трех недочетов; или четырех или пяти недочетов.</li> </ol>

**Задание №6 (из текущего контроля)**

Сформулируйте развернутый ответ на вопрос: "Закон всемирного тяготения. Сила тяжести".

<i>Оценка</i>	<i>Показатели оценки</i>

5	<ol style="list-style-type: none"> <li>1. Показывает верное понимание физической сущности рассматриваемых явлений и закономерностей, законов и теорий, дает точное определение и истолкование основных понятий, законов, теорий.</li> <li>2. Дает правильное определение физических величин, их единиц и способов измерения.</li> <li>3. Правильно выполняет чертежи, схемы и графики.</li> <li>4. Сопровождает рассказ новыми примерами.</li> </ol>
4	<p>Ответ удовлетворяет основным требованиям к ответу на оценку 5, но:</p> <ol style="list-style-type: none"> <li>1. Обучающийся допустил одну ошибку или не более двух недочетов и может их исправить самостоятельно или с небольшой помощью преподавателя.</li> <li>2. Ответ дан без использования новых примеров.</li> </ol>
3	<p>Обучающийся правильно понимает физическую сущность рассматриваемых явлений и закономерностей, но:</p> <ol style="list-style-type: none"> <li>1. В его ответе, имеются отдельные пробелы в усвоении вопросов курса физики, не препятствующие дальнейшему усвоению программного материала.</li> <li>2. Обучающийся может допустить не более одной грубой ошибки и двух недочетов; или не более одной грубой ошибки и не более двух-трех негрубых ошибок; или одной негрубой ошибки и трех недочетов; или четырех или пяти недочетов.</li> </ol>

**Задание №7 (из текущего контроля)**

Сформулируйте развернутый ответ на вопрос: "Сила упругости. Вес тела. Невесомость".

<i>Оценка</i>	<i>Показатели оценки</i>

5	<ol style="list-style-type: none"> <li>1. Показывает верное понимание физической сущности рассматриваемых явлений и закономерностей, законов и теорий, дает точное определение и истолкование основных понятий, законов, теорий.</li> <li>2. Дает правильное определение физических величин, их единиц и способов измерения.</li> <li>3. Правильно выполняет чертежи, схемы и графики.</li> <li>4. Сопровождает рассказ новыми примерами.</li> </ol>
4	<p>Ответ удовлетворяет основным требованиям к ответу на оценку 5, но:</p> <ol style="list-style-type: none"> <li>1. Обучающийся допустил одну ошибку или не более двух недочетов и может их исправить самостоятельно или с небольшой помощью преподавателя.</li> <li>2. Ответ дан без использования новых примеров.</li> </ol>
3	<p>Обучающийся правильно понимает физическую сущность рассматриваемых явлений и закономерностей, но:</p> <ol style="list-style-type: none"> <li>1. В его ответе, имеются отдельные пробелы в усвоении вопросов курса физики, не препятствующие дальнейшему усвоению программного материала.</li> <li>2. Обучающийся может допустить не более одной грубой ошибки и двух недочетов; или не более одной грубой ошибки и не более двух-трех негрубых ошибок; или одной негрубой ошибки и трех недочетов; или четырех или пяти недочетов.</li> </ol>

**Задание №8 (из текущего контроля)**

Сформулируйте развернутый ответ на вопрос: "Силы трения. Коэффициент трения".

<i>Оценка</i>	<i>Показатели оценки</i>

5	<ol style="list-style-type: none"> <li>1. Показывает верное понимание физической сущности рассматриваемых явлений и закономерностей, законов и теорий, дает точное определение и истолкование основных понятий, законов, теорий.</li> <li>2. Дает правильное определение физических величин, их единиц и способов измерения.</li> <li>3. Правильно выполняет чертежи, схемы и графики.</li> <li>4. Сопровождает рассказ новыми примерами.</li> </ol>
4	<p>Ответ удовлетворяет основным требованиям к ответу на оценку 5, но:</p> <ol style="list-style-type: none"> <li>1. Обучающийся допустил одну ошибку или не более двух недочетов и может их исправить самостоятельно или с небольшой помощью преподавателя.</li> <li>2. Ответ дан без использования новых примеров.</li> </ol>
3	<p>Обучающийся правильно понимает физическую сущность рассматриваемых явлений и закономерностей, но:</p> <ol style="list-style-type: none"> <li>1. В его ответе, имеются отдельные пробелы в усвоении вопросов курса физики, не препятствующие дальнейшему усвоению программного материала.</li> <li>2. Обучающийся может допустить не более одной грубой ошибки и двух недочетов; или не более одной грубой ошибки и не более двух-трех негрубых ошибок; или одной негрубой ошибки и трех недочетов; или четырех или пяти недочетов.</li> </ol>

**Задание №9 (из текущего контроля)**

Сформулируйте развернутый ответ на вопрос: "Импульс тела. Импульс силы. Закон сохранения импульса".

<i>Оценка</i>	<i>Показатели оценки</i>

5	<ol style="list-style-type: none"> <li>1. Показывает верное понимание физической сущности рассматриваемых явлений и закономерностей, законов и теорий, дает точное определение и истолкование основных понятий, законов, теорий.</li> <li>2. Дает правильное определение физических величин, их единиц и способов измерения.</li> <li>3. Правильно выполняет чертежи, схемы и графики.</li> <li>4. Сопровождает рассказ новыми примерами.</li> </ol>
4	<p>Ответ удовлетворяет основным требованиям к ответу на оценку 5, но:</p> <ol style="list-style-type: none"> <li>1. Обучающийся допустил одну ошибку или не более двух недочетов и может их исправить самостоятельно или с небольшой помощью преподавателя.</li> <li>2. Ответ дан без использования новых примеров.</li> </ol>
3	<p>Обучающийся правильно понимает физическую сущность рассматриваемых явлений и закономерностей, но:</p> <ol style="list-style-type: none"> <li>1. В его ответе имеются отдельные пробелы в усвоении вопросов курса физики, не препятствующие дальнейшему усвоению программного материала.</li> <li>2. Обучающийся может допустить не более одной грубой ошибки и двух недочетов; или не более одной грубой ошибки и не более двух-трех негрубых ошибок; или одной негрубой ошибки и трех недочетов; или четырех или пяти недочетов.</li> </ol>

**Задание №10 (из текущего контроля)**

Сформулируйте развернутый ответ на вопрос: "Механическая работа и мощность. Единицы измерения работы и мощности".

<i>Оценка</i>	<i>Показатели оценки</i>

5	<ol style="list-style-type: none"> <li>1. Показывает верное понимание физической сущности рассматриваемых явлений и закономерностей, законов и теорий, дает точное определение и истолкование основных понятий, законов, теорий.</li> <li>2. Дает правильное определение физических величин, их единиц и способов измерения.</li> <li>3. Правильно выполняет чертежи, схемы и графики.</li> <li>4. Сопровождает рассказ новыми примерами.</li> </ol>
4	<p>Ответ удовлетворяет основным требованиям к ответу на оценку 5, но:</p> <ol style="list-style-type: none"> <li>1. Обучающийся допустил одну ошибку или не более двух недочетов и может их исправить самостоятельно или с небольшой помощью преподавателя.</li> <li>2. Ответ дан без использования новых примеров.</li> </ol>
3	<p>Обучающийся правильно понимает физическую сущность рассматриваемых явлений и закономерностей, но:</p> <ol style="list-style-type: none"> <li>1. В его ответе, имеются отдельные пробелы в усвоении вопросов курса физики, не препятствующие дальнейшему усвоению программного материала.</li> <li>2. Обучающийся может допустить не более одной грубой ошибки и двух недочетов; или не более одной грубой ошибки и не более двух-трех негрубых ошибок; или одной негрубой ошибки и трех недочетов; или четырех или пяти недочетов.</li> </ol>

**Задание №11 (из текущего контроля)**

Сформулируйте развернутый ответ на вопрос: "Механическая энергия. Закон сохранения полной механической энергии".

<i>Оценка</i>	<i>Показатели оценки</i>

5	<ol style="list-style-type: none"> <li>1. Показывает верное понимание физической сущности рассматриваемых явлений и закономерностей, законов и теорий, дает точное определение и истолкование основных понятий, законов, теорий.</li> <li>2. Дает правильное определение физических величин, их единиц и способов измерения.</li> <li>3. Правильно выполняет чертежи, схемы и графики.</li> <li>4. Сопровождает рассказ новыми примерами.</li> </ol>
4	<p>Ответ удовлетворяет основным требованиям к ответу на оценку 5, но:</p> <ol style="list-style-type: none"> <li>1. Обучающийся допустил одну ошибку или не более двух недочетов и может их исправить самостоятельно или с небольшой помощью преподавателя.</li> <li>2. Ответ дан без использования новых примеров.</li> </ol>
3	<p>Обучающийся правильно понимает физическую сущность рассматриваемых явлений и закономерностей, но:</p> <ol style="list-style-type: none"> <li>1. В его ответе, имеются отдельные пробелы в усвоении вопросов курса физики, не препятствующие дальнейшему усвоению программного материала.</li> <li>2. Обучающийся может допустить не более одной грубой ошибки и двух недочетов; или не более одной грубой ошибки и не более двух-трех негрубых ошибок; или одной негрубой ошибки и трех недочетов; или четырех или пяти недочетов.</li> </ol>

**Задание №12 (из текущего контроля)**

Сформулируйте развернутый ответ на вопрос: "Статика. Условия равновесия тел".

<i>Оценка</i>	<i>Показатели оценки</i>



5	<ol style="list-style-type: none"> <li>1. Показывает верное понимание физической сущности рассматриваемых явлений и закономерностей, законов и теорий, дает точное определение и истолкование основных понятий, законов, теорий.</li> <li>2. Дает правильное определение физических величин, их единиц и способов измерения.</li> <li>3. Правильно выполняет чертежи, схемы и графики.</li> <li>4. Сопровождает рассказ новыми примерами.</li> </ol>
4	<p>Ответ удовлетворяет основным требованиям к ответу на оценку 5, но:</p> <ol style="list-style-type: none"> <li>1. Обучающийся допустил одну ошибку или не более двух недочетов и может их исправить самостоятельно или с небольшой помощью преподавателя.</li> <li>2. Ответ дан без использования новых примеров</li> </ol>
3	<p>Обучающийся правильно понимает физическую сущность рассматриваемых явлений и закономерностей, но:</p> <ol style="list-style-type: none"> <li>1. В его ответе, имеются отдельные пробелы в усвоении вопросов курса физики, не препятствующие дальнейшему усвоению программного материала.</li> <li>2. Обучающийся может допустить не более одной грубой ошибки и двух недочетов; или не более одной грубой ошибки и не более двух-трех негрубых ошибок; или одной негрубой ошибки и трех недочетов; или четырех или пяти недочетов.</li> </ol>

**Задание №13 (из текущего контроля)**

Сформулируйте развернутый ответ на вопрос "Основные положения МКТ. Основное уравнение МКТ. Температура".

<i>Оценка</i>	<i>Показатели оценки</i>

5	<ol style="list-style-type: none"> <li>1. Показывает верное понимание физической сущности рассматриваемых явлений и закономерностей, законов и теорий, дает точное определение и истолкование основных понятий, законов, теорий.</li> <li>2. Дает правильное определение физических величин, их единиц и способов измерения.</li> <li>3. Правильно выполняет чертежи, схемы и графики.</li> <li>4. Сопровождает рассказ новыми примерами.</li> </ol>
4	<p>Ответ удовлетворяет основным требованиям к ответу на оценку 5, но:</p> <ol style="list-style-type: none"> <li>1. Обучающийся допустил одну ошибку или не более двух недочетов и может их исправить самостоятельно или с небольшой помощью преподавателя.</li> <li>2. Ответ дан без использования новых примеров.</li> </ol>
3	<p>Обучающийся правильно понимает физическую сущность рассматриваемых явлений и закономерностей, но:</p> <ol style="list-style-type: none"> <li>1. В его ответе, имеются отдельные пробелы в усвоении вопросов курса физики, не препятствующие дальнейшему усвоению программного материала.</li> <li>2. Обучающийся может допустить не более одной грубой ошибки и двух недочетов; или не более одной грубой ошибки и не более двух-трех негрубых ошибок; или одной негрубой ошибки и трех недочетов; или четырех или пяти недочетов.</li> </ol>

**Задание №14 (из текущего контроля)**

Сформулируйте развернутый ответ на вопрос "Изопроцессы в газах и законы, описывающие их".

<i>Оценка</i>	<i>Показатели оценки</i>

5	<ol style="list-style-type: none"> <li>1. Показывает верное понимание физической сущности рассматриваемых явлений и закономерностей, законов и теорий, дает точное определение и истолкование основных понятий, законов, теорий.</li> <li>2. Дает правильное определение физических величин, их единиц и способов измерения.</li> <li>3. Правильно выполняет чертежи, схемы и графики.</li> <li>4. Сопровождает рассказ новыми примерами.</li> </ol>
4	<p>Ответ удовлетворяет основным требованиям к ответу на оценку 5, но:</p> <ol style="list-style-type: none"> <li>1. Обучающийся допустил одну ошибку или не более двух недочетов и может их исправить самостоятельно или с небольшой помощью преподавателя.</li> <li>2. Ответ дан без использования новых примеров.</li> </ol>
3	<p>Обучающийся правильно понимает физическую сущность рассматриваемых явлений и закономерностей, но:</p> <ol style="list-style-type: none"> <li>1. В его ответе, имеются отдельные пробелы в усвоении вопросов курса физики, не препятствующие дальнейшему усвоению программного материала.</li> <li>2. Обучающийся может допустить не более одной грубой ошибки и двух недочетов; или не более одной грубой ошибки и не более двух-трех негрубых ошибок; или одной негрубой ошибки и трех недочетов; или четырех или пяти недочетов.</li> </ol>

**Задание №15 (из текущего контроля)**

Сформулируйте развернутый ответ на вопрос "Поверхностное натяжение жидкости. Явления смачивания и не смачивания".

<i>Оценка</i>	<i>Показатели оценки</i>

5	<ol style="list-style-type: none"> <li>1. Показывает верное понимание физической сущности рассматриваемых явлений и закономерностей, законов и теорий, дает точное определение и истолкование основных понятий, законов, теорий.</li> <li>2. Дает правильное определение физических величин, их единиц и способов измерения.</li> <li>3. Правильно выполняет чертежи, схемы и графики.</li> <li>4. Сопровождает рассказ новыми примерами.</li> </ol>
4	<p>Ответ удовлетворяет основным требованиям к ответу на оценку 5, но:</p> <ol style="list-style-type: none"> <li>1. Обучающийся допустил одну ошибку или не более двух недочетов и может их исправить самостоятельно или с небольшой помощью преподавателя.</li> <li>2. Ответ дан без использования новых примеров.</li> </ol>
3	<p>Обучающийся правильно понимает физическую сущность рассматриваемых явлений и закономерностей, но:</p> <ol style="list-style-type: none"> <li>1. В его ответе, имеются отдельные пробелы в усвоении вопросов курса физики, не препятствующие дальнейшему усвоению программного материала.</li> <li>2. Обучающийся может допустить не более одной грубой ошибки и двух недочетов; или не более одной грубой ошибки и не более двух-трех негрубых ошибок; или одной негрубой ошибки и трех недочетов; или четырех или пяти недочетов.</li> </ol>

### **Задание №16 (из текущего контроля)**

Сформулируйте развернутый ответ на вопрос: Понятия кристаллического и аморфного тел. Виды кристаллических решеток. Плавление и кристаллизация твердых тел.

<i>Оценка</i>	<i>Показатели оценки</i>

5	<ol style="list-style-type: none"> <li>1. Показывает верное понимание физической сущности рассматриваемых явлений и закономерностей, законов и теорий, дает точное определение и истолкование основных понятий, законов, теорий.</li> <li>2. Дает правильное определение физических величин, их единиц и способов измерения.</li> <li>3. Правильно выполняет чертежи, схемы и графики.</li> <li>4. Сопровождает рассказ новыми примерами.</li> </ol>
4	<p>Ответ удовлетворяет основным требованиям к ответу на оценку 5, но:</p> <ol style="list-style-type: none"> <li>1. Обучающийся допустил одну ошибку или не более двух недочетов и может их исправить самостоятельно или с небольшой помощью преподавателя.</li> <li>2. Ответ дан без использования новых примеров.</li> </ol>
3	<p>Обучающийся правильно понимает физическую сущность рассматриваемых явлений и закономерностей, но:</p> <ol style="list-style-type: none"> <li>1. В его ответе, имеются отдельные пробелы в усвоении вопросов курса физики, не препятствующие дальнейшему усвоению программного материала.</li> <li>2. Обучающийся может допустить не более одной грубой ошибки и двух недочетов; или не более одной грубой ошибки и не более двух-трех негрубых ошибок; или одной негрубой ошибки и трех недочетов; или четырех или пяти недочетов.</li> </ol>

### Задание №17 (из текущего контроля)

Сформулируйте развернутый ответ на вопрос: "Работа сил электрического поля по переносу заряда. Потенциал, разность потенциалов. Напряжение".

<i>Оценка</i>	<i>Показатели оценки</i>

5	<ol style="list-style-type: none"> <li>1. Показывает верное понимание физической сущности рассматриваемых явлений и закономерностей, законов и теорий, дает точное определение и истолкование основных понятий, законов, теорий</li> <li>2. Дает правильное определение физических величин, их единиц и способов измерения</li> <li>3. Правильно выполняет чертежи, схемы и графики</li> <li>4. Сопровождает рассказ новыми примерами</li> </ol>
4	<p>Ответ удовлетворяет основным требованиям к ответу на оценку 5, но:</p> <ol style="list-style-type: none"> <li>1. Обучающийся допустил одну ошибку или не более двух недочетов и может их исправить самостоятельно или с небольшой помощью преподавателя.</li> <li>2. Ответ дан без использования новых примеров.</li> </ol>
3	<p>Обучающийся правильно понимает физическую сущность рассматриваемых явлений и закономерностей, но:</p> <ol style="list-style-type: none"> <li>1. В его ответе, имеются отдельные пробелы в усвоении вопросов курса физики, не препятствующие дальнейшему усвоению программного материала.</li> <li>2. Обучающийся может допустить не более одной грубой ошибки и двух недочетов; или не более одной грубой ошибки и не более двух-трех негрубых ошибок; или одной негрубой ошибки и трех недочетов; или четырех или пяти недочетов.</li> </ol>

**Задание №18 (из текущего контроля)**

Сформулируйте развернутый ответ на вопрос: "Конденсаторы. Электроемкость плоского конденсатора. Энергия заряженного конденсатора".

<i>Оценка</i>	<i>Показатели оценки</i>

5	<ol style="list-style-type: none"> <li>1. Показывает верное понимание физической сущности рассматриваемых явлений и закономерностей, законов и теорий, дает точное определение и истолкование основных понятий, законов, теорий</li> <li>2. Дает правильное определение физических величин, их единиц и способов измерения</li> <li>3. Правильно выполняет чертежи, схемы и графики</li> <li>4. Сопровождает рассказ новыми примерами</li> </ol>
4	<p>Ответ удовлетворяет основным требованиям к ответу на оценку 5, но:</p> <ol style="list-style-type: none"> <li>1. Обучающийся допустил одну ошибку или не более двух недочетов и может их исправить самостоятельно или с небольшой помощью преподавателя.</li> <li>2. Ответ дан без использования новых примеров.</li> </ol>
3	<p>Обучающийся правильно понимает физическую сущность рассматриваемых явлений и закономерностей, но:</p> <ol style="list-style-type: none"> <li>1. В его ответе, имеются отдельные пробелы в усвоении вопросов курса физики, не препятствующие дальнейшему усвоению программного материала.</li> <li>2. Обучающийся может допустить не более одной грубой ошибки и двух недочетов; или не более одной грубой ошибки и не более двух-трех негрубых ошибок; или одной негрубой ошибки и трех недочетов; или четырех или пяти недочетов.</li> </ol>

**Задание №19 (из текущего контроля)**

Сформулируйте развернутый ответ на вопрос: "Э.Д.С. источника тока. Закон Ома для полной цепи".

<i>Оценка</i>	<i>Показатели оценки</i>

5	<ol style="list-style-type: none"> <li>1. Показывает верное понимание физической сущности рассматриваемых явлений и закономерностей, законов и теорий, дает точное определение и истолкование основных понятий, законов, теорий</li> <li>2. Дает правильное определение физических величин, их единиц и способов измерения</li> <li>3. Правильно выполняет чертежи, схемы и графики</li> <li>4. Сопровождает рассказ новыми примерами</li> </ol>
4	<p>Ответ удовлетворяет основным требованиям к ответу на оценку 5, но:</p> <ol style="list-style-type: none"> <li>1. Обучающийся допустил одну ошибку или не более двух недочетов и может их исправить самостоятельно или с небольшой помощью преподавателя.</li> <li>2. Ответ дан без использования новых примеров.</li> </ol>
3	<p>Обучающийся правильно понимает физическую сущность рассматриваемых явлений и закономерностей, но:</p> <ol style="list-style-type: none"> <li>1. В его ответе, имеются отдельные пробелы в усвоении вопросов курса физики, не препятствующие дальнейшему усвоению программного материала.</li> <li>2. Обучающийся может допустить не более одной грубой ошибки и двух недочетов; или не более одной грубой ошибки и не более двух-трех негрубых ошибок; или одной негрубой ошибки и трех недочетов; или четырех или пяти недочетов.</li> </ol>

**Задание №20 (из текущего контроля)**

Сформулируйте развернутый ответ на вопрос: "Электрический ток в полупроводниках. Собственная и примесная проводимости полупроводников".

<i>Оценка</i>	<i>Показатели оценки</i>



5	<ol style="list-style-type: none"> <li>1. Показывает верное понимание физической сущности рассматриваемых явлений и закономерностей, законов и теорий, дает точное определение и истолкование основных понятий, законов, теорий</li> <li>2. Дает правильное определение физических величин, их единиц и способов измерения</li> <li>3. Правильно выполняет чертежи, схемы и графики</li> <li>4. Сопровождает рассказ новыми примерами</li> </ol>
4	<p>Ответ удовлетворяет основным требованиям к ответу на оценку 5, но:</p> <ol style="list-style-type: none"> <li>1. Обучающийся допустил одну ошибку или не более двух недочетов и может их исправить самостоятельно или с небольшой помощью преподавателя.</li> <li>2. Ответ дан без использования новых примеров.</li> </ol>
3	<p>Обучающийся правильно понимает физическую сущность рассматриваемых явлений и закономерностей, но:</p> <ol style="list-style-type: none"> <li>1. В его ответе, имеются отдельные пробелы в усвоении вопросов курса физики, не препятствующие дальнейшему усвоению программного материала.</li> <li>2. Обучающийся может допустить не более одной грубой ошибки и двух недочетов; или не более одной грубой ошибки и не более двух-трех негрубых ошибок; или одной негрубой ошибки и трех недочетов; или четырех или пяти недочетов.</li> </ol>

**Задание №21 (из текущего контроля)**

Сформулируйте развернутый ответ на вопрос: "Понятие магнитного поля. Магнитная индукция, линии магнитной индукции, их свойства".

<i>Оценка</i>	<i>Показатели оценки</i>

5	<ol style="list-style-type: none"> <li>1. Показывает верное понимание физической сущности рассматриваемых явлений и закономерностей, законов и теорий, дает точное определение и истолкование основных понятий, законов, теорий</li> <li>2. Дает правильное определение физических величин, их единиц и способов измерения</li> <li>3. Правильно выполняет чертежи, схемы и графики</li> <li>4. Сопровождает рассказ новыми примерами</li> </ol>
4	<p>Ответ удовлетворяет основным требованиям к ответу на оценку 5, но:</p> <ol style="list-style-type: none"> <li>1. Обучающийся допустил одну ошибку или не более двух недочетов и может их исправить самостоятельно или с небольшой помощью преподавателя.</li> <li>2. Ответ дан без использования новых примеров.</li> </ol>
3	<p>Обучающийся правильно понимает физическую сущность рассматриваемых явлений и закономерностей, но:</p> <ol style="list-style-type: none"> <li>1. В его ответе, имеются отдельные пробелы в усвоении вопросов курса физики, не препятствующие дальнейшему усвоению программного материала.</li> <li>2. Обучающийся может допустить не более одной грубой ошибки и двух недочетов; или не более одной грубой ошибки и не более двух-трех негрубых ошибок; или одной негрубой ошибки и трех недочетов; или четырех или пяти недочетов.</li> </ol>

**Задание №22 (из текущего контроля)**

Сформулируйте развернутый ответ на вопрос: "Явление электромагнитной индукции. Опыты Фарадея. Правило Ленца. Явление самоиндукции".

<i>Оценка</i>	<i>Показатели оценки</i>

5	<ol style="list-style-type: none"> <li>1. Показывает верное понимание физической сущности рассматриваемых явлений и закономерностей, законов и теорий, дает точное определение и истолкование основных понятий, законов, теорий</li> <li>2. Дает правильное определение физических величин, их единиц и способов измерения</li> <li>3. Правильно выполняет чертежи, схемы и графики</li> <li>4. Сопровождает рассказ новыми примерами</li> </ol>
4	<p>Ответ удовлетворяет основным требованиям к ответу на оценку 5, но:</p> <ol style="list-style-type: none"> <li>1. Обучающийся допустил одну ошибку или не более двух недочетов и может их исправить самостоятельно или с небольшой помощью преподавателя.</li> <li>2. Ответ дан без использования новых примеров.</li> </ol>
3	<p>Обучающийся правильно понимает физическую сущность рассматриваемых явлений и закономерностей, но:</p> <ol style="list-style-type: none"> <li>1. В его ответе, имеются отдельные пробелы в усвоении вопросов курса физики, не препятствующие дальнейшему усвоению программного материала.</li> <li>2. Обучающийся может допустить не более одной грубой ошибки и двух недочетов; или не более одной грубой ошибки и не более двух-трех негрубых ошибок; или одной негрубой ошибки и трех недочетов; или четырех или пяти недочетов.</li> </ol>

**Задание №23 (из текущего контроля)**

Сформулируйте развернутый ответ на вопрос "Механические колебания. Параметры колебательного движения. Уравнение гармонического колебания".

<i>Оценка</i>	<i>Показатели оценки</i>

5	<ol style="list-style-type: none"> <li>1. Показывает верное понимание физической сущности рассматриваемых явлений и закономерностей, законов и теорий, дает точное определение и истолкование основных понятий, законов, теорий.</li> <li>2. Дает правильное определение физических величин, их единиц и способов измерения.</li> <li>3. Правильно выполняет чертежи, схемы и графики.</li> <li>4. Сопровождает рассказ новыми примерами.</li> </ol>
4	<p>Ответ удовлетворяет основным требованиям к ответу на оценку 5, но:</p> <ol style="list-style-type: none"> <li>1. Обучающийся допустил одну ошибку или не более двух недочетов и может их исправить самостоятельно или с небольшой помощью преподавателя.</li> <li>2. Ответ дан без использования новых примеров.</li> </ol>
3	<p>Обучающийся правильно понимает физическую сущность рассматриваемых явлений и закономерностей, но:</p> <ol style="list-style-type: none"> <li>1. В ответе имеются отдельные пробелы в усвоении вопросов курса физики, не препятствующие дальнейшему усвоению программного материала.</li> <li>2. Обучающийся может допустить не более одной грубой ошибки и двух недочетов; или не более одной грубой ошибки и не более двух-трех негрубых ошибок; или одной негрубой ошибки и трех недочетов; или четырех или пяти недочетов.</li> </ol>

**Задание №24 (из текущего контроля)**

Сформулируйте развернутый ответ на вопрос "Механические волны и их характеристики".

<i>Оценка</i>	<i>Показатели оценки</i>

5	<ol style="list-style-type: none"> <li>1. Показывает верное понимание физической сущности рассматриваемых явлений и закономерностей, законов и теорий, дает точное определение и истолкование основных понятий, законов, теорий.</li> <li>2. Дает правильное определение физических величин, их единиц и способов измерения.</li> <li>3. Правильно выполняет чертежи, схемы и графики.</li> <li>4. Сопровождает рассказ новыми примерами.</li> </ol>
4	<p>Ответ удовлетворяет основным требованиям к ответу на оценку 5, но:</p> <ol style="list-style-type: none"> <li>1. Обучающийся допустил одну ошибку или не более двух недочетов и может их исправить самостоятельно или с небольшой помощью преподавателя.</li> <li>2. Ответ дан без использования новых примеров.</li> </ol>
3	<p>Обучающийся правильно понимает физическую сущность рассматриваемых явлений и закономерностей, но:</p> <ol style="list-style-type: none"> <li>1. В ответе имеются отдельные пробелы в усвоении вопросов курса физики, не препятствующие дальнейшему усвоению программного материала.</li> <li>2. Обучающийся может допустить не более одной грубой ошибки и двух недочетов; или не более одной грубой ошибки и не более двух-трех негрубых ошибок; или одной негрубой ошибки и трех недочетов; или четырех или пяти недочетов.</li> </ol>

### **Задание №25 (из текущего контроля)**

Сформулируйте развернутый ответ на вопрос "Переменный ток, его получение и параметры. Закон Ома для цепи переменного тока".

<b>Оценка</b>	<b>Показатели оценки</b>

5	<ol style="list-style-type: none"> <li>1. Показывает верное понимание физической сущности рассматриваемых явлений и закономерностей, законов и теорий, дает точное определение и истолкование основных понятий, законов, теорий.</li> <li>2. Дает правильное определение физических величин, их единиц и способов измерения.</li> <li>3. Правильно выполняет чертежи, схемы и графики.</li> <li>4. Сопровождает рассказ новыми примерами.</li> </ol>
4	<p>Ответ удовлетворяет основным требованиям к ответу на оценку 5, но:</p> <ol style="list-style-type: none"> <li>1. Обучающийся допустил одну ошибку или не более двух недочетов и может их исправить самостоятельно или с небольшой помощью преподавателя.</li> <li>2. Ответ дан без использования новых примеров.</li> </ol>
3	<p>Обучающийся правильно понимает физическую сущность рассматриваемых явлений и закономерностей, но:</p> <ol style="list-style-type: none"> <li>1. В ответе имеются отдельные пробелы в усвоении вопросов курса физики, не препятствующие дальнейшему усвоению программного материала.</li> <li>1. Обучающийся может допустить не более одной грубой ошибки и двух недочетов; или не более одной грубой ошибки и не более двух-трех негрубых ошибок; или одной негрубой ошибки и трех недочетов; или четырех или пяти недочетов.</li> </ol>

**Задание №26 (из текущего контроля)**

Сформулируйте развернутый ответ на вопрос "Электромагнитное поле и его распространение в пространстве в виде электромагнитных волн".

<i>Оценка</i>	<i>Показатели оценки</i>

5	<ol style="list-style-type: none"> <li>1. Показывает верное понимание физической сущности рассматриваемых явлений и закономерностей, законов и теорий, дает точное определение и истолкование основных понятий, законов, теорий.</li> <li>2. Дает правильное определение физических величин, их единиц и способов измерения.</li> <li>3. Правильно выполняет чертежи, схемы и графики.</li> <li>4. Сопровождает рассказ новыми примерами.</li> </ol>
4	<p>Ответ удовлетворяет основным требованиям к ответу на оценку 5, но:</p> <ol style="list-style-type: none"> <li>1. Обучающийся допустил одну ошибку или не более двух недочетов и может их исправить самостоятельно или с небольшой помощью преподавателя.</li> <li>2. Ответ дан без использования новых примеров.</li> </ol>
3	<p>Обучающийся правильно понимает физическую сущность рассматриваемых явлений и закономерностей, но:</p> <ol style="list-style-type: none"> <li>1. В ответе имеются отдельные пробелы в усвоении вопросов курса физики, не препятствующие дальнейшему усвоению программного материала.</li> <li>1. Обучающийся может допустить не более одной грубой ошибки и двух недочетов; или не более одной грубой ошибки и не более двух-трех негрубых ошибок; или одной негрубой ошибки и трех недочетов; или четырех или пяти недочетов.</li> </ol>

**Задание №27 (из текущего контроля)**

Сформулируйте развернутый ответ на вопрос "Законы геометрической оптики. Тонкие линзы".

<i>Оценка</i>	<i>Показатели оценки</i>

5	<ol style="list-style-type: none"> <li>1. Показывает верное понимание физической сущности рассматриваемых явлений и закономерностей, законов и теорий, дает точное определение и истолкование основных понятий, законов, теорий.</li> <li>2. Дает правильное определение физических величин, их единиц и способов измерения.</li> <li>3. Правильно выполняет чертежи, схемы и графики.</li> <li>4. Сопровождает рассказ новыми примерами.</li> </ol>
4	<p>Ответ удовлетворяет основным требованиям к ответу на оценку 5, но:</p> <ol style="list-style-type: none"> <li>1. Обучающийся допустил одну ошибку или не более двух недочетов и может их исправить самостоятельно или с небольшой помощью преподавателя.</li> <li>2. Ответ дан без использования новых примеров.</li> </ol>
3	<p>Обучающийся правильно понимает физическую сущность рассматриваемых явлений и закономерностей, но:</p> <ol style="list-style-type: none"> <li>1. В ответе имеются отдельные пробелы в усвоении вопросов курса физики, не препятствующие дальнейшему усвоению программного материала.</li> <li>2. Обучающийся может допустить не более одной грубой ошибки и двух недочетов; или не более одной грубой ошибки и не более двух-трех негрубых ошибок; или одной негрубой ошибки и трех недочетов; или четырех или пяти недочетов.</li> </ol>

**Задание №28 (из текущего контроля)**

Сформулируйте развернутый ответ на вопрос "Интерференция света, ее проявление и применение в технике".

<i>Оценка</i>	<i>Показатели оценки</i>



5	<ol style="list-style-type: none"> <li>1. Показывает верное понимание физической сущности рассматриваемых явлений и закономерностей, законов и теорий, дает точное определение и истолкование основных понятий, законов, теорий.</li> <li>2. Дает правильное определение физических величин, их единиц и способов измерения.</li> <li>3. Правильно выполняет чертежи, схемы и графики.</li> <li>4. Сопровождает рассказ новыми примерами.</li> </ol>
4	<p>Ответ удовлетворяет основным требованиям к ответу на оценку 5, но:</p> <ol style="list-style-type: none"> <li>1. Обучающийся допустил одну ошибку или не более двух недочетов и может их исправить самостоятельно или с небольшой помощью преподавателя.</li> <li>2. Ответ дан без использования новых примеров.</li> </ol>
3	<p>Обучающийся правильно понимает физическую сущность рассматриваемых явлений и закономерностей, но:</p> <ol style="list-style-type: none"> <li>1. В ответе имеются отдельные пробелы в усвоении вопросов курса физики, не препятствующие дальнейшему усвоению программного материала.</li> <li>2. Обучающийся может допустить не более одной грубой ошибки и двух недочетов; или не более одной грубой ошибки и не более двух-трех негрубых ошибок; или одной негрубой ошибки и трех недочетов; или четырех или пяти недочетов.</li> </ol>

**Задание №29 (из текущего контроля)**

Сформулируйте развернутый ответ на вопрос "Дифракция света. Дифракционная решетка. Уравнение дифракционной решетки".

<i>Оценка</i>	<i>Показатели оценки</i>

5	<ol style="list-style-type: none"> <li>1. Показывает верное понимание физической сущности рассматриваемых явлений и закономерностей, законов и теорий, дает точное определение и истолкование основных понятий, законов, теорий.</li> <li>2. Дает правильное определение физических величин, их единиц и способов измерения.</li> <li>3. Правильно выполняет чертежи, схемы и графики.</li> <li>4. Сопровождает рассказ новыми примерами.</li> </ol>
4	<p>Ответ удовлетворяет основным требованиям к ответу на оценку 5, но:</p> <ol style="list-style-type: none"> <li>1. Обучающийся допустил одну ошибку или не более двух недочетов и может их исправить самостоятельно или с небольшой помощью преподавателя.</li> <li>2. Ответ дан без использования новых примеров.</li> </ol>
3	<p>Обучающийся правильно понимает физическую сущность рассматриваемых явлений и закономерностей, но:</p> <ol style="list-style-type: none"> <li>1. В ответе имеются отдельные пробелы в усвоении вопросов курса физики, не препятствующие дальнейшему усвоению программного материала.</li> <li>2. Обучающийся может допустить не более одной грубой ошибки и двух недочетов; или не более одной грубой ошибки и не более двух-трех негрубых ошибок; или одной негрубой ошибки и трех недочетов; или четырех или пяти недочетов.</li> </ol>

**Задание №30 (из текущего контроля)**

Сформулируйте развернутый ответ на вопрос "Явление внешнего фотоэффекта. Законы А.Г. Столетова для внешнего фотоэффекта. Уравнение А. Эйнштейна для внешнего фотоэффекта".

<i>Оценка</i>	<i>Показатели оценки</i>

5	<ol style="list-style-type: none"> <li>1. Показывает верное понимание физической сущности рассматриваемых явлений и закономерностей, законов и теорий, дает точное определение и истолкование основных понятий, законов, теорий.</li> <li>2. Дает правильное определение физических величин, их единиц и способов измерения.</li> <li>3. Правильно выполняет чертежи, схемы и графики.</li> <li>4. Сопровождает рассказ новыми примерами.</li> </ol>
4	<p>Ответ удовлетворяет основным требованиям к ответу на оценку 5, но:</p> <ol style="list-style-type: none"> <li>1. Обучающийся допустил одну ошибку или не более двух недочетов и может их исправить самостоятельно или с небольшой помощью преподавателя.</li> <li>2. Ответ дан без использования новых примеров.</li> </ol>
3	<p>Обучающийся правильно понимает физическую сущность рассматриваемых явлений и закономерностей, но:</p> <ol style="list-style-type: none"> <li>1. В ответе имеются отдельные пробелы в усвоении вопросов курса физики, не препятствующие дальнейшему усвоению программного материала.</li> <li>2. Обучающийся может допустить не более одной грубой ошибки и двух недочетов; или не более одной грубой ошибки и не более двух-трех негрубых ошибок; или одной негрубой ошибки и трех недочетов; или четырех или пяти недочетов.</li> </ol>

**Задание №31 (из текущего контроля)**

Сформулируйте развернутый ответ на вопрос "Модель атома по Резерфорду и по Бору. Происхождение спектров излучения и поглощения".

<i>Оценка</i>	<i>Показатели оценки</i>

5	<ol style="list-style-type: none"> <li>1. Показывает верное понимание физической сущности рассматриваемых явлений и закономерностей, законов и теорий, дает точное определение и истолкование основных понятий, законов, теорий.</li> <li>2. Дает правильное определение физических величин, их единиц и способов измерения.</li> <li>3. Правильно выполняет чертежи, схемы и графики.</li> <li>4. Сопровождает рассказ новыми примерами.</li> </ol>
4	<p>Ответ удовлетворяет основным требованиям к ответу на оценку 5, но:</p> <ol style="list-style-type: none"> <li>1. Обучающийся допустил одну ошибку или не более двух недочетов и может их исправить самостоятельно или с небольшой помощью преподавателя.</li> <li>2. Ответ дан без использования новых примеров.</li> </ol>
3	<p>Обучающийся правильно понимает физическую сущность рассматриваемых явлений и закономерностей, но:</p> <ol style="list-style-type: none"> <li>1. В его ответе, имеются отдельные пробелы в усвоении вопросов курса физики, не препятствующие дальнейшему усвоению программного материала.</li> <li>2. Обучающийся может допустить не более одной грубой ошибки и двух недочетов; или не более одной грубой ошибки и не более двух-трех негрубых ошибок; или одной негрубой ошибки и трех недочетов; или четырех или пяти недочетов.</li> </ol>

**Задание №32 (из текущего контроля)**

Сформулируйте развернутый ответ на вопрос "Строение атомного ядра. Ядерные силы. Изотопы".

<i>Оценка</i>	<i>Показатели оценки</i>

5	<ol style="list-style-type: none"> <li>1. Показывает верное понимание физической сущности рассматриваемых явлений и закономерностей, законов и теорий, дает точное определение и истолкование основных понятий, законов, теорий.</li> <li>2. Дает правильное определение физических величин, их единиц и способов измерения.</li> <li>3. Правильно выполняет чертежи, схемы и графики.</li> <li>4. Сопровождает рассказ новыми примерами.</li> </ol>
4	<p>Ответ удовлетворяет основным требованиям к ответу на оценку 5, но:</p> <ol style="list-style-type: none"> <li>1. Обучающийся допустил одну ошибку или не более двух недочетов и может их исправить самостоятельно или с небольшой помощью преподавателя.</li> <li>2. Ответ дан без использования новых примеров.</li> </ol>
3	<p>Обучающийся правильно понимает физическую сущность рассматриваемых явлений и закономерностей, но:</p> <ol style="list-style-type: none"> <li>1. В его ответе, имеются отдельные пробелы в усвоении вопросов курса физики, не препятствующие дальнейшему усвоению программного материала.</li> <li>2. Обучающийся может допустить не более одной грубой ошибки и двух недочетов; или не более одной грубой ошибки и не более двух-трех негрубых ошибок; или одной негрубой ошибки и трех недочетов; или четырех или пяти недочетов.</li> </ol>

**Задание №33 (из текущего контроля)**

Сформулируйте развернутый ответ на вопрос "Правила смещения при альфа- и бета-распадах. Закон радиоактивного распада".

<i>Оценка</i>	<i>Показатели оценки</i>

5	<ol style="list-style-type: none"> <li>1. Показывает верное понимание физической сущности рассматриваемых явлений и закономерностей, законов и теорий, дает точное определение и истолкование основных понятий, законов, теорий.</li> <li>2. Дает правильное определение физических величин, их единиц и способов измерения.</li> <li>3. Правильно выполняет чертежи, схемы и графики.</li> <li>4. Сопровождает рассказ новыми примерами.</li> </ol>
4	<p>Ответ удовлетворяет основным требованиям к ответу на оценку 5, но:</p> <ol style="list-style-type: none"> <li>1. Обучающийся допустил одну ошибку или не более двух недочетов и может их исправить самостоятельно или с небольшой помощью преподавателя.</li> <li>2. Ответ дан без использования новых примеров.</li> </ol>
3	<p>Обучающийся правильно понимает физическую сущность рассматриваемых явлений и закономерностей, но:</p> <ol style="list-style-type: none"> <li>1. В его ответе, имеются отдельные пробелы в усвоении вопросов курса физики, не препятствующие дальнейшему усвоению программного материала.</li> <li>2. Обучающийся может допустить не более одной грубой ошибки и двух недочетов; или не более одной грубой ошибки и не более двух-трех негрубых ошибок; или одной негрубой ошибки и трех недочетов; или четырех или пяти недочетов.</li> </ol>

**Задание №34 (из текущего контроля)**

Сформулируйте развернутый ответ на вопрос "Методы регистрации ионизирующих излучений".

<i>Оценка</i>	<i>Показатели оценки</i>

5	<ol style="list-style-type: none"> <li>1. Показывает верное понимание физической сущности рассматриваемых явлений и закономерностей, законов и теорий, дает точное определение и истолкование основных понятий, законов, теорий.</li> <li>2. Дает правильное определение физических величин, их единиц и способов измерения.</li> <li>3. Правильно выполняет чертежи, схемы и графики.</li> <li>4. Сопровождает рассказ новыми примерами.</li> </ol>
4	<p>Ответ удовлетворяет основным требованиям к ответу на оценку 5, но:</p> <ol style="list-style-type: none"> <li>1. Обучающийся допустил одну ошибку или не более двух недочетов и может их исправить самостоятельно или с небольшой помощью преподавателя.</li> <li>2. Ответ дан без использования новых примеров.</li> </ol>
3	<p>Обучающийся правильно понимает физическую сущность рассматриваемых явлений и закономерностей, но:</p> <ol style="list-style-type: none"> <li>1. В его ответе, имеются отдельные пробелы в усвоении вопросов курса физики, не препятствующие дальнейшему усвоению программного материала.</li> <li>2. Обучающийся может допустить не более одной грубой ошибки и двух недочетов; или не более одной грубой ошибки и не более двух-трех негрубых ошибок; или одной негрубой ошибки и трех недочетов; или четырех или пяти недочетов.</li> </ol>

### **Дидактическая единица для контроля:**

.3.2 владение основополагающими физическими понятиями, закономерностями, законами и теориями; уверенное пользование физической терминологией и символикой;

### **Задание №1 (из текущего контроля)**

Установите соответствие между термином и его определением.

Термин	Определение
1. Физическая величина	А. величина, описывает физические
2. Погрешность измерения	свойства материального объекта, явления,

<b>3. Механическое движение</b>	<p>процесса, которое характеризуется количественно или количественно.</p> <p><b>В.</b> отклонение измеренного значения величины от ее истинного значения</p> <p><b>С.</b> тело, размерами которого можно пренебречь, по сравнению с расстоянием, которое оно проходит</p> <p><b>Д.</b> движение, которое характеризует изменение положения тела в пространстве относительно других тел с течением времени</p> <p><b>Е.</b> векторная физическая величина, характеризующая быстроту перемещения и направление движения материальной точки относительно выбранной системы отсчета</p> <p><b>Ф.</b> векторная физическая величина, количественная мера взаимодействия тел, в результате которого они изменяют скорость или деформируются.</p>
---------------------------------	--

<i>Оценка</i>	<i>Показатели оценки</i>
5	Установлено соответствие по всем терминам, не допущено ошибок.
4	Установлено соответствие по всем терминам, но допущена одна ошибка. ИЛИ При установлении соответствия был пропущен один термин, но в установлении соответствия по другим терминам ошибок нет.
3	Установлено соответствие по всем терминам, но допущено две ошибки. ИЛИ При установлении соответствия были пропущены два термина, но в установлении соответствия по другим терминам ошибок нет.

### **Задание №2 (из текущего контроля)**

Установите соответствие между термином и его определением.

Термин	Определение
<b>1.</b> Скорость	<b>А.</b> величина, описывает физические свойства материального объекта, явления, процесса, которое характеризуется
<b>2.</b> Материальная точка	
<b>3.</b> Механическое движение	



количественно или количественно.  
**В.** отклонение измеренного значения величины от ее истинного значения  
**С.** тело, размерами которого можно пренебречь, по сравнению с расстоянием, которое оно проходит  
**Д.** движение, которое характеризует изменение положения тела в пространстве относительно других тел с течением времени  
**Е.** векторная физическая величина, характеризующая быстроту перемещения и направление движения материальной точки относительно выбранной системы отсчета  
**Ф.** векторная физическая величина, количественная мера взаимодействия тел, в результате которого они изменяют скорость или деформируются.

<i>Оценка</i>	<i>Показатели оценки</i>
5	Установлено соответствие по всем терминам, не допущено ошибок.
4	Установлено соответствие по всем терминам, но допущена одна ошибка. ИЛИ При установлении соответствия был пропущен один термин, но в установлении соответствия по другим терминам ошибок нет.
3	Установлено соответствие по всем терминам, но допущено две ошибки. ИЛИ При установлении соответствия были пропущены два термина, но в установлении соответствия по другим терминам ошибок нет.

### **Задание №3 (из текущего контроля)**

Сформулируйте определение термина «масса», укажите синоним и символьное обозначение.

<i>Оценка</i>	<i>Показатели оценки</i>
5	Представлено верное определение, верно указаны синоним и символьное обозначение.

4	Представлено определение, но имеются замечания; верно указаны синоним и символьное обозначение. ИЛИ Представлено верное определение, но допущены ошибки в представлении синонима или символьного обозначения.
3	Представлено определение, но имеются замечания; не указаны символьное обозначение и синоним.

#### **Задание №4 (из текущего контроля)**

Сформулируйте определение термина «сила», укажите синоним и символьное обозначение.

<b>Оценка</b>	<b>Показатели оценки</b>
5	Представлено верное определение, верно указаны синоним и символьное обозначение.
4	Представлено определение, но имеются замечания; верно указаны синоним и символьное обозначение. ИЛИ Представлено верное определение, но допущены ошибки в представлении синонима или символьного обозначения.
3	Представлено определение, но имеются замечания; не указаны символьное обозначение и синоним.

#### **Задание №5 (из текущего контроля)**

Сформулируйте определение термина «импульс», укажите синоним и символьное обозначение.

<b>Оценка</b>	<b>Показатели оценки</b>
5	Представлено верное определение, верно указаны синоним и символьное обозначение.
4	Представлено определение, но имеются замечания; верно указаны синоним и символьное обозначение. ИЛИ Представлено верное определение, но допущены ошибки в представлении синонима или символьного обозначения.
3	Представлено определение, но имеются замечания; не указаны символьное обозначение и синоним.

**Задание №6 (из текущего контроля)**

Сформулируйте определение термина «энергия», укажите синоним и единицу измерения.

<i>Оценка</i>	<i>Показатели оценки</i>
5	Представлено верное определение, верно указаны синоним и единица измерения.
4	Представлено определение, но имеются замечания; верно указаны синоним и единица измерения. ИЛИ Представлено верное определение, но допущены ошибки в представлении синонима или единицы измерения.
3	Представлено определение, но имеются замечания; не указаны единица измерения и синоним.

**Задание №7 (из текущего контроля)**

Сформулируйте определение термина «температура», укажите синоним и единицу измерения.

<i>Оценка</i>	<i>Показатели оценки</i>
5	Представлено верное определение, верно указаны синоним и единица измерения.
4	Представлено определение, но имеются замечания; верно указаны синоним и единица измерения. ИЛИ Представлено верное определение, но допущены ошибки в представлении синонима или единицы измерения.
3	Представлено определение, но имеются замечания; не указаны единица измерения и синоним.

**Задание №8 (из текущего контроля)**

Сформулируйте определение термина «молекула», укажите его синоним.

<i>Оценка</i>	<i>Показатели оценки</i>
5	Представлено верное определение, верно указан синоним.

4	Представлено определение, но имеются замечания; верно указан синоним. ИЛИ Представлено верное определение, но допущена ошибка в представлении синонима.
3	Представлено определение, но имеются замечания; не указан синоним.

### Задание №9 (из текущего контроля)

Сформулируйте определение термина «электрический ток», укажите синоним и графическое представление.

<i>Оценка</i>	<i>Показатели оценки</i>
5	Представлено верное определение, верно указаны синоним и графическое представление.
4	Представлено определение, но имеются замечания; верно указаны синоним и графическое представление. ИЛИ Представлено верное определение, но допущены ошибки в представлении синонима или графического представления.
3	Представлено определение, но имеются замечания; не указаны графическое представление и синоним.

### Задание №10 (из текущего контроля)

Сформулируйте определение термина «поле», укажите его синонимы.

<i>Оценка</i>	<i>Показатели оценки</i>
5	Представлено верное определение, верно указаны синонимы.
4	Представлено определение, но имеются замечания; верно указаны синонимы. ИЛИ Представлено верное определение, но допущены ошибки в представлении синонимов.
3	Представлено определение, но имеются замечания; не указаны синонимы.

### Задание №11 (из текущего контроля)

Сформулируйте определение термина «фокус линзы», укажите его синоним.

<i>Оценка</i>	<i>Показатели оценки</i>
5	Представлено верное определение, верно указан синоним.
4	Представлено определение, но имеются замечания; верно указан синоним. ИЛИ Представлено верное определение, но допущена ошибка в представлении синонима.
3	Представлено определение, но имеются замечания; не указан синоним.

### **Задание №12 (из текущего контроля)**

Сформулируйте определение термина «квант», укажите его синоним.

<i>Оценка</i>	<i>Показатели оценки</i>
5	Представлено верное определение, верно указан синоним.
4	Представлено определение, но имеются замечания; верно указан синоним. ИЛИ Представлено верное определение, но допущена ошибка в представлении синонима.
3	Представлено определение, но имеются замечания; не указан синоним.

### **Задание №13 (из текущего контроля)**

Сформулируйте определение термина «радиоактивность», укажите его синонимы.

<i>Оценка</i>	<i>Показатели оценки</i>
5	Представлено верное определение, верно указаны синонимы.
4	Представлено определение, но имеются замечания; верно указаны синонимы. ИЛИ Представлено верное определение, но допущены ошибки в представлении синонимов.
3	Представлено определение, но имеются замечания; не указаны синонимы.

### **Задание №14 (из текущего контроля)**

Сформулируйте определение термина «атом» и укажите синоним и графическое

представление.

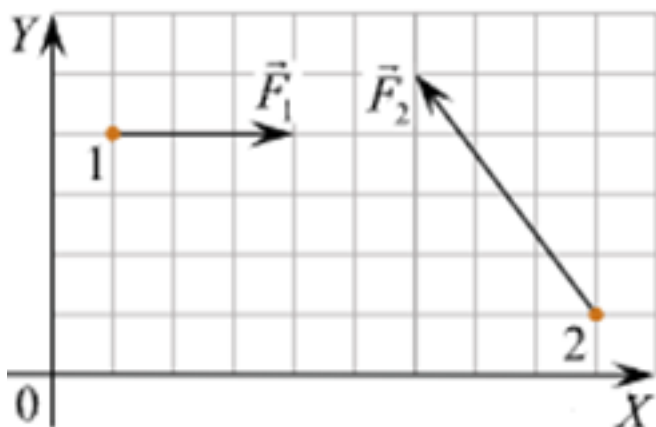
<i>Оценка</i>	<i>Показатели оценки</i>
5	Представлено верное определение, верно указаны синоним и графическое представление.
4	Представлено определение, но имеются замечания; верно указаны синоним и графическое представление. ИЛИ Представлено верное определение, но допущены ошибки в представлении синонима или графического представления.
3	Представлено определение, но имеются замечания; не указаны графическое представление и синоним.

**Дидактическая единица для контроля:**

.3.3 владение основными методами научного познания, используемыми в физике: наблюдение, описание, измерение, эксперимент; умения обрабатывать результаты измерений, обнаруживать зависимость между физическими величинами, объяснять полученные результаты и делать выводы;

**Задание №1 (из текущего контроля)**

Решите задачу: Тела 1 и 2 находятся на гладкой горизонтальной плоскости (см. рис., вид сверху). На них одновременно начинают действовать постоянные силы, равные, соответственно,  $F_1 = 3 \text{ Н}$  и  $F_2$ . Чему равно изменение проекции импульса системы этих тел на ось  $Ox$  за первые две секунды? (Ответ дайте в килограммах на метр в секунду.)

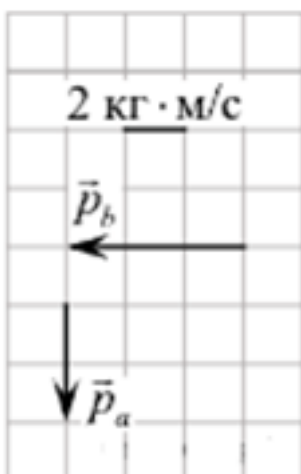


<i>Оценка</i>	<i>Показатели оценки</i>

5	<p>Приведено полное правильное решение, включающее следующие элементы:</p> <ol style="list-style-type: none"> <li>1) верно записано краткое условие задачи;</li> <li>2) записаны уравнения и формулы, применение которых необходимо и достаточно для решения задачи выбранным способом;</li> <li>3) выполнены необходимые математические преобразования и расчеты, приводящие к правильному числовому ответу, и представлен ответ. При этом допускается решение "по частям" (с промежуточными вычислениями).</li> </ol>
4	<p>Правильно записаны необходимые формулы, проведены вычисления, и получен ответ (верный или неверный), но допущена ошибка в записи краткого условия или переводе единиц в СИ.</p> <p>ИЛИ</p> <p>Представлено правильное решение только в общем виде, без каких-либо числовых расчетов.</p> <p>ИЛИ</p> <p>Записаны уравнения и формулы, применение которых необходимо и достаточно для решения задачи выбранным способом, но в математических преобразованиях или вычислениях допущена ошибка.</p>
3	<p>Записаны и использованы не все исходные формулы, необходимые для решения задачи.</p> <p>ИЛИ</p> <p>Записаны все исходные формулы, но в <b>ОДНОЙ</b> из них допущена ошибка.</p>

### Задание №2 (из текущего контроля)

Решите задачу: Система состоит из двух тел  $a$  и  $b$ . На рисунке стрелками в заданном масштабе указаны импульсы этих тел. Чему по модулю равен импульс всей системы? Ответ выразите в килограммах на метр в секунду и округлите до десятых.



Оценка	Показатели оценки
5	<p>Приведено полное правильное решение, включающее следующие элементы:</p> <ol style="list-style-type: none"> <li>1) верно записано краткое условие задачи;</li> <li>2) записаны уравнения и формулы, применение которых необходимо и достаточно для решения задачи выбранным способом;</li> <li>3) выполнены необходимые математические преобразования и расчеты, приводящие к правильному числовому ответу, и представлен ответ. При этом допускается решение "по частям" (с промежуточными вычислениями).</li> </ol>
4	<p>Правильно записаны необходимые формулы, проведены вычисления, и получен ответ (верный или неверный), но допущена ошибка в записи краткого условия или переводе единиц в СИ.</p> <p>ИЛИ</p> <p>Представлено правильное решение только в общем виде, без каких-либо числовых расчетов.</p> <p>ИЛИ</p> <p>Записаны уравнения и формулы, применение которых необходимо и достаточно для решения задачи выбранным способом, но в математических преобразованиях или вычислениях допущена ошибка.</p>
3	<p>Записаны и использованы не все исходные формулы, необходимые для решения задачи.</p> <p>ИЛИ</p> <p>Записаны все исходные формулы, но в <b>ОДНОЙ</b> из них допущена ошибка.</p>



### Задание №3 (из текущего контроля)

Решите задачу: В ходе измерения коэффициента поверхностного натяжения жидкости были получены следующие прямые измерения (таблица). Рассчитайте коэффициент поверхностного натяжения воды и запишите результат в виде доверительного интервала. Проанализируйте доверительный интервал.

№ опыта	m, кг	n	d, м	$\sigma$ , Н/м	$\sigma_{\text{ср}}$ , Н/м	$\sigma_{\text{таб}}$ , Н/м	$\delta$ %
1	$1 \cdot 10^{-3}$	21	$2,5 \cdot 10^{-3}$			0,072	
2	$2 \cdot 10^{-3}$	40	$2,5 \cdot 10^{-3}$			0,072	
3	$3 \cdot 10^{-3}$	59	$2,5 \cdot 10^{-3}$			0,072	

Оценка	Показатели оценки
5	Приведено полное правильное решение, включающее следующие элементы: 1) верно записано краткое условие задачи; 2) записаны уравнения и формулы, применение которых необходимо и достаточно для решения задачи выбранным способом; 3) выполнены необходимые математические преобразования и расчеты, приводящие к правильному числовому ответу, и представлен ответ. При этом допускается решение "по частям" (с промежуточными вычислениями).
4	Правильно записаны необходимые формулы, проведены вычисления, и получен ответ (верный или неверный), но допущена ошибка в записи краткого условия или переводе единиц в СИ. ИЛИ Представлено правильное решение только в общем виде, без каких-либо числовых расчетов. ИЛИ Записаны уравнения и формулы, применение которых необходимо и достаточно для решения задачи выбранным способом, но в математических преобразованиях или вычислениях допущена ошибка.
3	Записаны и использованы не все исходные формулы, необходимые для решения задачи. ИЛИ Записаны все исходные формулы, но в <b>ОДНОЙ</b> из них допущена ошибка.

### Задание №4 (из текущего контроля)

Решите задачу: В ходе измерения влажности воздуха были получены следующие

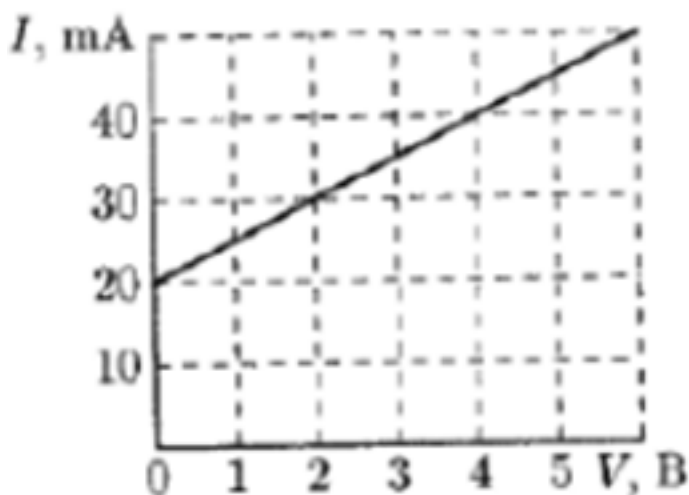
прямые измерения (таблица). Рассчитайте влажность воздуха и запишите результат в виде доверительного интервала. Проанализируйте доверительный интервал.

№ опыта	$t_{\text{сухого}}, ^\circ\text{C}$	$t_{\text{влажного}}, ^\circ\text{C}$	$\Delta t, ^\circ\text{C}$	$\varphi, \%$
1	24	21		

Оценка	Показатели оценки
5	<p>Приведено полное правильное решение, включающее следующие элементы:</p> <ol style="list-style-type: none"> <li>1) верно записано краткое условие задачи;</li> <li>2) записаны уравнения и формулы, применение которых необходимо и достаточно для решения задачи выбранным способом;</li> <li>3) выполнены необходимые математические преобразования и расчеты, приводящие к правильному числовому ответу, и представлен ответ. При этом допускается решение "по частям" (с промежуточными вычислениями).</li> </ol>
4	<p>Правильно записаны необходимые формулы, проведены вычисления, и получен ответ (верный или неверный), но допущена ошибка в записи краткого условия или переводе единиц в СИ.</p> <p>ИЛИ</p> <p>Представлено правильное решение только в общем виде, без каких-либо числовых расчетов.</p> <p>ИЛИ</p> <p>Записаны уравнения и формулы, применение которых необходимо и достаточно для решения задачи выбранным способом, но в математических преобразованиях или вычислениях допущена ошибка.</p>
3	<p>Записаны и использованы не все исходные формулы, необходимые для решения задачи.</p> <p>ИЛИ</p> <p>Записаны все исходные формулы, но в <b>ОДНОЙ</b> из них допущена ошибка.</p>

### Задание №5 (из текущего контроля)

На рисунке изображена вольт-амперная характеристика двух соединенных параллельно элементов, одним из которых является резистор с сопротивлением  $R = 100 \text{ Ом}$ , а другим — неизвестный элемент  $Z$ . Используя заданную вольт-амперную характеристику, постройте вольт-амперную характеристику элемента  $Z$ .

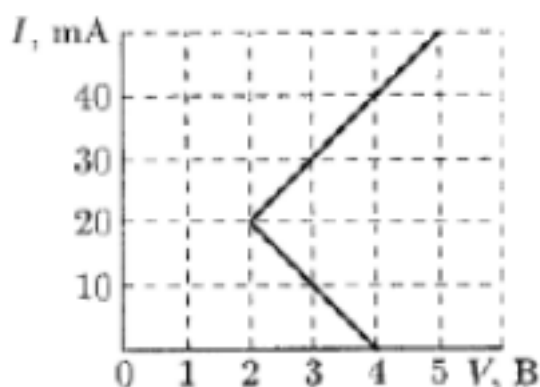


<i>Оценка</i>	<i>Показатели оценки</i>
5	<p>Приведено полное правильное решение, включающее следующие элементы:</p> <ol style="list-style-type: none"> <li>1) верно записано краткое условие задачи;</li> <li>2) записаны уравнения и формулы, применение которых необходимо и достаточно для решения задачи выбранным способом;</li> <li>3) выполнены необходимые математические преобразования и расчеты, приводящие к правильному числовому ответу, и представлен ответ. При этом допускается решение "по частям" (с промежуточными вычислениями).</li> </ol>
4	<p>Правильно записаны необходимые формулы, проведены вычисления, и получен ответ (верный или неверный), но допущена ошибка в записи краткого условия или переводе единиц в СИ.</p> <p>ИЛИ</p> <p>Представлено правильное решение только в общем виде, без каких-либо числовых расчетов.</p> <p>ИЛИ</p> <p>Записаны уравнения и формулы, применение которых необходимо и достаточно для решения задачи выбранным способом, но в математических преобразованиях или вычислениях допущена ошибка.</p>

3	Записаны и использованы не все исходные формулы, необходимые для решения задачи. ИЛИ Записаны все исходные формулы, но в <b>ОДНОЙ</b> из них допущена ошибка.
---	---

### Задание №6 (из текущего контроля)

На рисунке изображена вольт-амперная характеристика двух соединенных последовательно элементов, одним из которых является резистор с сопротивлением  $R = 100 \text{ Ом}$ , а вторым — неизвестный элемент  $Z$ . Используя заданную вольт-амперную характеристику, постройте вольт-амперную характеристику элемента  $Z$ .



<i>Оценка</i>	<i>Показатели оценки</i>
5	Приведено полное правильное решение, включающее следующие элементы: 1) верно записано краткое условие задачи; 2) записаны уравнения и формулы, применение которых необходимо и достаточно для решения задачи выбранным способом; 3) выполнены необходимые математические преобразования и расчеты, приводящие к правильному числовому ответу, и представлен ответ. При этом допускается решение "по частям" (с промежуточными вычислениями).

4	<p>Правильно записаны необходимые формулы, проведены вычисления, и получен ответ (верный или неверный), но допущена ошибка в записи краткого условия или переводе единиц в СИ.</p> <p>ИЛИ</p> <p>Представлено правильное решение только в общем виде, без каких-либо числовых расчетов.</p> <p>ИЛИ</p> <p>Записаны уравнения и формулы, применение которых необходимо и достаточно для решения задачи выбранным способом, но в математических преобразованиях или вычислениях допущена ошибка.</p>
3	<p>Записаны и использованы не все исходные формулы, необходимые для решения задачи.</p> <p>ИЛИ</p> <p>Записаны все исходные формулы, но в <b>ОДНОЙ</b> из них допущена ошибка.</p>

**Дидактическая единица для контроля:**

.3.4 сформированность умения решать физические задачи;

**Задание №1 (из текущего контроля)**

Решите задачу: Двигаясь равноускорено вдоль прямой, за 20 с тело прошло путь, равный 6 м, при этом его скорость возросла в 5 раз. Определите начальную скорость тела.

<b>Оценка</b>	<b>Показатели оценки</b>
5	<p>Приведено полное правильное решение, включающее следующие элементы:</p> <ol style="list-style-type: none"> <li>1) верно записано краткое условие задачи;</li> <li>2) записаны уравнения и формулы, применение которых необходимо и достаточно для решения задачи выбранным способом;</li> <li>3) выполнены необходимые математические преобразования и расчеты, приводящие к правильному числовому ответу, и представлен ответ. При этом допускается решение "по частям" (с промежуточными вычислениями).</li> </ol>

4	<p>Правильно записаны необходимые формулы, проведены вычисления, и получен ответ (верный или неверный), но допущена ошибка в записи краткого условия или переводе единиц в СИ.</p> <p>ИЛИ</p> <p>Представлено правильное решение только в общем виде, без каких-либо числовых расчетов.</p> <p>ИЛИ</p> <p>Записаны уравнения и формулы, применение которых необходимо и достаточно для решения задачи выбранным способом, но в математических преобразованиях или вычислениях допущена ошибка.</p>
3	<p>Записаны и использованы не все исходные формулы, необходимые для решения задачи.</p> <p>ИЛИ</p> <p>Записаны все исходные формулы, но в <b>ОДНОЙ</b> из них допущена ошибка.</p>

### Задание №2 (из текущего контроля)

Решите задачу: Мяч катиться по прямой равнозамедленное с начальной скоростью 5 м/с и ускорением  $1 \text{ м/с}^2$ . Определите величину скорости мяча в тот момент, когда он пройдет 4,5 м пути.

<i>Оценка</i>	<i>Показатели оценки</i>
5	<p>Приведено полное правильное решение, включающее следующие элементы:</p> <ol style="list-style-type: none"> <li>1) верно записано краткое условие задачи;</li> <li>2) записаны уравнения и формулы, применение которых необходимо и достаточно для решения задачи выбранным способом;</li> <li>3) выполнены необходимые математические преобразования и расчеты, приводящие к правильному числовому ответу, и представлен ответ. При этом допускается решение "по частям" (с промежуточными вычислениями).</li> </ol>

4	<p>Правильно записаны необходимые формулы, проведены вычисления, и получен ответ (верный или неверный), но допущена ошибка в записи краткого условия или переводе единиц в СИ.</p> <p>ИЛИ</p> <p>Представлено правильное решение только в общем виде, без каких-либо числовых расчетов.</p> <p>ИЛИ</p> <p>Записаны уравнения и формулы, применение которых необходимо и достаточно для решения задачи выбранным способом, но в математических преобразованиях или вычислениях допущена ошибка.</p>
3	<p>Записаны и использованы не все исходные формулы, необходимые для решения задачи.</p> <p>ИЛИ</p> <p>Записаны все исходные формулы, но в <b>ОДНОЙ</b> из них допущена ошибка.</p>

### Задание №3 (из текущего контроля)

Решите задачу: Мальчик массой 50 кг качается на качелях с длиной подвеса 4 м. С какой силой он давит на сиденье при прохождении положения равновесия качелей со скоростью 6 м/с. (Принять ускорение свободного падения равным  $10 \text{ м/с}^2$ .)

<i>Оценка</i>	<i>Показатели оценки</i>
5	<p>Приведено полное правильное решение, включающее следующие элементы:</p> <ol style="list-style-type: none"> <li>1) верно записано краткое условие задачи;</li> <li>2) записаны уравнения и формулы, применение которых необходимо и достаточно для решения задачи выбранным способом;</li> <li>3) выполнены необходимые математические преобразования и расчеты, приводящие к правильному числовому ответу, и представлен ответ. При этом допускается решение "по частям" (с промежуточными вычислениями).</li> </ol>

4	<p>Правильно записаны необходимые формулы, проведены вычисления, и получен ответ (верный или неверный), но допущена ошибка в записи краткого условия или переводе единиц в СИ.</p> <p>ИЛИ</p> <p>Представлено правильное решение только в общем виде, без каких-либо числовых расчетов.</p> <p>ИЛИ</p> <p>Записаны уравнения и формулы, применение которых необходимо и достаточно для решения задачи выбранным способом, но в математических преобразованиях или вычислениях допущена ошибка.</p>
3	<p>Записаны и использованы не все исходные формулы, необходимые для решения задачи.</p> <p>ИЛИ</p> <p>Записаны все исходные формулы, но в <b>ОДНОЙ</b> из них допущена ошибка.</p>

#### Задание №4 (из текущего контроля)

Решите задачу: На наклонной плоскости длиной 5 м и высотой 3 м находится груз массой 50 кг. Какую силу надо приложить, чтобы удержать тело на наклонной плоскости, если коэффициент сопротивления равен 0,2?

<b>Оценка</b>	<b>Показатели оценки</b>
5	<p>Приведено полное правильное решение, включающее следующие элементы:</p> <ol style="list-style-type: none"> <li>1) верно записано краткое условие задачи;</li> <li>2) записаны уравнения и формулы, применение которых необходимо и достаточно для решения задачи выбранным способом;</li> <li>3) выполнены необходимые математические преобразования и расчеты, приводящие к правильному числовому ответу, и представлен ответ. При этом допускается решение "по частям" (с промежуточными вычислениями).</li> </ol>



4	<p>Правильно записаны необходимые формулы, проведены вычисления, и получен ответ (верный или неверный), но допущена ошибка в записи краткого условия или переводе единиц в СИ.</p> <p>ИЛИ</p> <p>Представлено правильное решение только в общем виде, без каких-либо числовых расчетов.</p> <p>ИЛИ</p> <p>Записаны уравнения и формулы, применение которых необходимо и достаточно для решения задачи выбранным способом, но в математических преобразованиях или вычислениях допущена ошибка.</p>
3	<p>Записаны и использованы не все исходные формулы, необходимые для решения задачи.</p> <p>ИЛИ</p> <p>Записаны все исходные формулы, но в <b>ОДНОЙ</b> из них допущена ошибка.</p>

#### Задание №5 (из текущего контроля)

Решите задачу: Тело массой 5 кг лежи на горизонтальной площадке. Какую силу, направленную под углом  $\alpha=30^\circ$  к горизонту, надо приложить к телу, чтобы сообщить ему ускорение  $0,5 \text{ м/с}^2$ , если коэффициент трения составляет 0,1? (Ускорение свободного падения принять равным  $9,8 \text{ м/с}^2$ .)

<i>Оценка</i>	<i>Показатели оценки</i>
5	<p>Приведено полное правильное решение, включающее следующие элементы:</p> <ol style="list-style-type: none"> <li>1) верно записано краткое условие задачи;</li> <li>2) записаны уравнения и формулы, применение которых необходимо и достаточно для решения задачи выбранным способом;</li> <li>3) выполнены необходимые математические преобразования и расчеты, приводящие к правильному числовому ответу, и представлен ответ. При этом допускается решение "по частям" (с промежуточными вычислениями).</li> </ol>

4	<p>Правильно записаны необходимые формулы, проведены вычисления, и получен ответ (верный или неверный), но допущена ошибка в записи краткого условия или переводе единиц в СИ.</p> <p>ИЛИ</p> <p>Представлено правильное решение только в общем виде, без каких-либо числовых расчетов.</p> <p>ИЛИ</p> <p>Записаны уравнения и формулы, применение которых необходимо и достаточно для решения задачи выбранным способом, но в математических преобразованиях или вычислениях допущена ошибка.</p>
3	<p>Записаны и использованы не все исходные формулы, необходимые для решения задачи.</p> <p>ИЛИ</p> <p>Записаны все исходные формулы, но в <b>ОДНОЙ</b> из них допущена ошибка.</p>

**Задание №6 (из текущего контроля)**

Решите задачу: Уравнение движения тела имеет вид  $S = t + 0,1 t^2$  (м). К этому телу приложена сила  $F = 1$  кН. Найдите массу этого тела. (Ответ дать в тоннах.)

<i>Оценка</i>	<i>Показатели оценки</i>
5	<p>Приведено полное правильное решение, включающее следующие элементы:</p> <ol style="list-style-type: none"> <li>1) верно записано краткое условие задачи;</li> <li>2) записаны уравнения и формулы, применение которых необходимо и достаточно для решения задачи выбранным способом;</li> <li>3) выполнены необходимые математические преобразования и расчеты, приводящие к правильному числовому ответу, и представлен ответ. При этом допускается решение "по частям" (с промежуточными вычислениями).</li> </ol>

4	<p>Правильно записаны необходимые формулы, проведены вычисления, и получен ответ (верный или неверный), но допущена ошибка в записи краткого условия или переводе единиц в СИ.</p> <p>ИЛИ</p> <p>Представлено правильное решение только в общем виде, без каких-либо числовых расчетов.</p> <p>ИЛИ</p> <p>Записаны уравнения и формулы, применение которых необходимо и достаточно для решения задачи выбранным способом, но в математических преобразованиях или вычислениях допущена ошибка.</p>
3	<p>Записаны и использованы не все исходные формулы, необходимые для решения задачи.</p> <p>ИЛИ</p> <p>Записаны все исходные формулы, но в <b>ОДНОЙ</b> из них допущена ошибка.</p>

#### Задание №7 (из текущего контроля)

Решите задачу: С какой начальной скоростью  $v_0$  надо бросить мяч вниз с высоты 20 м, чтобы он подпрыгнул на высоту 40 м? Считать удар о землю абсолютно упругим, ускорение свободного падения принять равным  $10 \text{ м/с}^2$ .

<i>Оценка</i>	<i>Показатели оценки</i>
5	<p>Приведено полное правильное решение, включающее следующие элементы:</p> <ol style="list-style-type: none"> <li>1) верно записано краткое условие задачи;</li> <li>2) записаны уравнения и формулы, применение которых необходимо и достаточно для решения задачи выбранным способом;</li> <li>3) выполнены необходимые математические преобразования и расчеты, приводящие к правильному числовому ответу, и представлен ответ. При этом допускается решение "по частям" (с промежуточными вычислениями).</li> </ol>

4	<p>Правильно записаны необходимые формулы, проведены вычисления, и получен ответ (верный или неверный), но допущена ошибка в записи краткого условия или переводе единиц в СИ.</p> <p>ИЛИ</p> <p>Представлено правильное решение только в общем виде, без каких-либо числовых расчетов.</p> <p>ИЛИ</p> <p>Записаны уравнения и формулы, применение которых необходимо и достаточно для решения задачи выбранным способом, но в математических преобразованиях или вычислениях допущена ошибка.</p>
3	<p>Записаны и использованы не все исходные формулы, необходимые для решения задачи.</p> <p>ИЛИ</p> <p>Записаны все исходные формулы, но в <b>ОДНОЙ</b> из них допущена ошибка.</p>

#### Задание №8 (из текущего контроля)

Решите задачу: Пуля массой 10 г, летящая горизонтально со скоростью 300 м/с, ударяется в подвешенный на нитях деревянный брусок массой 6 кг и застревает в нем. Определить высоту, на которую поднимется брусок. (Ответ дать в см.)

<i>Оценка</i>	<i>Показатели оценки</i>
5	<p>Приведено полное правильное решение, включающее следующие элементы:</p> <ol style="list-style-type: none"> <li>1) верно записано краткое условие задачи;</li> <li>2) записаны уравнения и формулы, применение которых необходимо и достаточно для решения задачи выбранным способом;</li> <li>3) выполнены необходимые математические преобразования и расчеты, приводящие к правильному числовому ответу, и представлен ответ. При этом допускается решение "по частям" (с промежуточными вычислениями).</li> </ol>

4	<p>Правильно записаны необходимые формулы, проведены вычисления, и получен ответ (верный или неверный), но допущена ошибка в записи краткого условия или переводе единиц в СИ.</p> <p>ИЛИ</p> <p>Представлено правильное решение только в общем виде, без каких-либо числовых расчетов.</p> <p>ИЛИ</p> <p>Записаны уравнения и формулы, применение которых необходимо и достаточно для решения задачи выбранным способом, но в математических преобразованиях или вычислениях допущена ошибка.</p>
3	<p>Записаны и использованы не все исходные формулы, необходимые для решения задачи.</p> <p>ИЛИ</p> <p>Записаны все исходные формулы, но в <b>ОДНОЙ</b> из них допущена ошибка.</p>

#### Задание №9 (из текущего контроля)

Решите задачу: При увеличении абсолютной температуры идеального газа в 3 раза давление газа увеличилось на 25%. Во сколько раз при этом изменился объем?

<i>Оценка</i>	<i>Показатели оценки</i>
5	<p>Приведено полное правильное решение, включающее следующие элементы:</p> <ol style="list-style-type: none"> <li>1) верно записано краткое условие задачи;</li> <li>2) записаны уравнения и формулы, применение которых необходимо и достаточно для решения задачи выбранным способом;</li> <li>3) выполнены необходимые математические преобразования и расчеты, приводящие к правильному числовому ответу, и представлен ответ. При этом допускается решение "по частям" (с промежуточными вычислениями).</li> </ol>

4	<p>Правильно записаны необходимые формулы, проведены вычисления, и получен ответ (верный или неверный), но допущена ошибка в записи краткого условия или переводе единиц в СИ.</p> <p>ИЛИ</p> <p>Представлено правильное решение только в общем виде, без каких-либо числовых расчетов.</p> <p>ИЛИ</p> <p>Записаны уравнения и формулы, применение которых необходимо и достаточно для решения задачи выбранным способом, но в математических преобразованиях или вычислениях допущена ошибка.</p>
3	<p>Записаны и использованы не все исходные формулы, необходимые для решения задачи.</p> <p>ИЛИ</p> <p>Записаны все исходные формулы, но в <b>ОДНОЙ</b> из них допущена ошибка.</p>

#### Задание №10 (из текущего контроля)

Решите задачу: В цилиндре под поршнем при комнатной температуре находится 1,6 кг кислорода. Какое количество теплоты при изобарном процессе нужно сообщить газу чтобы повысить его температуру на 4 °С? (Ответ выразить в кДж и округлить до целых.)

<i>Оценка</i>	<i>Показатели оценки</i>
5	<p>Приведено полное правильное решение, включающее следующие элементы:</p> <ol style="list-style-type: none"> <li>1) верно записано краткое условие задачи;</li> <li>2) записаны уравнения и формулы, применение которых необходимо и достаточно для решения задачи выбранным способом;</li> <li>3) выполнены необходимые математические преобразования и расчеты, приводящие к правильному числовому ответу, и представлен ответ. При этом допускается решение "по частям" (с промежуточными вычислениями).</li> </ol>

4	<p>Правильно записаны необходимые формулы, проведены вычисления, и получен ответ (верный или неверный), но допущена ошибка в записи краткого условия или переводе единиц в СИ.</p> <p>ИЛИ</p> <p>Представлено правильное решение только в общем виде, без каких-либо числовых расчетов.</p> <p>ИЛИ</p> <p>Записаны уравнения и формулы, применение которых необходимо и достаточно для решения задачи выбранным способом, но в математических преобразованиях или вычислениях допущена ошибка.</p>
3	<p>Записаны и использованы не все исходные формулы, необходимые для решения задачи.</p> <p>ИЛИ</p> <p>Записаны все исходные формулы, но в <b>ОДНОЙ</b> из них допущена ошибка.</p>

#### Задание №11 (из текущего контроля)

Решите задачу: В баллоне находится газ при температуре  $27\text{ }^{\circ}\text{C}$ . Во сколько раз уменьшится давление газа, если 40% его выйдет из баллона, а температура при этом понизится на  $8\text{ }^{\circ}\text{C}$ ? (Ответ округлить до десятых.)

<i>Оценка</i>	<i>Показатели оценки</i>
5	<p>Приведено полное правильное решение, включающее следующие элементы:</p> <ol style="list-style-type: none"> <li>1) верно записано краткое условие задачи;</li> <li>2) записаны уравнения и формулы, применение которых необходимо и достаточно для решения задачи выбранным способом;</li> <li>3) выполнены необходимые математические преобразования и расчеты, приводящие к правильному числовому ответу, и представлен ответ. При этом допускается решение "по частям" (с промежуточными вычислениями).</li> </ol>

4	<p>Правильно записаны необходимые формулы, проведены вычисления, и получен ответ (верный или неверный), но допущена ошибка в записи краткого условия или переводе единиц в СИ.</p> <p>ИЛИ</p> <p>Представлено правильное решение только в общем виде, без каких-либо числовых расчетов.</p> <p>ИЛИ</p> <p>Записаны уравнения и формулы, применение которых необходимо и достаточно для решения задачи выбранным способом, но в математических преобразованиях или вычислениях допущена ошибка.</p>
3	<p>Записаны и использованы не все исходные формулы, необходимые для решения задачи.</p> <p>ИЛИ</p> <p>Записаны все исходные формулы, но в <b>ОДНОЙ</b> из них допущена ошибка.</p>

### Задание №12 (из текущего контроля)

Решите задачу: Найдите изменение температуры 2 молей одноатомного идеального газа при постоянном давлении, вызванное сообщением этому газу количества теплоты  $Q=1660$  Дж. (Ответ округлить до целого значения.)

<i>Оценка</i>	<i>Показатели оценки</i>
5	<p>Приведено полное правильное решение, включающее следующие элементы:</p> <ol style="list-style-type: none"> <li>1) верно записано краткое условие задачи;</li> <li>2) записаны уравнения и формулы, применение которых необходимо и достаточно для решения задачи выбранным способом;</li> <li>3) выполнены необходимые математические преобразования и расчеты, приводящие к правильному числовому ответу, и представлен ответ. При этом допускается решение "по частям" (с промежуточными вычислениями).</li> </ol>



4	<p>Правильно записаны необходимые формулы, проведены вычисления, и получен ответ (верный или неверный), но допущена ошибка в записи краткого условия или переводе единиц в СИ.</p> <p>ИЛИ</p> <p>Представлено правильное решение только в общем виде, без каких-либо числовых расчетов.</p> <p>ИЛИ</p> <p>Записаны уравнения и формулы, применение которых необходимо и достаточно для решения задачи выбранным способом, но в математических преобразованиях или вычислениях допущена ошибка.</p>
3	<p>Записаны и использованы не все исходные формулы, необходимые для решения задачи.</p> <p>ИЛИ</p> <p>Записаны все исходные формулы, но в <b>ОДНОЙ</b> из них допущена ошибка.</p>

### Задание №13 (из текущего контроля)

Решите задачу: Одинаковые металлические шарики, заряженные одноименно зарядами  $q$  и  $4q$ , находятся на расстоянии  $r$  друг от друга. Шарики привели в соприкосновение. На какое расстояние  $x$  надо их разнести, чтобы сила взаимодействия осталась прежней.

<i>Оценка</i>	<i>Показатели оценки</i>
5	<p>Приведено полное правильное решение, включающее следующие элементы:</p> <ol style="list-style-type: none"> <li>1) верно записано краткое условие задачи;</li> <li>2) записаны уравнения и формулы, применение которых необходимо и достаточно для решения задачи выбранным способом;</li> <li>3) выполнены необходимые математические преобразования и расчеты, приводящие к правильному числовому ответу, и представлен ответ. При этом допускается решение "по частям" (с промежуточными вычислениями).</li> </ol>

4	<p>Правильно записаны необходимые формулы, проведены вычисления, и получен ответ (верный или неверный), но допущена ошибка в записи краткого условия или переводе единиц в СИ.</p> <p>ИЛИ</p> <p>Представлено правильное решение только в общем виде, без каких-либо числовых расчетов.</p> <p>ИЛИ</p> <p>Записаны уравнения и формулы, применение которых необходимо и достаточно для решения задачи выбранным способом, но в математических преобразованиях или вычислениях допущена ошибка.</p>
3	<p>Записаны и использованы не все исходные формулы, необходимые для решения задачи.</p> <p>ИЛИ</p> <p>Записаны все исходные формулы, но в <b>ОДНОЙ</b> из них допущена ошибка.</p>

#### Задание №14 (из текущего контроля)

Решите задачу: Конденсатор подключен к источнику тока напряжением 500 В.

Какова емкость конденсатора, если энергия, выделяемая при его разряде, равна 0,8 Дж? (Ответ дать в мкФ.)

<i>Оценка</i>	<i>Показатели оценки</i>
5	<p>Приведено полное правильное решение, включающее следующие элементы:</p> <ol style="list-style-type: none"> <li>1) верно записано краткое условие задачи;</li> <li>2) записаны уравнения и формулы, применение которых необходимо и достаточно для решения задачи выбранным способом;</li> <li>3) выполнены необходимые математические преобразования и расчеты, приводящие к правильному числовому ответу, и представлен ответ. При этом допускается решение "по частям" (с промежуточными вычислениями).</li> </ol>

4	<p>Правильно записаны необходимые формулы, проведены вычисления, и получен ответ (верный или неверный), но допущена ошибка в записи краткого условия или переводе единиц в СИ.</p> <p>ИЛИ</p> <p>Представлено правильное решение только в общем виде, без каких-либо числовых расчетов.</p> <p>ИЛИ</p> <p>Записаны уравнения и формулы, применение которых необходимо и достаточно для решения задачи выбранным способом, но в математических преобразованиях или вычислениях допущена ошибка.</p>
3	<p>Записаны и использованы не все исходные формулы, необходимые для решения задачи.</p> <p>ИЛИ</p> <p>Записаны все исходные формулы, но в <b>ОДНОЙ</b> из них допущена ошибка.</p>

#### Задание №15 (из текущего контроля)

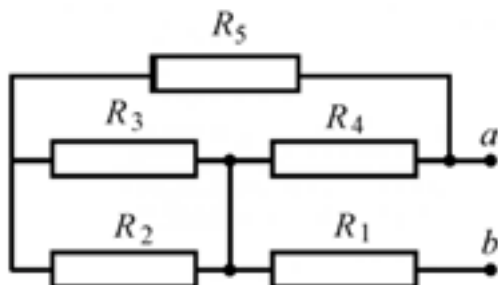
Решите задачу: При подключении к источнику тока резистора сопротивлением 5 Ом сила тока в цепи равна 1 А, а при подключении резистора сопротивлением 1 Ом сила тока оказалась равной 0,5 А. Определите ЭДС источника тока.

<i>Оценка</i>	<i>Показатели оценки</i>
5	<p>Приведено полное правильное решение, включающее следующие элементы:</p> <ol style="list-style-type: none"> <li>1) верно записано краткое условие задачи;</li> <li>2) записаны уравнения и формулы, применение которых необходимо и достаточно для решения задачи выбранным способом;</li> <li>3) выполнены необходимые математические преобразования и расчеты, приводящие к правильному числовому ответу, и представлен ответ. При этом допускается решение "по частям" (с промежуточными вычислениями).</li> </ol>

4	<p>Правильно записаны необходимые формулы, проведены вычисления, и получен ответ (верный или неверный), но допущена ошибка в записи краткого условия или переводе единиц в СИ.</p> <p>ИЛИ</p> <p>Представлено правильное решение только в общем виде, без каких-либо числовых расчетов.</p> <p>ИЛИ</p> <p>Записаны уравнения и формулы, применение которых необходимо и достаточно для решения задачи выбранным способом, но в математических преобразованиях или вычислениях допущена ошибка.</p>
3	<p>Записаны и использованы не все исходные формулы, необходимые для решения задачи.</p> <p>ИЛИ</p> <p>Записаны все исходные формулы, но в <b>ОДНОЙ</b> из них допущена ошибка.</p>

### Задание №16 (из текущего контроля)

Решите задачу: Определите эквивалентное сопротивление цепи (рис.), если  $R_1=1$  Ом,  $R_2=2$  Ом,  $R_3=3$  Ом,  $R_4=4$  Ом,  $R_5=5$  Ом.



<i>Оценка</i>	<i>Показатели оценки</i>
5	<p>Приведено полное правильное решение, включающее следующие элементы:</p> <ol style="list-style-type: none"> <li>1) верно записано краткое условие задачи;</li> <li>2) записаны уравнения и формулы, применение которых необходимо и достаточно для решения задачи выбранным способом;</li> <li>3) выполнены необходимые математические преобразования и расчеты, приводящие к правильному числовому ответу, и представлен ответ. При этом допускается решение "по частям" (с промежуточными вычислениями).</li> </ol>

4	<p>Правильно записаны необходимые формулы, проведены вычисления, и получен ответ (верный или неверный), но допущена ошибка в записи краткого условия или переводе единиц в СИ.</p> <p>ИЛИ</p> <p>Представлено правильное решение только в общем виде, без каких-либо числовых расчетов.</p> <p>ИЛИ</p> <p>Записаны уравнения и формулы, применение которых необходимо и достаточно для решения задачи выбранным способом, но в математических преобразованиях или вычислениях допущена ошибка.</p>
3	<p>Записаны и использованы не все исходные формулы, необходимые для решения задачи.</p> <p>ИЛИ</p> <p>Записаны все исходные формулы, но в <b>ОДНОЙ</b> из них допущена ошибка.</p>

#### Задание №17 (из текущего контроля)

Решите задачу: Проводник длиной 0,5 м и сопротивлением  $R=2,6$  Ом расположен в однородном магнитном поле с индукцией  $B=0,02$  Тл. Какое напряжение приложено к проводнику, если со стороны магнитного поля на него действует сила 0,02 Н? Вектор магнитной индукции составляет с проводником угол  $60^\circ$ .

<i>Оценка</i>	<i>Показатели оценки</i>
5	<p>Приведено полное правильное решение, включающее следующие элементы:</p> <ol style="list-style-type: none"> <li>1) верно записано краткое условие задачи;</li> <li>2) записаны уравнения и формулы, применение которых необходимо и достаточно для решения задачи выбранным способом;</li> <li>3) выполнены необходимые математические преобразования и расчеты, приводящие к правильному числовому ответу, и представлен ответ. При этом допускается решение "по частям" (с промежуточными вычислениями).</li> </ol>

4	<p>Правильно записаны необходимые формулы, проведены вычисления, и получен ответ (верный или неверный), но допущена ошибка в записи краткого условия или переводе единиц в СИ.</p> <p>ИЛИ</p> <p>Представлено правильное решение только в общем виде, без каких-либо числовых расчетов.</p> <p>ИЛИ</p> <p>Записаны уравнения и формулы, применение которых необходимо и достаточно для решения задачи выбранным способом, но в математических преобразованиях или вычислениях допущена ошибка.</p>
3	<p>Записаны и использованы не все исходные формулы, необходимые для решения задачи.</p> <p>ИЛИ</p> <p>Записаны все исходные формулы, но в <b>ОДНОЙ</b> из них допущена ошибка.</p>

#### Задание №18 (из текущего контроля)

Решите задачу: Сколько витков должна иметь катушка, чтобы за 0,2 с при равномерном изменении магнитного поля внутри нее от 0,8 Тл до 0 при площади поперечного сечения катушки 0,2 дм<sup>2</sup> в ней возникла ЭДС индукции 12 В?

<i>Оценка</i>	<i>Показатели оценки</i>
5	<p>Приведено полное правильное решение, включающее следующие элементы:</p> <ol style="list-style-type: none"> <li>1) верно записано краткое условие задачи;</li> <li>2) записаны уравнения и формулы, применение которых необходимо и достаточно для решения задачи выбранным способом;</li> <li>3) выполнены необходимые математические преобразования и расчеты, приводящие к правильному числовому ответу, и представлен ответ. При этом допускается решение "по частям" (с промежуточными вычислениями).</li> </ol>

4	<p>Правильно записаны необходимые формулы, проведены вычисления, и получен ответ (верный или неверный), но допущена ошибка в записи краткого условия или переводе единиц в СИ.</p> <p>ИЛИ</p> <p>Представлено правильное решение только в общем виде, без каких-либо числовых расчетов.</p> <p>ИЛИ</p> <p>Записаны уравнения и формулы, применение которых необходимо и достаточно для решения задачи выбранным способом, но в математических преобразованиях или вычислениях допущена ошибка.</p>
3	<p>Записаны и использованы не все исходные формулы, необходимые для решения задачи.</p> <p>ИЛИ</p> <p>Записаны все исходные формулы, но в <b>ОДНОЙ</b> из них допущена ошибка.</p>

#### Задание №19 (из текущего контроля)

Решите задачу: Как измениться период колебания математического маятника, если его перенести с Земли на Луну? Ускорение свободного падения на Луне в 6 раз меньше, чем на Земле.

<i>Оценка</i>	<i>Показатели оценки</i>
5	<p>Приведено полное правильное решение, включающее следующие элементы:</p> <ol style="list-style-type: none"> <li>1) верно записано краткое условие задачи;</li> <li>2) записаны уравнения и формулы, применение которых необходимо и достаточно для решения задачи выбранным способом;</li> <li>3) выполнены необходимые математические преобразования и расчеты, приводящие к правильному числовому ответу, и представлен ответ. При этом допускается решение "по частям" (с промежуточными вычислениями).</li> </ol>

4	<p>Правильно записаны необходимые формулы, проведены вычисления, и получен ответ (верный или неверный), но допущена ошибка в записи краткого условия или переводе единиц в СИ.</p> <p>ИЛИ</p> <p>Представлено правильное решение только в общем виде, без каких-либо числовых расчетов.</p> <p>ИЛИ</p> <p>Записаны уравнения и формулы, применение которых необходимо и достаточно для решения задачи выбранным способом, но в математических преобразованиях или вычислениях допущена ошибка.</p>
3	<p>Записаны и использованы не все исходные формулы, необходимые для решения задачи.</p> <p>ИЛИ</p> <p>Записаны все исходные формулы, но в <b>ОДНОЙ</b> из них допущена ошибка.</p>

#### Задание №20 (из текущего контроля)

Решите задачу: На участке цепи протекает переменный ток. Индуктивность катушки 0,25 Гн, емкость конденсатора 100 мкФ. При какой частоте переменного тока сопротивление этого участка равно нулю? (Активным сопротивлением катушки и подводящих проводов пренебречь. Ответ округлить до целых.)

<i>Оценка</i>	<i>Показатели оценки</i>
5	<p>Приведено полное правильное решение, включающее следующие элементы:</p> <ol style="list-style-type: none"> <li>1) верно записано краткое условие задачи;</li> <li>2) записаны уравнения и формулы, применение которых необходимо и достаточно для решения задачи выбранным способом;</li> <li>3) выполнены необходимые математические преобразования и расчеты, приводящие к правильному числовому ответу, и представлен ответ. При этом допускается решение "по частям" (с промежуточными вычислениями).</li> </ol>



4	<p>Правильно записаны необходимые формулы, проведены вычисления, и получен ответ (верный или неверный), но допущена ошибка в записи краткого условия или переводе единиц в СИ.</p> <p>ИЛИ</p> <p>Представлено правильное решение только в общем виде, без каких-либо числовых расчетов.</p> <p>ИЛИ</p> <p>Записаны уравнения и формулы, применение которых необходимо и достаточно для решения задачи выбранным способом, но в математических преобразованиях или вычислениях допущена ошибка.</p>
3	<p>Записаны и использованы не все исходные формулы, необходимые для решения задачи.</p> <p>ИЛИ</p> <p>Записаны все исходные формулы, но в <b>ОДНОЙ</b> из них допущена ошибка.</p>

#### Задание №21 (из текущего контроля)

Решите задачу: Свет лазера с длиной волны в вакууме  $\lambda_0 = 632,8$  нм проникает в алмаз, показатель преломления которого  $n = 2,419$ . Определите длину волны (в нм) света в алмазе. (Ответ округлить до целых.)

<i>Оценка</i>	<i>Показатели оценки</i>
5	<p>Приведено полное правильное решение, включающее следующие элементы:</p> <ol style="list-style-type: none"> <li>1) верно записано краткое условие задачи;</li> <li>2) записаны уравнения и формулы, применение которых необходимо и достаточно для решения задачи выбранным способом;</li> <li>3) выполнены необходимые математические преобразования и расчеты, приводящие к правильному числовому ответу, и представлен ответ. При этом допускается решение "по частям" (с промежуточными вычислениями).</li> </ol>

4	<p>Правильно записаны необходимые формулы, проведены вычисления, и получен ответ (верный или неверный), но допущена ошибка в записи краткого условия или переводе единиц в СИ.</p> <p>ИЛИ</p> <p>Представлено правильное решение только в общем виде, без каких-либо числовых расчетов.</p> <p>ИЛИ</p> <p>Записаны уравнения и формулы, применение которых необходимо и достаточно для решения задачи выбранным способом, но в математических преобразованиях или вычислениях допущена ошибка.</p>
3	<p>Записаны и использованы не все исходные формулы, необходимые для решения задачи.</p> <p>ИЛИ</p> <p>Записаны все исходные формулы, но в <b>ОДНОЙ</b> из них допущена ошибка.</p>

#### Задание №22 (из текущего контроля)

Решите задачу: На рассеивающую линзу вдоль главной оптической оси падает параллельный пучок света диаметром 5 см. За линзой на расстоянии 20 см есть экран, на котором получается круглое пятно диаметром 150мм. Определить главное фокусное расстояние линзы (в см).

<i>Оценка</i>	<i>Показатели оценки</i>
5	<p>Приведено полное правильное решение, включающее следующие элементы:</p> <ol style="list-style-type: none"> <li>1) верно записано краткое условие задачи;</li> <li>2) записаны уравнения и формулы, применение которых необходимо и достаточно для решения задачи выбранным способом;</li> <li>3) выполнены необходимые математические преобразования и расчеты, приводящие к правильному числовому ответу, и представлен ответ. При этом допускается решение "по частям" (с промежуточными вычислениями).</li> </ol>

4	<p>Правильно записаны необходимые формулы, проведены вычисления, и получен ответ (верный или неверный), но допущена ошибка в записи краткого условия или переводе единиц в СИ.</p> <p>ИЛИ</p> <p>Представлено правильное решение только в общем виде, без каких-либо числовых расчетов.</p> <p>ИЛИ</p> <p>Записаны уравнения и формулы, применение которых необходимо и достаточно для решения задачи выбранным способом, но в математических преобразованиях или вычислениях допущена ошибка.</p>
3	<p>Записаны и использованы не все исходные формулы, необходимые для решения задачи.</p> <p>ИЛИ</p> <p>Записаны все исходные формулы, но в <b>ОДНОЙ</b> из них допущена ошибка.</p>

### Задание №23 (из текущего контроля)

Решите задачу: Линия дифракционного спектра четвертого порядка с длиной волны  $\lambda_1 = 510$  нм накладывается на линию спектра третьего порядка с длиной волны  $\lambda_2$ . Определите длину волны спектра третьего порядка (в нм).

<i>Оценка</i>	<i>Показатели оценки</i>
5	<p>Приведено полное правильное решение, включающее следующие элементы:</p> <ol style="list-style-type: none"> <li>1) верно записано краткое условие задачи;</li> <li>2) записаны уравнения и формулы, применение которых необходимо и достаточно для решения задачи выбранным способом;</li> <li>3) выполнены необходимые математические преобразования и расчеты, приводящие к правильному числовому ответу, и представлен ответ. При этом допускается решение "по частям" (с промежуточными вычислениями).</li> </ol>

4	<p>Правильно записаны необходимые формулы, проведены вычисления, и получен ответ (верный или неверный), но допущена ошибка в записи краткого условия или переводе единиц в СИ.</p> <p>ИЛИ</p> <p>Представлено правильное решение только в общем виде, без каких-либо числовых расчетов.</p> <p>ИЛИ</p> <p>Записаны уравнения и формулы, применение которых необходимо и достаточно для решения задачи выбранным способом, но в математических преобразованиях или вычислениях допущена ошибка.</p>
3	<p>Записаны и использованы не все исходные формулы, необходимые для решения задачи.</p> <p>ИЛИ</p> <p>Записаны все исходные формулы, но в <b>ОДНОЙ</b> из них допущена ошибка.</p>

#### Задание №24 (из текущего контроля)

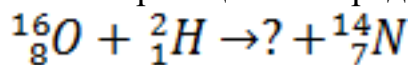
Решите задачу: Работа выхода электрона из некоторого металла равна 2 эВ. Фотон выбивает из этого металла электрон с энергией 3 эВ. Какова (в эВ) минимальная энергия такого фотона?

<i>Оценка</i>	<i>Показатели оценки</i>
5	<p>Приведено полное правильное решение, включающее следующие элементы:</p> <ol style="list-style-type: none"> <li>1) верно записано краткое условие задачи;</li> <li>2) записаны уравнения и формулы, применение которых необходимо и достаточно для решения задачи выбранным способом;</li> <li>3) выполнены необходимые математические преобразования и расчеты, приводящие к правильному числовому ответу, и представлен ответ. При этом допускается решение "по частям" (с промежуточными вычислениями).</li> </ol>

4	<p>Правильно записаны необходимые формулы, проведены вычисления, и получен ответ (верный или неверный), но допущена ошибка в записи краткого условия или переводе единиц в СИ.</p> <p>ИЛИ</p> <p>Представлено правильное решение только в общем виде, без каких-либо числовых расчетов.</p> <p>ИЛИ</p> <p>Записаны уравнения и формулы, применение которых необходимо и достаточно для решения задачи выбранным способом, но в математических преобразованиях или вычислениях допущена ошибка.</p>
3	<p>Записаны и использованы не все исходные формулы, необходимые для решения задачи.</p> <p>ИЛИ</p> <p>Записаны все исходные формулы, но в <b>ОДНОЙ</b> из них допущена ошибка.</p>

**Задание №25 (из текущего контроля)**

Решите задачу: Допишите реакцию и определите ее энергетический выход (Ответ выразить в МэВ.):

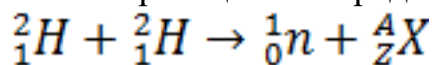


<i>Оценка</i>	<i>Показатели оценки</i>
5	<p>Приведено полное правильное решение, включающее следующие элементы:</p> <ol style="list-style-type: none"> <li>1) верно записано краткое условие задачи;</li> <li>2) записаны уравнения и формулы, применение которых необходимо и достаточно для решения задачи выбранным способом;</li> <li>3) выполнены необходимые математические преобразования и расчеты, приводящие к правильному числовому ответу, и представлен ответ. При этом допускается решение "по частям" (с промежуточными вычислениями).</li> </ol>

4	<p>Правильно записаны необходимые формулы, проведены вычисления, и получен ответ (верный или неверный), но допущена ошибка в записи краткого условия или переводе единиц в СИ.</p> <p>ИЛИ</p> <p>Представлено правильное решение только в общем виде, без каких-либо числовых расчетов.</p> <p>ИЛИ</p> <p>Записаны уравнения и формулы, применение которых необходимо и достаточно для решения задачи выбранным способом, но в математических преобразованиях или вычислениях допущена ошибка.</p>
3	<p>Записаны и использованы не все исходные формулы, необходимые для решения задачи.</p> <p>ИЛИ</p> <p>Записаны все исходные формулы, но в <b>ОДНОЙ</b> из них допущена ошибка.</p>

#### Задание №26 (из текущего контроля)

Решите задачу: Допишите реакцию и определите ее энергетический выход (Ответ выразить в МэВ.):



<i>Оценка</i>	<i>Показатели оценки</i>
5	<p>Приведено полное правильное решение, включающее следующие элементы:</p> <ol style="list-style-type: none"> <li>1) верно записано краткое условие задачи;</li> <li>2) записаны уравнения и формулы, применение которых необходимо и достаточно для решения задачи выбранным способом;</li> <li>3) выполнены необходимые математические преобразования и расчеты, приводящие к правильному числовому ответу, и представлен ответ. При этом допускается решение "по частям" (с промежуточными вычислениями).</li> </ol>

4	<p>Правильно записаны необходимые формулы, проведены вычисления, и получен ответ (верный или неверный), но допущена ошибка в записи краткого условия или переводе единиц в СИ.</p> <p>ИЛИ</p> <p>Представлено правильное решение только в общем виде, без каких-либо числовых расчетов.</p> <p>ИЛИ</p> <p>Записаны уравнения и формулы, применение которых необходимо и достаточно для решения задачи выбранным способом, но в математических преобразованиях или вычислениях допущена ошибка.</p>
3	<p>Записаны и использованы не все исходные формулы, необходимые для решения задачи.</p> <p>ИЛИ</p> <p>Записаны все исходные формулы, но в <b>ОДНОЙ</b> из них допущена ошибка.</p>

### Задание №27 (из текущего контроля)

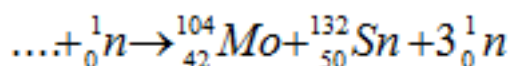
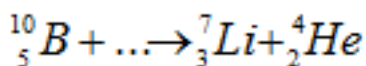
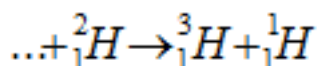
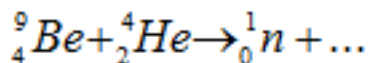
Решите задачу: Какой изотоп образуется из  ${}_{92}^{238}\text{U}$  после одного  $\beta$ -распадов и двух  $\alpha$ -распада? Запишите реакции.

<i>Оценка</i>	<i>Показатели оценки</i>
5	<p>Приведено полное правильное решение, включающее следующие элементы:</p> <ol style="list-style-type: none"> <li>1) верно записано краткое условие задачи;</li> <li>2) записаны уравнения и формулы, применение которых необходимо и достаточно для решения задачи выбранным способом;</li> <li>3) выполнены необходимые математические преобразования и расчеты, приводящие к правильному числовому ответу, и представлен ответ. При этом допускается решение "по частям" (с промежуточными вычислениями).</li> </ol>

4	<p>Правильно записаны необходимые формулы, проведены вычисления, и получен ответ (верный или неверный), но допущена ошибка в записи краткого условия или переводе единиц в СИ.</p> <p>ИЛИ</p> <p>Представлено правильное решение только в общем виде, без каких-либо числовых расчетов.</p> <p>ИЛИ</p> <p>Записаны уравнения и формулы, применение которых необходимо и достаточно для решения задачи выбранным способом, но в математических преобразованиях или вычислениях допущена ошибка.</p>
3	<p>Записаны и использованы не все исходные формулы, необходимые для решения задачи.</p> <p>ИЛИ</p> <p>Записаны все исходные формулы, но в <b>ОДНОЙ</b> из них допущена ошибка.</p>

### Задание №28 (из текущего контроля)

Допишите реакции:



<b>Оценка</b>	<b>Показатели оценки</b>
5	<p>Приведено полное правильное решение, включающее следующие элементы:</p> <ol style="list-style-type: none"> <li>1) верно записано краткое условие задачи;</li> <li>2) записаны уравнения и формулы, применение которых необходимо и достаточно для решения задачи выбранным способом;</li> <li>3) выполнены необходимые математические преобразования и расчеты, приводящие к правильному числовому ответу, и представлен ответ. При этом допускается решение "по частям" (с промежуточными вычислениями).</li> </ol>



4	<p>Правильно записаны необходимые формулы, проведены вычисления, и получен ответ (верный или неверный), но допущена ошибка в записи краткого условия или переводе единиц в СИ.</p> <p>ИЛИ</p> <p>Представлено правильное решение только в общем виде, без каких-либо числовых расчетов.</p> <p>ИЛИ</p> <p>Записаны уравнения и формулы, применение которых необходимо и достаточно для решения задачи выбранным способом, но в математических преобразованиях или вычислениях допущена ошибка.</p>
3	<p>Записаны и использованы не все исходные формулы, необходимые для решения задачи.</p> <p>ИЛИ</p> <p>Записаны все исходные формулы, но в <b>ОДНОЙ</b> из них допущена ошибка.</p>

**Дидактическая единица для контроля:**

.3.5 сформированность умения применять полученные знания для объяснения условий протекания физических явлений в природе и для принятия практических решений в повседневной жизни;

**Задание №1 (из текущего контроля)**

Сформулируйте развернутый ответ на вопрос: "По закону всемирного тяготения все тела притягиваются друг к другу под действием гравитационных сил. Приведите пример, когда при сближении тел сила притяжения между ними уменьшается".

<b>Оценка</b>	<b>Показатели оценки</b>
5	Представлен правильный ответ на вопрос, и приведено достаточное обоснование, не содержащее ошибок.
4	Представлен правильный ответ на поставленный вопрос, но его обоснование не является достаточным или в нем допущено не более одной ошибки или неточности.
3	Представлены корректные рассуждения, приводящие к правильному ответу, но ответ явно не сформулирован.

**Задание №2 (из текущего контроля)**

Сформулируйте развернутый ответ на вопрос: "Если тело находится внутри жидкости, плотность которой равна плотности этого тела, то сила тяжести

уравновешивается выталкивающей силой. Можно ли считать, что это тело находится в состоянии невесомости?"

<b>Оценка</b>	<b>Показатели оценки</b>
5	Представлен правильный ответ на вопрос, и приведено достаточное обоснование, не содержащее ошибок.
4	Представлен правильный ответ на поставленный вопрос, но его обоснование не является достаточным или в нем допущено не более одной ошибки или неточности.
3	Представлены корректные рассуждения, приводящие к правильному ответу, но ответ явно не сформулирован.

### **Задание №3 (из текущего контроля)**

Сформулируйте развернутый ответ на вопрос "Почему загрязнение молока является одним из показателей, характеризующих радиоэкологическое состояние местности?"

<b>Оценка</b>	<b>Показатели оценки</b>
5	Представлен правильный ответ на вопрос, и приведено достаточное обоснование, не содержащее ошибок.
4	Представлен правильный ответ на поставленный вопрос, но его обоснование не является достаточным или в нем допущено не более одной ошибки или неточности.
3	Представлены корректные рассуждения, приводящие к правильному ответу, но ответ явно не сформулирован.

### **Задание №4 (из текущего контроля)**

Сформулируйте развернутый ответ на вопрос: "С какой целью на радиоактивно загрязненных территориях производились известкование почв и внесение повышенных доз калийных удобрений?"

<b>Оценка</b>	<b>Показатели оценки</b>
5	Представлен правильный ответ на вопрос, и приведено достаточное обоснование, не содержащее ошибок.
4	Представлен правильный ответ на поставленный вопрос, но его обоснование не является достаточным или в нем допущено не более одной ошибки или неточности.

3	Представлены корректные рассуждения, приводящие к правильному ответу, но ответ явно не сформулирован.
---	---

**Дидактическая единица для контроля:**

.3.6 сформированность собственной позиции по отношению к физической информации, получаемой из разных источников

**Задание №1 (из текущего контроля)**

Сформулируйте развернутый ответ на вопрос: "Нить лампы накаливания со временем становится тоньше из-за испарения и распыления материала с поверхности нити. Что при этом происходит с потребляемой лампой мощностью?"

<i>Оценка</i>	<i>Показатели оценки</i>
5	Представлен правильный ответ на вопрос, и приведено достаточное обоснование, не содержащее ошибок.
4	Представлен правильный ответ на поставленный вопрос, но его обоснование не является достаточным или в нем допущено не более одной ошибки или неточности.
3	Представлены корректные рассуждения, приводящие к правильному ответу, но ответ явно не сформулирован.

**Задание №2 (из текущего контроля)**

Сформулируйте развернутый ответ на вопрос: "Почему при пропускании электрического тока проводник нагревается?"

<i>Оценка</i>	<i>Показатели оценки</i>
5	Представлен правильный ответ на вопрос, и приведено достаточное обоснование, не содержащее ошибок
4	Представлен правильный ответ на поставленный вопрос, но его обоснование не является достаточным или в нем допущено не более одной ошибки или неточности.
3	Представлены корректные рассуждения, приводящие к правильному ответу, но ответ явно не сформулирован.

**Задание №3 (из текущего контроля)**

Сформулируйте развернутый ответ на вопрос "Может ли человек бежать быстрее своей тени?"

<i>Оценка</i>	<i>Показатели оценки</i>
---------------	--------------------------

5	Представлен правильный ответ на вопрос, и приведено достаточное обоснование, не содержащее ошибок.
4	Представлен правильный ответ на поставленный вопрос, но его обоснование не является достаточным или в нем допущено не более одной ошибки или неточности.
3	Представлены корректные рассуждения, приводящие к правильному ответу, но ответ явно не сформулирован.

#### **Задание №4 (из текущего контроля)**

Сформулируйте ответ на вопрос "Неровности дороги днем видны хуже, чем ночью при освещении дороги фарами автомобиля. Почему"?

<i>Оценка</i>	<i>Показатели оценки</i>
5	Представлен правильный ответ на вопрос, и приведено достаточное обоснование, не содержащее ошибок.
4	Представлен правильный ответ на поставленный вопрос, но его обоснование не является достаточным или в нем допущено не более одной ошибки или неточности.
3	Представлены корректные рассуждения, приводящие к правильному ответу, но ответ явно не сформулирован.