

**Контрольно-оценочные средства для проведения текущего  
контроля  
по БОД.04 Физика  
(1 курс, 2 семестр 2023-2024 уч. г.)**

**Текущий контроль №1**

**Форма контроля:** Контрольная работа (Информационно-аналитический)

**Описательная часть:** Письменная контрольная работа

**Задание №1**

Сформулируйте развернутый ответ на вопрос: "Энергия тела. Закон сохранения энергии".

Оценка	Показатели оценки
5	1. Показывает верное понимание физической сущности рассматриваемых явлений и закономерностей, законов и теорий, дает точное определение и истолкование основных понятий, законов, теорий. 2. Дает правильное определение физических величин, их единиц и способов измерения. 3. Правильно выполняет чертежи, схемы и графики. 4. Сопровождает рассказ новыми примерами.
4	Ответ удовлетворяет основным требованиям к ответу на оценку 5, но: 1. Обучающийся допустил одну ошибку или не более двух недочетов и может их исправить самостоятельно или с небольшой помощью преподавателя. 2. Ответ дан без использования новых примеров.
3	Обучающийся правильно понимает физическую сущность рассматриваемых явлений и закономерностей, но: 1. В его ответе, имеются отдельные пробелы в усвоении вопросов курса физики, не препятствующие дальнейшему усвоению программного материала. 2. Обучающийся может допустить не более одной грубой ошибки и двух недочетов; или не более одной грубой ошибки и не более двух-трех негрубых ошибок; или одной негрубой ошибки и трех недочетов; или четырех или пяти недочетов.

**Задание №2**

Сформулируйте развернутый ответ на вопрос: "Основы молекулярно-кинетической теории".

Оценка	Показатели оценки

5	<p>1. Показывает верное понимание физической сущности рассматриваемых явлений и закономерностей, законов и теорий, дает точное определение и истолкование основных понятий, законов, теорий.</p> <p>2. Дает правильное определение физических величин, их единиц и способов измерения.</p> <p>3. Правильно выполняет чертежи, схемы и графики.</p> <p>4. Сопровождает рассказ новыми примерами.</p>
4	<p>Ответ удовлетворяет основным требованиям к ответу на оценку 5, но:</p> <p>1. Обучающийся допустил одну ошибку или не более двух недочетов и может их исправить самостоятельно или с небольшой помощью преподавателя.</p> <p>2. Ответ дан без использования новых примеров.</p>
3	<p>Обучающийся правильно понимает физическую сущность рассматриваемых явлений и закономерностей, но:</p> <p>1. В его ответе, имеются отдельные пробелы в усвоении вопросов курса физики, не препятствующие дальнейшему усвоению программного материала.</p> <p>2. Обучающийся может допустить не более одной грубой ошибки и двух недочетов; или не более одной грубой ошибки и не более двух-трех негрубых ошибок; или одной негрубой ошибки и трех недочетов; или четырех или пяти недочетов.</p>

### Задание №3

Сформулируйте развернутый ответ на вопрос: "Уравнение состояния идеального газа. Газовые законы".

Оценка	Показатели оценки
5	<p>1. Показывает верное понимание физической сущности рассматриваемых явлений и закономерностей, законов и теорий, дает точное определение и истолкование основных понятий, законов, теорий.</p> <p>2. Дает правильное определение физических величин, их единиц и способов измерения.</p> <p>3. Правильно выполняет чертежи, схемы и графики.</p> <p>4. Сопровождает рассказ новыми примерами.</p>
4	<p>Ответ удовлетворяет основным требованиям к ответу на оценку 5, но:</p> <p>1. Обучающийся допустил одну ошибку или не более двух недочетов и может их исправить самостоятельно или с небольшой помощью преподавателя.</p> <p>2. Ответ дан без использования новых примеров.</p>

3	<p>Обучающийся правильно понимает физическую сущность рассматриваемых явлений и закономерностей, но:</p> <ol style="list-style-type: none"> <li>1. В его ответе, имеются отдельные пробелы в усвоении вопросов курса физики, не препятствующие дальнейшему усвоению программного материала.</li> <li>2. Обучающийся может допустить не более одной грубой ошибки и двух недочетов; или не более одной грубой ошибки и не более двух-трех негрубых ошибок; или одной негрубой ошибки и трех недочетов; или четырех или пяти недочетов.</li> </ol>
---	--

#### Задание №4

Сформулируйте развернутый ответ на вопрос: "Агрегатные состояния вещества. Фазовые переходы".

Оценка	Показатели оценки
5	<ol style="list-style-type: none"> <li>1. Показывает верное понимание физической сущности рассматриваемых явлений и закономерностей, законов и теорий, дает точное определение и истолкование основных понятий, законов, теорий.</li> <li>2. Дает правильное определение физических величин, их единиц и способов измерения.</li> <li>3. Правильно выполняет чертежи, схемы и графики.</li> <li>4. Сопровождает рассказ новыми примерами.</li> </ol>
4	<p>Ответ удовлетворяет основным требованиям к ответу на оценку 5, но:</p> <ol style="list-style-type: none"> <li>1. Обучающийся допустил одну ошибку или не более двух недочетов и может их исправить самостоятельно или с небольшой помощью преподавателя.</li> <li>2. Ответ дан без использования новых примеров.</li> </ol>
3	<p>Обучающийся правильно понимает физическую сущность рассматриваемых явлений и закономерностей, но:</p> <ol style="list-style-type: none"> <li>1. В его ответе, имеются отдельные пробелы в усвоении вопросов курса физики, не препятствующие дальнейшему усвоению программного материала.</li> <li>2. Обучающийся может допустить не более одной грубой ошибки и двух недочетов; или не более одной грубой ошибки и не более двух-трех негрубых ошибок; или одной негрубой ошибки и трех недочетов; или четырех или пяти недочетов.</li> </ol>

#### Задание №5

Сформулируйте развернутый ответ на вопрос: "Основные понятия и законы термодинамики".

Оценка	Показатели оценки
--------	-------------------

5	<p>1. Показывает верное понимание физической сущности рассматриваемых явлений и закономерностей, законов и теорий, дает точное определение и истолкование основных понятий, законов, теорий.</p> <p>2. Дает правильное определение физических величин, их единиц и способов измерения.</p> <p>3. Правильно выполняет чертежи, схемы и графики.</p> <p>4. Сопровождает рассказ новыми примерами.</p>
4	<p>Ответ удовлетворяет основным требованиям к ответу на оценку 5, но:</p> <p>1. Обучающийся допустил одну ошибку или не более двух недочетов и может их исправить самостоятельно или с небольшой помощью преподавателя.</p> <p>2. Ответ дан без использования новых примеров.</p>
3	<p>Обучающийся правильно понимает физическую сущность рассматриваемых явлений и закономерностей, но:</p> <p>1. В его ответе, имеются отдельные пробелы в усвоении вопросов курса физики, не препятствующие дальнейшему усвоению программного материала.</p> <p>2. Обучающийся может допустить не более одной грубой ошибки и двух недочетов; или не более одной грубой ошибки и не более двух-трех негрубых ошибок; или одной негрубой ошибки и трех недочетов; или четырех или пяти недочетов.</p>

### Задание №6

В стеклянный чайник налили холодную воду ( $t_{\text{воды}} = 20\text{ }^{\circ}\text{C}$ ) до половины его объема и поставили на огонь. Как с течением времени (до момента кипения) будут меняться давление водяных паров над поверхностью воды, масса и температура воды в чайнике?



- 1) увеличивается;
- 2) уменьшается;

3) не изменяется.

Давление паров воды	Температура воды	Масса воды

Оценка	Показатели оценки
5	Верно определен характер трех величин.
4	Верно определен характер двух величин.
3	Верно определен характер одной величины.

### Задание №7

Герметично закрытый сосуд, частично заполненный водой, длительное время хранился при комнатной температуре, а затем был переставлен в холодильник. Как изменятся в холодильнике плотность водяного пара, относительная влажность и абсолютная влажность воздуха в сосуде?

Для каждой величины определите соответствующий характер ее изменения:

- 1) увеличится;
- 2) уменьшится;
- 3) не изменится.


Плотность пара	Относительная влажность	Абсолютная влажность

Оценка	Показатели оценки
5	Верно определен характер трех величин.
4	Верно определен характер двух величин.
3	Верно определен характер одной величины.

### Задание №8

В колбу с воздухом через пробку вставлена стеклянная трубка. Предварительно охлажденную в холодильнике колбу перевернули, опустив стеклянную трубку в стакан с водой, и начали нагревать рукой. При этом из трубки выходят пузырьки воздуха (см. рис.). Как будут изменяться масса, плотность и давление воздуха в колбе в результате нагревания?

Для каждой величины определите соответствующий характер ее изменения:



- 1) увеличится;
- 2) уменьшится;
- 3) не изменится.

Масса воздуха	Плотность воздуха	Давление в колбе

Оценка	Показатели оценки
5	Верно определен характер трех величин.
4	Верно определен характер двух величин.
3	Верно определен характер одной величины.

### Задание №9

В стеклянный чайник налили холодную воду до половины его объема и поставили на огонь. Вода закипела. Как в процессе кипения воды изменяются давление водяных паров над поверхностью воды, температура воды и средняя кинетическая энергия теплового движения молекул воды в чайнике?

Для каждой величины определите характер ее изменения:



- 1) увеличивается;
- 2) уменьшается;
- 3) не изменяется.

Давление паров воды	Температура воды	Средняя кинетическая энергия теплового движения молекул воды

Оценка	Показатели оценки
5	Верно определен характер трех величин.
4	Верно определен характер двух величин.
3	Верно определен характер одной величины.

### Задание №10

Цилиндр, в котором под подвижным поршнем находится воздух, начинают нагревать (см. рис.). Как будет изменяться концентрация молекул воздуха, а также давление и объем воздуха в цилиндре по мере нагревания?



Для каждой величины определите соответствующий характер ее изменения:


- 1) увеличится;
- 2) уменьшится;
- 3) не изменится.

Концентрация молекул	Давление воздуха	Объем воздуха

Оценка	Показатели оценки
5	Верно определен характер трех величин.
4	Верно определен характер двух величин.
3	Верно определен характер одной величины.

### Задание №11

Гофрированный цилиндр, в котором под закрепленным поршнем находится воздух, начинают охлаждать, поместив в сосуд с холодной водой (см. рис.). Как будет изменяться концентрация молекул воздуха, а также внутренняя энергия и давление воздуха в цилиндре по мере охлаждения?



Для каждой величины определите соответствующий характер ее изменения:



- 1) увеличится;
- 2) уменьшится;
- 3) не изменится.

Концентрация молекул	Внутренняя энергия	Давление воздуха

Оценка	Показатели оценки
5	Верно определен характер трех величин.
4	Верно определен характер двух величин.
3	Верно определен характер одной величины.

### Задание №12

Объем воздуха в комнате  $100 \text{ м}^3$ . Какова масса вышедшего из комнаты воздуха при повышении температуры от  $10^\circ\text{C}$  до  $25^\circ\text{C}$ , если атмосферное давление  $102 \text{ кПа}$ ?

Оценка	Показатели оценки
5	Приведено полное правильное решение, включающее следующие элементы: 1) верно записано краткое условие задачи; 2) записаны уравнения и формулы, применение которых необходимо и достаточно для решения задачи выбранным способом; 3) выполнены необходимые математические преобразования и расчеты, приводящие к правильному числовому ответу, и представлен ответ. При этом допускается решение "по частям" (с промежуточными вычислениями).
4	Правильно записаны необходимые формулы, проведены вычисления, и получен ответ (верный или неверный), но допущена ошибка в записи краткого условия или переводе единиц в СИ. ИЛИ Представлено правильное решение только в общем виде, без каких-либо числовых расчетов. ИЛИ Записаны уравнения и формулы, применение которых необходимо и достаточно для решения задачи выбранным способом, но в математических преобразованиях или вычислениях допущена ошибка.

3	<p>Записаны и использованы не все исходные формулы, необходимые для решения задачи.</p> <p>ИЛИ</p> <p>Записаны все исходные формулы, но в ОДНОЙ из них допущена ошибка.</p>
---	---

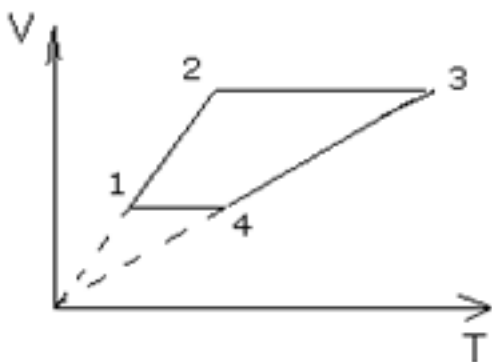
### Задание №13

В баллоне при  $27^{\circ}\text{C}$  и давлении 4,05 МПа находится ацетилен. Каким станет давление в баллоне после расхода половины массы газа, если температура при этом понизится до  $12^{\circ}\text{C}$ ?

Оценка	Показатели оценки
5	<p>Приведено полное правильное решение, включающее следующие элементы:</p> <p>1) верно записано краткое условие задачи;</p> <p>2) записаны уравнения и формулы, применение которых необходимо и достаточно для решения задачи выбранным способом;</p> <p>3) выполнены необходимые математические преобразования и расчеты, приводящие к правильному числовому ответу, и представлен ответ. При этом допускается решение "по частям" (с промежуточными вычислениями).</p>
4	<p>Правильно записаны необходимые формулы, проведены вычисления, и получен ответ (верный или неверный), но допущена ошибка в записи краткого условия или переводе единиц в СИ.</p> <p>ИЛИ</p> <p>Представлено правильное решение только в общем виде, без каких-либо числовых расчетов.</p> <p>ИЛИ</p> <p>Записаны уравнения и формулы, применение которых необходимо и достаточно для решения задачи выбранным способом, но в математических преобразованиях или вычислениях допущена ошибка.</p>
3	<p>Записаны и использованы не все исходные формулы, необходимые для решения задачи.</p> <p>ИЛИ</p> <p>Записаны все исходные формулы, но в ОДНОЙ из них допущена ошибка.</p>

### Задание №14

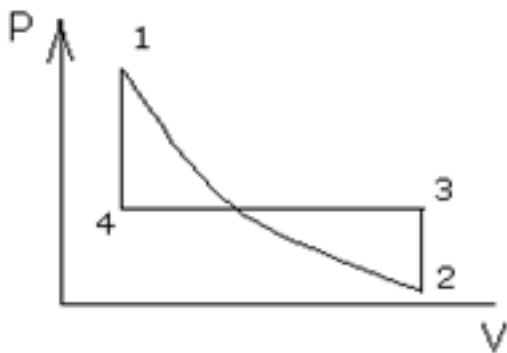
Назвать процессы и построить графики в других осях:



Оценка	Показатели оценки
5	<p>Приведено полное правильное решение, включающее следующие элементы:</p> <ol style="list-style-type: none"> <li>1) верно записано краткое условие задачи;</li> <li>2) записаны уравнения и формулы, применение которых необходимо и достаточно для решения задачи выбранным способом;</li> <li>3) выполнены необходимые математические преобразования и расчеты, приводящие к правильному числовому ответу, и представлен ответ. При этом допускается решение "по частям" (с промежуточными вычислениями).</li> </ol>
4	<p>Правильно записаны необходимые формулы, проведены вычисления, и получен ответ (верный или неверный), но допущена ошибка в записи краткого условия или переводе единиц в СИ.</p> <p>ИЛИ</p> <p>Представлено правильное решение только в общем виде, без каких-либо числовых расчетов.</p> <p>ИЛИ</p> <p>Записаны уравнения и формулы, применение которых необходимо и достаточно для решения задачи выбранным способом, но в математических преобразованиях или вычислениях допущена ошибка.</p>
3	<p>Записаны и использованы не все исходные формулы, необходимые для решения задачи.</p> <p>ИЛИ</p> <p>Записаны все исходные формулы, но в ОДНОЙ из них допущена ошибка.</p>

### Задание №15

Назвать процессы и построить графики в других осях:



Оценка	Показатели оценки
5	<p>Приведено полное правильное решение, включающее следующие элементы:</p> <p>1) верно записано краткое условие задачи;</p> <p>2) записаны уравнения и формулы, применение которых необходимо и достаточно для решения задачи выбранным способом;</p> <p>3) выполнены необходимые математические преобразования и расчеты, приводящие к правильному числовому ответу, и представлен ответ. При этом допускается решение "по частям" (с промежуточными вычислениями).</p>
4	<p>Правильно записаны необходимые формулы, проведены вычисления, и получен ответ (верный или неверный), но допущена ошибка в записи краткого условия или переводе единиц в СИ.</p> <p>ИЛИ</p> <p>Представлено правильное решение только в общем виде, без каких-либо числовых расчетов.</p> <p>ИЛИ</p> <p>Записаны уравнения и формулы, применение которых необходимо и достаточно для решения задачи выбранным способом, но в математических преобразованиях или вычислениях допущена ошибка.</p>
3	<p>Записаны и использованы не все исходные формулы, необходимые для решения задачи.</p> <p>ИЛИ</p> <p>Записаны все исходные формулы, но в ОДНОЙ из них допущена ошибка.</p>

### Задание №16

При изобарном нагревании одноатомного идеального газа его внутреннюю энергию увеличили на 120 Дж. Определить работу, совершенную газом, и количество теплоты, полученное газом.

Оценка	Показатели оценки

5	<p>Приведено полное правильное решение, включающее следующие элементы:</p> <p>1) верно записано краткое условие задачи;</p> <p>2) записаны уравнения и формулы, применение которых необходимо и достаточно для решения задачи выбранным способом;</p> <p>3) выполнены необходимые математические преобразования и расчеты, приводящие к правильному числовому ответу, и представлен ответ. При этом допускается решение "по частям" (с промежуточными вычислениями).</p>
4	<p>Правильно записаны необходимые формулы, проведены вычисления, и получен ответ (верный или неверный), но допущена ошибка в записи краткого условия или переводе единиц в СИ.</p> <p>ИЛИ</p> <p>Представлено правильное решение только в общем виде, без каких-либо числовых расчетов.</p> <p>ИЛИ</p> <p>Записаны уравнения и формулы, применение которых необходимо и достаточно для решения задачи выбранным способом, но в математических преобразованиях или вычислениях допущена ошибка.</p>
3	<p>Записаны и использованы не все исходные формулы, необходимые для решения задачи.</p> <p>ИЛИ</p> <p>Записаны все исходные формулы, но в ОДНОЙ из них допущена ошибка.</p>

### Задание №17

Одноатомный идеальный газ при давлении  $3 \cdot 10^5$  Па и температуре  $0^\circ\text{C}$  занимает объем  $2$  м<sup>3</sup>. Газ сжимают без теплообмена с окружающей средой. При этом температура повышается до  $200^\circ\text{C}$ .

Определить работу, совершаемую газом.

Оценка	Показатели оценки
5	<p>Приведено полное правильное решение, включающее следующие элементы:</p> <p>1) верно записано краткое условие задачи;</p> <p>2) записаны уравнения и формулы, применение которых необходимо и достаточно для решения задачи выбранным способом;</p> <p>3) выполнены необходимые математические преобразования и расчеты, приводящие к правильному числовому ответу, и представлен ответ. При этом допускается решение "по частям" (с промежуточными вычислениями).</p>

4	<p>Правильно записаны необходимые формулы, проведены вычисления, и получен ответ (верный или неверный), но допущена ошибка в записи краткого условия или переводе единиц в СИ.</p> <p>ИЛИ</p> <p>Представлено правильное решение только в общем виде, без каких-либо числовых расчетов.</p> <p>ИЛИ</p> <p>Записаны уравнения и формулы, применение которых необходимо и достаточно для решения задачи выбранным способом, но в математических преобразованиях или вычислениях допущена ошибка.</p>
3	<p>Записаны и использованы не все исходные формулы, необходимые для решения задачи.</p> <p>ИЛИ</p> <p>Записаны все исходные формулы, но в ОДНОЙ из них допущена ошибка.</p>

### Задание №18

С помощью барометра проводились измерения атмосферного давления. Верхняя шкала барометра проградуирована в мм рт. ст., а нижняя шкала — в гПа ( $10^2$  Па) (см. рис.). Погрешность измерения давления равна цене деления шкалы барометра. Дайте подробное описание снятия показаний прибора и запишите в ответ показания барометра в мм рт. ст. с учетом погрешности измерений.




Оценка	Показатели оценки
5	Дано полное описание снятия показаний прибора, верно записан ответ с учетом погрешности.

4	<p>Дано не полное описание снятия показаний прибора, верно записан ответ с учетом погрешности.</p> <p>или</p> <p>Дано полное описание снятия показаний прибора, записан ответ без учета погрешности.</p>
3	<p>Дано полное описание снятия показаний прибора, в ответе допущена ошибка.</p> <p>или</p> <p>Не дано полное описание снятия показаний прибора, но верно записан ответ с учетом погрешности.</p>

### Задание №19

С помощью барометра проводились измерения атмосферного давления. Нижняя шкала барометра проградуирована в мм рт. ст., а верхняя шкала — в гПа (см. рис.). Погрешность измерения давления равна цене деления шкалы барометра. Дайте подробное описание снятия показаний прибора и запишите в ответ показания барометра в мм рт. ст. с учетом погрешности измерений.



Оценка	Показатели оценки
5	<p>Дано полное описание снятия показаний прибора, верно записан ответ с учетом погрешности.</p>
4	<p>Дано не полное описание снятия показаний прибора, верно записан ответ с учетом погрешности.</p> <p>или</p> <p>Дано полное описание снятия показаний прибора, записан ответ без учета погрешности.</p>

3	<p>Дано полное описание снятия показаний прибора, в ответе допущена ошибка.</p> <p>или</p> <p>Не дано полное описание снятия показаний прибора, но верно записан ответ с учетом погрешности.</p>
---	--

### Задание №20

Давление жидкости или газа в замкнутом объеме измеряют при помощи манометра. Погрешность измерения давления при помощи данного манометра равна его цене деления. Дайте подробное описание снятия показаний прибора и запишите в ответ показания давления в килопаскалях (КПа, КРА) с учетом погрешности измерений.



Оценка	Показатели оценки
5	Дано полное описание снятия показаний прибора, верно записан ответ с учетом погрешности.
4	<p>Дано не полное описание снятия показаний прибора, верно записан ответ с учетом погрешности.</p> <p>или</p> <p>Дано полное описание снятия показаний прибора, записан ответ без учета погрешности.</p>
3	<p>Дано полное описание снятия показаний прибора, в ответе допущена ошибка.</p> <p>или</p> <p>Не дано полное описание снятия показаний прибора, но верно записан ответ с учетом погрешности.</p>



### Задание №21

Давление жидкости или газа в замкнутом объеме измеряют при помощи манометра. Погрешность измерения давления при помощи данного манометра равна его цене деления. Дайте подробное описание снятия показаний прибора и запишите в ответ показания давления в мегапаскалях (МПа, МРА) с учетом погрешности измерений.



Оценка	Показатели оценки
5	Дано полное описание снятия показаний прибора, верно записан ответ с учетом погрешности.
4	Дано не полное описание снятия показаний прибора, верно записан ответ с учетом погрешности.  или  Дано полное описание снятия показаний прибора, записан ответ без учета погрешности.
3	Дано полное описание снятия показаний прибора, в ответе допущена ошибка.  или  Не дано полное описание снятия показаний прибора, но верно записан ответ с учетом погрешности.

### Задание №22

С помощью барометра проводились измерения атмосферного давления. Нижняя шкала барометра

проградуирована в мм рт. ст., а верхняя шкала – в кПа (см. рис.). Погрешность измерений давления равна цене деления шкалы барометра. Дайте подробное описание снятия показаний прибора и запишите в ответ показания барометра в мм рт. ст. с учетом погрешности измерений.



Оценка	Показатели оценки
5	Дано полное описание снятия показаний прибора, верно записан ответ с учетом погрешности.
4	Дано не полное описание снятия показаний прибора, верно записан ответ с учетом погрешности.  или  Дано полное описание снятия показаний прибора, записан ответ без учета погрешности.
3	Дано полное описание снятия показаний прибора, в ответе допущена ошибка.  или  Не дано полное описание снятия показаний прибора, но верно записан ответ с учетом погрешности.

### Задание №23

С помощью барометра проводились измерения атмосферного давления. Нижняя шкала барометра

проградуирована в мм рт. ст., а верхняя шкала – в кПа (см. рис.). Погрешность измерений давления равна цене деления шкалы барометра. Дайте подробное описание снятия показаний прибора и запишите в ответ показания барометра в кПа с учетом погрешности измерений.



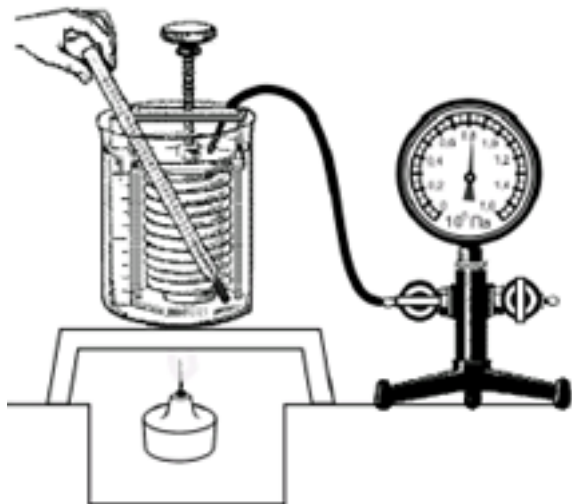
Оценка	Показатели оценки
5	Дано полное описание снятия показаний прибора, верно записан ответ с учетом погрешности.
4	Дано не полное описание снятия показаний прибора, верно записан ответ с учетом погрешности.  или  Дано полное описание снятия показаний прибора, записан ответ без учета погрешности.
3	Дано полное описание снятия показаний прибора, в ответе допущена ошибка.  или  Не дано полное описание снятия показаний прибора, но верно записан ответ с учетом погрешности.

### Задание №24

Вам необходимо исследовать, как меняется давление воздуха в зависимости от его температуры,

если другие параметры воздуха остаются неизменными.

Имеется следующее оборудование (см. рис.):



— сильфон (прибор, при помощи которого можно изменять объем воздуха; сильфон подключается к манометру);

— манометр;

— термометр;

— сосуд с водой;

— горелка.

В ответе:

1. Опишите экспериментальную установку.

2. Опишите порядок действий при проведении исследования.

Оценка	Показатели оценки
5	Дано описание экспериментальной установки, перечислены прямые измерения с изменением параметров, указано наличие анализа и вывода.

4	<p>Дано описание экспериментальной установки, но перечислены не все прямые измерения, указано изменение параметров, указано наличие анализа и вывода.</p> <p>или</p> <p>Дано описание экспериментальной установки, перечислены прямые измерения, указано изменение параметров, но не отмечено наличие анализа и вывода.</p> <p>или</p> <p>Описание экспериментальной установки дано не полное, перечислены прямые измерения, указано изменение параметров, указано наличие анализа и вывода.</p>
3	<p>Ответы даны кратко, или допущены 1-2 ошибки.</p>

### Задание №25

Вам необходимо исследовать, как меняется давление воздуха при изменении его объема, если другие параметры воздуха остаются неизменными. Имеется следующее оборудование (см. рис.):



- сильфон (прибор, при помощи которого можно изменять объем воздуха; сильфон подключается к манометру);
- манометр;
- сосуд с водой;
- горелка.

В ответе:

1. Опишите экспериментальную установку.
2. Опишите порядок действий при проведении исследования.

Оценка	Показатели оценки
5	<p>Дано описание экспериментальной установки, перечислены прямые измерения с изменением параметров, указано наличие анализа и вывода.</p>

4	<p>Дано описание экспериментальной установки, но перечислены не все прямые измерения, указано изменение параметров, указано наличие анализа и вывода.</p> <p>или</p> <p>Дано описание экспериментальной установки, перечислены прямые измерения, указано изменение параметров, но не отмечено наличие анализа и вывода.</p> <p>или</p> <p>Описание экспериментальной установки дано не полное, перечислены прямые измерения, указано изменение параметров, указано наличие анализа и вывода.</p>
3	<p>Ответы даны кратко, или допущены 1-2 ошибки.</p>

## Текущий контроль №2

**Форма контроля:** Контрольная работа (Информационно-аналитический)

**Описательная часть:** Письменная контрольная работа

### Задание №1

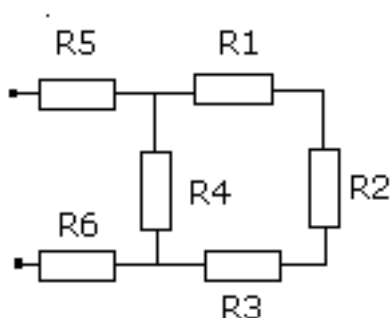
Электрический чайник имеет две обмотки. При включении одной из них, вода в чайнике закипает через 15 мин, при включении другой – через 30 мин. Через сколько времени закипит вода при прочих равных условиях, если обе обмотки включить последовательно? Параллельно?

Оценка	Показатели оценки
5	<p>Приведено полное правильное решение, включающее следующие элементы:</p> <ol style="list-style-type: none"> <li>1) верно записано краткое условие задачи;</li> <li>2) записаны уравнения и формулы, применение которых необходимо и достаточно для решения задачи выбранным способом;</li> <li>3) выполнены необходимые математические преобразования и расчеты, приводящие к правильному числовому ответу, и представлен ответ. При этом допускается решение "по частям" (с промежуточными вычислениями).</li> </ol>

4	<p>Правильно записаны необходимые формулы, проведены вычисления, и получен ответ (верный или неверный), но допущена ошибка в записи краткого условия или переводе единиц в СИ.</p> <p>ИЛИ</p> <p>Представлено правильное решение только в общем виде, без каких-либо числовых расчетов.</p> <p>ИЛИ</p> <p>Записаны уравнения и формулы, применение которых необходимо и достаточно для решения задачи выбранным способом, но в математических преобразованиях или вычислениях допущена ошибка.</p>
3	<p>Записаны и использованы не все исходные формулы, необходимые для решения задачи.</p> <p>ИЛИ</p> <p>Записаны все исходные формулы, но в ОДНОЙ из них допущена ошибка.</p>

### Задание №2

Рассчитать общее сопротивление в схемах (рис.1 и 2):  $R_1=2\text{Ом}$ ,  $R_2=4\text{Ом}$ ,  $R_3=1\text{ Ом}$ ,  $R_4=5\text{Ом}$ ,  $R_5=6\text{Ом}$ ,  $R_6=8\text{Ом}$ .

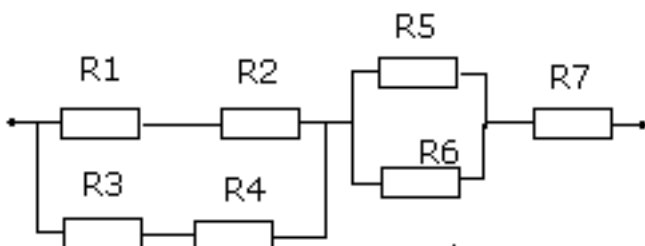


Оценка	Показатели оценки
5	<p>Приведено полное правильное решение, включающее следующие элементы:</p> <ol style="list-style-type: none"> <li>1) верно записано краткое условие задачи;</li> <li>2) записаны уравнения и формулы, применение которых необходимо и достаточно для решения задачи выбранным способом;</li> <li>3) выполнены необходимые математические преобразования и расчеты, приводящие к правильному числовому ответу, и представлен ответ. При этом допускается решение "по частям" (с промежуточными вычислениями).</li> </ol>

4	<p>Правильно записаны необходимые формулы, проведены вычисления, и получен ответ (верный или неверный), но допущена ошибка в записи краткого условия или переводе единиц в СИ.</p> <p>ИЛИ</p> <p>Представлено правильное решение только в общем виде, без каких-либо числовых расчетов.</p> <p>ИЛИ</p> <p>Записаны уравнения и формулы, применение которых необходимо и достаточно для решения задачи выбранным способом, но в математических преобразованиях или вычислениях допущена ошибка.</p>
3	<p>Записаны и использованы не все исходные формулы, необходимые для решения задачи.</p> <p>ИЛИ</p> <p>Записаны все исходные формулы, но в ОДНОЙ из них допущена ошибка.</p>

### Задание №3

Рассчитать общее сопротивление в схемах (рис.1 и 2):  $R_1=2\text{Ом}$ ,  $R_2=4\text{Ом}$ ,  $R_3=1\text{ Ом}$ ,  $R_4=5\text{Ом}$ ,  $R_5=6\text{Ом}$ ,  $R_6=8\text{Ом}$ ,  $R_7=5\text{Ом}$ .



Оценка	Показатели оценки
5	<p>Приведено полное правильное решение, включающее следующие элементы:</p> <ol style="list-style-type: none"> <li>1) верно записано краткое условие задачи;</li> <li>2) записаны уравнения и формулы, применение которых необходимо и достаточно для решения задачи выбранным способом;</li> <li>3) выполнены необходимые математические преобразования и расчеты, приводящие к правильному числовому ответу, и представлен ответ. При этом допускается решение "по частям" (с промежуточными вычислениями).</li> </ol>



4	<p>Правильно записаны необходимые формулы, проведены вычисления, и получен ответ (верный или неверный), но допущена ошибка в записи краткого условия или переводе единиц в СИ.</p> <p>ИЛИ</p> <p>Представлено правильное решение только в общем виде, без каких-либо числовых расчетов.</p> <p>ИЛИ</p> <p>Записаны уравнения и формулы, применение которых необходимо и достаточно для решения задачи выбранным способом, но в математических преобразованиях или вычислениях допущена ошибка.</p>
3	<p>Записаны и использованы не все исходные формулы, необходимые для решения задачи.</p> <p>ИЛИ</p> <p>Записаны все исходные формулы, но в ОДНОЙ из них допущена ошибка.</p>

#### Задание №4

Какую работу совершает двигатель пылесоса за 30 мин, если он потребляет ток силой 1,25 А при напряжении 220 В, а его КПД равен 80%?

Оценка	Показатели оценки
5	<p>Приведено полное правильное решение, включающее следующие элементы:</p> <ol style="list-style-type: none"> <li>1) верно записано краткое условие задачи;</li> <li>2) записаны уравнения и формулы, применение которых необходимо и достаточно для решения задачи выбранным способом;</li> <li>3) выполнены необходимые математические преобразования и расчеты, приводящие к правильному числовому ответу, и представлен ответ. При этом допускается решение "по частям" (с промежуточными вычислениями).</li> </ol>
4	<p>Правильно записаны необходимые формулы, проведены вычисления, и получен ответ (верный или неверный), но допущена ошибка в записи краткого условия или переводе единиц в СИ.</p> <p>ИЛИ</p> <p>Представлено правильное решение только в общем виде, без каких-либо числовых расчетов.</p> <p>ИЛИ</p> <p>Записаны уравнения и формулы, применение которых необходимо и достаточно для решения задачи выбранным способом, но в математических преобразованиях или вычислениях допущена ошибка.</p>

3	<p>Записаны и использованы не все исходные формулы, необходимые для решения задачи.</p> <p>ИЛИ</p> <p>Записаны все исходные формулы, но в ОДНОЙ из них допущена ошибка.</p>
---	---

### Задание №5

Какое максимальное напряжение можно приложить к резистору сопротивлением 22 Ом и мощностью 10 Вт при соблюдении правил техники безопасности?

Оценка	Показатели оценки
5	<p>Приведено полное правильное решение, включающее следующие элементы:</p> <p>1) верно записано краткое условие задачи;</p> <p>2) записаны уравнения и формулы, применение которых необходимо и достаточно для решения задачи выбранным способом;</p> <p>3) выполнены необходимые математические преобразования и расчеты, приводящие к правильному числовому ответу, и представлен ответ. При этом допускается решение "по частям" (с промежуточными вычислениями).</p>
4	<p>Правильно записаны необходимые формулы, проведены вычисления, и получен ответ (верный или неверный), но допущена ошибка в записи краткого условия или переводе единиц в СИ.</p> <p>ИЛИ</p> <p>Представлено правильное решение только в общем виде, без каких-либо числовых расчетов.</p> <p>ИЛИ</p> <p>Записаны уравнения и формулы, применение которых необходимо и достаточно для решения задачи выбранным способом, но в математических преобразованиях или вычислениях допущена ошибка.</p>
3	<p>Записаны и использованы не все исходные формулы, необходимые для решения задачи.</p> <p>ИЛИ</p> <p>Записаны все исходные формулы, но в ОДНОЙ из них допущена ошибка.</p>

### Задание №6

Период колебаний в контуре оставляет  $6 \cdot 10^{-4}$  с, индуктивность катушки 0,05 Гн. Площадь обкладок конденсатора контура равна  $0,3 \text{ м}^2$ , а расстояние между ними 0,1 мм. Найдите диэлектрическую проницаемость диэлектрика, используемого в конденсаторе.

Оценка	Показатели оценки
--------	-------------------

5	<p>Приведено полное правильное решение, включающее следующие элементы:</p> <p>1) верно записано краткое условие задачи;</p> <p>2) записаны уравнения и формулы, применение которых необходимо и достаточно для решения задачи выбранным способом;</p> <p>3) выполнены необходимые математические преобразования и расчеты, приводящие к правильному числовому ответу, и представлен ответ. При этом допускается решение "по частям" (с промежуточными вычислениями).</p>
4	<p>Правильно записаны необходимые формулы, проведены вычисления, и получен ответ (верный или неверный), но допущена ошибка в записи краткого условия или переводе единиц в СИ.</p> <p>ИЛИ</p> <p>Представлено правильное решение только в общем виде, без каких-либо числовых расчетов.</p> <p>ИЛИ</p> <p>Записаны уравнения и формулы, применение которых необходимо и достаточно для решения задачи выбранным способом, но в математических преобразованиях или вычислениях допущена ошибка.</p>
3	<p>Записаны и использованы не все исходные формулы, необходимые для решения задачи.</p> <p>ИЛИ</p> <p>Записаны все исходные формулы, но в ОДНОЙ из них допущена ошибка.</p>

### Задание №7

Период колебаний в контуре оставляет  $6 \cdot 10^{-4}$  с, индуктивность катушки 0,05 Гн. Площадь обкладок конденсатора контура равна  $0,3 \text{ м}^2$ , а расстояние между ними 0,1 мм. Найдите диэлектрическую проницаемость диэлектрика, используемого в конденсаторе.

Оценка	Показатели оценки
5	<p>Приведено полное правильное решение, включающее следующие элементы:</p> <p>1) верно записано краткое условие задачи;</p> <p>2) записаны уравнения и формулы, применение которых необходимо и достаточно для решения задачи выбранным способом;</p> <p>3) выполнены необходимые математические преобразования и расчеты, приводящие к правильному числовому ответу, и представлен ответ. При этом допускается решение "по частям" (с промежуточными вычислениями).</p>

4	<p>Правильно записаны необходимые формулы, проведены вычисления, и получен ответ (верный или неверный), но допущена ошибка в записи краткого условия или переводе единиц в СИ.</p> <p>ИЛИ</p> <p>Представлено правильное решение только в общем виде, без каких-либо числовых расчетов.</p> <p>ИЛИ</p> <p>Записаны уравнения и формулы, применение которых необходимо и достаточно для решения задачи выбранным способом, но в математических преобразованиях или вычислениях допущена ошибка.</p>
3	<p>Записаны и использованы не все исходные формулы, необходимые для решения задачи.</p> <p>ИЛИ</p> <p>Записаны все исходные формулы, но в ОДНОЙ из них допущена ошибка.</p>

### Задание №8

Колебательный контур содержит конденсатор емкостью  $0,025 \text{ мкФ}$  и катушку индуктивностью  $1,013 \text{ Гн}$ . В начальный момент времени конденсатор имел заряд  $2,5 \cdot 10^{-6} \text{ Кл}$ . Запишите закон изменения напряжения на конденсаторе. Найдите напряжение на его обкладках в момент времени  $T/8$ .

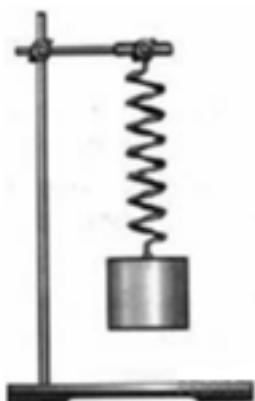
Оценка	Показатели оценки
5	<p>Приведено полное правильное решение, включающее следующие элементы:</p> <ol style="list-style-type: none"> <li>1) верно записано краткое условие задачи;</li> <li>2) записаны уравнения и формулы, применение которых необходимо и достаточно для решения задачи выбранным способом;</li> <li>3) выполнены необходимые математические преобразования и расчеты, приводящие к правильному числовому ответу, и представлен ответ. При этом допускается решение "по частям" (с промежуточными вычислениями).</li> </ol>

4	<p>Правильно записаны необходимые формулы, проведены вычисления, и получен ответ (верный или неверный), но допущена ошибка в записи краткого условия или переводе единиц в СИ.</p> <p>ИЛИ</p> <p>Представлено правильное решение только в общем виде, без каких-либо числовых расчетов.</p> <p>ИЛИ</p> <p>Записаны уравнения и формулы, применение которых необходимо и достаточно для решения задачи выбранным способом, но в математических преобразованиях или вычислениях допущена ошибка.</p>
3	<p>Записаны и использованы не все исходные формулы, необходимые для решения задачи.</p> <p>ИЛИ</p> <p>Записаны все исходные формулы, но в ОДНОЙ из них допущена ошибка.</p>

### Задание №9

Вам необходимо исследовать, как зависит период колебаний пружинного маятника от массы груза. Имеется следующее оборудование:

- секундомер электронный;
- набор из трех пружин разной жесткости;
- набор из пяти грузов по 100 г;
- штатив с муфтой и лапкой.



Опишите порядок проведения исследования.

В ответе:

1. Зарисуйте или опишите экспериментальную установку.

2. Опишите порядок действий при проведении исследования.

Оценка	Показатели оценки
5	Дано описание экспериментальной установки, перечислены прямые измерения с изменением параметров, указано наличие анализа и вывода.
4	Дано описание экспериментальной установки, но перечислены не все прямые измерения, указано изменение параметров, указано наличие анализа и вывода.  или  Дано описание экспериментальной установки, перечислены прямые измерения, указано изменение параметров, но не отмечено наличие анализа и вывода.  или  Описание экспериментальной установки дано не полное, перечислены прямые измерения, указано изменение параметров, указано наличие анализа и вывода.
3	Ответы даны кратко, или допущены 1-2 ошибки.

### Задание №10

1) Вам необходимо исследовать, как зависит электрическое сопротивление металлического провода круглого сечения от длины провода в цепи постоянного тока. Имеется следующее оборудование:

- источник питания постоянного тока;
- рулетка для измерения длины проводника;
- 4 провода разной длины из одинакового материала;
- вольтметр, амперметр.

Опишите порядок проведения исследования.

В ответе:

1. Зарисуйте или опишите экспериментальную установку.

2. Опишите порядок действий при проведении исследования.

Оценка	Показатели оценки
5	Дано описание экспериментальной установки, перечислены прямые измерения с изменением параметров, указано наличие анализа и вывода.

4	<p>Дано описание экспериментальной установки, но перечислены не все прямые измерения, указано изменение параметров, указано наличие анализа и вывода.</p> <p>или</p> <p>Дано описание экспериментальной установки, перечислены прямые измерения, указано изменение параметров, но не отмечено наличие анализа и вывода.</p> <p>или</p> <p>Описание экспериментальной установки дано не полное, перечислены прямые измерения, указано изменение параметров, указано наличие анализа и вывода.</p>
3	<p>Ответы даны кратко, или допущены 1-2 ошибки.</p>

### Задание №11

Вам необходимо исследовать, как зависит напряжения от сопротивления:

— электрическая цепь;

— набор из пяти одинаковых резисторов;

— вольтметр;

Опишите порядок проведения исследования.

В ответе:

1. Зарисуйте или опишите экспериментальную установку.

2. Опишите порядок действий при проведении исследования.

Оценка	Показатели оценки
5	<p>Дано описание экспериментальной установки, перечислены прямые измерения с изменением параметров, указано наличие анализа и вывода.</p>
4	<p>Дано описание экспериментальной установки, но перечислены не все прямые измерения, указано изменение параметров, указано наличие анализа и вывода.</p> <p>или</p> <p>Дано описание экспериментальной установки, перечислены прямые измерения, указано изменение параметров, но не отмечено наличие анализа и вывода.</p> <p>или</p> <p>Описание экспериментальной установки дано не полное, перечислены прямые измерения, указано изменение параметров, указано наличие анализа и вывода.</p>

3	Ответы даны кратко, или допущены 1-2 ошибки.
---	--

### Задание №12

Вам необходимо исследовать, как зависит напряжение от силы тока. Имеется следующее оборудование:

- электрическая цепь с источником с возможностью регулировать силу тока;
- вольтметр;
- реостат с постоянным сопротивлением.

Опишите порядок проведения исследования.

В ответе:

1. Зарисуйте или опишите экспериментальную установку.
2. Опишите порядок действий при проведении исследования.

Оценка	Показатели оценки
5	Дано описание экспериментальной установки, перечислены прямые измерения с изменением параметров, указано наличие анализа и вывода.
4	Дано описание экспериментальной установки, но перечислены не все прямые измерения, указано изменение параметров, указано наличие анализа и вывода.  или  Дано описание экспериментальной установки, перечислены прямые измерения, указано изменение параметров, но не отмечено наличие анализа и вывода.  или  Описание экспериментальной установки дано не полное, перечислены прямые измерения, указано изменение параметров, указано наличие анализа и вывода.
3	Ответы даны кратко, или допущены 1-2 ошибки.

### Задание №13

На уроке изучали гармонические колебания. Для этого наблюдали за колебаниями маятника. При этом использовали установку, показанную на рисунке. Один из учащихся высказал предположение, что период колебаний математического маятника зависит от длины нити. Вам необходимо экспериментально проверить это утверждение.





Имеется следующее оборудование (см. рис.):

- штатив;
- длинная нитка;
- линейка;
- секундомер;
- груз.

В ответе:

1. Опишите экспериментальную установку.
2. Опишите порядок действий при проведении исследования.

Оценка	Показатели оценки
5	Дано описание экспериментальной установки, перечислены прямые измерения с изменением параметров, указано наличие анализа и вывода.
4	<p>Дано описание экспериментальной установки, но перечислены не все прямые измерения, указано изменение параметров, указано наличие анализа и вывода.</p> <p>или</p> <p>Дано описание экспериментальной установки, перечислены прямые измерения, указано изменение параметров, но не отмечено наличие анализа и вывода.</p> <p>или</p> <p>Описание экспериментальной установки дано не полное, перечислены прямые измерения, указано изменение параметров, указано наличие анализа и вывода.</p>

3	Ответы даны кратко, или допущены 1-2 ошибки.
---	--

#### Задание №14

Вам необходимо исследовать, как зависит сила тока от сопротивления:

- электрическая цепь;
- набор из пяти одинаковых резисторов;
- амперметр.

Опишите порядок проведения исследования.

В ответе:

1. Зарисуйте или опишите экспериментальную установку.
2. Опишите порядок действий при проведении исследования.

Оценка	Показатели оценки
5	Дано описание экспериментальной установки, перечислены прямые измерения с изменением параметров, указано наличие анализа и вывода.
4	Дано описание экспериментальной установки, но перечислены не все прямые измерения, указано изменение параметров, указано наличие анализа и вывода.  или  Дано описание экспериментальной установки, перечислены прямые измерения, указано изменение параметров, но не отмечено наличие анализа и вывода.  или  Описание экспериментальной установки дано не полное, перечислены прямые измерения, указано изменение параметров, указано наличие анализа и вывода.
3	Ответы даны кратко, или допущены 1-2 ошибки.

#### Задание №15

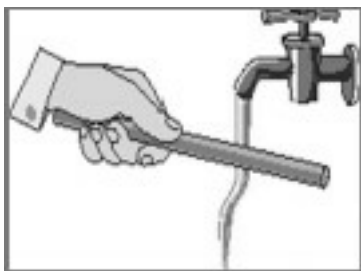
После посадки самолета нельзя сразу приставлять к нему металлический трап, так как может возникнуть электрическая искра и, как следствие, пожар. Поэтому сначала самолет разряжают: опускают на землю металлический трос, соединенный с корпусом самолета, и электрические заряды уходят в землю. Против какого явления, происходящего во время полета самолета, направлены такие меры предосторожности?

Оценка	Показатели оценки
5	Верно определено явление, дано определение и приведены примеры.

4	Верно определено явление, дано определение и приведены примеры. Допущено 1-2 неточности в описании или в примерах.
3	Верно определено явление, не дано определение и (или) не приведены примеры.

### Задание №16

Отрицательно заряженную эбонитовую палочку подносят к струе воды из-под крана (см. рис.). Струя воды начинает притягиваться к палочке. Какое явление является причиной притяжения струи воды к эбонитовой палочке?



Оценка	Показатели оценки
5	Верно определено явление, дано определение и приведены примеры.
4	Верно определено явление, дано определение и приведены примеры. Допущено 1-2 неточности в описании или в примерах.
3	Верно определено явление, не дано определение и (или) не приведены примеры.

### Задание №17

К катушке индуктивности присоединили амперметр. При внесении в катушку постоянного магнита амперметр показал возникновение электрического тока в цепи катушки (см. рис.). Какое физическое явление наблюдалось в этом опыте?



Оценка	Показатели оценки
5	Верно определено явление, дано определение и приведены примеры.
4	Верно определено явление, дано определение и приведены примеры. Допущено 1-2 неточности в описании или в примерах.
3	Верно определено явление, не дано определение и (или) не приведены примеры.

### Задание №18

При проведении опыта, изображённого на рисунке, верхнюю катушку подсоединили к источнику постоянного тока. К нижней катушке присоединили амперметр. При размыкании ключа амперметр фиксирует возникновение электрического тока в нижней катушке.

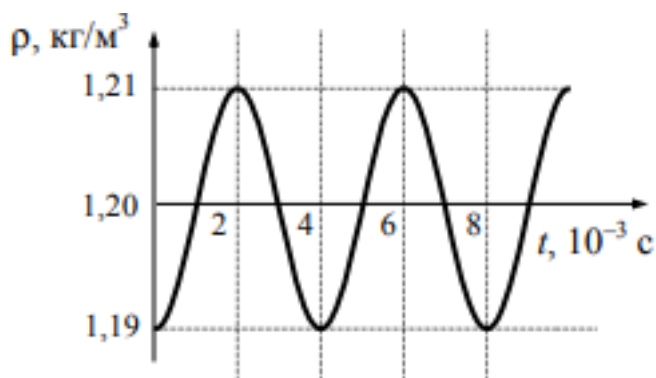
Какое физическое явление наблюдалось в этом опыте?



Оценка	Показатели оценки
5	Верно определено явление, дано определение и приведены примеры.
4	Верно определено явление, дано определение и приведены примеры. Допущено 1-2 неточности в описании или в примерах.
3	Верно определено явление, не дано определение и (или) не приведены примеры.

### Задание №19

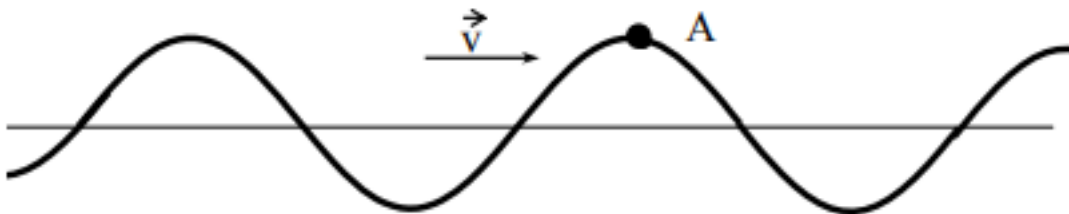
На рисунке показан график зависимости плотности воздуха в звуковой волне от времени. Каков период колебаний плотности воздуха?



Оценка	Показатели оценки
5	Верно определено явление, дано определение и приведены примеры.
4	Верно определено явление, дано определение и приведены примеры. Допущено 1-2 неточности в описании или в примерах.
3	Верно определено явление, не дано определение и (или) не приведены примеры.

### Задание №20

На рисунке изображена поперечная волна, бегущая по веревочному шнуру. Скорость волны  $V$  в некоторый момент времени направлена так, как показано на рисунке. В каком направлении движется частица  $A$ ?



Оценка	Показатели оценки
5	Верно определено явление, дано определение и приведены примеры.
4	Верно определено явление, дано определение и приведены примеры. Допущено 1-2 неточности в описании или в примерах.
3	Верно определено явление, не дано определение и (или) не приведены примеры.

### Задание №21

Для проведения опыта собрали электрическую цепь, изображенную на рисунке. При замкнутом ключе лампочка горела неполным накалом. При размыкании цепи лампочка ярко вспыхивает.



Какое явление вызывает эту вспышку? Дайте определение данного явления. Приведите 1-2 примера.

Оценка	Показатели оценки
5	Верно определено явление, дано определение и приведены примеры.
4	Верно определено явление, дано определение и приведены примеры. Допущено 1-2 неточности в описании или в примерах.
3	Верно определено явление, не дано определение и (или) не приведены примеры.

### Задание №22

Установите соответствие между техническими устройствами и физическими явлениями, лежащими в основе принципа их действия. К каждой позиции первого столбца подберите соответствующую позицию из второго столбца.

### ТЕХНИЧЕСКИЕ УСТРОЙСТВА

- А) компас
- Б) электрический утюг
- В) электропаяльник
- Г) индукционная плита

### ФИЗИЧЕСКИЕ ЯВЛЕНИЯ

- 1) взаимодействие постоянных магнитов
- 2) действие магнитного поля на проводник с током
- 3) тепловое действие тока
- 4) химическое действие тока

Запишите в таблицу выбранные цифры под соответствующими буквами. Цифры могут повторяться.

А	Б	В	Г

Оценка	Показатели оценки
5	Верно установлены все соответствия.
4	Верно установлено только три соответствия.
3	Верно установлено только два соответствия.

### Задание №23

Установите соответствие между техническими устройствами и физическими явлениями, лежащими в основе принципа их действия, а также между примерами и физическими явлениями, которые эти примеры иллюстрируют.. К каждой позиции первого столбца подберите соответствующую позицию из второго столбца.

### ТЕХНИЧЕСКИЕ УСТРОЙСТВА

- А) копировальный аппарат электрографического типа с порошковым красящим элементом

(ксерокс)

Б) генератор переменного тока на гидроэлектростанции

#### ПРИМЕРЫ

В) молния

Г) нагрев конфорки электроплиты.

#### ФИЗИЧЕСКИЕ ЯВЛЕНИЯ

1) магнитные свойства металлов

2) нагревание проводника при пропускании электрического тока

3) накопление электрического заряда в атмосфере

4) переход из жидкого состояния в газообразное

5) действие магнитного поля на проводник с током

3) электромагнитная индукция

4) электризация

Запишите в таблицу выбранные цифры под соответствующими буквами. Цифры могут повторяться.

А	Б	В	Г

Оценка	Показатели оценки
5	Верно установлены все соответствия.
4	Верно установлено только три соответствия.
3	Верно установлено только два соответствия.

#### Задание №24

Учащиеся изучали протекание электрического тока в цепи, изображенной на схеме (рис. 1). Передвигая рычажок реостата, они следили за изменением силы тока и построили график зависимости силы тока от времени (рис. 2).

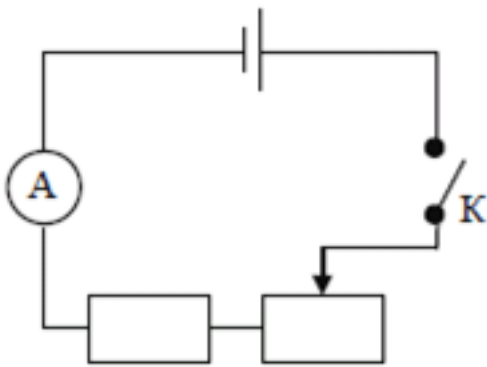


Рис. 1

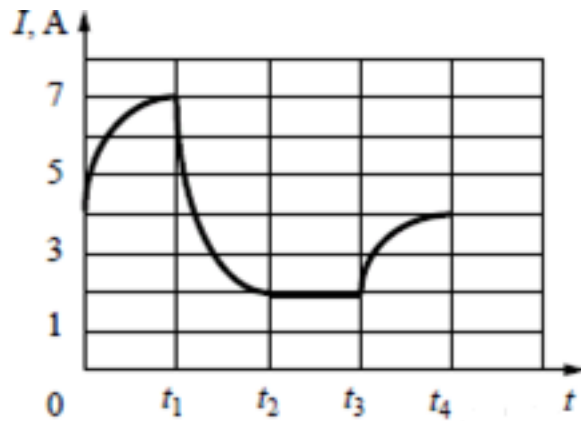


Рис. 2

Выберите **все** верных утверждения, соответствующих данным графика. Запишите в ответе их номера.

- 1) В процессе опыта сила тока в цепи изменялась в пределах от 4 до 7 А.
- 2) В промежутке времени от  $t_2$  до  $t_3$  сопротивление реостата оставалось неизменным.
- 3) В промежутке времени от 0 до  $t_1$  рычажок реостата перемещали вправо.
- 4) В промежутке времени от  $t_3$  до  $t_4$  рычажок реостата перемещали влево.
- 5) В промежутке времени от  $t_3$  до  $t_4$  напряжение на резисторе уменьшилось в 2 раза.

Оценка	Показатели оценки
5	Верно выбраны два утверждения.
4	Верно выбраны два утверждения, но выбраны дополнительно не верные.
3	Верно выбрано одно утверждение.

### Задание №25

В катушке, замкнутой на гальванометр, находится постоянный магнит, южный полюс которого расположен снизу (рис. 1). При движении магнита в катушке наблюдают возникновение индукционного тока, который фиксируется гальванометром. График зависимости индукционного тока в катушке от времени представлен на рис. 2.

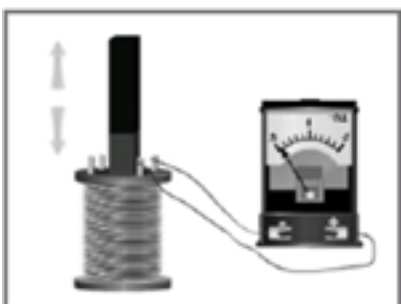


Рис. 1

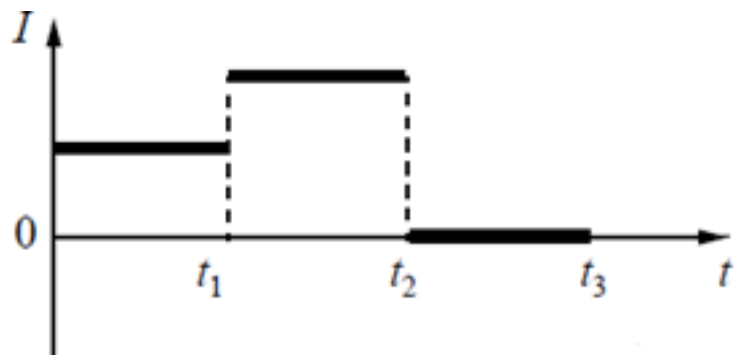


Рис. 2



Выберите **все** верных утверждения, соответствующих данным графика. Запишите в ответе их номера.

- 1) В промежутке времени от 0 до  $t_1$  южный полюс магнита выдвигают из катушки, а в промежутке времени от  $t_1$  до  $t_2$  вносят в катушку южный полюс магнита.
- 2) В промежутке времени от 0 до  $t_1$  южный полюс магнита выдвигают из катушки, а в промежутке времени от  $t_1$  до  $t_2$  вносят в катушку северный полюс магнита.
- 3) В промежутке времени от  $t_1$  до  $t_2$  магнит движется относительно катушки с меньшей скоростью, чем в промежутке от 0 до  $t_1$ .
- 4) В промежутке времени от  $t_1$  до  $t_2$  магнит движется относительно катушки равноускорено, а в промежутке от  $t_2$  до  $t_3$  — равномерно.
- 5) В промежутке времени от  $t_2$  до  $t_3$  магнит покоится относительно катушки.

Оценка	Показатели оценки
5	Верно выбраны два утверждения.
4	Верно выбраны два утверждения, но выбраны дополнительно не верные.
3	Верно выбрано одно утверждение.

### Задание №26

В катушку, замкнутую на гальванометр, вносят постоянный магнит, южный полюс которого находится внизу (рис. 1). При движении магнита в катушке наблюдают возникновение индукционного тока, который фиксируется гальванометром. График зависимости индукционного тока в катушке от времени представлен на рис. 2.

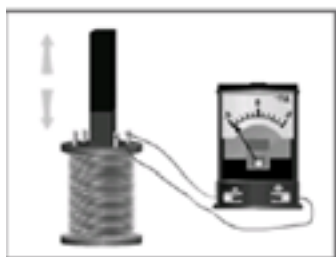


Рис. 1

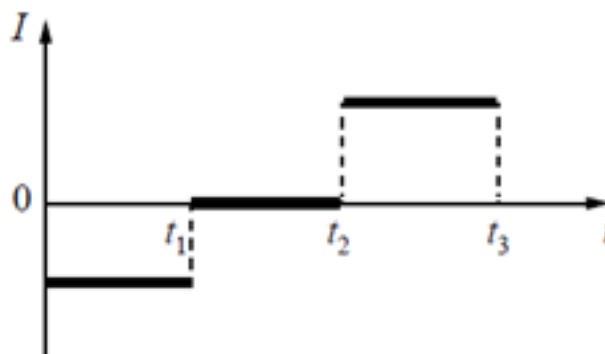


Рис. 2

Выберите **все** верных утверждения, соответствующих данным графика. Запишите в ответе их номера.

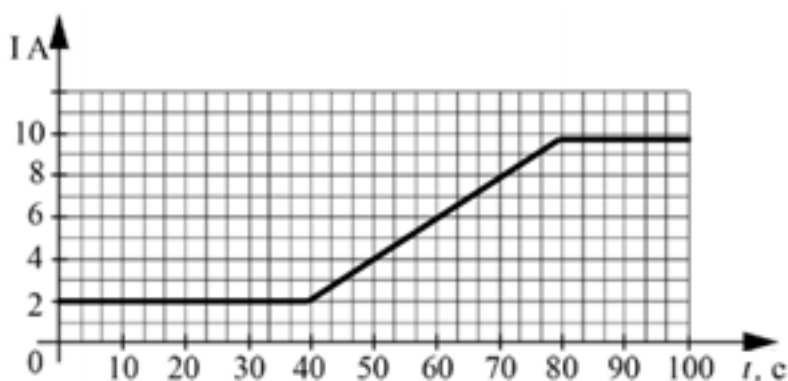
- 1) В промежутке времени от  $t_1$  до  $t_2$  магнит покоится относительно катушки.
- 2) В промежутке времени от  $t_1$  до  $t_2$  магнит движется относительно катушки равномерно, а в промежутке от  $t_2$  до  $t_3$  — равноускорено.

- 3) В промежутке времени от  $t_2$  до  $t_3$  гальванометр отодвигают от катушки.
- 4) В промежутке времени от  $t_2$  до  $t_3$  магнит движется относительно катушки с меньшей скоростью, чем в промежутке от 0 до  $t_1$ .
- 5) В промежутке времени от  $t_2$  до  $t_3$  южный полюс магнита выдвигают из катушки.

Оценка	Показатели оценки
5	Верно выбраны два утверждения.
4	Верно выбраны два утверждения, но выбраны дополнительно не верные.
3	Верно выбрано одно утверждение.

### Задание №27

На проводник с электрическим сопротивлением 10 Ом подают напряжение от источника тока и измеряют силу тока в проводнике. Изменение значения силы тока в проводнике показано на графике  $I(t)$ .



Выберите **все** утверждения, которые верно описывают происходящие процессы в веществе.

- 1) Подаваемое напряжение все время равномерно увеличивалось.
- 2) Первые 40 секунд подаваемое на проводник напряжение было равно 20 В.
- 3) С 40-й по 80-ю секунду напряжение росло с постоянной скоростью 4 В/с.
- 4) С 40-й по 80-ю секунду напряжение росло с постоянной скоростью 2 В/с.
- 5) Источник все время наблюдения выдавал постоянное напряжение.

Оценка	Показатели оценки
5	Верно выбраны два утверждения.
4	Верно выбраны два утверждения, но выбраны дополнительно не верные.
3	Верно выбрано одно утверждение.

### Задание №28

В катушку 2, замкнутую на гальванометр, вносят нижний торец катушки 1, подключенной к источнику тока (рис. 1). При движении катушки 1 в катушке 2 наблюдают возникновение индукционного тока, который фиксируется гальванометром. Изменяя направление и скорость движения катушки 1, получают график зависимости индукционного тока в катушке 2 от времени (рис. 2).



Рис. 1

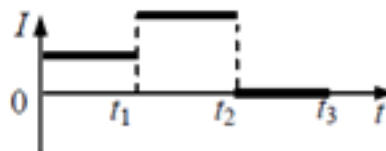


Рис. 2

Выберите **все** верных утверждения, соответствующих данным графика. Запишите в ответе их номера.

- 1) В промежутке времени от  $0$  до  $t_1$  катушка 1 движется относительно катушки 2 равномерно.
- 2) В промежутке времени от  $t_1$  до  $t_2$  катушку 1 вдвигают в катушку 2 верхним торцом.
- 3) В промежутке времени от  $t_1$  до  $t_2$  катушка 1 движется относительно катушки 2 с меньшей скоростью, чем в промежутке от  $0$  до  $t_1$ .
- 4) В промежутке времени от  $t_2$  до  $t_3$  катушка 1 покоится относительно катушки 2.
- 5) В промежутке времени от  $t_2$  до  $t_3$  в катушке 2 наблюдается явление электромагнитной индукции.

Оценка	Показатели оценки
5	Верно выбраны два утверждения.
4	Верно выбраны два утверждения, но выбраны дополнительно не верные.
3	Верно выбрано одно утверждение.

### Задание №29

Учащиеся изучали протекание электрического тока в цепи, изображенной на схеме (рис. 1). Передвигая рычажок реостата, они следили за изменением силы тока и построили график зависимости силы тока от времени (рис. 2). Внутренним сопротивлением источника тока пренебречь, амперметр считать идеальным.

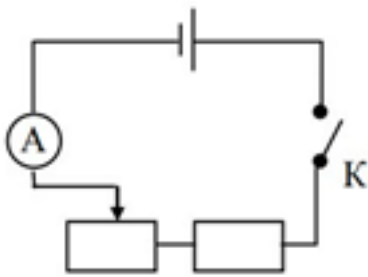


Рис. 1

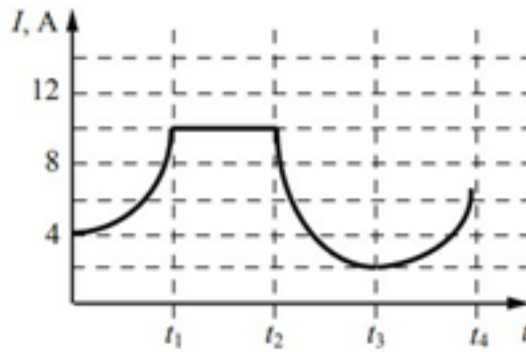


Рис. 2

Выберите **все** верных утверждения, соответствующих данным графика. Запишите в ответе их номера.

- 1) В процессе опыта сила тока в цепи изменялась в пределах от 2 до 10 А.
- 2) В промежутке времени от 0 до  $t_1$  рычажок реостата перемещали влево.
- 3) В промежутке времени от  $t_1$  до  $t_2$  напряжение на реостате оставалось неизменным.
- 4) В промежутке времени от  $t_2$  до  $t_3$  изменение напряжения на реостате было минимальным.
- 5) В промежутке времени от  $t_3$  до  $t_4$  сопротивление реостата увеличивалось.

Оценка	Показатели оценки
5	Верно выбраны два утверждения.
4	Верно выбраны два утверждения, но выбраны дополнительно не верные
3	Верно выбрано одно утверждение.

### Текущий контроль №3

**Форма контроля:** Контрольная работа (Информационно-аналитический)

**Описательная часть:** Письменная контрольная работа

#### Задание №1

Сформулируйте развернутый ответ на вопрос: Основные понятия волновой оптики.

Оценка	Показатели оценки
5	<ol style="list-style-type: none"> <li>1. Показывает верное понимание физической сущности рассматриваемых явлений и закономерностей, законов и теорий, дает точное определение и истолкование основных понятий, законов, теорий.</li> <li>2. Дает правильное определение физических величин, их единиц и способов измерения.</li> <li>3. Правильно выполняет чертежи, схемы и графики.</li> <li>4. Сопровождает рассказ новыми примерами.</li> </ol>

4	<p>Ответ удовлетворяет основным требованиям к ответу на оценку 5, но:</p> <ol style="list-style-type: none"> <li>1. Обучающийся допустил одну ошибку или не более двух недочетов и может их исправить самостоятельно или с небольшой помощью преподавателя.</li> <li>2. Ответ дан без использования новых примеров.</li> </ol>
3	<p>Обучающийся правильно понимает физическую сущность рассматриваемых явлений и закономерностей, но:</p> <ol style="list-style-type: none"> <li>1. В его ответе, имеются отдельные пробелы в усвоении вопросов курса физики, не препятствующие дальнейшему усвоению программного материала.</li> <li>2. Обучающийся может допустить не более одной грубой ошибки и двух недочетов; или не более одной грубой ошибки и не более двух-трех негрубых ошибок; или одной негрубой ошибки и трех недочетов; или четырех или пяти недочетов.</li> </ol>

## Задание №2

Сформулируйте развернутый ответ на вопрос: Явление фотоэффекта.

Оценка	Показатели оценки
5	<ol style="list-style-type: none"> <li>1. Показывает верное понимание физической сущности рассматриваемых явлений и закономерностей, законов и теорий, дает точное определение и истолкование основных понятий, законов, теорий.</li> <li>2. Дает правильное определение физических величин, их единиц и способов измерения.</li> <li>3. Правильно выполняет чертежи, схемы и графики.</li> <li>4. Сопровождает рассказ новыми примерами.</li> </ol>
4	<p>Ответ удовлетворяет основным требованиям к ответу на оценку 5, но:</p> <ol style="list-style-type: none"> <li>1. Обучающийся допустил одну ошибку или не более двух недочетов и может их исправить самостоятельно или с небольшой помощью преподавателя.</li> <li>2. Ответ дан без использования новых примеров.</li> </ol>
3	<p>Обучающийся правильно понимает физическую сущность рассматриваемых явлений и закономерностей, но:</p> <ol style="list-style-type: none"> <li>1. В его ответе, имеются отдельные пробелы в усвоении вопросов курса физики, не препятствующие дальнейшему усвоению программного материала.</li> <li>2. Обучающийся может допустить не более одной грубой ошибки и двух недочетов; или не более одной грубой ошибки и не более двух-трех негрубых ошибок; или одной негрубой ошибки и трех недочетов; или четырех или пяти недочетов.</li> </ol>

### Задание №3

Сформулируйте развернутый ответ на вопрос: Строение атомного ядра.

Оценка	Показатели оценки
5	<ol style="list-style-type: none"><li>1. Показывает верное понимание физической сущности рассматриваемых явлений и закономерностей, законов и теорий, дает точное определение и истолкование основных понятий, законов, теорий.</li><li>2. Дает правильное определение физических величин, их единиц и способов измерения.</li><li>3. Правильно выполняет чертежи, схемы и графики.</li><li>4. Сопровождает рассказ новыми примерами.</li></ol>
4	<p>Ответ удовлетворяет основным требованиям к ответу на оценку 5, но:</p> <ol style="list-style-type: none"><li>1. Обучающийся допустил одну ошибку или не более двух недочетов и может их исправить самостоятельно или с небольшой помощью преподавателя.</li><li>2. Ответ дан без использования новых примеров.</li></ol>
3	<p>Обучающийся правильно понимает физическую сущность рассматриваемых явлений и закономерностей, но:</p> <ol style="list-style-type: none"><li>1. В его ответе, имеются отдельные пробелы в усвоении вопросов курса физики, не препятствующие дальнейшему усвоению программного материала.</li><li>2. Обучающийся может допустить не более одной грубой ошибки и двух недочетов; или не более одной грубой ошибки и не более двух-трех негрубых ошибок; или одной негрубой ошибки и трех недочетов; или четырех или пяти недочетов.</li></ol>

### Задание №4

Сформулируйте развернутый ответ на вопрос: Солнечная система. Видимое движение небесных тел.

Оценка	Показатели оценки
5	<ol style="list-style-type: none"><li>1. Показывает верное понимание физической сущности рассматриваемых явлений и закономерностей, законов и теорий, дает точное определение и истолкование основных понятий, законов, теорий.</li><li>2. Дает правильное определение физических величин, их единиц и способов измерения.</li><li>3. Правильно выполняет чертежи, схемы и графики.</li><li>4. Сопровождает рассказ новыми примерами.</li></ol>

4	<p>Ответ удовлетворяет основным требованиям к ответу на оценку 5, но:</p> <ol style="list-style-type: none"> <li>1. Обучающийся допустил одну ошибку или не более двух недочетов и может их исправить самостоятельно или с небольшой помощью преподавателя.</li> <li>2. Ответ дан без использования новых примеров.</li> </ol>
3	<p>Обучающийся правильно понимает физическую сущность рассматриваемых явлений и закономерностей, но:</p> <ol style="list-style-type: none"> <li>1. В его ответе, имеются отдельные пробелы в усвоении вопросов курса физики, не препятствующие дальнейшему усвоению программного материала.</li> <li>2. Обучающийся может допустить не более одной грубой ошибки и двух недочетов; или не более одной грубой ошибки и не более двух-трех негрубых ошибок; или одной негрубой ошибки и трех недочетов; или четырех или пяти недочетов.</li> </ol>

### Задание №5

Сформулируйте развернутый ответ на вопрос: Солнце и звезды. Характеристики, внутреннее строение и эволюция звезд.

Оценка	Показатели оценки
5	<ol style="list-style-type: none"> <li>1. Показывает верное понимание физической сущности рассматриваемых явлений и закономерностей, законов и теорий, дает точное определение и истолкование основных понятий, законов, теорий.</li> <li>2. Дает правильное определение физических величин, их единиц и способов измерения.</li> <li>3. Правильно выполняет чертежи, схемы и графики.</li> <li>4. Сопровождает рассказ новыми примерами.</li> </ol>
4	<p>Ответ удовлетворяет основным требованиям к ответу на оценку 5, но:</p> <ol style="list-style-type: none"> <li>1. Обучающийся допустил одну ошибку или не более двух недочетов и может их исправить самостоятельно или с небольшой помощью преподавателя.</li> <li>2. Ответ дан без использования новых примеров.</li> </ol>

3	<p>Обучающийся правильно понимает физическую сущность рассматриваемых явлений и закономерностей, но:</p> <ol style="list-style-type: none"> <li>1. В его ответе, имеются отдельные пробелы в усвоении вопросов курса физики, не препятствующие дальнейшему усвоению программного материала.</li> <li>2. Обучающийся может допустить не более одной грубой ошибки и двух недочетов; или не более одной грубой ошибки и не более двух-трех негрубых ошибок; или одной негрубой ошибки и трех недочетов; или четырех или пяти недочетов.</li> </ol>
---	--

### Задание №6

Сформулируйте развернутый ответ на вопрос: Строение Вселенной. Галактики. Эволюция Вселенной.

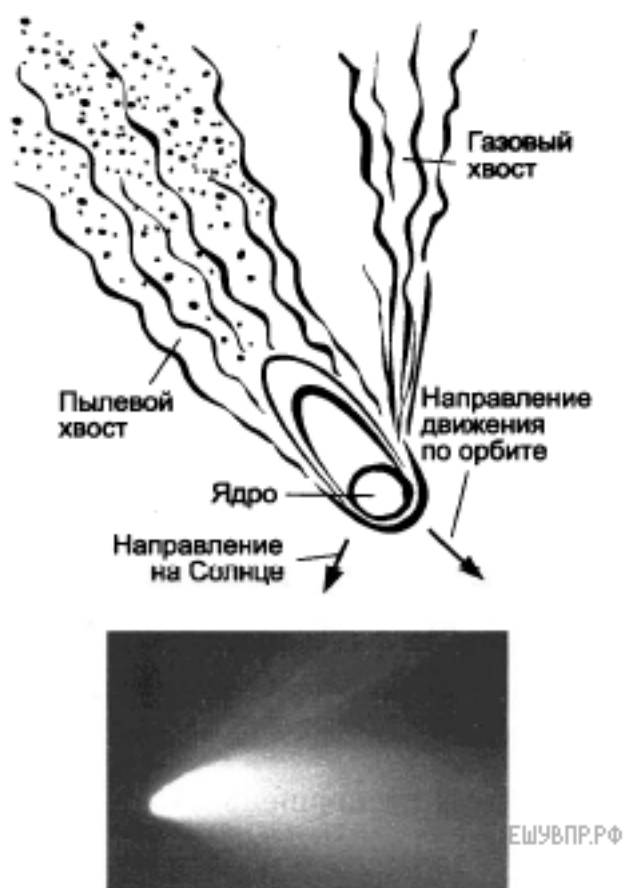
Оценка	Показатели оценки
5	<ol style="list-style-type: none"> <li>1. Показывает верное понимание физической сущности рассматриваемых явлений и закономерностей, законов и теорий, дает точное определение и истолкование основных понятий, законов, теорий.</li> <li>2. Дает правильное определение физических величин, их единиц и способов измерения.</li> <li>3. Правильно выполняет чертежи, схемы и графики.</li> <li>4. Сопровождает рассказ новыми примерами.</li> </ol>
4	<p>Ответ удовлетворяет основным требованиям к ответу на оценку 5, но:</p> <ol style="list-style-type: none"> <li>1. Обучающийся допустил одну ошибку или не более двух недочетов и может их исправить самостоятельно или с небольшой помощью преподавателя.</li> <li>2. Ответ дан без использования новых примеров.</li> </ol>
3	<p>Обучающийся правильно понимает физическую сущность рассматриваемых явлений и закономерностей, но:</p> <ol style="list-style-type: none"> <li>1. В его ответе, имеются отдельные пробелы в усвоении вопросов курса физики, не препятствующие дальнейшему усвоению программного материала.</li> <li>2. Обучающийся может допустить не более одной грубой ошибки и двух недочетов; или не более одной грубой ошибки и не более двух-трех негрубых ошибок; или одной негрубой ошибки и трех недочетов; или четырех или пяти недочетов.</li> </ol>

### Задание №7

#### Кометы



Кометы Солнечной системы представляют собой бесформенные глыбы размером несколько километров, состоящие из льда вперемешку с пылевыми частицами. Поэтому их иногда называют «грязным снежком». Кометы движутся по очень вытянутым орбитам, находясь основное время далеко от Солнца, где остаются невидимыми. При приближении к Солнцу лед под действием солнечного тепла начинает таять, испаряется и улетает в межпланетное пространство вместе с другими газами. Вследствие этого, чем ближе комета приближается к Солнцу, тем длиннее ее хвост. Иногда у комет наблюдается разделение хвоста на две части: один — искривленный, состоящий из частиц пыли; другой — прямой, газовый, вытянутый. Протяженность кометных хвостов может достигать десятков и сотен миллионов километров. Предполагается, что пыль, теряемая кометами, попадая на огромной скорости в земную атмосферу, обнаруживается в виде метеоров. Некоторые кометы движутся по орбите вокруг Солнца, их называют периодическими. Периодическая комета теряет значительную часть своего материала каждый раз, когда проходит около Солнца.



В таблице приведены русские названия периодических комет, год открытия, период обращения, следующее появление.

#### Периодические кометы

Русское название	Период, земной год	Год открытия	Следующее появление
Галлея	75,31	240 до н.э.	2061
Энке	3,3	1786	2017
Понса-Брукса	70,84	1812	2024
Ольберса	69,52	1815	2024

Стефана-Отермы	37,72	1867	2018
Дю Туа	14,7	1944	2018
Темпеля-Туттля	33,24	1865	2031
Икея-Чжанга	367,18	1661	2362
Шумейкеров 3	17,09	1986	2019
LINEAR	76,48	2000	2075

1) Как направлен хвост кометы при ее движении от Солнца?

*Приведите ответ в виде: «от Солнца», «к Солнцу», «перпендикулярно движению кометы»*

2) Вставьте в предложение пропущенные слова (сочетания слов), используя информацию из текста.

Исходя из таблицы, можно сделать вывод, что наиболее удаляется от Солнца комета \_\_\_\_\_, меньше всех удаляется от Солнца — комета \_\_\_\_\_.

*В ответ запишите слова (сочетания слов) по порядку, без дополнительных символов.*

3) Объясните образование двух хвостов у кометы.

Оценка	Показатели оценки
5	Верно даны ответы на три вопроса.
4	Верно даны ответы на три вопроса, но в ответах имеется 1-2 неточности.  или  Верно даны ответы на два вопроса.
3	Верно даны ответы на два вопроса, но в ответах имеется 1-2 неточности.  или  Верно даны ответы на один вопрос.

## Задание №8

### Солнечная система

Центральным объектом Солнечной системы является звезда Солнце. В Солнце сосредоточена подавляющая часть всей массы системы (около 99,866%); оно удерживает своим тяготением планеты и прочие тела, принадлежащие к Солнечной системе и вращающиеся вокруг Солнца.

В таблице приведены основные характеристики планет Солнечной системы.

Сравнительная таблица некоторых параметров планет

--

Планета	Масса*	Расстояние до Солнца*	Время обращения вокруг Солнца*	Время обращения вокруг своей оси*	Средняя плотность, кг/м <sup>3</sup>
Меркурий	0,06	0,38	0,241	58,6	5427
Венера	0,82	0,72	0,615	243	5243
Земля	1,0	1,0	1,0	1,0	5515
Марс	0,11	1,52	1,88	1,03	3933
Юпитер	318	5,20	11,86	0,414	1326
Сатурн	95	9,54	29,46	0,426	687
Уран	14,6	19,22	84,01	0,718	1270
Нептун	17,2	30,06	164,79	0,671	1638

\*Параметры в таблице указаны в отношении к аналогичным данным Земли

Между орбитами Марса и Юпитера находится главный пояс астероидов — малых планет. Астероидов много; они сталкиваются, дробятся, изменяют орбиты друг друга, так что некоторые осколки при своем движении пересекают орбиту Земли.

Прохождение осколков (метеорных тел) через земную атмосферу выглядит с поверхности Земли как «падающие звезды». В редких случаях прохождения более крупных осколков можно наблюдать летящий по небу огненный шар. Это явление называют болидом.

Двигаясь в атмосфере, твердое тело нагревается вследствие торможения, и вокруг него образуется обширная светящаяся оболочка, состоящая из горячих газов. От сильного сопротивления воздуха метеорное тело нередко раскалывается, и его осколки — метеориты с грохотом падают на Землю.

1) Какой из параметров, указанных в таблице, увеличивается по мере удаления планеты от Солнца?

2) Вставьте в предложение пропущенные слова (сочетания слов), используя информацию из текста.

По мере удаления от Солнца помимо непосредственно расстояния возрастает \_\_\_\_\_ Солнца. Из таблицы также можно заметить, что масса Марса примерно в \_\_\_\_\_ раз меньше массы Земли.

3) Определите длительность суток на Юпитере. Ответ выразите в часах и округлите до целого числа.

Оценка	Показатели оценки
5	Верно даны ответы на три вопроса.
4	Верно даны ответы на три вопроса, но в ответах имеется 1-2 неточности. или Верно даны ответы на два вопроса.

3	Верно даны ответы на два вопроса, но в ответах имеется 1-2 неточности.  или  Верно даны ответы на один вопрос.
---	--

### Задание №9

У природных изотопов редкоземельных элементов наблюдается альфа-радиоактивность. Изотоп гадолиний-152 испытывает  $\alpha$ -распад, при котором образуется ядро гелия  ${}^4_2\text{He}$  и ядро другого элемента  $X$ . Используя фрагмент Периодической системы химических элементов Д. И. Менделеева, определите, какой элемент  $X$  образуется при  $\alpha$ -распаде изотопа гадолиния. Название элемента  $X$  запишите словом.

<b>Nd</b> <sup>60</sup> 144,24 Неодим	<b>Pm</b> <sup>61</sup> [145] Прометий	<b>Sm</b> <sup>62</sup> 150,35 Самарий	<b>Eu</b> <sup>63</sup> 151,96 Европий	<b>Gd</b> <sup>64</sup> 157,25 Гадолиний	<b>Tb</b> <sup>65</sup> 158,924 Тербий	<b>Dy</b> <sup>66</sup> 162,50 Диспрозий	<b>Ho</b> <sup>67</sup> 164,930 Гольмий	<b>Er</b> <sup>68</sup> 167,26 Эрбий	<b>Tm</b> <sup>69</sup> 168,934 Тулий
---	--	--	--	--	--	--	---	--	---

Оценка	Показатели оценки
5	<p>Приведено полное правильное решение, включающее следующие элементы:</p> <ol style="list-style-type: none"> <li>1) верно записано краткое условие задачи;</li> <li>2) записаны уравнения и формулы, применение которых необходимо и достаточно для решения задачи выбранным способом;</li> <li>3) выполнены необходимые математические преобразования и расчеты, приводящие к правильному числовому ответу, и представлен ответ. При этом допускается решение "по частям" (с промежуточными вычислениями).</li> </ol>
4	<p>Правильно записаны необходимые формулы, проведены вычисления, и получен ответ (верный или неверный), но допущена ошибка в записи краткого условия или переводе единиц в СИ.</p> <p>ИЛИ</p> <p>Представлено правильное решение только в общем виде, без каких-либо числовых расчетов.</p> <p>ИЛИ</p> <p>Записаны уравнения и формулы, применение которых необходимо и достаточно для решения задачи выбранным способом, но в математических преобразованиях или вычислениях допущена ошибка.</p>

3	<p>Записаны и использованы не все исходные формулы, необходимые для решения задачи.</p> <p>ИЛИ</p> <p>Записаны все исходные формулы, но в ОДНОЙ из них допущена ошибка.</p>
---	---

### Задание №10

У природных изотопов редкоземельных элементов наблюдается альфа-радиоактивность. Изотоп европий-151 испытывает  $\alpha$ -распад, при котором образуется ядро гелия  ${}^4_2\text{He}$  и ядро другого элемента X. Используя фрагмент Периодической системы химических элементов Д. И. Менделеева, определите, какой элемент X образуется при  $\alpha$ -распаде изотопа европия. Название элемента X запишите словом.

<b>Nd</b> <sup>60</sup> 144,24 Неодим	<b>Pm</b> <sup>61</sup> [145] Прометий	<b>Sm</b> <sup>62</sup> 150,35 Самарий	<b>Eu</b> <sup>63</sup> 151,96 Европий	<b>Gd</b> <sup>64</sup> 157,25 Гадолиний	<b>Tb</b> <sup>65</sup> 158,924 Тербий	<b>Dy</b> <sup>66</sup> 162,50 Диспрозий	<b>Ho</b> <sup>67</sup> 164,930 Гольмий	<b>Er</b> <sup>68</sup> 167,26 Эрбий	<b>Tm</b> <sup>69</sup> 168,934 Тулий
---	--	--	--	--	--	--	---	--	---

Оценка	Показатели оценки
5	<p>Приведено полное правильное решение, включающее следующие элементы:</p> <p>1) верно записано краткое условие задачи;</p> <p>2) записаны уравнения и формулы, применение которых необходимо и достаточно для решения задачи выбранным способом;</p> <p>3) выполнены необходимые математические преобразования и расчеты, приводящие к правильному числовому ответу, и представлен ответ. При этом допускается решение "по частям" (с промежуточными вычислениями).</p>
4	<p>Правильно записаны необходимые формулы, проведены вычисления, и получен ответ (верный или неверный), но допущена ошибка в записи краткого условия или переводе единиц в СИ.</p> <p>ИЛИ</p> <p>Представлено правильное решение только в общем виде, без каких-либо числовых расчетов.</p> <p>ИЛИ</p> <p>Записаны уравнения и формулы, применение которых необходимо и достаточно для решения задачи выбранным способом, но в математических преобразованиях или вычислениях допущена ошибка.</p>
3	<p>Записаны и использованы не все исходные формулы, необходимые для решения задачи.</p> <p>ИЛИ</p> <p>Записаны все исходные формулы, но в ОДНОЙ из них допущена ошибка.</p>

### Задание №11

На рисунке изображен фрагмент Периодической системы химических элементов Д. И. Менделеева. Изотоп полония-218 испытывает  $\beta$ -распад, при этом образуется электрон и ядро другого элемента. Определите, какой элемент образуется при  $\beta$ -распаде изотопа полония. Название элемента запишите словом.

79 196,967 <b>Au</b> Золото	80 200,59 <b>Hg</b> Ртуть	81 204,37 <b>Tl</b> Таллий	82 207,19 <b>Pb</b> Свинец	83 208,980 <b>Bi</b> Висмут	84 [210] <sup>*</sup> <b>Po</b> Полоний	85 [210] <b>At</b> Астат	86 [222] <b>Rn</b> Радон
--------------------------------------	------------------------------------	-------------------------------------	-------------------------------------	--------------------------------------	--	-----------------------------------	-----------------------------------

Оценка	Показатели оценки
5	Приведено полное правильное решение, включающее следующие элементы: 1) верно записано краткое условие задачи; 2) записаны уравнения и формулы, применение которых необходимо и достаточно для решения задачи выбранным способом; 3) выполнены необходимые математические преобразования и расчеты, приводящие к правильному числовому ответу, и представлен ответ. При этом допускается решение "по частям" (с промежуточными вычислениями).
4	Правильно записаны необходимые формулы, проведены вычисления, и получен ответ (верный или неверный), но допущена ошибка в записи краткого условия или переводе единиц в СИ. ИЛИ Представлено правильное решение только в общем виде, без каких-либо числовых расчетов. ИЛИ Записаны уравнения и формулы, применение которых необходимо и достаточно для решения задачи выбранным способом, но в математических преобразованиях или вычислениях допущена ошибка.
3	Записаны и использованы не все исходные формулы, необходимые для решения задачи. ИЛИ Записаны все исходные формулы, но в ОДНОЙ из них допущена ошибка.

### Задание №12

На рисунке изображен фрагмент Периодической системы химических элементов Д. И. Менделеева. Изотоп свинца-206 испытывает  $\beta$ -распад, при этом образуется электрон и ядро другого элемента. Определите, какой элемент образуется при  $\beta$ -распаде изотопа свинца. Название элемента запишите словом.

79 196,967 <b>Au</b> Золото	80 200,59 <b>Hg</b> Ртуть	81 204,37 <b>Tl</b> Таллий	82 207,19 <b>Pb</b> Свинец	83 208,980 <b>Bi</b> Висмут	84 [210]* <b>Po</b> Полоний	85 [210] <b>At</b> Астат	86 [222] <b>Rn</b> Радон
--------------------------------------	------------------------------------	-------------------------------------	-------------------------------------	--------------------------------------	--------------------------------------	-----------------------------------	-----------------------------------

Оценка	Показатели оценки
5	<p>Приведено полное правильное решение, включающее следующие элементы:</p> <ol style="list-style-type: none"> <li>1) верно записано краткое условие задачи;</li> <li>2) записаны уравнения и формулы, применение которых необходимо и достаточно для решения задачи выбранным способом;</li> <li>3) выполнены необходимые математические преобразования и расчеты, приводящие к правильному числовому ответу, и представлен ответ. При этом допускается решение "по частям" (с промежуточными вычислениями).</li> </ol>
4	<p>Правильно записаны необходимые формулы, проведены вычисления, и получен ответ (верный или неверный), но допущена ошибка в записи краткого условия или переводе единиц в СИ.</p> <p>ИЛИ</p> <p>Представлено правильное решение только в общем виде, без каких-либо числовых расчетов.</p> <p>ИЛИ</p> <p>Записаны уравнения и формулы, применение которых необходимо и достаточно для решения задачи выбранным способом, но в математических преобразованиях или вычислениях допущена ошибка.</p>
3	<p>Записаны и использованы не все исходные формулы, необходимые для решения задачи.</p> <p>ИЛИ</p> <p>Записаны все исходные формулы, но в ОДНОЙ из них допущена ошибка.</p>

### Задание №13

У некоторых нуклидов тяжелых металлов наблюдается альфа-радиоактивность. Изотоп урана-238

испытывает  $\alpha$ -распад, при котором образуется ядро гелия  ${}^4_2\text{He}$  и ядро другого элемента X. Используя фрагмент Периодической системы химических элементов Д. И. Менделеева, определите, какой элемент X образуется при  $\alpha$ -распаде изотопа урана. Название элемента X запишите словом.

90 232,038 <b>Th</b> Торий	91 [231] <b>Pa</b> Протактиний	92 238,03 <b>U</b> Уран	93 [237] <b>Np</b> Нептуний	94 [242] <b>Pu</b> Плутоний	95 [243] <b>Am</b> Америций	96 [247] <b>Cm</b> Кюрий	97 [247] <b>Bk</b> Берклий	98 [249] <b>Cf</b> Калифорний
-------------------------------------	---	----------------------------------	--------------------------------------	--------------------------------------	--------------------------------------	-----------------------------------	-------------------------------------	--

Оценка	Показатели оценки

5	<p>Приведено полное правильное решение, включающее следующие элементы:</p> <p>1) верно записано краткое условие задачи;</p> <p>2) записаны уравнения и формулы, применение которых необходимо и достаточно для решения задачи выбранным способом;</p> <p>3) выполнены необходимые математические преобразования и расчеты, приводящие к правильному числовому ответу, и представлен ответ. При этом допускается решение "по частям" (с промежуточными вычислениями).</p>
4	<p>Правильно записаны необходимые формулы, проведены вычисления, и получен ответ (верный или неверный), но допущена ошибка в записи краткого условия или переводе единиц в СИ.</p> <p>ИЛИ</p> <p>Представлено правильное решение только в общем виде, без каких-либо числовых расчетов.</p> <p>ИЛИ</p> <p>Записаны уравнения и формулы, применение которых необходимо и достаточно для решения задачи выбранным способом, но в математических преобразованиях или вычислениях допущена ошибка.</p>
3	<p>Записаны и использованы не все исходные формулы, необходимые для решения задачи.</p> <p>ИЛИ</p> <p>Записаны все исходные формулы, но в ОДНОЙ из них допущена ошибка.</p>

#### Задание №14

На рисунке изображен фрагмент Периодической системы химических элементов Д. И. Менделеева. Изотоп таллия-206 испытывает  $\beta$ -распад, при этом образуется электрон и ядро другого элемента. Определите, какой элемент образуется при  $\beta$ -распаде изотопа таллия. Название элемента запишите словом.

79 196,967 <b>Au</b> Золото	80 200,59 <b>Hg</b> Ртуть	81 204,37 <b>Tl</b> Таллий	82 207,19 <b>Pb</b> Свинец	83 208,980 <b>Bi</b> Висмут	84 [210]* <b>Po</b> Полоний	85 [210] <b>At</b> Астат	86 [222] <b>Rn</b> Радон
--------------------------------------	------------------------------------	-------------------------------------	-------------------------------------	--------------------------------------	--------------------------------------	-----------------------------------	-----------------------------------

Оценка	Показатели оценки
--------	-------------------



5	<p>Приведено полное правильное решение, включающее следующие элементы:</p> <p>1) верно записано краткое условие задачи;</p> <p>2) записаны уравнения и формулы, применение которых необходимо и достаточно для решения задачи выбранным способом;</p> <p>3) выполнены необходимые математические преобразования и расчеты, приводящие к правильному числовому ответу, и представлен ответ. При этом допускается решение "по частям" (с промежуточными вычислениями).</p>
4	<p>Правильно записаны необходимые формулы, проведены вычисления, и получен ответ (верный или неверный), но допущена ошибка в записи краткого условия или переводе единиц в СИ.</p> <p>ИЛИ</p> <p>Представлено правильное решение только в общем виде, без каких-либо числовых расчетов.</p> <p>ИЛИ</p> <p>Записаны уравнения и формулы, применение которых необходимо и достаточно для решения задачи выбранным способом, но в математических преобразованиях или вычислениях допущена ошибка.</p>
3	<p>Записаны и использованы не все исходные формулы, необходимые для решения задачи.</p> <p>ИЛИ</p> <p>Записаны все исходные формулы, но в ОДНОЙ из них допущена ошибка.</p>

### Задание №15

У некоторых нуклидов тяжелых металлов наблюдается альфа-радиоактивность. Изотоп осмий-186 испытывает  $\alpha$ -распад, при котором образуется ядро гелия  ${}^4_2\text{He}$  и ядро другого элемента  $X$ . Используя фрагмент Периодической системы химических элементов Д. И. Менделеева, определите, какой элемент  $X$  образуется при  $\alpha$ -распаде изотопа осмия. Название элемента  $X$  запишите словом.

57 138,91 <b>La*</b> Лантан	72 178,49 <b>Hf</b> Гафний	73 180,948 <b>Ta</b> Тантал	74 183,85 <b>W</b> Вольфрам	75 186,2 <b>Re</b> Рений	76 190,2 <b>Os</b> Осмий	77 192,2 <b>Ir</b> Иридий	78 195,09 <b>Pt</b> Платина
--------------------------------------	-------------------------------------	--------------------------------------	--------------------------------------	-----------------------------------	-----------------------------------	------------------------------------	--------------------------------------

Оценка	Показатели оценки
5	

4	<p>Правильно записаны необходимые формулы, проведены вычисления, и получен ответ (верный или неверный), но допущена ошибка в записи краткого условия или переводе единиц в СИ.</p> <p>ИЛИ</p> <p>Представлено правильное решение только в общем виде, без каких-либо числовых расчетов.</p> <p>ИЛИ</p> <p>Записаны уравнения и формулы, применение которых необходимо и достаточно для решения задачи выбранным способом, но в математических преобразованиях или вычислениях допущена ошибка.</p>
3	

### Задание №16

У некоторых нуклидов тяжелых металлов наблюдается альфа-радиоактивность. Изотоп вольфрам-180 испытывает  $\alpha$ -распад, при котором образуется ядро гелия  ${}^4_2\text{He}$  и ядро другого элемента  $X$ . Используя фрагмент Периодической системы химических элементов Д. И. Менделеева, определите, какой элемент  $X$  образуется при  $\alpha$ -распаде изотопа вольфрама. Название элемента  $X$  запишите словом.

57 138,91 <b>La*</b> Лантан	72 178,49 <b>Hf</b> Гафний	73 180,948 <b>Ta</b> Тантал	74 183,85 <b>W</b> Вольфрам	75 186,2 <b>Re</b> Рений	76 190,2 <b>Os</b> Осмий	77 192,2 <b>Ir</b> Иридий	78 195,09 <b>Pt</b> Платина
--------------------------------------	-------------------------------------	--------------------------------------	--------------------------------------	-----------------------------------	-----------------------------------	------------------------------------	--------------------------------------

Оценка	Показатели оценки
5	<p>Приведено полное правильное решение, включающее следующие элементы:</p> <ol style="list-style-type: none"> <li>1) верно записано краткое условие задачи;</li> <li>2) записаны уравнения и формулы, применение которых необходимо и достаточно для решения задачи выбранным способом;</li> <li>3) выполнены необходимые математические преобразования и расчеты, приводящие к правильному числовому ответу, и представлен ответ. При этом допускается решение "по частям" (с промежуточными вычислениями).</li> </ol>

4	<p>Правильно записаны необходимые формулы, проведены вычисления, и получен ответ (верный или неверный), но допущена ошибка в записи краткого условия или переводе единиц в СИ.</p> <p>ИЛИ</p> <p>Представлено правильное решение только в общем виде, без каких-либо числовых расчетов.</p> <p>ИЛИ</p> <p>Записаны уравнения и формулы, применение которых необходимо и достаточно для решения задачи выбранным способом, но в математических преобразованиях или вычислениях допущена ошибка.</p>
3	<p>Записаны и использованы не все исходные формулы, необходимые для решения задачи.</p> <p>ИЛИ</p> <p>Записаны все исходные формулы, но в ОДНОЙ из них допущена ошибка.</p>

### Задание №17

Сформулируйте развернутый ответ на вопрос: Законы геометрической оптики.

Оценка	Показатели оценки
5	<ol style="list-style-type: none"> <li>1. Показывает верное понимание физической сущности рассматриваемых явлений и закономерностей, законов и теорий, дает точное определение и истолкование основных понятий, законов, теорий.</li> <li>2. Дает правильное определение физических величин, их единиц и способов измерения.</li> <li>3. Правильно выполняет чертежи, схемы и графики.</li> <li>4. Сопровождает рассказ новыми примерами.</li> </ol>
4	<p>Ответ удовлетворяет основным требованиям к ответу на оценку 5, но:</p> <ol style="list-style-type: none"> <li>1. Обучающийся допустил одну ошибку или не более двух недочетов и может их исправить самостоятельно или с небольшой помощью преподавателя.</li> <li>2. Ответ дан без использования новых примеров.</li> </ol>

3	<p>Обучающийся правильно понимает физическую сущность рассматриваемых явлений и закономерностей, но:</p> <ol style="list-style-type: none"> <li>1. В его ответе, имеются отдельные пробелы в усвоении вопросов курса физики, не препятствующие дальнейшему усвоению программного материала.</li> <li>2. Обучающийся может допустить не более одной грубой ошибки и двух недочетов; или не более одной грубой ошибки и не более двух-трех негрубых ошибок; или одной негрубой ошибки и трех недочетов; или четырех или пяти недочетов.</li> </ol>
---	--

### Задание №18

Сформулируйте развернутый ответ на вопрос: Явление радиоактивности. Ядерные реакции.

Оценка	Показатели оценки
5	<ol style="list-style-type: none"> <li>1. Показывает верное понимание физической сущности рассматриваемых явлений и закономерностей, законов и теорий, дает точное определение и истолкование основных понятий, законов, теорий.</li> <li>2. Дает правильное определение физических величин, их единиц и способов измерения.</li> <li>3. Правильно выполняет чертежи, схемы и графики.</li> <li>4. Сопровождает рассказ новыми примерами.</li> </ol>
4	<p>Ответ удовлетворяет основным требованиям к ответу на оценку 5, но:</p> <ol style="list-style-type: none"> <li>1. Обучающийся допустил одну ошибку или не более двух недочетов и может их исправить самостоятельно или с небольшой помощью преподавателя.</li> <li>2. Ответ дан без использования новых примеров.</li> </ol>
3	<p>Обучающийся правильно понимает физическую сущность рассматриваемых явлений и закономерностей, но:</p> <ol style="list-style-type: none"> <li>1. В его ответе, имеются отдельные пробелы в усвоении вопросов курса физики, не препятствующие дальнейшему усвоению программного материала.</li> <li>2. Обучающийся может допустить не более одной грубой ошибки и двух недочетов; или не более одной грубой ошибки и не более двух-трех негрубых ошибок; или одной негрубой ошибки и трех недочетов; или четырех или пяти недочетов.</li> </ol>

### Задание №19

Сформулируйте развернутый ответ на вопрос: Строение атома. Постулаты Бора.

Оценка	Показатели оценки

5	<p>1. Показывает верное понимание физической сущности рассматриваемых явлений и закономерностей, законов и теорий, дает точное определение и истолкование основных понятий, законов, теорий.</p> <p>2. Дает правильное определение физических величин, их единиц и способов измерения.</p> <p>3. Правильно выполняет чертежи, схемы и графики.</p> <p>4. Сопровождает рассказ новыми примерами.</p>
4	<p>Ответ удовлетворяет основным требованиям к ответу на оценку 5, но:</p> <p>1. Обучающийся допустил одну ошибку или не более двух недочетов и может их исправить самостоятельно или с небольшой помощью преподавателя.</p> <p>2. Ответ дан без использования новых примеров.</p>
3	<p>Обучающийся правильно понимает физическую сущность рассматриваемых явлений и закономерностей, но:</p> <p>1. В его ответе, имеются отдельные пробелы в усвоении вопросов курса физики, не препятствующие дальнейшему усвоению программного материала.</p> <p>2. Обучающийся может допустить не более одной грубой ошибки и двух недочетов; или не более одной грубой ошибки и не более двух-трех негрубых ошибок; или одной негрубой ошибки и трех недочетов; или четырех или пяти недочетов.</p>

### Задание №20


Сформулируйте развернутый ответ на вопрос: Законы движения планет. Физическая природа тел солнечной системы.

Оценка	Показатели оценки
5	<p>1. Показывает верное понимание физической сущности рассматриваемых явлений и закономерностей, законов и теорий, дает точное определение и истолкование основных понятий, законов, теорий.</p> <p>2. Дает правильное определение физических величин, их единиц и способов измерения.</p> <p>3. Правильно выполняет чертежи, схемы и графики.</p> <p>4. Сопровождает рассказ новыми примерами.</p>
4	<p>Ответ удовлетворяет основным требованиям к ответу на оценку 5, но:</p> <p>1. Обучающийся допустил одну ошибку или не более двух недочетов и может их исправить самостоятельно или с небольшой помощью преподавателя.</p> <p>2. Ответ дан без использования новых примеров.</p>

3	<p>Обучающийся правильно понимает физическую сущность рассматриваемых явлений и закономерностей, но:</p> <p>1. В его ответе, имеются отдельные пробелы в усвоении вопросов курса физики, не препятствующие дальнейшему усвоению программного материала.</p> <p>2. Обучающийся может допустить не более одной грубой ошибки и двух недочетов; или не более одной грубой ошибки и не более двух-трех негрубых ошибок; или одной негрубой ошибки и трех недочетов; или четырех или пяти недочетов.</p>
---	---

### Задание №21

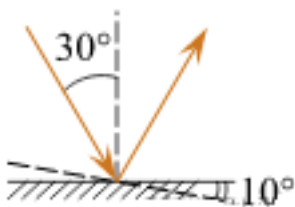
На рисунке показаны спектры поглощения трех смесей неизвестных газов (X, Y и Z), а также спектры излучения известных газов 1 и 2. Какая из смесей не содержит газ 1? *Дайте развернутый ответ.*



Оценка	Показатели оценки
5	Дан верный ответ, представлено решение.
4	Дан верный ответ, представлено решение, но в решении допущено 1-2 неточности.
3	<p>Дан верный ответ, не представлено решение.</p> <p>или</p> <p>Представлено решение, но не зафиксирован ответ.</p>

### Задание №22

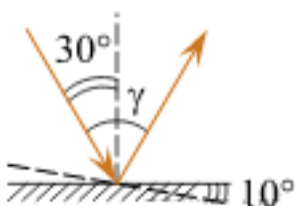
Угол падения света на горизонтальное плоское зеркало равен  $30^\circ$ . Чему будет равен угол отражения света, если повернуть зеркало на  $10^\circ$  так, как показано на рисунке? *Дайте развернутый ответ.*



Оценка	Показатели оценки
5	Дан верный ответ, представлено решение.
4	Дан верный ответ, представлено решение, но в решении допущено 1-2 неточности.
3	Дан верный ответ, не представлено решение. или Представлено решение, но не зафиксирован ответ.

### Задание №23

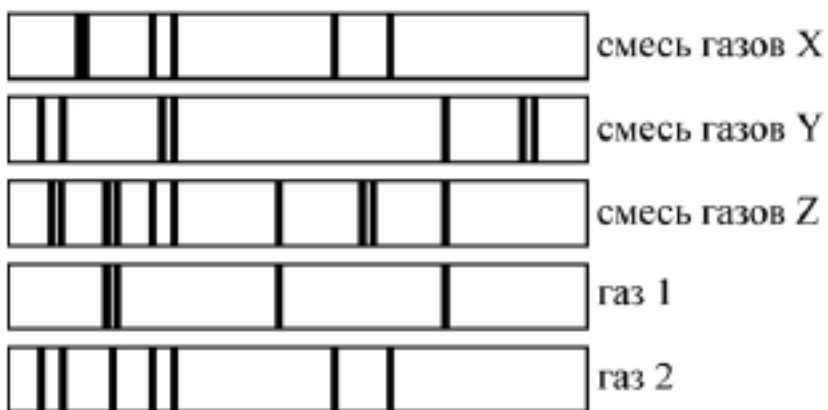
Угол падения света на горизонтальное плоское зеркало равен  $30^\circ$ . Каким будет угол  $\gamma$ , образованный падающим и отраженным лучами, если, не меняя положение источника света, повернуть зеркало на  $10^\circ$  так, как показано на рисунке? *Дайте развернутый ответ.*



Оценка	Показатели оценки
5	Дан верный ответ, представлено решение.
4	Дан верный ответ, представлено решение, но в решении допущено 1-2 неточности.
3	Дан верный ответ, не представлено решение. или Представлено решение, но не зафиксирован ответ.

### Задание №24

На рисунке показаны спектры поглощения трех смесей неизвестных газов (X, Y и Z), а также спектры излучения известных газов 1 и 2. Какая из смесей содержит газ 1? *Дайте развернутый ответ.*



Оценка	Показатели оценки
5	Дан верный ответ, представлено решение.
4	Дан верный ответ, представлено решение, но в решении допущено 1-2 неточности.
3	Дан верный ответ, не представлено решение. или Представлено решение, но не зафиксирован ответ.