

**Контрольно-оценочные средства для проведения текущего
контроля
по УОД.03 Математика
(1 курс, 2 семестр 2024-2025 уч. г.)**

Текущий контроль №1 (45 минут)

Форма контроля: Контрольная работа (Информационно-аналитический)

Описательная часть: Письменная контрольная работа по вариантам

Задание №1 (6 минут)

Выполните задания:

1. Найдите сумму, разность, произведение и частное комплексных чисел $z_1 = -2 + 3i$, $z_2 = 3 - 4i$.
2. Вычислите: $\frac{1 + 2i}{1 - 2i} + \frac{1 - 2i}{1 + 2i}$.
3. Решите уравнение $iz = 2 - 3i$.

Оценка	Показатели оценки
5	Правильно выбран способ решения, само решение сопровождается необходимыми объяснениями, верно выполнены нужные вычисления и преобразования, получен верный ответ, последовательно и аккуратно записано решение;
4	Работа выполнена полностью, но обоснования шагов решения недостаточны, допущены одна ошибка или есть два – три недочета в выкладках, рисунках, чертежах или графиках;
3	При решении допущено более одной ошибки или более двух – трех недочетов в выкладках, чертежах или графиках, но обучающийся обладает обязательными умениями по проверяемой теме.

Задание №2 (9 минут)

Выполните задания:

1. Запишите комплексное число $\sqrt{3} + i$ в стандартной тригонометрической форме.
2. Найдите, при каких значениях параметра b выполняется равенство $|z| = 20$, если $z = -4b + 3bi$.
3. а) Зная, что $z = -\frac{1}{2} + \frac{\sqrt{3}}{2}i$, найдите число z^2 и его аргумент.
 б) Изобразите числа z и z^2 на комплексной плоскости.

Оценка	Показатели оценки
5	Правильно выбран способ решения, само решение сопровождается необходимыми объяснениями, верно выполнены нужные вычисления и преобразования, получен верный ответ, последовательно и аккуратно записано решение;
4	Работа выполнена полностью, но обоснования шагов решения недостаточны, допущены одна ошибка или есть два – три недочета в выкладках, рисунках, чертежах или графиках;
3	При решении допущено более одной ошибки или более двух – трех недочетов в выкладках, чертежах или графиках, но обучающийся обладает обязательными умениями по проверяемой теме.

Задание №3 (10 минут)

Выполните задания:

1. Решите уравнение:

а) $z^2 + z + 2 = 0$;

б) $z^2 - (3 - 2i)z + 5 - 5i = 0$.

2. Найдите значение параметра a , при котором уравнение $z^2 - (3 - 2i)z + a(1 - i) = 0$ имеет корень $z_1 = 2 + i$.

3. Изобразите на комплексной плоскости множество \sqrt{z} , если $|z| = 1$ и $0 \leq \arg(z) \leq \frac{2\pi}{3}$.

Оценка	Показатели оценки
5	Правильно выбран способ решения, само решение сопровождается необходимыми объяснениями, верно выполнены нужные вычисления и преобразования, получен верный ответ, последовательно и аккуратно записано решение;
4	Работа выполнена полностью, но обоснования шагов решения недостаточны, допущены одна ошибка или есть два – три недочета в выкладках, рисунках, чертежах или графиках;
3	При решении допущено более одной ошибки или более двух – трех недочетов в выкладках, чертежах или графиках, но обучающийся обладает обязательными умениями по проверяемой теме.

Задание №4 (15 минут)

1. Вычислите:

а) $(\cos 10^\circ + i \sin 10^\circ)^{30}$;

б) $(1 - \sqrt{3}i)^6$;

в) $(-1 - i)^{-4}$.

2. Вычислите $\sqrt[3]{-8i}$ и изобразите его на комплексной плоскости.

Оценка	Показатели оценки
--------	-------------------

5	Правильно выбран способ решения, само решение сопровождается необходимыми объяснениями, верно выполнены нужные вычисления и преобразования, получен верный ответ, последовательно и аккуратно записано решение;
4	Работа выполнена полностью, но обоснования шагов решения недостаточны, допущены одна ошибка или есть два – три недочета в выкладках, рисунках, чертежах или графиках;
3	При решении допущено более одной ошибки или более двух – трех недочетов в выкладках, чертежах или графиках, но обучающийся обладает обязательными умениями по проверяемой теме.

Задание №5 (5 минут)

1. Вычислите:

а) $(\sqrt{3} + 5i)(5 - \sqrt{3}i)$; б) $\frac{9 - 7i}{2 - 3i}$.

2. Изобразите на комплексной плоскости:

а) точки пересечения отрезка, соединяющего точки $-3 - i$ и $1 + 3i$, с осями координат;

Оценка	Показатели оценки
5	Правильно выбран способ решения, само решение сопровождается необходимыми объяснениями, верно выполнены нужные вычисления и преобразования, получен верный ответ, последовательно и аккуратно записано решение.
4	Работа выполнена полностью, но обоснования шагов решения недостаточны, допущены одна ошибка или есть два – три недочета в выкладках, рисунках, чертежах или графиках.
3	При решении допущено более одной ошибки или более двух – трех недочетов в выкладках, чертежах или графиках, но обучающийся обладает обязательными умениями по проверяемой теме.

Текущий контроль №2 (45 минут)

Форма контроля: Контрольная работа (Информационно-аналитический)

Описательная часть: Письменная контрольная работа по вариантам

Задание №1 (12 минут)

1. Найдите сумму геометрической прогрессии 9, 3, 1,
2. Сумма геометрической прогрессии (b_n) равна 123, первый член прогрессии равен 41. Найдите знаменатель прогрессии.
3. Найдите сумму геометрической прогрессии (b_n) , если $b_n = \frac{20}{3^{n-1}}$.

Оценка	Показатели оценки
5	Правильно выбран способ решения, само решение сопровождается необходимыми объяснениями, верно выполнены нужные вычисления и преобразования, получен верный ответ, последовательно и аккуратно записано решение;
4	Работа выполнена полностью, но обоснования шагов решения недостаточны, допущены одна ошибка или есть два – три недочета в выкладках, рисунках, чертежах или графиках;
3	При решении допущено более одной ошибки или более двух – трех недочетов в выкладках, чертежах или графиках, но обучающийся обладает обязательными умениями по проверяемой теме.

Задание №2 (5 минут)

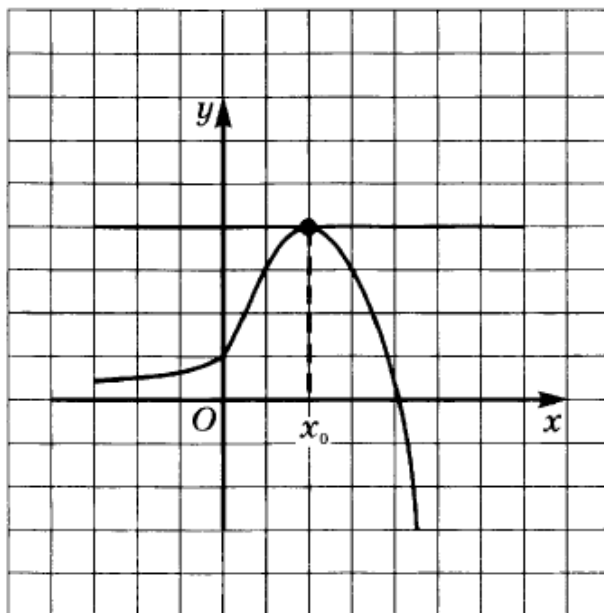
Решите задачи, используя производные функций:

1. Составить уравнение касательной к кривой в точке, если $f(x) = 3x^4 - 2x^2 + 3$, $x_0 = -1$
2. Материальная точка движется по закону $x(t) = \frac{1}{5}t^2 + t + 26$. В какой момент времени ее скорость была равна 3 м/с?

Оценка	Показатели оценки
5	Верно найдено решение для 2 задач;
4	Верно найдено решение для 1 задачи;
3	Для задач правильно использовано свойство производных функций, но получен неверный численный ответ.

Задание №3 (3 минуты)

1. Определите значение $f'(x_0)$ для функции $y = f(x)$, график которой изображён на рисунке.



Оценка	Показатели оценки
5	Правильно выбран способ решения, само решение сопровождается необходимыми объяснениями, верно выполнены нужные вычисления и преобразования, получен верный ответ, последовательно и аккуратно записано решение.
4	Работа выполнена полностью, но обоснования шагов решения недостаточны, допущены одна ошибка или есть два – три недочета в выкладках, рисунках, чертежах или графиках.
3	При решении допущено более одной ошибки или более двух – трех недочетов в выкладках, чертежах или графиках, но обучающийся обладает обязательными умениями по проверяемой теме.

Задание №4 (15 минут)

1. Найдите значение производной функции $y = f(x)$ в точке x_0 , если $f(x) = \sqrt{x}$, $x_0 = 25$.

2. Найдите производную функции:

а) $y = x^3 - 2x^2 + x + 2$; г) $y = \frac{1}{\cos x}$;

б) $y = \sqrt{x}(2 \sin x + 1)$; д) $y = \frac{3x^2 - 2}{x^3}$;

в) $y = \frac{1}{x^2}$; е) $y = \operatorname{tg} x + \frac{1}{x}$.

Оценка	Показатели оценки
5	Верно найдено решение для 7 задач;
4	Верно найдено решение для 5 задач;
3	Верно найдено решение для 3 задач;

Задание №5 (10 минут)

. Задаёт ли указанное правило функцию $y = f(x)$:

$$1) f(x) = \begin{cases} -2x, & -3 \leq x < 0, \\ x^2, & 0 \leq x < 1, \\ \frac{1}{x}, & x \geq 1; \end{cases}$$

В случае положительного ответа:

найдите промежутки монотонности функции

2.

Исследуйте функцию $y = \frac{x}{|x|} + x^3 + x^2$ на четность.

Оценка	Показатели оценки
5	Правильно выбран способ решения, само решение сопровождается необходимыми объяснениями, верно выполнены нужные вычисления и преобразования, получен верный ответ, последовательно и аккуратно записано решение.
4	Работа выполнена полностью, но обоснования шагов решения недостаточны, допущены одна ошибка или есть два – три недочета в выкладках, рисунках, чертежах или графиках.
3	При решении допущено более одной ошибки или более двух – трех недочетов в выкладках, чертежах или графиках, но обучающийся обладает обязательными умениями по проверяемой теме.

Текущий контроль №3 (45 минут)

Форма контроля: Контрольная работа (Информационно-аналитический)

Описательная часть: Письменная контрольная работа по вариантам

Задание №1 (10 минут)

Построить график функции и выяснить, является ли функция непрерывной в точке $a = 1$, если:

$$1) y = \begin{cases} 3 - x^2 & \text{при } x \leq 1, \\ x + 1 & \text{при } x > 1; \end{cases}$$

Оценка	Показатели оценки
5	Правильно выбран способ решения, само решение сопровождается необходимыми объяснениями, верно выполнены нужные вычисления и преобразования, получен верный ответ, последовательно и аккуратно записано решение.

4	Работа выполнена полностью, но обоснования шагов решения недостаточны, допущены одна ошибка или есть два – три недочета в выкладках, рисунках, чертежах или графиках.
3	При решении допущено более одной ошибки или более двух – трех недочетов в выкладках, чертежах или графиках, но обучающийся обладает обязательными умениями по проверяемой теме.

Задание №2 (15 минут)

Пользуясь правилами и формулами дифференцирования, найдите производную функции:

а) $y = \frac{x^3}{3} - 2x^2 + 4x - 5;$

б) $y = \sqrt{x} + \sin \frac{x}{2} + x^2 \operatorname{tg} 2x;$

в) $y = \frac{1 - \cos x}{1 + \sin x}.$

Напишите уравнение касательной к графику функции $y = \sin^2 x$ в точке $x = -\frac{\pi}{4}$.

Оценка	Показатели оценки
5	Правильно выбран способ решения, само решение сопровождается необходимыми объяснениями, верно выполнены нужные вычисления и преобразования, получен верный ответ, последовательно и аккуратно записано решение.
4	Работа выполнена полностью, но обоснования шагов решения недостаточны, допущены одна ошибка или есть два – три недочета в выкладках, рисунках, чертежах или графиках.
3	При решении допущено более одной ошибки или более двух – трех недочетов в выкладках, чертежах или графиках, но обучающийся обладает обязательными умениями по проверяемой теме.

Задание №3 (5 минут)

Найдите наименьшее и наибольшее значения функции $y = \frac{1}{3}x^3 - x^2 + 1$ на отрезке $[-1; 3]$.

Оценка	Показатели оценки
5	Правильно выбран способ решения, само решение сопровождается необходимыми объяснениями, верно выполнены нужные вычисления и преобразования, получен верный ответ, последовательно и аккуратно записано решение.
4	Работа выполнена полностью, но обоснования шагов решения недостаточны, допущены одна ошибка или есть два – три недочета в выкладках, рисунках, чертежах или графиках.
3	При решении допущено более одной ошибки или более двух – трех недочетов в выкладках, чертежах или графиках, но обучающийся обладает обязательными умениями по проверяемой теме.

Задание №4 (5 минут)

Материальная точка массой 2 кг движется прямолинейно по закону $s(t)$ (t — время в секундах, s — расстояние в метрах). Найти скорость движения точки в момент времени t , если:

1) $s(t) = t^3 - 1,5t^2 + 2t - 1, t = 3;$

Оценка	Показатели оценки
5	Правильно выбран способ решения, само решение сопровождается необходимыми объяснениями, верно выполнены нужные вычисления и преобразования, получен верный ответ, последовательно и аккуратно записано решение.
4	Работа выполнена полностью, но обоснования шагов решения недостаточны, допущены одна ошибка или есть два – три недочета в выкладках, рисунках, чертежах или графиках.
3	При решении допущено более одной ошибки или более двух – трех недочетов в выкладках, чертежах или графиках, но обучающийся обладает обязательными умениями по проверяемой теме.

Задание №5 (10 минут)

В какой точке нужно провести касательную к графику функции $y = (x - 2)^2$, $0 \leq x \leq 2$, чтобы площадь треугольника, ограниченного этой касательной и осями координат, была наименьшей?

Оценка	Показатели оценки
5	Правильно выбран способ решения, само решение сопровождается необходимыми объяснениями, верно выполнены нужные вычисления и преобразования, получен верный ответ, последовательно и аккуратно записано решение.
4	Работа выполнена полностью, но обоснования шагов решения недостаточны, допущены одна ошибка или есть два – три недочета в выкладках, рисунках, чертежах или графиках.
3	При решении допущено более одной ошибки или более двух – трех недочетов в выкладках, чертежах или графиках, но обучающийся обладает обязательными умениями по проверяемой теме.

Текущий контроль №4 (45 минут)

Форма контроля: Контрольная работа (Информационно-аналитический)

Описательная часть: Письменная контрольная работа по вариантам

Задание №1 (10 минут)

1. Показать, что функция $F(x)$ является первообразной функции $f(x)$ на всей числовой прямой, если:

1) $F(x) = \frac{1}{3} e^{3x}$, $f(x) = e^{3x}$;

2) $F(x) = \frac{1}{4 \ln 3} \cdot 3^{4x}$, $f(x) = 3^{4x}$;

3) $F(x) = \underline{\sin^2 x}$, $f(x) = \sin 2x$;

Оценка	Показатели оценки
5	Правильно выбран способ решения, само решение сопровождается необходимыми объяснениями, верно выполнены нужные вычисления и преобразования, получен верный ответ, последовательно и аккуратно записано решение.
4	Работа выполнена полностью, но обоснования шагов решения недостаточны, допущены одна ошибка или есть два – три недочета в выкладках, рисунках, чертежах или графиках.
3	При решении допущено более одной ошибки или более двух – трех недочетов в выкладках, чертежах или графиках, но обучающийся обладает обязательными умениями по проверяемой теме.

Задание №2 (10 минут)

1) Найти площадь фигуры, ограниченной осью ординат, параболой $y = 2x - x^2$ и касательной к параболе, проведенной через точку (2; 0).

Оценка	Показатели оценки
5	Правильно выбран способ решения, само решение сопровождается необходимыми объяснениями, верно выполнены нужные вычисления и преобразования, получен верный ответ, последовательно и аккуратно записано решение.
4	Работа выполнена полностью, но обоснования шагов решения недостаточны, допущены одна ошибка или есть два – три недочета в выкладках, рисунках, чертежах или графиках.
3	При решении допущено более одной ошибки или более двух – трех недочетов в выкладках, чертежах или графиках, но обучающийся обладает обязательными умениями по проверяемой теме.

Задание №3 (15 минут)

1) Тело движется прямолинейно со скоростью $v(t) = 6t^2 + t$, где t — время в секундах, v — скорость в метрах в секунду. Найти путь, пройденный телом за третью секунду.

Найти площадь фигуры, ограниченной параболой $y = 4 - x^2$ и $y = x^2 - 4$

Оценка	Показатели оценки
5	Правильно выбран способ решения, само решение сопровождается необходимыми объяснениями, верно выполнены нужные вычисления и преобразования, получен верный ответ, последовательно и аккуратно записано решение.
4	Работа выполнена полностью, но обоснования шагов решения недостаточны, допущены одна ошибка или есть два – три недочета в выкладках, рисунках, чертежах или графиках.
3	При решении допущено более одной ошибки или более двух – трех недочетов в выкладках, чертежах или графиках, но обучающийся обладает обязательными умениями по проверяемой теме.

Задание №4 (10 минут)

$$y' + y = x, \quad y(0) = 2;$$

Оценка	Показатели оценки
5	Правильно выбран способ решения, само решение сопровождается необходимыми объяснениями, верно выполнены нужные вычисления и преобразования, получен верный ответ, последовательно и аккуратно записано решение.
4	Работа выполнена полностью, но обоснования шагов решения недостаточны, допущены одна ошибка или есть два – три недочета в выкладках, рисунках, чертежах или графиках.
3	При решении допущено более одной ошибки или более двух – трех недочетов в выкладках, чертежах или графиках, но обучающийся обладает обязательными умениями по проверяемой теме.

Текущий контроль №5 (45 минут)

Форма контроля: Контрольная работа (Информационно-аналитический)

Описательная часть: Письменная контрольная работа по вариантам

Задание №1 (10 минут)

1. Высота боковой грани правильной четырёхугольной пирамиды равна 10 см. Определите площадь её полной поверхности, если боковая грань образует с плоскостью основания угол 60° .

Оценка	Показатели оценки
5	Правильно выбран способ решения, само решение сопровождается необходимыми объяснениями, верно выполнены нужные вычисления и преобразования, получен верный ответ, последовательно и аккуратно записано решение.
4	Работа выполнена полностью, но обоснования шагов решения недостаточны, допущены одна ошибка или есть два – три недочета в выкладках, рисунках, чертежах или графиках.
3	При решении допущено более одной ошибки или более двух – трех недочетов в выкладках, чертежах или графиках, но обучающийся обладает обязательными умениями по проверяемой теме.

Задание №2 (10 минут)

Усечённый конус имеет радиусы оснований 4 см и 22 см. Чему равен радиус основания равновеликого ему цилиндра, имеющего с усечённым конусом одинаковую высоту?

Оценка	Показатели оценки
5	Правильно выбран способ решения, само решение сопровождается необходимыми объяснениями, верно выполнены нужные вычисления и преобразования, получен верный ответ, последовательно и аккуратно записано решение.
4	Работа выполнена полностью, но обоснования шагов решения недостаточны, допущены одна ошибка или есть два – три недочета в выкладках, рисунках, чертежах или графиках.
3	При решении допущено более одной ошибки или более двух – трех недочетов в выкладках, чертежах или графиках, но обучающийся обладает обязательными умениями по проверяемой теме.

Задание №3 (10 минут)

2. В прямом параллелепипеде стороны основания, равные $4\sqrt{2}$ см и 10 см, образуют угол в 45° . Меньшая диагональ параллелепипеда 14 см. Найдите его объём.

Оценка	Показатели оценки
5	Правильно выбран способ решения, само решение сопровождается необходимыми объяснениями, верно выполнены нужные вычисления и преобразования, получен верный ответ, последовательно и аккуратно записано решение.
4	Работа выполнена полностью, но обоснования шагов решения недостаточны, допущены одна ошибка или есть два – три недочета в выкладках, рисунках, чертежах или графиках.
3	При решении допущено более одной ошибки или более двух – трех недочетов в выкладках, чертежах или графиках, но обучающийся обладает обязательными умениями по проверяемой теме.

Задание №4 (10 минут)

Радиус основания конуса равен 6 см, а образующая наклонена к плоскости основания под углом 60° . Найдите площадь сечения, проходящего через две образующие, угол между которыми равен 45° и площадь боковой поверхности конуса.

Оценка	Показатели оценки
--------	-------------------

5	Правильно выбран способ решения, само решение сопровождается необходимыми объяснениями, верно выполнены нужные вычисления и преобразования, получен верный ответ, последовательно и аккуратно записано решение.
4	Работа выполнена полностью, но обоснования шагов решения недостаточны, допущены одна ошибка или есть два – три недочета в выкладках, рисунках, чертежах или графиках.
3	При решении допущено более одной ошибки или более двух – трех недочетов в выкладках, чертежах или графиках, но обучающийся обладает обязательными умениями по проверяемой теме.

Задание №5 (5 минут)

Объем цилиндра равен $96\pi^3 \text{ см}^3$. Площадь его осевого сечения 48 см^2 . Найдите площадь сферы, описанной около цилиндра.

Оценка	Показатели оценки
5	Правильно выбран способ решения, само решение сопровождается необходимыми объяснениями, верно выполнены нужные вычисления и преобразования, получен верный ответ, последовательно и аккуратно записано решение.
4	Работа выполнена полностью, но обоснования шагов решения недостаточны, допущены одна ошибка или есть два – три недочета в выкладках, рисунках, чертежах или графиках.
3	При решении допущено более одной ошибки или более двух – трех недочетов в выкладках, чертежах или графиках, но обучающийся обладает обязательными умениями по проверяемой теме.

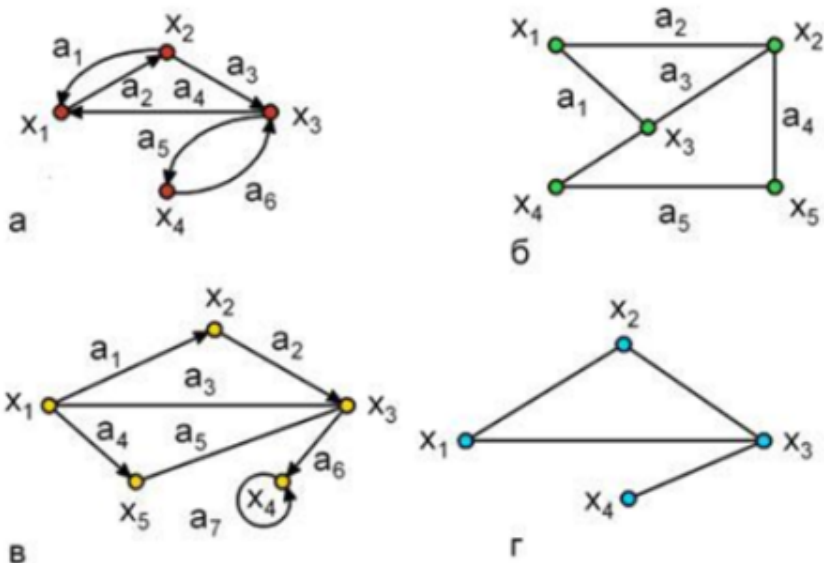
Текущий контроль №6 (40 минут)

Форма контроля: Контрольная работа (Информационно-аналитический)

Описательная часть: Письменная контрольная работа

Задание №1 (10 минут)

Подпишите типы и виды графов, укажите на примере одного графа вершину, начальную вершину, конечную вершину, дугу, ребро, петлю.

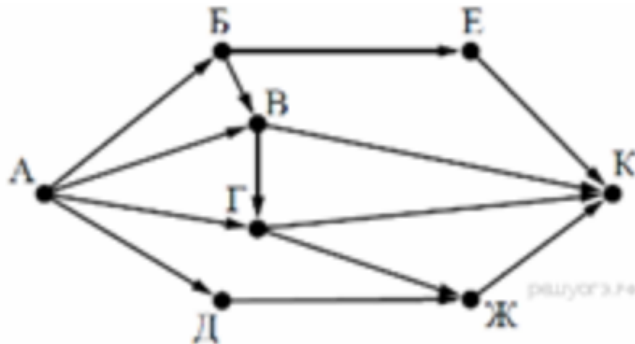


Оценка	Показатели оценки
5	Правильно выбран способ решения, само решение сопровождается необходимыми объяснениями, верно выполнены нужные вычисления и преобразования, получен верный ответ, последовательно и аккуратно записано решение;
4	Работа выполнена полностью, но обоснования шагов решения недостаточны, допущены одна ошибка или есть два – три недочета в выкладках, рисунках, чертежах или графиках;
3	При решении допущено более одной ошибки или более двух – трех недочетов в выкладках, чертежах или графиках, но обучающийся обладает обязательными умениями по проверяемой теме.

Задание №2 (5 минут)

2. На рисунке — схема дорог, связывающих города А, Б, В, Г, Д, Е, Ж и К. По каждой дороге можно двигаться только в одном направлении, указанном стрелкой.

Сколько существует различных путей из города А в



город К?

Оценка	Показатели оценки
5	Правильно выбран способ решения, само решение сопровождается необходимыми объяснениями, верно выполнены нужные вычисления и преобразования, получен верный ответ, последовательно и аккуратно записано решение;
4	Работа выполнена полностью, но обоснования шагов решения недостаточны, допущены одна ошибка или есть два – три недочета в выкладках, рисунках, чертежах или графиках;
3	При решении допущено более одной ошибки или более двух – трех недочетов в выкладках, чертежах или графиках, но обучающийся обладает обязательными умениями по проверяемой теме.

Задание №3 (10 минут)

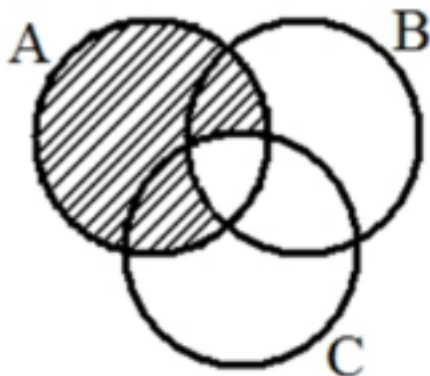
В стране Озёрная 7 озер, соединенных между собой 10 непересекающимися каналами, причём от каждого озера можно доплыть до любого другого. Сколько в этой стране островов? Нарисуйте получившийся граф.

Оценка	Показатели оценки
5	Правильно выбран способ решения, само решение сопровождается необходимыми объяснениями, верно выполнены нужные вычисления и преобразования, получен верный ответ, последовательно и аккуратно записано решение.
4	Работа выполнена полностью, но обоснования шагов решения недостаточны, допущены одна ошибка или есть два – три недочета в выкладках, рисунках, чертежах или графиках.
3	При решении допущено более одной ошибки или более двух – трех недочетов в выкладках, чертежах или графиках, но обучающийся обладает обязательными умениями по проверяемой теме.

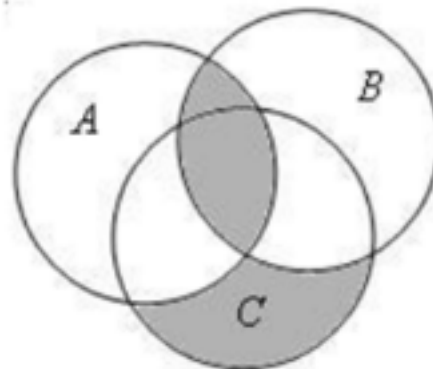
Задание №4 (7 минут)

Выразите через базовые множества и операции над ними закрашенную область:

задача 1:



задача 2:



Оценка	Показатели оценки
5	Правильно выбран способ решения, само решение сопровождается необходимыми объяснениями, верно выполнены нужные вычисления и преобразования, получен верный ответ, последовательно и аккуратно записано решение.
4	Работа выполнена полностью, но обоснования шагов решения недостаточны, допущены одна ошибка или есть два – три недочета в выкладках, рисунках, чертежах или графиках.
3	При решении допущено более одной ошибки или более двух – трех недочетов в выкладках, чертежах или графиках, но обучающийся обладает обязательными умениями по проверяемой теме.

Задание №5 (8 минут)

Пусть $A = [-5; 0)$, $B = (-2; 4)$ – интервальные промежутки целых чисел;

$C = \{x \mid x^2 + 3x - 4 = 0\}$ – множество решений квадратного уравнения.

Запишите с помощью перечисления элементов множеств, следующие операции:

а) $A \cap B =$ б) $B \cap C =$ в) $A/C =$ г) $C \Delta A =$ д) $B \cap A \cup C =$

Оценка	Показатели оценки
5	Правильно выбран способ решения, само решение сопровождается необходимыми объяснениями, верно выполнены нужные вычисления и преобразования, получен верный ответ, последовательно и аккуратно записано решение.
4	Работа выполнена полностью, но обоснования шагов решения недостаточны, допущены одна ошибка или есть два – три недочета в выкладках, рисунках, чертежах или графиках.

3	При решении допущено более одной ошибки или более двух – трех недочетов в выкладках, чертежах или графиках, но обучающийся обладает обязательными умениями по проверяемой теме.
---	---

Текущий контроль №7 (45 минут)

Форма контроля: Контрольная работа (Информационно-аналитический)

Описательная часть: Письменная контрольная работа

Задание №1 (3 минуты)

Сформулируйте развернутый ответ по теме: «Представление данных (таблицы, диаграммы, графики). Генеральная совокупность, среднее арифметическое, медиана».

Оценка	Показатели оценки
5	1) Студент полно излагает материал, дает правильное определение основных понятий; 2) демонстрирует понимание материала, может обосновать свои суждения, применить знания на практике, привести необходимые примеры не только из учебника, но и самостоятельно составленные.
4	Студент дает ответ, удовлетворяющий тем же требованиям, что и для отметки «5», но допускает 1–2 ошибки, которые сам же исправляет.
3	Студент демонстрирует знание и понимание основных положений данной темы, но: 1) излагает материал неполно и допускает неточности в определении понятий или формулировке правил; 2) не умеет достаточно глубоко и доказательно обосновать свои суждения и привести свои примеры; 3) излагает материал непоследовательно.

Задание №2 (3 минуты)

Сформулируйте развернутый ответ по теме: «Числовые характеристики дискретной случайной величины».

Оценка	Показатели оценки
5	1) Студент полно излагает материал, дает правильное определение основных понятий; 2) демонстрирует понимание материала, может обосновать свои суждения, применить знания на практике, привести необходимые примеры не только из учебника, но и самостоятельно составленные.
4	Студент дает ответ, удовлетворяющий тем же требованиям, что и для отметки «5», но допускает 1–2 ошибки, которые сам же исправляет.
3	Студент демонстрирует знание и понимание основных положений данной темы, но: 1) излагает материал неполно и допускает неточности в определении понятий или формулировке правил; 2) не умеет достаточно глубоко и доказательно обосновать свои суждения и привести свои примеры; 3) излагает материал непоследовательно.

Задание №3 (9 минут)

Разложите выражение по формуле биннома Ньютона и упростите. Коэффициенты разложения найдите, используя треугольник Паскаля:

1) $(a - \sqrt{2})^6$

2) $(\sqrt{6} + \sqrt{12})^4$

3) $(a - \frac{1}{a})^3$

Оценка	Показатели оценки
5	Верно выполнено разложение 3 выражений;
4	Верно выполнено разложение 2 выражений;
3	Верно выполнено разложение 1 выражения.

Задание №4 (5 минут)

Решить задачи (один из возможных вариантов задания):

1. Сколько существует вариантов распределения трех призовых мест, если в розыгрыше участвуют 7 команд?
2. К кассе кинотеатра одновременно подошли 5 человек. Сколькими способами они могут выстроиться в очередь?
3. В ювелирную мастерскую привезли 9 алмазов и 7 сапфиров. Ювелиру заказали браслет, в котором 5 алмазов и 2 сапфира. Сколькими способами он может выбрать камни на браслет?

Оценка	Показатели оценки
5	Решены верно все задачи.
4	Решены три задачи, но допущена 1 негрубая ошибка или 2-3 недочета.
3	Решены верно две задачи, но допущены не более 2 недочетов.

Задание №5 (3 минуты)

Дискретная случайная величина X задана таблицей распределения:

X	-3	-2	0	1	3
P	0,1	0,2	0,3	0,3	0,1

Вычислить $M(X)$, $D(X)$, $\sigma(X)$.

Оценка	Показатели оценки
5	Правильно выбран способ решения, само решение сопровождается необходимыми объяснениями, верно выполнены нужные вычисления и преобразования, получен верный ответ, последовательно и аккуратно записано решение.
4	Работа выполнена полностью, но обоснования шагов решения недостаточны, допущены одна ошибка или есть два – три недочета в выкладках, рисунках, чертежах или графиках.
3	При решении допущено более одной ошибки или более двух – трех недочетов в выкладках, чертежах или графиках, но обучающийся обладает обязательными умениями по проверяемой теме.

Задание №6 (5 минут)

Сформулируйте развернутый ответ по теме: "Событие, вероятность события, сложение и умножение вероятностей".

Оценка	Показатели оценки
5	1) Студент полно излагает материал, дает правильное определение основных понятий; 2) демонстрирует понимание материала, может обосновать свои суждения, применить знания на практике, привести необходимые примеры не только из учебника, но и самостоятельно составленные.
4	Студент дает ответ, удовлетворяющий тем же требованиям, что и для отметки «5», но допускает 1–2 ошибки, которые сам же исправляет.
3	Студент демонстрирует знание и понимание основных положений данной темы, но: 1) излагает материал неполно и допускает неточности в определении понятий или формулировке правил; 2) не умеет достаточно глубоко и доказательно обосновать свои суждения и привести свои примеры; 3) излагает материал непоследовательно.

Задание №7 (5 минут)

Решите задачу:

Чтобы поступить в институт на специальность "Технология машиностроения", абитуриент должен набрать на ЕГЭ не менее 70 баллов по каждому из трех предметов— математика, русский язык и иностранный язык. Чтобы поступить на специальность "Техническое обслуживание и ремонт автомобильного транспорта", нужно набрать не менее 70 баллов по каждому из трех предметов — математика, русский язык и обществознание.

Вероятность того, что абитуриент З. получит не менее 70 баллов по математике, равна 0,6, по русскому языку — 0,8, по иностранному языку — 0,7 и по обществознанию — 0,5.

Найдите вероятность того, что З. сможет поступить хотя бы на одну из двух упомянутых специальностей.

Оценка	Показатели оценки
5	Правильно выбран способ решения, само решение сопровождается необходимыми объяснениями, верно выполнены нужные вычисления и преобразования, получен верный ответ, последовательно и аккуратно записано решение.
4	Работа выполнена полностью, но обоснования шагов решения недостаточны, допущены одна ошибка или есть два – три недочета в выкладках, рисунках, чертежах или графиках.
3	При решении допущено более одной ошибки или более двух – трех недочетов в выкладках, чертежах или графиках, но обучающийся обладает обязательными умениями по проверяемой теме.

Задание №8 (5 минут)

Решите задачу:

Мишень представляет собой три круга (один внутри другого), радиусы которых равны 3, 7 и 8 см. Стрелок выстрелил не целясь и попал в мишень. Найдите вероятность того, что он попал в средний круг, но не попал в маленький круг.

Оценка	Показатели оценки
5	Правильно выбран способ решения, само решение сопровождается необходимыми объяснениями, верно выполнены нужные вычисления и преобразования, получен верный ответ, последовательно и аккуратно записано решение.
4	Работа выполнена полностью, но обоснования шагов решения недостаточны, допущены одна ошибка или есть два – три недочета в выкладках, рисунках, чертежах или графиках.
3	При решении допущено более одной ошибки или более двух – трех недочетов в выкладках, чертежах или графиках, но обучающийся обладает обязательными умениями по проверяемой теме.

Задание №9 (5 минут)

Пример. Дискретная случайная величина X задается законом

X	0,2	0,4	0,6	0,8	1
P	0,1	0,2	0,4	p_4	0,1

Чему равна вероятность $p_4 = P(X = 0,8)$?
 Построить многоугольник распределения.

Оценка	Показатели оценки
5	Вычислена недостающая вероятность, построена прямоугольная система координат, обозначены точки с координатами, построен многоугольник распределения.

4	Вычислена недостающая вероятность, построена прямоугольная система координат, обозначены точки с координатами.
3	Вычислена недостающая вероятность.

Задание №10 (2 минуты)

Вычислить математическое ожидание случайной величины X , зная закон ее распределения:

X	3	5	2
P	0,10	0,60	0,3

Записать формулу для вычисления дисперсии, вычислить дисперсию (один из возможных вариантов задания).

Оценка	Показатели оценки
5	Задача решена правильно: ход решения задачи верен, формулы записаны, вычислены математическое ожидание и дисперсия.
4	При правильном ходе решения задачи допущена 1 негрубая ошибка или 1-2 недочета.
3	Ход решения правилен, но допущена 1 грубая ошибка и не более 2 недочетов.

Текущий контроль №8 (45 минут)

Форма контроля: Контрольная работа (Информационно-аналитический)

Описательная часть: Письменная контрольная работа по вариантам

Задание №1 (12 минут)

1. Решить иррациональное уравнение:

$$\sqrt{x+8} - x + 2 = 0$$

2. Решить показательное уравнение:

$$4^{3x} + 2 = 9 * 2^{3x}$$

3. Решить показательное неравенство:

$$32^{2x+3} < 0,25$$

Оценка	Показатели оценки
5	Выполнены верно 3 задания.
4	Выполнены верно 2 задания.

3	Выполнены 2 задания, но имеются недочеты (не более двух).
---	---

Задание №2 (10 минут)

Решите графически системы уравнений (используя программу Geogebra):

1.
$$\begin{cases} x - y = 1, \\ x + 3y = 9; \end{cases}$$

2.
$$\begin{cases} x + 2y = 4, \\ -2x + 5y = 10; \end{cases}$$

Оценка	Показатели оценки
5	Выполнены верно 2 задания.
4	Выполнены 2 задания, но допущены 1-2 недочета.
3	Выполнено верно 1 задание.

Задание №3 (5 минут)

Решите задачу:

1. В боковой стенке высокого цилиндрического бака у самого дна закреплен кран. После его открытия вода начинает вытекать из бака, при этом высота столба воды в нем, выраженная в метрах, меняется по закону $H(t) = 0,01t^2 - 0,4t + 4$, где t — время (в минутах), прошедшее с момента открытия крана. В течение какого времени вода будет вытекать из бака? Ответ приведите в минутах.

Оценка	Показатели оценки
5	Правильно выбран способ решения, само решение сопровождается необходимыми объяснениями, верно выполнены нужные вычисления и преобразования, получен верный ответ, последовательно и аккуратно записано решение.
4	Работа выполнена полностью, но обоснования шагов решения недостаточны, допущены одна ошибка или есть два – три недочета.
3	При решении допущено более одной ошибки или более двух – трех недочетов в выкладках, но обучающийся обладает обязательными умениями по проверяемой теме.

Задание №4 (12 минут)

1. Решить неравенство:

$$\frac{30x - 9}{x - 2} \geq 25(x + 2)$$

2. Решить систему уравнений:

$$\begin{cases} 3(x + 1) + 2(y - 2) = 20, \\ x + 2y = 4. \end{cases}$$

3. Решить систему уравнений:

$$\begin{cases} x - y = 6, \\ x^3 - y^3 = 126. \end{cases}$$

Оценка	Показатели оценки
5	Выполнены верно 3 задания.
4	Выполнены верно 2 задания.
3	Выполнены 2 задания, но имеются недочеты (не более двух).

Задание №5 (6 минут)

Используя подобие тел, отношение объемов подобных тел, решите задачу:

Высота конуса равна 5 см. На расстоянии 2 см от вершины его пересекает плоскость, параллельная основанию. Найдите объем исходного конуса, если объем меньшего конуса, отсекаемого от исходного, равен 24 см³.

Оценка	Показатели оценки
5	Правильно выбран способ решения, само решение сопровождается необходимыми объяснениями, верно выполнены нужные вычисления и преобразования, получен верный ответ, последовательно и аккуратно записано решение.
4	Работа выполнена полностью, но обоснования шагов решения недостаточны, допущены одна ошибка или есть два – три недочета.
3	При решении допущено более одной ошибки или более двух – трех недочетов в выкладках, но обучающийся обладает обязательными умениями по проверяемой теме.