

**Перечень теоретических и практических заданий к экзамену
по УОД.03 Математика
(1 курс, 2 семестр 2024-2025 уч. г.)**

Форма контроля: Индивидуальные задания (Опрос)

Описательная часть: По выбору выполнить 3 теоретических задания

Перечень заданий:

Задание №1

Напишите уравнение касательной к графику функции $f(x) = x^3 - 1$ в точке с абсциссой $x_0 = -1$

Оценка	Показатели оценки
5	Правильно выбран способ решения, само решение сопровождается необходимыми объяснениями, верно выполнены нужные вычисления и преобразования, получен верный ответ, последовательно и аккуратно записано решение;
4	Работа выполнена полностью, но обоснования шагов решения недостаточны, допущены одна ошибка или есть два – три недочета в выкладках, рисунках, чертежах или графиках;
3	При решении допущено более одной ошибки или более двух – трех недочетов в выкладках, чертежах или графиках, но обучающийся обладает обязательными умениями по проверяемой теме.

Задание №2

Объясните геометрический смысл производной: дайте определение углового коэффициента касательной к графику функции

через понятие производной.

Оценка	Показатели оценки
5	1) Студент полно излагает материал, дает правильное определение основных понятий; 2) демонстрирует понимание материала, может обосновать свои суждения, применить знания на практике, привести необходимые примеры не только из учебника, но и самостоятельно составленные.
4	Студент дает ответ, удовлетворяющий тем же требованиям, что и для отметки «5», но допускает 1–2 ошибки, которые сам же исправляет.
3	Студент демонстрирует знание и понимание основных положений данной темы, но: 1) излагает материал неполно и допускает неточности в определении понятий или формулировке правил; 2) не умеет достаточно глубоко и доказательно обосновать свои суждения и привести свои примеры; 3) излагает материал непоследовательно.

Задание №3

Объясните геометрический смысл производной: дайте определение углового коэффициента касательной к графику функции

через понятие производной.

Оценка	Показатели оценки
5	1) Студент полно излагает материал, дает правильное определение основных понятий; 2) демонстрирует понимание материала, может обосновать свои суждения, применить знания на практике, привести необходимые примеры не только из учебника, но и самостоятельно составленные.
4	Студент дает ответ, удовлетворяющий тем же требованиям, что и для отметки «5», но допускает 1–2 ошибки, которые сам же исправляет.
3	Студент демонстрирует знание и понимание основных положений данной темы, но: 1) излагает материал неполно и допускает неточности в определении понятий или формулировке правил; 2) не умеет достаточно глубоко и доказательно обосновать свои суждения и привести свои примеры; 3) излагает материал непоследовательно.

Задание №4

1) Тело движется прямолинейно со скоростью $v(t) = 6t^2 + t$, где t — время в секундах, v — скорость в метрах в секунду. Найти путь, пройденный телом за третью секунду.

Оценка	Показатели оценки
5	Правильно выбран способ решения, само решение сопровождается необходимыми объяснениями, верно выполнены нужные вычисления и преобразования, получен верный ответ, последовательно и аккуратно записано решение;
4	Работа выполнена полностью, но обоснования шагов решения недостаточны, допущены одна ошибка или есть два – три недочета в выкладках, рисунках, чертежах или графиках;
3	При решении допущено более одной ошибки или более двух – трех недочетов в выкладках, чертежах или графиках, но обучающийся обладает обязательными умениями по проверяемой теме.

Задание №5

Сформулируйте развернутый ответ на вопрос: «Основные тригонометрические функции (графики и их свойства)».

Оценка	Показатели оценки
5	1) студент полно излагает материал, дает правильное определение основных понятий; 2) демонстрирует понимание материала, может обосновать свои суждения, применить знания на практике, привести необходимые примеры не только из учебника, но и самостоятельно составленные.
4	студент дает ответ, удовлетворяющий тем же требованиям, что и для отметки «5», но допускает 1–2 ошибки, которые сам же исправляет.
3	студент демонстрирует знание и понимание основных положений данной темы, но: 1) излагает материал неполно и допускает неточности в определении понятий или формулировке правил; 2) не умеет достаточно глубоко и доказательно обосновать свои суждения и привести свои примеры; 3) излагает материал непоследовательно.

Задание №6

Сформулируйте развернутый ответ на вопрос: «Основные тригонометрические функции (графики и их свойства)».

Оценка	Показатели оценки
5	1) студент полно излагает материал, дает правильное определение основных понятий; 2) демонстрирует понимание материала, может обосновать свои суждения, применить знания на практике, привести необходимые примеры не только из учебника, но и самостоятельно составленные.
4	студент дает ответ, удовлетворяющий тем же требованиям, что и для отметки «5», но допускает 1–2 ошибки, которые сам же исправляет.
3	студент демонстрирует знание и понимание основных положений данной темы, но: 1) излагает материал неполно и допускает неточности в определении понятий или формулировке правил; 2) не умеет достаточно глубоко и доказательно обосновать свои суждения и привести свои примеры; 3) излагает материал непоследовательно.

Задание №7

Для функции определите:

1. Множество значений;
2. Область определения;
3. Четность/нечетность;
4. Период;
5. Промежутки возрастания/убывания.

$$y = -2,5 \sin\left(x - \frac{\pi}{6}\right) + 0,4$$

Оценка	Показатели оценки
5	Правильно выбран способ решения, само решение сопровождается необходимыми объяснениями, верно выполнены нужные вычисления и преобразования, получен верный ответ, последовательно и аккуратно записано решение.
4	Работа выполнена полностью, но обоснования шагов решения недостаточны, допущены одна ошибка или есть два – три недочета в выкладках, рисунках, чертежах или графиках.
3	Студент демонстрирует знание и понимание основных положений данной темы, но: 1) излагает материал неполно и допускает неточности в определении понятий или формулировке правил; 2) не умеет достаточно глубоко и доказательно обосновать свои суждения и привести свои примеры; 3) излагает материал непоследовательно.

Задание №8

Для функции определите:

1. Множество значений;
2. Область определения;
3. Четность/нечетность;
4. Период;
5. Промежутки возрастания/убывания.

$$y = -2,5 \sin\left(x - \frac{\pi}{6}\right) + 0,4$$

Оценка	Показатели оценки
5	Правильно выбран способ решения, само решение сопровождается необходимыми объяснениями, верно выполнены нужные вычисления и преобразования, получен верный ответ, последовательно и аккуратно записано решение.
4	Работа выполнена полностью, но обоснования шагов решения недостаточны, допущены одна ошибка или есть два – три недочета в выкладках, рисунках, чертежах или графиках.

3	Студент демонстрирует знание и понимание основных положений данной темы, но: 1) излагает материал неполно и допускает неточности в определении понятий или формулировке правил; 2) не умеет достаточно глубоко и доказательно обосновать свои суждения и привести свои примеры; 3) излагает материал непоследовательно.
---	---

Задание №9

Сформулируйте развернутый ответ на вопрос: «Применение производной к исследованию функций и построению графиков».

Оценка	Показатели оценки
5	1) Студент полно излагает материал, дает правильное определение основных понятий; 2) демонстрирует понимание материала, может обосновать свои суждения, применить знания на практике, привести необходимые примеры не только из учебника, но и самостоятельно составленные.
4	Студент дает ответ, удовлетворяющий тем же требованиям, что и для отметки «5», но допускает 1–2 ошибки, которые сам же исправляет.
3	Студент демонстрирует знание и понимание основных положений данной темы, но: 1) излагает материал неполно и допускает неточности в определении понятий или формулировке правил; 2) не умеет достаточно глубоко и доказательно обосновать свои суждения и привести свои примеры; 3) излагает материал непоследовательно.

Задание №10

Дать определение неопределенного интеграла, записать 1-3 формулы из таблицы интегралов

Оценка	Показатели оценки
5	Дано определение производной функции как предела разностного отношения, записаны 3 формулы производной элементарных функций
4	Дано определение производной функции как предела разностного отношения, записаны 1-2 формулы производной элементарных функций
3	Дано определение неопределенного интеграла

Задание №11

Дать определение неопределенного интеграла, записать 1-3 формулы из таблицы интегралов

Оценка	Показатели оценки

5	Дано определение производной функции как предела разностного отношения, записаны 3 формулы производной элементарных функций
4	Дано определение производной функции как предела разностного отношения, записаны 1-2 формулы производной элементарных функций
3	Дано определение неопределенного интеграла

Задание №12

Вычислите площадь фигуры, ограниченной линиями:

$$y = 2-x^2, y=0$$

Построить чертеж. Записать формулу для вычисления площади данной фигуры.

Оценка	Показатели оценки
5	Построен чертеж. Записана формула для вычисления площади фигуры. Найдены пределы интегрирования. Записано выражение для вычисления площади данной фигуры. Вычислена площадь фигуры.
4	Построен чертеж. Записана формула для вычисления площади фигуры. Найдены пределы интегрирования. Записано выражение для вычисления площади данной фигуры
3	Построен чертеж. Записана формула для вычисления площади фигуры. Найдены пределы интегрирования.

Задание №13

Вычислите площадь фигуры, ограниченной линиями:

$$y = 2-x^2, y=0$$

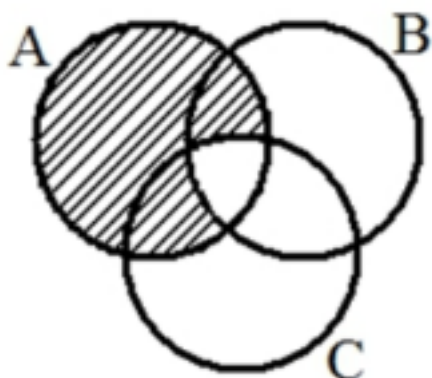
Построить чертеж. Записать формулу для вычисления площади данной фигуры.

Оценка	Показатели оценки
5	<p>Построен чертеж. Записана формула для вычисления площади фигуры.</p> <p>Найдены пределы интегрирования. Записано выражение для вычисления площади данной фигуры.</p> <p>Вычислена площадь фигуры.</p>
4	<p>Построен чертеж. Записана формула для вычисления площади фигуры.</p> <p>Найдены пределы интегрирования. Записано выражение для вычисления площади данной фигуры</p>
3	<p>Построен чертеж. Записана формула для вычисления площади фигуры.</p> <p>Найдены пределы интегрирования.</p>

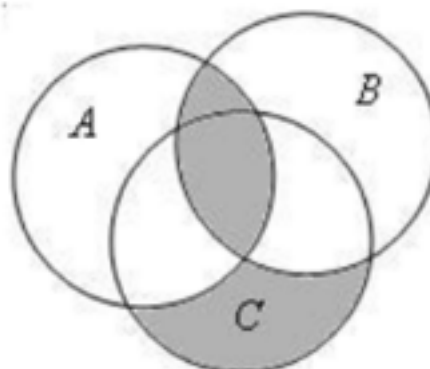
Задание №14

Выразите через базовые множества и операции над ними закрашенную область:

задача 1:



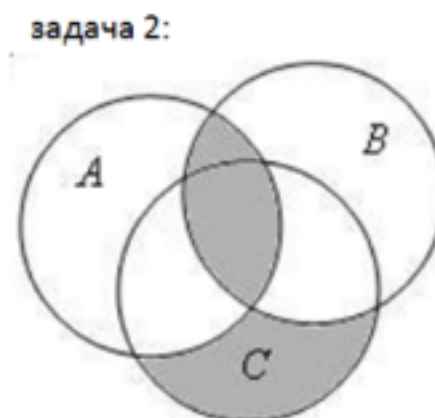
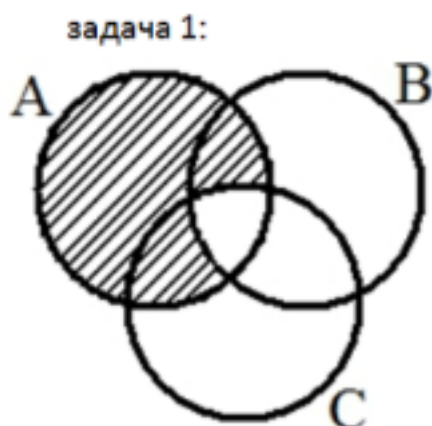
задача 2:



Оценка	Показатели оценки
5	Правильно выбран способ решения, само решение сопровождается необходимыми объяснениями, верно выполнены нужные вычисления и преобразования, получен верный ответ, последовательно и аккуратно записано решение.
4	Работа выполнена полностью, но обоснования шагов решения недостаточны, допущены одна ошибка или есть два – три недочета в выкладках, рисунках, чертежах или графиках.
3	При решении допущено более одной ошибки или более двух – трех недочетов в выкладках, чертежах или графиках, но обучающийся обладает обязательными умениями по проверяемой теме.

Задание №15

Выразите через базовые множества и операции над ними закрашенную область:



Оценка	Показатели оценки
5	Правильно выбран способ решения, само решение сопровождается необходимыми объяснениями, верно выполнены нужные вычисления и преобразования, получен верный ответ, последовательно и аккуратно записано решение.
4	Работа выполнена полностью, но обоснования шагов решения недостаточны, допущены одна ошибка или есть два – три недочета в выкладках, рисунках, чертежах или графиках.
3	При решении допущено более одной ошибки или более двух – трех недочетов в выкладках, чертежах или графиках, но обучающийся обладает обязательными умениями по проверяемой теме.

Задание №16

Сформулируйте развернутый ответ на вопрос: «Понятие множества. Подмножество. Операции с множествами. Описание реальных ситуаций с помощью множеств».

Оценка	Показатели оценки
5	1) студент полно излагает материал, дает правильное определение основных понятий; 2) демонстрирует понимание материала, может обосновать свои суждения, применить знания на практике, привести необходимые примеры не только из учебника, но и самостоятельно составленные.
4	студент дает ответ, удовлетворяющий тем же требованиям, что и для отметки «5», но допускает 1–2 ошибки, которые сам же исправляет.
3	студент демонстрирует знание и понимание основных положений данной темы, но: 1) излагает материал неполно и допускает неточности в определении понятий или формулировке правил; 2) не умеет достаточно глубоко и доказательно обосновать свои суждения и привести свои примеры; 3) излагает материал непоследовательно.

Задание №17

Пусть $A=[-5;0)$, $B=(-2;4)$ – интервальные промежутки целых чисел;

$C=\{x | x^2+3x-4=0\}$ – множество решений квадратного уравнения.

Запишите с помощью перечисления элементов множеств, следующие операции:

а) $A \cap B =$ б) $B \cap C =$ в) $A/C =$ г) $C \Delta A =$ д) $B \cap A \cup C =$

Оценка	Показатели оценки
5	Правильно выбран способ решения, само решение сопровождается необходимыми объяснениями, верно выполнены нужные вычисления и преобразования, получен верный ответ, последовательно и аккуратно записано решение;
4	Работа выполнена полностью, но обоснования шагов решения недостаточны, допущены одна ошибка или есть два – три недочета в выкладках, рисунках, чертежах или графиках;
3	При решении допущено более одной ошибки или более двух – трех недочетов в выкладках, чертежах или графиках, но обучающийся обладает обязательными умениями по проверяемой теме.

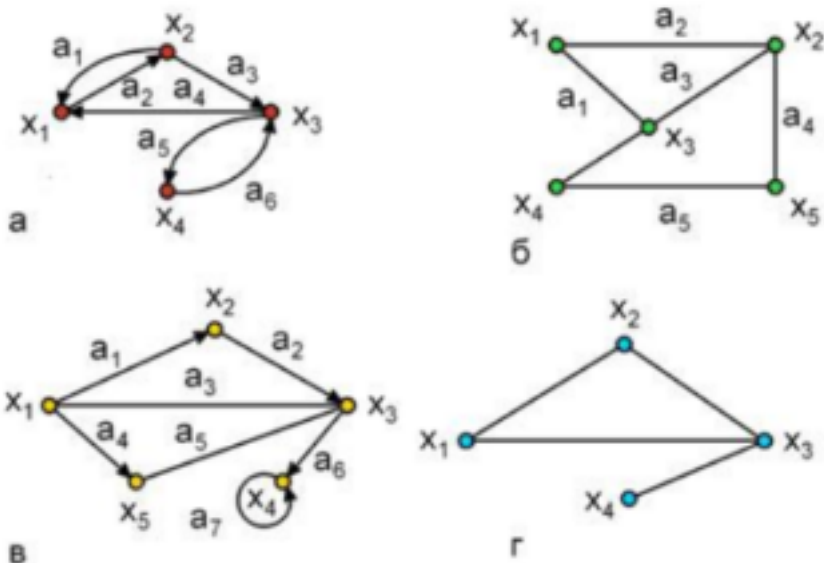
Задание №18

Сформулируйте развернутый ответ на вопрос: «Понятие графа. Связный граф, дерево, цикл граф на плоскости».

Оценка	Показатели оценки
5	1) студент полно излагает материал, дает правильное определение основных понятий; 2) демонстрирует понимание материала, может обосновать свои суждения, применить знания на практике, привести необходимые примеры не только из учебника, но и самостоятельно составленные.
4	студент дает ответ, удовлетворяющий тем же требованиям, что и для отметки «5», но допускает 1–2 ошибки, которые сам же исправляет.
3	студент демонстрирует знание и понимание основных положений данной темы, но: 1) излагает материал неполно и допускает неточности в определении понятий или формулировке правил; 2) не умеет достаточно глубоко и доказательно обосновать свои суждения и привести свои примеры; 3) излагает материал непоследовательно.

Задание №19

Подпишите типы и виды графов, укажите на примере одного графа вершину, начальную вершину, конечную вершину, дугу, ребро, петлю.

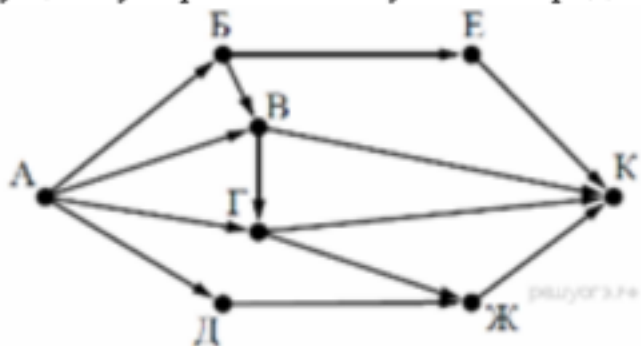


Оценка	Показатели оценки
5	Правильно выбран способ решения, само решение сопровождается необходимыми объяснениями, верно выполнены нужные вычисления и преобразования, получен верный ответ, последовательно и аккуратно записано решение;
4	Работа выполнена полностью, но обоснования шагов решения недостаточны, допущены одна ошибка или есть два – три недочета в выкладках, рисунках, чертежах или графиках;
3	При решении допущено более одной ошибки или более двух – трех недочетов в выкладках, чертежах или графиках, но обучающийся обладает обязательными умениями по проверяемой теме.

Задание №20

На рисунке — схема дорог, связывающих города А, Б, В, Г, Д, Е, Ж и К. По каждой дороге можно двигаться только в одном направлении, указанном стрелкой.

Сколько существует различных путей из города А в



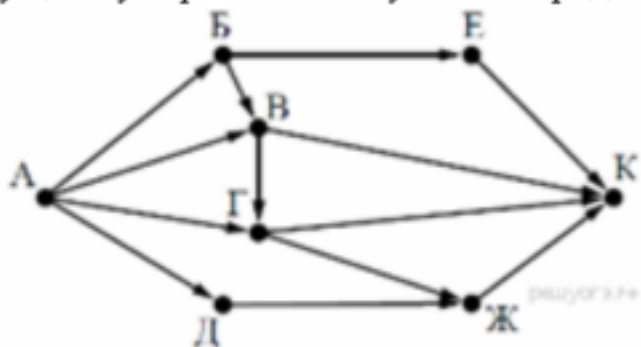
город К?

Оценка	Показатели оценки
5	Правильно выбран способ решения, само решение сопровождается необходимыми объяснениями, верно выполнены нужные вычисления и преобразования, получен верный ответ, последовательно и аккуратно записано решение.
4	Работа выполнена полностью, но обоснования шагов решения недостаточны, допущены одна ошибка или есть два – три недочета в выкладках, рисунках, чертежах или графиках.
3	При решении допущено более одной ошибки или более двух – трех недочетов в выкладках, чертежах или графиках, но обучающийся обладает обязательными умениями по проверяемой теме.

Задание №21

На рисунке — схема дорог, связывающих города А, Б, В, Г, Д, Е, Ж и К. По каждой дороге можно двигаться только в одном направлении, указанном стрелкой.

Сколько существует различных путей из города А в



город К?

Оценка	Показатели оценки
5	Правильно выбран способ решения, само решение сопровождается необходимыми объяснениями, верно выполнены нужные вычисления и преобразования, получен верный ответ, последовательно и аккуратно записано решение.
4	Работа выполнена полностью, но обоснования шагов решения недостаточны, допущены одна ошибка или есть два – три недочета в выкладках, рисунках, чертежах или графиках.
3	При решении допущено более одной ошибки или более двух – трех недочетов в выкладках, чертежах или графиках, но обучающийся обладает обязательными умениями по проверяемой теме.

Задание №22

Найдите производную функции:

а) $y = x^3 - 2x^2 + x + 2;$

г) $y = \frac{1}{\cos x};$

б) $y = \sqrt{x}(2 \sin x + 1);$

д) $y = \frac{3x^2 - 2}{x^3};$

в) $y = \frac{1}{x^2};$

е) $y = \operatorname{tg} x + \frac{1}{x}.$

Оценка	Показатели оценки
5	Верно выполнены 6 заданий.
4	Верно выполнены 5 заданий.
3	Верно выполнены 4 задания.

Задание №23

Сформулируйте развернутый ответ на вопрос: "Основные понятия и правила комбинаторики".

Оценка	Показатели оценки
5	1) студент полно излагает материал, дает правильное определение основных понятий; 2) демонстрирует понимание материала, может обосновать свои суждения, применить знания на практике, привести необходимые примеры не только из учебника, но и самостоятельно составленные.

4	студент дает ответ, удовлетворяющий тем же требованиям, что и для отметки «5», но допускает 1–2 ошибки, которые сам же исправляет.
3	студент демонстрирует знание и понимание основных положений данной темы, но: 1) излагает материал неполно и допускает неточности в определении понятий или формулировке правил; 2) не умеет достаточно глубоко и доказательно обосновать свои суждения и привести свои примеры; 3) излагает материал непоследовательно.

Задание №24

Сформулируйте развернутый ответ на вопрос: "Основные понятия и правила комбинаторики".

Оценка	Показатели оценки
5	1) Студент полно излагает материал, дает правильное определение основных понятий; 2) демонстрирует понимание материала, может обосновать свои суждения, применить знания на практике, привести необходимые примеры не только из учебника, но и самостоятельно составленные.
4	Студент дает ответ, удовлетворяющий тем же требованиям, что и для отметки «5», но допускает 1–2 ошибки, которые сам же исправляет.
3	Студент демонстрирует знание и понимание основных положений данной темы, но: 1) излагает материал неполно и допускает неточности в определении понятий или формулировке правил; 2) не умеет достаточно глубоко и доказательно обосновать свои суждения и привести свои примеры; 3) излагает материал непоследовательно.

Задание №25

На графиках изобразите схематично возрастающую и убывающую функции.

Покажите связь между возрастанием и убыванием функции и знаком производной

Оценка	Показатели оценки
5	1) студент полно излагает материал, дает правильное определение основных понятий; 2) демонстрирует понимание материала, может обосновать свои суждения, применить знания на практике, привести необходимые примеры не только из учебника, но и самостоятельно составленные.
4	Студент дает ответ, удовлетворяющий тем же требованиям, что и для отметки «5», но допускает 1–2 ошибки, которые сам же исправляет.
3	Студент демонстрирует знание и понимание основных положений данной темы, но: 1) излагает материал неполно и допускает неточности в определении понятий или формулировке правил; 2) не умеет достаточно глубоко и доказательно обосновать свои суждения и привести свои примеры; 3) излагает материал непоследовательно.

Задание №26

Найдите промежутки возрастания и убывания функции $f(x) = x^3 - 3x$

Оценка	Показатели оценки
5	Правильно выбран способ решения, само решение сопровождается необходимыми объяснениями, верно выполнены нужные вычисления и преобразования, получен верный ответ, последовательно и аккуратно записано решение;
4	Работа выполнена полностью, но обоснования шагов решения недостаточны, допущены одна ошибка или есть два – три недочета в выкладках, рисунках, чертежах или графиках;
3	При решении допущено более одной ошибки или более двух – трех недочетов в выкладках, чертежах или графиках, но обучающийся обладает обязательными умениями по проверяемой теме.

Задание №27

Сформулируйте развернутый ответ на вопрос: «Определение функции, ее области определения и множества значений; графика функции. Построение графиков функций, заданных различными способами».

Оценка	Показатели оценки
5	1) студент полно излагает материал, дает правильное определение основных понятий; 2) демонстрирует понимание материала, может обосновать свои суждения, применить знания на практике, привести необходимые примеры не только из учебника, но и самостоятельно составленные.
4	студент дает ответ, удовлетворяющий тем же требованиям, что и для отметки «5», но допускает 1–2 ошибки, которые сам же исправляет.
3	студент демонстрирует знание и понимание основных положений данной темы, но: 1) излагает материал неполно и допускает неточности в определении понятий или формулировке правил; 2) не умеет достаточно глубоко и доказательно обосновать свои суждения и привести свои примеры; 3) излагает материал непоследовательно.

Задание №28

Сформулируйте развернутый ответ на вопрос: «Свойства функций: монотонность, четность, нечетность, ограниченность, периодичность».

Оценка	Показатели оценки
5	1) студент полно излагает материал, дает правильное определение основных понятий; 2) демонстрирует понимание материала, может обосновать свои суждения, применить знания на практике, привести необходимые примеры не только из учебника, но и самостоятельно составленные.
4	студент дает ответ, удовлетворяющий тем же требованиям, что и для отметки «5», но допускает 1–2 ошибки, которые сам же исправляет.

3	студент демонстрирует знание и понимание основных положений данной темы, но: 1) излагает материал неполно и допускает неточности в определении понятий или формулировке правил; 2) не умеет достаточно глубоко и доказательно обосновать свои суждения и привести свои примеры; 3) излагает материал непоследовательно.
---	---

Задание №29

На графиках изобразите схематично возрастающую и убывающую функции.

Покажите связь между возрастанием и убыванием функции и знаком производной

Оценка	Показатели оценки
5	1) студент полно излагает материал, дает правильное определение основных понятий; 2) демонстрирует понимание материала, может обосновать свои суждения, применить знания на практике, привести необходимые примеры не только из учебника, но и самостоятельно составленные.
4	Студент дает ответ, удовлетворяющий тем же требованиям, что и для отметки «5», но допускает 1–2 ошибки, которые сам же исправляет.
3	Студент демонстрирует знание и понимание основных положений данной темы, но: 1) излагает материал неполно и допускает неточности в определении понятий или формулировке правил; 2) не умеет достаточно глубоко и доказательно обосновать свои суждения и привести свои примеры; 3) излагает материал непоследовательно.

Задание №30

Сформулируйте развернутый ответ на вопрос: «Определение функции, ее области определения и множества значений; графика функции. Построение графиков функций, заданных различными способами».

Оценка	Показатели оценки
5	1) студент полно излагает материал, дает правильное определение основных понятий; 2) демонстрирует понимание материала, может обосновать свои суждения, применить знания на практике, привести необходимые примеры не только из учебника, но и самостоятельно составленные.
4	студент дает ответ, удовлетворяющий тем же требованиям, что и для отметки «5», но допускает 1–2 ошибки, которые сам же исправляет.
3	студент демонстрирует знание и понимание основных положений данной темы, но: 1) излагает материал неполно и допускает неточности в определении понятий или формулировке правил; 2) не умеет достаточно глубоко и доказательно обосновать свои суждения и привести свои примеры; 3) излагает материал непоследовательно.

Задание №31

Сформулируйте развернутый ответ на вопрос: «Свойства функций: монотонность, четность, нечетность, ограниченность, периодичность».

Оценка	Показатели оценки
5	1) студент полно излагает материал, дает правильное определение основных понятий; 2) демонстрирует понимание материала, может обосновать свои суждения, применить знания на практике, привести необходимые примеры не только из учебника, но и самостоятельно составленные.
4	студент дает ответ, удовлетворяющий тем же требованиям, что и для отметки «5», но допускает 1–2 ошибки, которые сам же исправляет.
3	студент демонстрирует знание и понимание основных положений данной темы, но: 1) излагает материал неполно и допускает неточности в определении понятий или формулировке правил; 2) не умеет достаточно глубоко и доказательно обосновать свои суждения и привести свои примеры; 3) излагает материал непоследовательно.